



# A

## KAMU PERSONEL SEÇME SINAVI /2 (KPSS/2)

17 Eylül 2006

### GENEL YETENEK TESTİ - GENEL KÜLTÜR TESTİ (ORTAÖĞRETİM)

**DİKKAT!**

**SINAVA BAŞLAMADAN ÖNCE AŞAĞIDAKİ UYARILARI MUTLAKA OKUYUNUZ.**

1. Adınızı, soyadınızı, T.C. kimlik numaranızı ve sınav salon numaranızı aşağıya yazınız.

ADINIZ	:	.....
SOYADINIZ	:	.....
T.C. KİMLİK NUMARANIZ	:	.....
SINAV SALON NO.	:	.....

2. Soru kitapçığının türü **A** dır. Bunu cevap kâğıdınızdaki ilgili yere aşağıda gösterildiği şekilde aynen kodlayınız ve salon görevlisinin de ilgili yere kodladığınız bilgiyi onaylamasını sağlayınız.

SORU KİTAPÇIĞI TÜRÜ			
A ●	B ○	C ○	D ○
Paraf	Paraf	Paraf	Paraf

**Bu kodlamayı cevap kâğıdınıza yapmadığınız veya yanlış yaptığınız takdirde sınavınızın değerlendirilmesi mümkün değildir.**

3. Genel Yetenek Testi ve Genel Kültür Testi için verilen **toplam** cevaplama süresi **150 dakikadır (2,5 saat)**.
4. Genel Yetenek ve Genel Kültür Testlerinin her birinde 75 soru vardır.  
Bu testlerin başladıkları sayfalar şöyledir:
- |                            |           |
|----------------------------|-----------|
| <b>Genel Yetenek Testi</b> | <b>1</b>  |
| <b>Genel Kültür Testi</b>  | <b>19</b> |
5. Cevaplamaya istediğiniz testten ve sorudan başlayabilirsiniz. Her soru ile ilgili cevabınızı, cevap kâğıdında o soru için ayrılmış olan yere işaretlemeyi unutmayınız.
6. **Testler puanlanırken her testteki doğru cevaplarınızın sayısından yanlış cevaplarınızın sayısının dörtte biri düşülecek ve kalan sayı o testle ilgili ham puanınız olacaktır. Bu nedenle hakkında hiçbir fikrinizin olmadığı soruları boş bırakınız. Ancak, soruda verilen seçeneklerden birkaçını eleyebiliyorsanız kalanlar arasından doğru cevabı kestirmeye çalışmanız yararınıza olabilir.**
7. Sınavda uyulacak diğer kurallar bu kitapçığın arka kapağında verilmiştir.

*Bu testlerin her hakkı saklıdır. Hangi amaçla olursa olsun, testlerin tamamının veya bir kısmının Merkez'imizin yazılı izni olmadan kopya edilmesi, fotoğrafının çekilmesi, herhangi bir yolla çoğaltılması, yayımlanması ya da kullanılması yasaktır. Bu yasağa uymayanlar gerekli cezai sorumluluğu ve testlerin hazırlanmasındaki mali külfeti peşinen kabullenmiş sayılır.*

## GENEL YETENEK TESTİ

KPSS/2-GYGK-OÖ/2006

1. "Kadar" sözcüğü, aşağıdaki cümlelerin hangisinde "ölçüsünde, derecesinde" anlamında kullanılmıştır?

- A) İşlerini yetiştirmek için sabaha kadar uyumadı.
- B) Bu konuda ben onun kadar başarılı değilim.
- C) Orada beş ay kadar kalıp dönmüş.
- D) Beş bin lira kadar para biriktirebilmiş.
- E) Seni dinleyince oraları görmüş kadar oldum.

2. Nice büyük yazarların en önemli yapıtları başlangıçta geri çevrilmişti. Ama bu yapıtlar, zaferi kazanıp bugün aranan kaynak kitaplar arasına girmeyi başardılar. Bu yapıt da bugün için benzerleri arasında gerilere itilebilir; ama sağlam, özgün bir sanat ürünüyse sonunda hak ettiği değeri bulur.

**Bu parçada geçen "gerilere itilmek" sözüyle anlatılmak istenen aşağıdakilerden hangisidir?**

- A) ilgi görmemek
- B) aday gösterilmemek
- C) örnek alınmamak
- D) gerçeği yansıtmamak
- E) bilimsel olmamak

3. Gazeteci olarak, aldığınız haber sizi ne kadar üzse üzsün, günlük işlerinizi yapmaktan kaçamazsınız. Yine haberleri hazırlayacak, yine sayfaları düzenleyecek, acının üstüne çıkarak işinizi yapacaksınız, yapmak zorundasınız.

**Bu parçada geçen "acının üstüne çıkmak" sözüyle anlatılmak istenen aşağıdakilerden hangisidir?**

- A) Acısını unutturacak işlerle uğraşmak
- B) İşini severek yaptığını göstermek
- C) Üzüntüsünü yenerek görevini sürdürmek
- D) Özel yaşamından söz etmemek
- E) Olayların iyi yönlerini görmeye çalışmak

4. Aşağıdaki altı çizili sözlere hangisi anlamca ötekilerden farklıdır?

- A) Yapılan bir araştırmaya göre eğitime ayrılan paranın yaklaşık dört katı, kazanç olarak ekonomiyeye geri dönmektedir.
- B) Araştırmalar göstermiştir ki eğitim süresini bir yıl artırmak, maliyetinin hemen hemen üç katı bir kazanç sağlamaktadır.
- C) Eğitim düzeyi yükseldikçe, çalışan bireyin verimliliği neredeyse yüzde on artmaktadır.
- D) Az gelişmiş ülkelerin çoğunda ulusal gelirin aşağı yukarı yüzde beşi eğitime ayrılmaktadır.
- E) Aynı işi yapan, aynı yaş ve iş deneyimine sahip iki kişiden yabancı dil bilen, öbüründen daha verimli olur.

5. Halıcı kızların kök boyalarla boyadığı ipler, kuruması için bahçeye asılmış.

**Bu cümledeki altı çizili sözün yerine aşağıdakilerden hangisi getirilirse cümlenin anlamında değişme olmaz?**

- A) kuruyuncaya kadar
- B) kurutulurken
- C) kurumadan önce
- D) kurutmak amacıyla
- E) kurutularak

*Diğer sayfaya geçiniz.*

6. Bugün köylerdeki nüfus büyük oranda kentlere göç-  
I  
müştür. Bu yüzden ne yazık ki köyler boşalmış, kent-  
lerdeki varoşlar alabildiğine büyümüştür. Varoşlarda  
II  
yaşayan milyonlarca genç, eğitim olanaklarından  
veterince yararlanamamaktadır. Bu da eğitimdeki  
III  
fırsat eşitliğini oldukça zedelemiştir. İlgililer, bu  
IV  
olumsuz duruma bir an önce çözüm bulunması  
V  
gerektiğini söylüyor.

**Bu parçadaki numaralanmış sözlerin hangisinde "sınırsız, uçsuz bucaksız bir biçimde" anlamı vardır?**

- A) I. B) II. C) III. D) IV. E) V.

7. Bir iş yerindeki personelin yönetime katılması ----.

**Bu cümle aşağıdakilerden hangisiyle tamamlanır-  
sa olasılık anlamı taşır?**

- A) üretkenliği ve morali yükseltir  
B) bireyde öz güven duygusu oluşturur  
C) işten doyum sağlamaya ortam hazırlar  
D) ast-üst ilişkilerini iyileştirebilir  
E) alınan kararlara uymayı kolaylaştırır

8. **Aşağıdaki cümlelerin hangisinde, denemeyle ilgili hem olumlu hem de olumsuz özelliklerden söz edilmiştir?**

- A) Deneme sözü, çoğu kez bir düşünce zenginliğini, bazen de düşünce savrukluğunu içerir.  
B) Söyleşi tadındaki denemeye disiplin kazandırmak ayrı bir ustalık ister.  
C) Denemeci kendini anlatırken zaman zaman okuru edebiyatın arka sokaklarına da götürür.  
D) Deneme türünün değişerek, çeşitlenerek günden güne yaygınlık kazandığını söyleyenler var.  
E) Düşüncelere açıklık getiren deneme, okurun bakış açısını zenginleştirir.

9. (I) Uzakta deniz fenerleri görüldü: Biri kırmızı, öbürü yeşil yanan, iki deniz feneri. (II) Geceleyin kıyıya yanaşan teknelere yol gösteriyorlardı kırmızı, yeşil ışıklarıyla. (III) Tekne kaptanları düşünülmemiş, bilincine varılmamış bir saygı duyuyorlardı belki de bu deniz fenerlerine. (IV) "Buradan... Buradan..." diye çağırın ve ışıkları durmadan yanıp sönen fenerlerin yardımıyla suları yararak ilerliyordu hepsi. (V) Fenerlere, görevlerini yerine getirdiklerini hissettirmeye çalışırca-sına...

**Bu parçadaki numaralanmış cümlelerin hangisinin de tahmin söz konusudur?**

- A) I. B) II. C) III. D) IV. E) V.

10. (I) Bilgisayarlar her ne kadar muhteşem birer teknoloji harikası olsalar da onlara gereğinden fazla güvenmemek gerekir. (II) Beklenmedik bir anda ortaya çıkan bir arıza, çok emek verdiğiniz bilgilerinizin yok olmasına yol açabilir. (III) Düşünsenize, bir iş adamının müşterilerinin hesap kayıtlarının ya da bir öğrencinin üniversite bitirme tezinin yok olduğunu. (IV) Bir anda onca emek boşa gider. (V) İşte bu riski ortadan kaldırmanın tek ve kesin çözümü tüm bilgileri kopyalayıp yedektlemektir.

**Bu parçadaki numaralanmış cümlelerin hangisinde neden-sonuç ilişkisi vardır?**

- A) I. B) II. C) III. D) IV. E) V.

11. (I) Aşırı şeker tüketme yanlış bir beslenme biçimidir; vücutta çok fazla insülin salgılanmasına yol açar. (II) Bu da yağ hücrelerinde yağ depolanmasına neden olur. (III) Vücutta kan şekerinin her yükselişinde aynı işlemler tekrarlanır. (IV) Böylece obeziteye yani aşırı şişmanlık ortaya çıkar. (V) Obeziteyi engellemek için rafine şekerin kullanılmadığı bir beslenme biçimini seçmek gerekir.

**Bu parçadaki numaralanmış cümlelerle ilgili olarak aşağıda verilenlerden hangisi yanlıştır?**

- A) I. cümlede, bir açıklama yapılmaktadır.  
B) II. cümlede, I.cümlede belirtilen durumun sonucu bildirilmektedir.  
C) III. cümlede, değişmeyen koşullarda aynı durumun yineleneyeceği belirtilmektedir.  
D) IV. cümlede, bir terimle ilgili yanlış bilgi düzeltilmektedir.  
E) V. cümlede, bir önlemden söz edilmektedir.

12. **Aşağıdaki cümlelerden hangisi anlamca olumsuzdur?**

- A) Elle yazdığı romanı sonra bilgisayara mı aktarmış?  
B) Bu önemli bilgileri bu kadar kısa sürede kimden öğrendin?  
C) Otogara, bilet almak için mi gitmiş?  
D) Her sabah erkenden kalkıp bir saat yürüyüş mü yapıyor?  
E) Söyledikleri doğru da olsa ona artık kim inanır?

13. **Aşağıdaki cümlelerin hangisindeki altı çizili söz cümleye zaman anlamı katmamaktadır?**

- A) Buraya taşınalı iki yılı geçti.  
B) Kurtuluş Savaşı başladığı sırada o, küçük bir çocukmuş.  
C) Gülmekten kasıklarım ağrıları girdi.  
D) Onu tanıdıkça seveceğini biliyordum.  
E) Bu atölyeyi açarken bana kimse yardım etmedi.

14. Aşağıdaki cümlelerin hangisinde işi yapan belli değildir?

- A) Toplantıda, uyulması gereken kurallar belirlendi.
- B) Her zaman bu mağazadan alışveriş yapıyorum.
- C) Anlattıklarıyla herkesi şaşırttı.
- D) Misafir geleceği için hazırlık yaptık.
- E) Ödevlerini akşama kadar bitirdiler.

15. Aşağıdaki cümlelerin hangisinde eylemin gerçekleştirilme şekli belirtilmemiştir?

- A) Çocuklar, korku içinde birbirlerine sarıldılar.
- B) O, nerede nasıl davranacağını bilir.
- C) Buraya koşarak geldim.
- D) Sorunlarınızı, ilgililerle konuşarak çözmelisiniz.
- E) Pastayı küçük küçük parçalara ayırıp servis yaptık.

16. Geçmişte Arapça ve Farsça sözcükleri (I) dilimize doldurduğumuzu; anlaşılması zor, yapay (II) bir dil oluşturduğumuzu hepimiz biliyoruz. Bugünse Batı dillerinden gelen sözcüklerin akınına tanık oluyoruz. Bunların karşısında ilgisiz kalmamız (III) doğru mu? Oysa biz, dilimizin köklerini, eklerini işleterek yeni gereksinimleri pek güzel karşılayabiliriz. Bu gerçeği göz önünde bulundurup Türkçenin kurallarına başvurarak yabancı kaynaklı terimlere (IV) kavramlara (V) Türkçe karşılıklar bulmalıyız.

**Bu parçadaki numaralanmış yerlerin hangisine bir noktalama işareti konulmalıdır?**

- A) I.      B) II.      C) III.      D) IV.      E) V.

17. 1851'de yani 17. yy.da yapılan bu yalı Emirgân'ın en

eski yapılarından biri. İç duvarlarında ve tavanlarında

muhteşem bezemeleri olan yalı, Kültür Bakanlığı

tarafından restore ediliyor. Yalının hemen yanında

Emirgân Camisi ve eski bir Çeşme yer alıyor.

**Bu parçadaki numaralanmış sözlerden hangisinin yazımı yanlıştır?**

- A) I.      B) II.      C) III.      D) IV.      E) V.

18. Aşağıdaki cümlelerin hangisinde eş anlamlı sözcüklerin bir arada kullanılmasından kaynaklanan bir anlatım bozukluğu vardır?

- A) Güvenlik güçleri, her olayda gerekli önlem ve tedbirleri alıyor.
- B) Çocuklarda kimi davranışların ve değer yargılarının yerleşmesi için çaba harcanmalıdır.
- C) Her yazar özveriyle çalışarak kendini geliştirme çabası içinde olmalıdır.
- D) Çağdaş uygarlık, insan aklının ve bilimin ürünüdür.
- E) Çalışanların deneyimlerinden ve bilgi birikimlerinden yararlanmak gerekir.

19. Çocuğunuza sürekli olarak oyuncak almak yerine, oynayın.

**Bu cümledeki anlatım bozukluğu aşağıdaki değişikliklerin hangisiyle giderilebilir?**

- A) "çocuğunuza" yerine "çocuğunuz için" sözü getirilerek
- B) "olarak" sözcüğü atılarak
- C) "yerine"den sonra "onunla" sözcüğü getirilerek
- D) "almak" yerine "satın almak" sözü getirilerek
- E) "oynayın" yerine "oyun oynayın" sözü getirilerek

20. O, iki buçuk yıllık süren bir çalışmaydı.

**Bu cümledeki anlatım bozukluğu aşağıdaki değişikliklerin hangisiyle giderilebilir?**

- A) "o" sözcüğü cümlenin sonuna alınarak
- B) "yıllık" yerine "yıl" sözcüğü getirilerek
- C) "süren" yerine "süregelen" sözcüğü getirilerek
- D) "bir"den önce "uzun" sözcüğü getirilerek
- E) "çalışmaydı" yerine "çalışma oldu" sözü getirilerek

21. Aşağıdaki cümlelerin hangisinde bir anlatım bozukluğu vardır?

- A) Orada, kendine uygun bir iş aramaya başlamıştı.
- B) Mesleğiyle ilgili bir alanda çalışmak istiyordu.
- C) Oradaki müzelerde çok önemli yapıtlar bulunduğunu duymuştu.
- D) Bu koşullarda görev yapmanın zor olacağını biliyordu.
- E) Onun bu davranışları arkadaşlarının hayretine gidiyordu.

22. Bu arkadaşımız hem çok güzel piyano çalar hem de  
I II III  
aynı zamanda küçüklüğünden beri resim yapar.  
IV V

**Bu cümledeki anlatım bozukluğunu gidermek için numaralanmış sözlerden hangisi çıkarılmalıdır?**

- A) I. B) II. C) III. D) IV. E) V.

23. Aşağıdaki cümlelerin hangisindeki altı çizili sözcük atılırsa anlatımda daralma olur?

- A) Sanatçı, mimikleriyle hepimizi güldürmeyi başarmıştı.  
B) Annem bugün belki sana uğrayabilir.  
C) Çocuk elindeki oyuncuğu üçüncü kattan aşağıya attı.  
D) Gelecek hafta kardeşimle beraber tatile gideceğiz.  
E) Evden dışarı çıktı, parka doğru yürüdü.

24. (I) Çocuk resimleri sergisini gezerken bir yandan da sergiyi görmeye gelenleri inceliyordum. (II) Gelenlerden kimileri, çocukların sevimli dünyalarının ürünlerine bakmaktan büyük bir haz duyuyorlardı. (III) Çocukların resim anlayışları, büyüklerin beklentilerine uymayabilir. (IV) Bir kısım izleyicilerse çocukların resimlerini sanat yapıtıymişçasına inceliyorlardı. (V) Onlarda kompozisyon, renk, uyum ilişkisi bulmaya çalışıyorlardı.

**Bu parçadaki numaralanmış cümlelerden hangisi düşüncenin akışını bozmaktadır?**

- A) I. B) II. C) III. D) IV. E) V.

25. (I) İstanbul'un dünü, bugünü hakkında Türkler ve yabancılar yüzlerce kitap yazdı. (II) Kimisi İstanbul'un geçmişine ışık tuttu, kimisi yaşamı ve gelenekleri üzerinde yoğunlaştı. (III) Kimileri geçmişte orada yaşanmış siyasi olaylara dikkat çekti. (IV) Kimileri de onun sanat dünyasındaki yerine. (V) Son yıllarda yine İstanbul'un çeşitli yörelerini ayrıntılarıyla anlatan kitaplar ortaya çıktı. (VI) Bunların en ilginçleri İstanbul'un geleceğiyle ilgili olanlar.

**Bu parça iki paragrafa ayrılmak istense, ikinci paragraf kaçınıcı cümleyle başlar?**

- A) II. B) III. C) IV. D) V. E) VI.



26. Zonguldak'a otobüsle gittikten sonra, Bartın yolundan Amasra'ya doğru bisikletimle yol alıyorum. Roma Valisi Agulla'nın yaptırdığı, kayalara oyulmuş bir insan kabartması ve bir sütun üzerindeki kırılmış kartal figürü olan Kuşkayası Anıtı'na ulaşıyorum. Artık yolun keyifli kısmı başlıyor. Yemyeşil ormanlar, masmavi deniz, kıyılara kurulmuş köyler, kasabalar... Amasra'da iki köpeğin saldırısına uğruyorum. Sonuç: Bisikletten uçuş, dizde büyük bir yara ve bilek ağrısı... Öğle yemeğim, Cambu Koyu'ndaki bir lokantada balık...

**Bu parçanın anlatımında aşağıdakilerden hangisi yoktur?**

- A) Özel adlar kullanma
- B) Karşılaştırma yapma
- C) Betimlemeye başvurma
- D) Olayları oluş sırasına göre verme
- E) Kişisel görüşe yer verme

27. Okumaya önem vermenin bir eğitim sorunu olduğunu öncelikle kabul etmeliyiz. Ben kendi deneyimimi anlatayım: Bir memur ailesinin çocuğuyum. 1945-1950 yılları arasına rastlar çocukluğum. Babam orman mühendisiydi; annem çalışmıyordu. Aile bütçesinden temel ihtiyaçlarımızın yanı sıra kitap ve dergi için de para ayrılırdı. Bu da bende: "-----" düşüncesini uyardırdı.

**Bu parçada boş bırakılan yere düşüncenin akışına göre aşağıdakilerden hangisi getirilmelidir?**

- A) Geçerli bir meslek edinmeliyim.
- B) Parasal bakımdan güçlü olmak gerekir.
- C) İleride iyi bir eğitimci olmalıyım.
- D) Okumuş insanlarla birlikte olmak yararlıdır.
- E) Kitap, ekmek kadar gerekli bir şeydir.

28. Eğer kendinize çevreci diyorsanız, nükleer enerjiye hemen "kötü" damgasını yapıştırmaya adaysınız demektir. Oysa, "Ateş iyi mi, kötü mü?" diye sorulsa ne dersiniz? Ateş, her yıl binlerce dönüm ormanımızı yakıyor. Kazayla evlerimiz, teknelerimiz yanıyor. Buna rağmen ateşe kötü diyebilir miyiz? Diyemeyiz; çünkü uygarlığın başlangıcı ateştir. Tıpkı ateşin gelip ormanlarımızı yakması gibi, nükleer enerji de zararlı olabilir. Yapmamız gereken şey, onu kontrol altında tutmaktır.

**Bu parçada nükleer enerjiyle ilgili olarak anlatılmak istenen aşağıdakilerden hangisidir?**

- A) Zararlarından nasıl korunulacağı konusunda çeşitli çalışmalar yapılmaktadır.
- B) Günümüzde oldukça önemli bir yere sahiptir.
- C) Üretilirken ve kullanılırken dikkatli davranıldığı sürece, herhangi bir tehlike yaratmaz.
- D) Hangi alanda kullanılırsa zararsız olacağı henüz saptanmamıştır.
- E) Çevreye ve canlılara vereceği zararlar uzun yıllar sürecektir.

29. Yazarken neredeyse hiçbir şey yiyip içmeden, günde on sekiz saat kesintisiz çalışırdı. Soluk almadan süren çalışmalardan sonra acıktığını hissedirdi. Sonra üstüne bir yemek kitabı yazılabilecek kadar zengin bir sofrayla yaşama dönerdi. Aslında o, yazıları aracılığıyla kendi dünyasıyla dışarıdaki yaşamı bütünleştirmeye çalışırdı. Çok az tanıdığı dış dünyayı hayalleriyle zenginleştirirdi.

**Bu parçada sözü edilen kişiyle ilgili olarak anlatılmak istenen aşağıdakilerden hangisidir?**

- A) Yazılarında düşle gerçeğin bir arada olduğu
- B) Yazılarındaki kişileri, gerçek yaşamdan seçtiği
- C) Yazarken, çevresinde olup bitenleri önemsemeye çalıştığı
- D) Ortaya koyduğu karakterlerin herkesçe örnek alındığı
- E) Sadece belli konularda yazmayı sevdiği



30. Dünyada birçok yer gördüm; ama gördüklerim arasında en çok İstanbul'u sevdim. Dönüp dolaşip sonunda yine ona geliyorum. Bu görkemli kenti yeterince anlatmadığımı düşünüyorum ve bunun nedenini bulmaya çalışıyorum. Sanırım bu, insanın yakınındaki güzellikleri kanıksayıp onlara gereken ilgiyi göstermemesinden kaynaklanıyor. Bu nedenle kalkıp dünyanın en uzak köşelerindeki kentlere gidiyor, oraları tanıtıyor; ama İstanbul'u hep erteliyorum. Oysa bu kentin tanıtılacak o kadar çok yönü var ki... Bundan sonra onları yazmak istiyorum.

**Bu parçada anlatılmak istenen aşağıdakilerden hangisidir?**

- A) Değişik yerlerin, farklı kültürlerin, insanların hep ilgisini çektiği
- B) Görülme yerlerle ilgili yazıların okurları daha çok etkilediği
- C) Yaşanılan yerle ilgili sıradan birçok yazı yazıldığı
- D) İnsanların, çevrelerindeki güzellikleri geç fark ettiği
- E) Görme ve öğrenme isteğiyle insanların çok farklı coğrafyalara gittiği

31. Söz vermişim kendi kendime. Yazı bile yazmayacaktım. Yazı yazmak bir hırsın başka neydi? Bu yaşta sonra hırsın, hiddetin bir anlamı yoktu. Yapamadım, koştum bakkala, kalem, kâğıt aldım. Oturdum. Adanın tenha yollarında gezerken canım sıkıldığında küçük değnekler yontmak için cebimde taşıdığım çakımı çıkardım, kalemi yonttum. Yontuktan sonra da tuttum öptüm. Yazmasam deli olacaktım.

**Bu parçada anlatılmak istenen aşağıdakilerden hangisidir?**

- A) Yazmanın, kişiyi öteki insanlardan uzaklaştırdığı
- B) Her yazarın, kendine özgü bir yazma ortamının olduğu
- C) Yazmaya alışmış kişiler için yazmanın bir tutku olduğu
- D) Yazarların, yazmak için her an hazırlıklı olması gerektiği
- E) Yazarların, duygularını açıkça yazmakta zorlandığı

32. Hepimiz dağıldık farklı farklı şehirlere. O eski arkadaşlarımız yanımızda yok artık. Beraber başlayıp beraber bitirdiğimiz okul günlerini unuttuk. Başka arkadaşlıklar kurduk hiç düşünmeden geçmiş, birlikte oynadığımız oyunları, yaptığımız sohbetleri. Bir başkası olup çıkmak için yandık tutuştuk sanki.

**Bu parçada yazar aşağıdakilerin hangisinden yakınmaktadır?**

- A) Yeni bir yere alışmanın zorluklarından
- B) Kurulan dostluklara gereken değeri vermemekten
- C) Yaşamdan tat almasını bilememekten
- D) Olaylardan yeterince ders almamaktan
- E) Yaşamını başkalarının isteklerine göre biçimlendirmekten

33. Öykü, yazarın her durumunu, ne demek, ne yapmak istediğini okura yansıtan en etkili türdür bence. Bu nedenle okur da kendini öykünün içinde bulur. Yani kendi öyküsünü... Okurla duygu, düşünce birlikteliği kurulabilecek narin bir köprüdür öykü.

**Bu parçaya göre öyküyle ilgili olarak aşağıdakilerden hangisi söylenebilir?**

- A) Yazara kolaylık sağladığı
- B) Okura yeni bakış açısı kazandırdığı
- C) Okurun duygu dünyasını zenginleştirdiği
- D) Gerçeklerin tüm ayrıntılarıyla yansıtılabildiği
- E) Okurla özdeşleşmeye uygun bir tür olduğu

34. Çocuk aklının şaşkırtıcılığı basitliğinde yatar. Hayalle dolan ve yabancılaşan yetişkin beyni, basit olan çocuk aklı karşısında şaşkınlığa düşer. Çocuğun doğayla ve dille olan bu dolaysız bağı, henüz yabancılaşmamış beyni, onu yetişkinlerden daha gerçekçi kılar. Çoğu zaman, söylediği sözlerin, kurduğu bağlantıların bizi şaşkırtması bu nedendir.

**Bu parçadan aşağıdakilerin hangisi çıkarılabilir?**

- A) Çocuklar, yaşadıkları olaylardan büyüklerden daha çok etkilenir.
- B) Çocukların düş gücü büyüklerinkinden daha çok gelişmiştir.
- C) Çocuklar, gördükleri her şeye büyük bir merakla yaklaşırlar.
- D) Büyüklerin göremediği basit gerçekleri çocuklar dile getirebilir.
- E) Çocuklar düşünce dünyalarının sınırlarını büyüklerin isteklerine göre çizerler.

35. Onun şiirlerini, çok sınırlayıcı bir tanımla köy şiiri olarak anarlar. Tanımlama böyle olunca, ister istemez, antolojilere giren şiirleri de bu görüşü destekleyici ürünlerden oluşuyor. Oysa ben, onun köyden çok, kentin, çağdaş insanın şairi olduğunu düşünüyorum. Neye dayanarak mı? Kuşkusuz ki şiirlerine... Gerçekten de onun şiirleri, köy ya da kent özelliğinden çok, dünyayı alabildiğine doğal bir biçimde, şiirsel olarak algılayan bir ustanın şiirleridir.

**Bu parçadan aşağıdakilerin hangisi çıkarılamaz?**

- A) Bir şairin kimi şiirlerine bakılarak onunla ilgili bir genelleme yapılmasının yanlışlığı
- B) Şiir antolojileri oluşturmanın bilgi birikimi gerektiren, zor bir uğraş olduğu
- C) Şairler için çeşitli bakış açılarına göre tanımlamalar yapılabileceği
- D) Bir şairle ilgili görüşlerin onun şiirlerine bakılarak oluşturulabileceği
- E) Antolojideki şiirlerin, şiirleri derleyen görüşü doğrultusunda seçilerek bir araya getirildiği

36. Kitle iletişim araçları sayesinde, tüm dünyayı saran, büyük bir teknoloji ağı oluştu. Ülkeler arasındaki bilgi alışverişi kolaylaştı, ilişkiler arttı. Herkes, dilini bilmediği insanlarla bile anlaşır oldu. Turizmde patlamalar yaşandı. Yabancı dil öğrenmek, kültürel ve ticari iletişimi sağlayabilmek açısından zorunlu hale geldi. İngilizce, neredeyse dünyanın ortak iletişim dili oldu.

**Bu parçaya göre, kitle iletişim araçlarının yaygınlaşmasıyla ilgili olarak aşağıdaki çıkarımlardan hangisi yapılamaz?**

- A) Nitelikli iletişim araçlarına gereksinim duyulmaktadır.
- B) Dil bilmenin, önemi anlaşılmıştır.
- C) Turistik geziler artmıştır.
- D) Farklı kültürlere sahip insanlar, daha çok bir araya gelmeye başlamıştır.
- E) İngilizce, uluslararası bir dil olarak görülmektedir.

37. Lise yıllarımda eve biraz geç gelsem annem ve babam beni merak ederdi. Liseyi bitirip başka bir kentteki üniversiteye gittiğimde, onların artık beni eskisi kadar merak etmeyeceğini düşünmüştüm. Oysa hiç de düşündüğüm gibi olmadı, eskisinden daha fazla merak ediyorlardı beni. Yalnızca annem babam değil, arkadaşlarım da merak edip arıyordu. Aradan yıllar geçip eğitimimizi tamamlayıp çalışma yaşamına atıldığımızda, başımızı işlerimizden kaldıramaz olduk. Evlenip çoluk çocuğa karıştık, ev işlerine gömüldük. Artık birbirimizle görüşemiyorduk, kimse birbirini arayıp sormuyordu. Bu durum da beni oldukça üzüyordu. "Ne meraksız insanlar bunlar!" diyordum. Ağzımdan "meraksız" sözcüğü çıkınca merak edilmek istemediğim eski günlerim canlandı anılarımda, ----.

**Bu parçanın sonuna düşüncenin akışına göre aşağıdakilerden hangisi getirilemez?**

- A) merak edilmek ne güzel bir duyguymuş meğer
- B) kişinin, kendisini merak edecek yakınlarının, dostlarının olması ne kadar da önemliymiş
- C) tüm sevdiklerimi, eski dostlarımı ben merak ediyorum şimdi
- D) o zaman o günlerin değerini hiç bilememişim
- E) hepimizin yapmak istediği birçok şey, ulaşmak istediği birçok hedef vardı

Diğer sayfaya geçiniz.

38.

$$0,2 - (0,12 \cdot 0,1)$$

işleminin sonucu kaçtır?

- A) 0,188      B) 0,18      C) 0,08  
D) 0,018      E) 0,008

39.

$$\left(\frac{2}{5} \cdot 21\right) : \left(1 + \frac{2}{5}\right)$$

işleminin sonucu kaçtır?

- A) 2      B) 3      C) 4      D) 5      E) 6

40.

$$\frac{\frac{3}{5} - \frac{1}{3}}{\frac{3}{5} + \frac{1}{3}}$$

işleminin sonucu kaçtır?

- A)  $\frac{1}{7}$       B)  $\frac{2}{7}$       C)  $\frac{3}{7}$   
D)  $\frac{5}{7}$       E)  $\frac{6}{7}$

41.

$$\sqrt{(104)^2 - (40)^2}$$

işleminin sonucu kaçtır?

- A) 64      B) 72      C) 84      D) 96      E) 144

42.

$$\sqrt[4]{4} \cdot \sqrt[8]{8} \cdot \sqrt[8]{16}$$

işleminin sonucu kaçtır?

- A)  $\sqrt{2}$       B)  $2\sqrt{2}$       C)  $4\sqrt{2}$       D) 2      E) 4

Diğer sayfaya geçiniz.

43. Aşağıdakilerin en küçüğü hangisidir?

- A)  $\frac{2}{0,1}$       B)  $\frac{2}{0,2}$       C)  $\frac{0,1}{0,3}$   
D)  $\frac{0,2}{0,3}$       E)  $\frac{0,2}{2}$

44. Ardışık iki tamsayının toplamı 15 olduğuna göre, çarpımı kaçtır?

- A) 30      B) 42      C) 56      D) 60      E) 72

45.  $\frac{2}{7}$  si 120 olan sayının  $\frac{3}{5}$  i kaçtır?

- A) 255      B) 252      C) 175      D) 170      E) 165

46. Bir sayının 14 katından, aynı sayının 1 eksiğinin 8 katı çıkarılırsa sonuç 20 oluyor.

**Bu sayı kaçtır?**

- A) 1      B) 2      C) 3      D) 4      E) 5

47. Birbirlerinden farklı üç tane iki basamaklı sayının toplamı 260 tır.

**Bu sayıların en küçüğü en çok kaç olabilir?**

- A) 82      B) 83      C) 84      D) 85      E) 86

48. Bir sayının 18 ile bölümünden kalan 7 dir.  
Aynı sayının 6 ile bölümünden kalan kaçtır?  
A) 1 B) 2 C) 3 D) 4 E) 5

49. a, b, c gerçel sayıları için

$$a \cdot b = 0$$

$$b \cdot c < 0$$

$$b \cdot c^2 > 0$$

olduğuna göre, aşağıdaki sıralamalardan hangisi doğrudur?

- A)  $a < b < c$  B)  $a < c < b$  C)  $b < c < a$   
D)  $c < a < b$  E)  $c < b < a$

- 50.

$$\frac{2}{2x+7} = \frac{1}{7}$$

olduğuna göre, x kaçtır?

- A) 2,3 B) 2,5 C) 2,8 D) 3,2 E) 3,5

- 51.

$$a = 0,212$$

$$b = 2,788$$

olduğuna göre,  $(a - b)^2 + 4ab$  ifadesinin değeri kaçtır?

- A) 3 B) 6 C) 9 D) 12 E) 15

- 52.

$$5x + 2y = 63$$

$$3x - 2y = 25$$

olduğuna göre, x + y toplamı kaçtır?

- A) 9 B) 10 C) 12 D) 13 E) 15

53.

$$3 < 2x - 3 \leq 9$$

eşitsizliğini sağlayan kaç tane  $x$  tamsayısı vardır?

- A) 1      B) 2      C) 3      D) 4      E) 5

54.

$$|3 - x| \leq 5$$

eşitsizliğini sağlayan kaç tane  $x$  tamsayısı vardır?

- A) 12      B) 11      C) 10      D) 9      E) 8

55.

$$\frac{(m^3)^5 (n^4)^2}{(m^2 n^5)^4}$$

işleminin sonucu aşağıdakilerden hangisidir?

- A)  $\frac{m^7}{n^{12}}$       B)  $\frac{m^7}{n^{11}}$       C)  $\frac{m^6}{n^{12}}$   
 D)  $\frac{m^2}{n^6}$       E)  $\frac{m^2}{n^3}$

56.

$$\frac{x}{yx - y^2} - \frac{y}{x^2 - xy}$$

ifadesinin sadeleştirilmiş biçimi aşağıdakilerden hangisidir?

- A) 1      B)  $\frac{x+y}{x-y}$       C)  $\frac{x-y}{x+y}$   
 D)  $\frac{x-y}{xy}$       E)  $\frac{x+y}{xy}$

Diğer sayfaya geçiniz.

57.

$$25x^2 + ax + 49$$

ifadesinin tam kare olması için a'nın pozitif değeri kaç olmalıdır?

- A) 35    B) 64    C) 70    D) 81    E) 90

58. Engin ile Burak 400 tane bilyeyi paylaşıyor. Engin'in aldığı her 7 bilye için, Burak 9 bilye alıyor.

**Bu paylaşımında Engin kaç bilye alır?**

- A) 175    B) 200    C) 230    D) 250    E) 275

59. Bir manavdan 5 kg patates ile 3 kg biber alan müşteri 7,5 YTL, 2 kg patates ile 4 kg biber alan müşteriye 6,5 YTL ödüyor.

**Buna göre, 1 kg biber kaç YTL dir?**

- A) 1,15    B) 1,2    C) 1,25    D) 1,3    E) 1,35

60. Alış fiyatı üzerinden % 20 kârla satılan bir mala, bu satış fiyatı üzerinden % 30 indirim uygulanıyor.

**Bu malın indirimli satışında, alış fiyatı üzerinden yüzde kaç zarar edilmektedir?**

- A) 10    B) 12    C) 14    D) 16    E) 18

*Diğer sayfaya geçiniz.*



61. Bir okuldaki öğrencilerin % 80 i İngilizce, % 45 i de Fransızca bilmektedir.

**Bu okuldaki öğrencilerin her biri bu dillerden en az birini bildiğine göre, öğrencilerin yüzde kaç i iki dili birden bilmektedir?**

- A) 15 B) 20 C) 25 D) 50 E) 65

62. Bir miktar paranın  $\frac{4}{5}$  inin yıllık % 8 den bir yıllık basit faizi 32 YTL dir.

**Buna göre, paranın tamamı kaç YTL dir?**

- A) 375 B) 400 C) 450 D) 480 E) 500

63. Bir işi Mehmet 24 günde, Ebru ise 12 günde bitirmektedir.

**İkisi beraber bu işe başlayıp 3 gün çalıştıktan sonra Ebru işten ayrıldığına göre, kalan işi Mehmet kaç günde bitirir?**

- A) 15 B) 16 C) 18 D) 20 E) 21

64. Sabit hızla hareket eden bir araç, bir yolun  $\frac{3}{8}$  ini 4,5 saatte gidiyor.

**Bu araç aynı hızla yolun tamamını kaç saatte gider?**

- A) 9 B) 10 C) 11 D) 12 E) 13

65. 10 yıl önce annenin yaşı, kızının yaşının 6 katıydı; 10 yıl sonraysa 2 katı olacaktır.

Buna göre, annenin bugünkü yaşı kaçtır?

- A) 32 B) 34 C) 36 D) 38 E) 40

66. Ağırlıkça % 12 si şeker olan un-şeker karışımı elde etmek için, 44 kg un kaç kg şekerle karıştırılmalıdır?

- A) 4 B) 6 C) 8 D) 10 E) 12

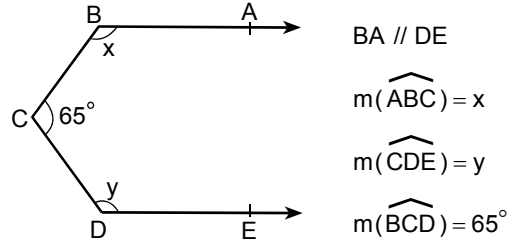
67. Can, içinde 8 kırmızı, 6 beyaz top bulunan bir torbadan elinde bir beyaz top olana kadar art arda top çekiyor.

Can **en çok** kaç top çekmiştir?

(Can, çektiği topları tekrar torbaya atmıyor.)

- A) 6 B) 7 C) 9 D) 10 E) 11

68.

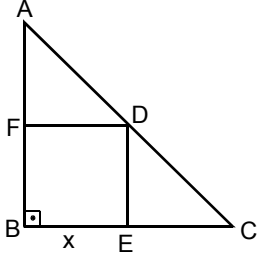


Yukarıdaki verilere göre,  $x + y$  kaç derecedir?

- A) 275 B) 280 C) 285 D) 290 E) 295

Diğer sayfaya geçiniz.

69.



ABC bir diküçgen

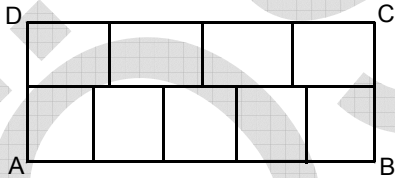
BEDF bir kare

 $|BE| = x$ 

Yukarıdaki şekilde  $|AC| = 13$  cm ve  $|BC| = 12$  cm olduğuna göre,  $x$  kaç cm dir?

- A)  $\frac{42}{17}$       B)  $\frac{60}{17}$       C)  $\frac{73}{16}$   
 D) 3      E) 4

70.



Şekildeki ABCD dikdörtgeni birbirine eş 9 tane dikdörtgene ayrılmıştır.

$|AB| = 40$  cm olduğuna göre, ABCD dikdörtgeninin alanı kaç  $\text{cm}^2$  dir?

- A) 550      B) 620      C) 670      D) 720      E) 780

71. Uzunluğu 6 m, yüksekliği 4 m olan dikdörtgen şeklindeki bir duvarın sadece bir yüzünü kaplamak için alanı  $0,02 \text{ m}^2$  olan fayanslardan kaç tane kullanmak gereklidir?

- A) 1000      B) 1100      C) 1200      D) 1400      E) 1600

72. Yüksekliği 90 cm, taban kenar uzunluğu  $r$  cm olan kare prizma biçimindeki su deposu tam olarak suyla doludur. Bu su, yarıçapı  $r$  cm olan silindirik biçimindeki başka bir depoya boşaltılacaktır.

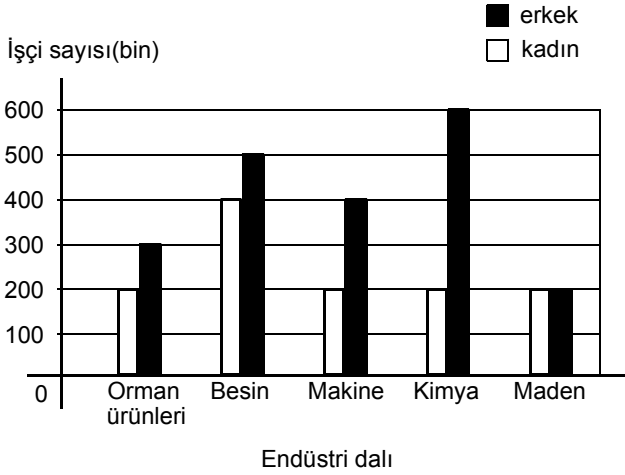
Suyun tamamını alabilmesi için silindirik biçimindeki deponun yüksekliği en az kaç cm olmalıdır?

- A)  $90\pi$       B)  $90r$       C)  $90\pi r$   
 D)  $\frac{90}{\pi}$       E)  $\frac{90}{r}$

Diğer sayfaya geçiniz.

**73. – 75. SORULARI AŞAĞIDAKİ BİLGİLERE GÖRE CEVAPLAYINIZ.**

Aşağıdaki grafikte bir ülkede belirli endüstri dallarında çalışan kadın ve erkek işçi sayıları gösterilmiştir.



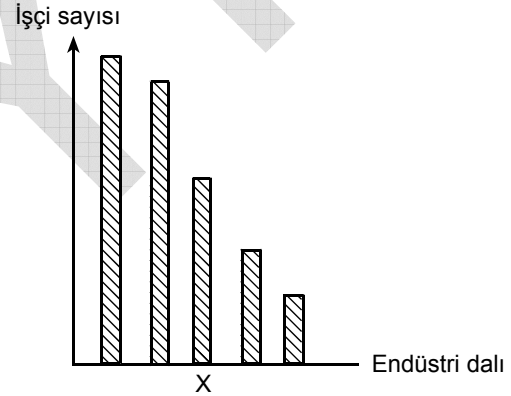
**73. Orman ürünleri endüstrisinde çalışan işçilerin yüzde kaç kadındır?**

- A) 40 B) 35 C) 30 D) 25 E) 20

**74. Bu beş endüstri dalında çalışan erkek işçi sayıları bir daire grafiği ile gösterildiğinde, kimya endüstrisinde çalışan erkek işçilere ait daire diliminin merkez açısı kaç derece olur?**

- A) 90 B) 100 C) 105 D) 108 E) 112

**75. Grafikteki beş endüstri dalı, çalışan toplam işçi sayısı bakımından büyükten küçüğe doğru sıralandığında aşağıdaki grafik elde ediliyor.**



**Buna göre, X ile işaretlenen sütun hangi endüstri dalını göstermektedir?**

- A) Orman ürünleri B) Besin  
C) Makine D) Kimya  
E) Maden

**GENEL YETENEK TESTİ BİTTİ.**

**GENEL KÜLTÜR TESTİNE GEÇİNİZ.**

# GENEL KÜLTÜR TESTİ

KPSS/2-GYGK-OÖ/2006

1. Aşağıdakilerden hangisinin Türklerin eski ve köklü bir kültüre sahip olduklarının bir göstergesi olduğu savunulabilir?

- A) Yerleşik hayata geçmeleri
- B) İlk devletlerini Orta Asya'da kurmaları
- C) Çeşitli dini inanışları benimsemeleri ve bunları yaşantılarına yansıtmaları
- D) Boylar halinde birlikte yaşamaları
- E) İslam dinini kabul etmelerine rağmen öz kimliklerini korumaları

2. Selçuklularda erkek hanedan üyelerinin, yanlarına bilgili devlet görevlileri verilerek eyalet veya vilayetlere yönetici olarak gönderilmeleri aşağıdakilerden hangisinin göstergesidir?

- A) Devlet yönetiminde deneyim kazanılmasına önem verildiğinin
- B) Yönetim birimlerinin sayıca az olduğunun
- C) Askerliğe önem verildiğinin
- D) Merkezi otoritenin korunmak istendiğinin
- E) Yerleşik hayata geçişin hızlandırılmak istendiğinin

3. İkta nedir?

- A) Selçuklularda eyaletlerdeki valilerin askerleri
- B) Selçuklularda toprakların vergi gelirlerine göre bölümlere ayrılması
- C) Türk devletlerinde sosyal hayatı düzenleyen kurallar
- D) Türk İslam devletlerinde hukuk sistemi
- E) Türk İslam sanatında bir tür

4. Aşağıdakilerden hangisi "padişah imzası" anlamındadır?

- A) Fetva
- B) Tuğ
- C) Ferman
- D) Tuğra
- E) Saliyane

5. Osmanlılarda I. Ahmet'ten itibaren padişahlığın hanedanın en yaşlı üyesine geçmesi usulünün uygulanmasına başlanmasında güdülen amaç aşağıdakilerden hangisidir?

- A) Saltanat sistemini devam ettirmek
- B) Taht kavgalarını önlemek
- C) Padişahın yetkilerini sınırlamak
- D) Halk ile saray ilişkilerini kolaylaştırmak
- E) Eyalet yöneticilerinin sayısını artırmak

*Diğer sayfaya geçiniz.*

## 6. Osmanlı Devleti'nde,

- I. tarım ve hayvancılıkla uğraşan kimselere devletçe tohum, hayvan ve para yardımı yapılması,
- II. toprağını arka arkaya üç yıl ekmayerek boş bırakan köylünün toprağının elinden alınıp bir başkasına verilmesi,
- III. köylünün, toprağını değil, toprağı işleme hakkını çocuklarına miras olarak bırakabilmesi

uygulamalarından hangileri, toprağın kullanımının köylüye, çıplak mülkiyetinin devlete ait olduğunu gösterir?

- A) Yalnız I      B) Yalnız II      C) Yalnız III  
D) I ve II      E) II ve III

## 7. Osmanlı Devleti'nin XIX. yüzyıla kadar yönetildiği saray aşağıdakilerden hangisidir?

- A) Yıldız Sarayı      B) Dolmabahçe Sarayı  
C) Beylerbeyi Sarayı      D) Çırağan Sarayı  
E) Topkapı Sarayı

## 8. Aşağıdakilerden hangisiyle, ayanlar padişaha bağlı kalacakları ve merkezi otoriteyi korumaya yardımcı olacakları sözünü vermişlerdir?

- A) Meşrutiyetin ilan edilmesi  
B) Senet-i İttifak'ın ilan edilmesi  
C) Islahat Fermanı'nın ilan edilmesi  
D) Tanzimat Fermanı'nın ilan edilmesi  
E) Veraset sisteminde değişiklik yapılması

## 9. Osmanlı pazarları XIX. yüzyılın ortalarından itibaren Avrupa mallarının istilasına uğramış ve giderek Osmanlı Devleti ham madde satan, yapılmış mal alan bir ülke haline gelmiştir.

## Ekonomide görülen bu durum,

- I. iş bulma olanağı,
- II. yerli sanayi,
- III. yabancı sermaye

etkenlerinden hangilerini olumsuz yönde etkilemiştir?

- A) Yalnız I      B) Yalnız II      C) I ve II  
D) I ve III      E) II ve III

## 10. Osmanlı Devleti'nde Düyun-ı Umumiye İdaresi'nin kurulması aşağıdakilerden hangisinin bir sonucudur?

- A) Osmanlı Devleti'nin Avrupa devleti sayılması  
B) Osmanlı Devleti'nin ilk kez toprak kaybetmesi  
C) Osmanlı Devleti'nin yalnız kalma siyasetinden vazgeçerek ittifaklara girmesi  
D) Osmanlı Devleti'nin dış borçlarını ödeyemez duruma gelmesi  
E) Yeniçeri teşkilatının kaldırılması

11. I. Mondros Mütarekesi'nin imzalanması  
II. Rusya'da çarlık yönetiminin yıkılması  
III. Anlaşma Devletleri arasında görüş ayrılığı çıkması
- Yukarıdakilerden hangilerinin Kurtuluş Savaşı'nın başlamasında önemli rolü olmuştur?**
- A) Yalnız I      B) Yalnız II      C) Yalnız III  
D) I ve III      E) II ve III

12. **Kurtuluş Savaşı'nda, aşağıdaki devletlerden hangisi, Anadolu'da işgal gücü bulundurmamıştır?**
- A) İtalya      B) Yunanistan      C) ABD  
D) İngiltere      E) Fransa

13. I. TBMM'nin açılması  
II. İstanbul'un resmen işgal edilmesi  
III. Amasya Protokolleri'nin imzalanması
- Yukarıdakilerden hangileri son Osmanlı Mebuslar Meclisi'nde Misak-ı Milli'nin ilan edilmesinden sonra ortaya çıkan gelişmeler arasındadır?**
- A) Yalnız I      B) Yalnız II      C) Yalnız III  
D) I ve II      E) I, II ve III

14. **Kurtuluş Savaşı Döneminde özellikle Anadolu'da bir Pontus Rum Devleti'nin kurulmasını önlemek amacıyla kurulan cemiyet aşağıdakilerden hangisidir?**
- A) Trakya-Paşaeli Haklarını Savunma Cemiyeti  
B) İzmir Osmanlı Haklarını Koruma Cemiyeti  
C) Trabzon Milli Hakları Koruma Cemiyeti  
D) Adana ve Çevresi Haklarını Koruma Cemiyeti  
E) Doğu Anadolu Haklarını Koruma Cemiyeti

15. Amasya Genelgesi'nde vatanın bütünlüğü ve bağımsızlığının tehlikede olduğu, İstanbul Hükümeti'nin sorumluluğunu yerine getiremediği ve ulusu yok olmuş duruma düşürdüğü belirtilmiştir.

**Bu sözlerin Kurtuluş Savaşı hakkında aşağıdakilerden hangisiyle ilgili bilgi verdiği savunulabilir?**

- A) Süresi      B) Nedeni      C) Programı  
D) Kadrosu      E) Sonucu

16. I. Kongre başkanının danışmanları  
II. Kongreye katılan üyeler  
III. Temsilciler Kurulu

**Erzurum ve Sivas Kongreleri'nde alınan kararları kongre adına yukarıdakilerden hangileri yürütmüştür?**

- A) Yalnız I      B) Yalnız II      C) Yalnız III  
D) I ve II      E) II ve III



17. Kurtuluş Savaşı'nda aşağıdakilerden hangisinin Anlaşma Devletleri arasında görüş ayrılığına neden olduğu savunulamaz?

- A) Fransa'nın TBMM Hükümeti'yle antlaşma yapması
- B) Fransız kamuoyunun ve Fransız yazarların Türk bağımsızlık savaşına olumlu bakması
- C) İtalya'nın Anadolu'da işgal ettiği yerlerden çekilmesi
- D) Fransa'nın dış komisyon başkanı Franklen Bouillon'u Ankara'ya Türk-Fransız dostluk ilişkisi için göndermesi
- E) TBMM Hükümeti'ne karşı Anadolu'da ayaklanmalar çıkması

18. Aşağıdakilerden hangisi Sakarya Savaşı'nın sonuçlarından biridir?

- A) Sovyetler Birliği'nin Misak-ı Milli'yi kabul etmesi
- B) Yunanistan'ın saldırı gücünü yitirerek savunmaya geçmesi
- C) Londra Konferansı'nın toplanması
- D) TBMM'nin Mustafa Kemal'i başkomutan seçmesi
- E) Ulusal yükümlülüklerin açıklanması

19. Aşağıdakilerden hangisi Lozan Antlaşması'nın kapsamındadır?

- A) Batı sınırının çizilmesi
- B) Musul'un Irak'a bırakılması
- C) Hatay Cumhuriyeti'nin kurulması
- D) Türkiye-Ermenistan sınırının belirlenmesi
- E) Batı Trakya'nın Yunanistan'a bırakılması

20. Kurtuluş Savaşı sırasında Yunan ordularının Eskişehir cephesinde taarruza başladığı, Türk ordusunun çekildiği en buhranlı günlerde, "Maarif Kongresi"nin toplanması aşağıdakilerden hangisini gösterir?

- A) Askeri zafer beklentisinin azaldığını
- B) Eğitim ve öğretimle ilgili daha önceden yapılan çalışmalardan yararlanılmak istendiğini
- C) Askeri zaferlerin yapılacak inkılapları çabuklaştırdığını
- D) Eğitim ve öğretime çok önem verildiğini
- E) Maarif Kongresi'nin yapılmasının daha önceden kararlaştırıldığını

21. Aşağıdakilerden hangisinin gerçekleştirilmesinin bağımsız devlet anlayışının bir gereği olduğu savunulabilir?

- A) Kabotaj Kanunu
- B) Şapka İnkılabı
- C) Harf İnkılabı
- D) Saltanatın kaldırılması
- E) Halifeliğin kaldırılması

22. Türkiye Cumhuriyeti'nde devletçilik anlayışı aşağıdakilerden hangisiyle bağdaşmaz?

- A) Ekonomide özel sektöre yer verme
- B) Ulusal çıkarları koruma
- C) Mal edinme
- D) Fırsat eşitliği
- E) Sınırsız ekonomik rekabet

23. Anlaşma Devletleri'nin Türkiye Büyük Millet Meclisi Hükümeti'yle birlikte İstanbul Hükümeti'ni de Lozan Konferansı'na davet etmesi aşağıdakilerden hangisini çabuklaştırmıştır?

- A) Halifeliğin kaldırılmasını
- B) Saltanatın kaldırılmasını
- C) Ankara'nın başkent yapılmasını
- D) Milletvekillerinin görev süresinin uzatılmasını
- E) 1876 Anayasası'nın yürürlükten kaldırılmasını

24. Cumhuriyet Döneminde Arap alfabesinden vazgeçilmesinin aşağıdakilerden hangisini kolaylaştırdığı savunulamaz?

- A) Okuryazar sayısını artırma
- B) Batı dillerinden tercümeler yapma
- C) Arşivlerdeki eserleri değerlendirme
- D) Kitap okuma hevesini artırma
- E) Konuşma diliyle yazı dili arasındaki farkı kaldırma

25. Aşağıdakilerden hangisi, Cumhuriyet Dönemindeki gelişmeler arasında değildir?

- A) Hukuk sistemi uygulamalarında birlik sağlanması
- B) Köylüden verginin ürün üzerinden alınması
- C) Milletvekillerinin yemin şeklinin değişmesi
- D) Nüfus sayımında kadınların da sayılması
- E) Soyadı Kanunu'nun çıkarılması

26.

- I. Yabancı okullarda Türk öğrencilerin de okuyabilmesi
- II. Yabancı okullarda Türk dili, tarih ve coğrafya derslerinin Türk öğretmenler tarafından okutulması
- III. Yabancı okulların, Türk kanunlarına ve bağlı oldukları tüzük ve yönetmelik hükümlerine uymak zorunda olması

Türkiye'deki yabancı okullarla ilgili yukarıdaki uygulamalardan hangilerinin, ulusal değerleri koruma amaçlı olduğu savunulabilir?

- A) Yalnız I
- B) Yalnız II
- C) Yalnız III
- D) I ve III
- E) II ve III

27.

- I. Şeyh Sait Ayaklanması
- II. Demirci Mehmet Efe Ayaklanması
- III. Çerkez Ethem Ayaklanması

**Yukarıdakilerden hangileri laik devlet anlayışına tepkidir?**

- A) Yalnız I      B) Yalnız II      C) Yalnız III  
D) I ve II      E) II ve III

28.

- I. Soyadı Kanunu
- II. Öğretim Birliği Kanunu
- III. Seçim Kanunu

**Atatürk Döneminde yukarıdakilerin hangilerinde değişiklik yapılmasının, toplumda kadın-erkek eşitliğini sağlamada katkısı olmuştur?**

- A) Yalnız I      B) Yalnız II      C) Yalnız III  
D) I ve II      E) II ve III

29.

- I. Eşitlik
- II. Ayrıcalık
- III. Sınıf kavgası

**Halkçılık ilkesi yukarıdakilerden hangilerine karşıdır?**

- A) Yalnız I      B) Yalnız II      C) Yalnız III  
D) I ve II      E) II ve III

30.

- I. Türkiye Devleti'nin cumhuriyet olduğunun belirtilmesi
- II. Azınlıkların Türk vatandaşı sayılması
- III. Laiklik ilkesi

**Yukarıdakilerden hangileri, 1937 yılında anayasa da ilk kez yer almıştır ?**

- A) Yalnız I      B) Yalnız II      C) Yalnız III  
D) I ve II      E) II ve III

31.

- I. Menemen Olayı'nın çıkması
- II. Türkiye'nin Milletler Cemiyeti'ne üye olması
- III. Milletvekili seçimlerinin iki yılda bir yapılması

**gelişmelerinden hangilerinin, Türkiye'nin demokratik hayata geçişinin gecikmesinde etkili olduğu savunulabilir?**

- A) Yalnız I      B) Yalnız II      C) Yalnız III  
D) I ve II      E) II ve III

**32. Aşağıdakilerden hangisi, günümüzde de varlığını sürdürmektedir?**

- A) Sadabad Paketi      B) Kuzey Atlantik Paketi  
C) Balkan Paketi      D) Kellogg Paketi  
E) Varşova Paketi

33. Lozan Barış Antlaşması'yla Boğazlar'ın iki yanında askersiz bir bölge oluşturulmuştur. Montrö Sözleşmesi'yle ise Türkiye'nin bu bölgede asker bulundurması ve bölgenin düşman saldırısına karşı koyabilecek duruma getirilmesi kabul edilmiştir.

**Yalnız bu bilgiye dayanarak**

- I. Boğazlar Türk egemenliğine geçmiştir.
- II. Boğazlar'dan geçiş için sınırlamalar kaldırılmıştır.
- III. Türkiye'nin sınır komşularında değişiklik olmuştur.

**yargılarından hangilerine ulaşılabilir?**

- A) Yalnız I      B) Yalnız II      C) Yalnız III  
D) I ve III      E) II ve III

34.

- I. Devlet eliyle temel sanayinin kurulması
- II. İlk özel bankanın kurulması
- III. Türkiye'nin Birleşmiş Milletler Teşkilatı'na üye olması

**Yukarıdaki gelişmelerden hangileri Atatürk Döneminde gerçekleşmiştir?**

- A) Yalnız I      B) Yalnız II      C) Yalnız III  
D) I ve II      E) II ve III

35.

- I. Hürriyet ve İtilaf Fırkası
- II. Terakkiperver Cumhuriyet Fırkası
- III. Halk Fırkası

**Yukarıdaki siyasal partilerden hangileri Atatürk Döneminde kurulmuştur?**

- A) Yalnız I      B) Yalnız II      C) Yalnız III  
D) II ve III      E) I, II ve III

36. **Yabancılara verilen ekonomik ve siyasi ayrıcalıkların kaldırılmasının,**

- I. ulusçuluk,
- II. devletçilik,
- III. laiklik

**ilkelerinden hangileriyle doğrudan ilgili olduğu savunulabilir?**

- A) Yalnız I      B) Yalnız II      C) Yalnız III  
D) I ve II      E) II ve III

37. **Türk Tarih Kurumu'nun Anadolu'nun eski tarihini araştırmaya yönelik çalışmalarıyla,**

- I. arkeoloji,
- II. müzecilik,
- III. etnografya

**alanlarından hangilerinde gelişme sağlandığı savunulabilir?**

- A) Yalnız I      B) Yalnız II      C) Yalnız III  
D) I ve II      E) I, II ve III

38. Aşağıdaki haritada gösterilen üç kent, bütün yıl boyunca öğle vaktinde güneş ışınlarını yaklaşık aynı açıyla alır.



**Bu durum, aşağıdakilerden hangisinin bir sonucudur?**

- A) Aynı yarım kürede yer almalarının
- B) Ekvatora hemen hemen aynı uzaklıkta olmalarının
- C) Aynı coğrafi bölge içinde olmalarının
- D) Aynı denizin kıyısında olmalarının
- E) Dağların kıyıya paralel uzanmasının

39. Aşağıdakilerden hangisi Doğu Karadeniz Bölümü'nün kıyı kesiminin iklim özelliklerinden biri değildir?

- A) Nem oranının yüksek olması
- B) Sıcaklığın 0°C'nin altına düştüğü gün sayısının az olması
- C) Kurak dönemin uzun sürmesi
- D) Yaz ve kış mevsimleri arasındaki sıcaklık farkının az olması
- E) Yıllık yağış tutarının yüksek olması

40. Aşağıdakilerden hangisi, Ege Bölgesi akarsularının özelliklerinden biri değildir?

- A) Kollarından bir kısmının kaynağının bölge dışında olması
- B) Yataklarında menderesler çizerek akmaları
- C) Doğudan batıya doğru havza genişliklerinin farklılık göstermesi
- D) Sıradağlar arasındaki çöküntü alanlarında akmaları
- E) Yıl boyunca bol su taşımaları

41. Aşağıdakilerden hangisi bir delta ovası değildir?

- A) Göksu
- B) Ceylanpınar
- C) Bafra
- D) Çarşamba
- E) Çukurova

42. Aşağıdakilerden hangisi Türkiye'nin nüfus özelliklerinden biri değildir?

- A) Yıllık nüfus artış oranının sürekli yükselmesi
- B) Mevsimlik iş gücü göçünün olması
- C) Nüfus yapısının genç ve dinamik olması
- D) Nüfus yoğunluğunun giderek artması
- E) Hızlı bir kentleşme sürecinin yaşanması

43. Aşağıdaki tabloda, Türkiye'de 1990 yılında 6 yaş ve üzerindeki okuryazar nüfus oranları cinsiyete ve bölgelere göre verilmiştir.

Bölge	Okuryazar oranı (%)	
	Kadın	Erkek
Marmara	82	94
İç Anadolu	77	92
Ege	77	91
Akdeniz	73	89
Karadeniz	70	88
Doğu Anadolu	55	81
Güneydoğu Anadolu	45	76

Bu tablodan yararlanarak aşağıdaki bilgilerden hangisine ulaşılabilir?

- A) Bölgelerin toplam nüfusuna
- B) Türkiye'de, 6 yaş üzerindeki kişi sayısına
- C) Genç nüfus içindeki okuryazar oranına
- D) Kadın okuryazar oranının en yüksek olduğu bölgeye
- E) Okuryazar nüfusun eğitim düzeyindeki farklılıklara

44. Endüstri sektöründe çalışanların toplam çalışan nüfusa oranı, aşağıdaki bölümlerin hangisinde diğerlerinden daha fazladır?

- A) Dicle
- B) Erzurum-Kars
- C) Çatalca-Kocaeli
- D) Yukarı Kızılırmak
- E) Doğu Karadeniz

45. Orta Karadeniz Bölümü'nde nüfus dağılışı Doğu Karadeniz Bölümü'nden farklı olarak iç kısımda da yoğundur.

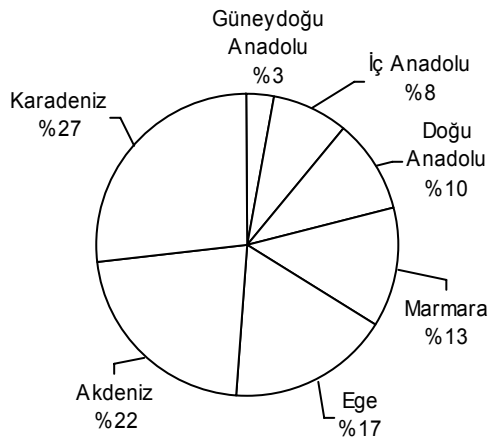
Bu durum, aşağıdakilerden hangisinin iki bölüm arasında farklılık göstermesinden kaynaklanmaktadır?

- A) Yüzey şekilleri
- B) Yıllık yağış tutarı
- C) Akarsu ağı
- D) Doğal bitki örtüsünün dağılışı
- E) Yer altı zenginliği

46. Yukarı Fırat Bölümü'nde tarım ürünleri çeşidinin Doğu Anadolu Bölgesi'nin diğer bölümlerinden daha fazla olmasında aşağıdakilerden hangisi etkilidir?

- A) Nüfus yoğunluğunun fazlalığı
- B) İklimin elverişliliği
- C) Akarsu ağının genişliği
- D) Makineli tarımın yaygınlığı
- E) Küçükbaş hayvancılığın yaygınlığı

47. Aşağıdaki grafik, 1998 yılında Türkiye'deki ormanların coğrafi bölgelere dağılışını göstermektedir.



**Yalnızca bu grafikten yararlanarak aşağıdaki yargılardan hangisine ulaşılabilir?**

- A) Batıdan doğuya gidildikçe ormanların kapladığı alan artmaktadır.
- B) Ormanların kuzeyde yer alan bölümünün oranıyla güneyde yer alan bölümünün oranı birbirine yakındır.
- C) Denize kıyısı olan coğrafi bölgelerde ormanların tür çeşitliliği, iç bölgelerdeki ormanlardan fazladır.
- D) Orman miktarındaki azalma en çok güney ve batı bölgelerde görülmektedir.
- E) Ormanların % 75'inden fazlası denize kıyısı olan coğrafi bölgelerde yer almaktadır.

48. Yaz ve sonbaharda kuraklık isteyen bir tarım ürününün,

- I. Konya,
- II. Erzurum-Kars,
- III. Dicle,
- IV. Doğu Karadeniz

**bölgelerinin hangilerinde doğal koşullarda yetişmesi zordur?**

- A) I ve II
- B) I ve III
- C) II ve III
- D) II ve IV
- E) III ve IV

49. Marmara Bölgesi'nin, yüz ölçümüne göre ekili dikili alan oranı en yüksek bölge olmasında,

- I. düzlüklerin geniş yer kaplaması,
- II. kentleşme oranının fazla olması,
- III. endüstrinin gelişmiş olması

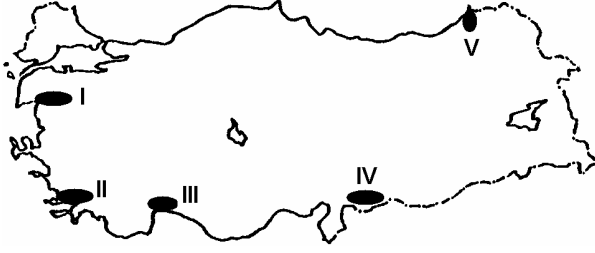
**özelliklerinden hangileri etkilidir?**

- A) Yalnız I
- B) Yalnız II
- C) Yalnız III
- D) I ve III
- E) II ve III

*Diğer sayfaya geçiniz.*



50.



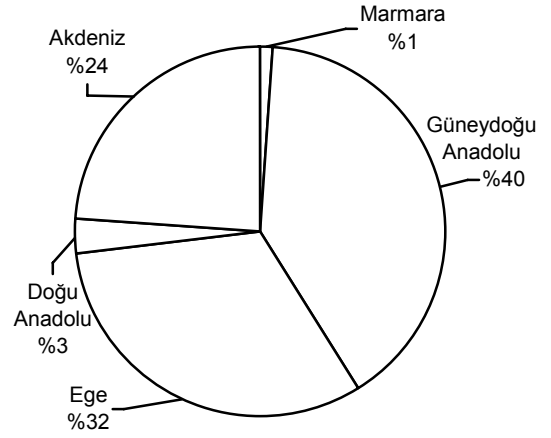
Haritada numaralarla gösterilen yerlerin hangisinde zeytin üretimi en fazladır?

- A) I B) II C) III D) IV E) V

51. Akdeniz Bölgesi'nde yaz mevsiminin sıcak ve kurak geçmesi, aşağıdakilerden hangisinde etkili değildir?

- A) Orman yangınlarının artmasında  
B) Tarımda sulamaya gereksinim duyulmasında  
C) Seracılığın gelişmesinde  
D) Deniz turizmine elverişli sürenin uzun olmasında  
E) Susam ve yer fıstığı üretilmesinde

52. Aşağıdaki grafik Türkiye'de pamuk üretimi yapılan bölgelerdeki üretimin, Türkiye'nin toplam pamuk üretimi içindeki paylarını göstermektedir.



Yalnızca grafikteki bilgilerden yararlanarak, Türkiye'nin pamuk üretimiyle ilgili aşağıdaki yorumlardan hangisine gidilemez?

- A) Kıyı bölgelerinin toplam üretimi iç bölgelerinkinden fazladır.  
B) Türkiye'nin pamuk üretiminde Marmara Bölgesi'nin payı en azdır.  
C) Karadeniz Bölgesi dışında tüm kıyı bölgelerinde pamuk üretilir.  
D) Bölgelerin pamuk üretimi, bölge yüz ölçümleriyle orantılıdır.  
E) Toplam üretimin yarısından fazlası güneydeki bölgelerden elde edilir.

Diğer sayfaya geçiniz.

53. Bakırçay, Gediz, Küçük Menderes ve Büyük Menderes ovalarında tarımsal etkinliklerin yoğun olarak yapılmasında aşağıdakilerden hangisinin etkili olduğu söylenemez?

- A) Yer şekillerinin makineli tarıma uygun olması
- B) Nüfus yoğunluğunun Türkiye ortalamasının üzerinde olması
- C) İklim koşullarının uygun olması
- D) Sulama olanaklarının fazla olması
- E) Toprağın çeşitli ürünlerin yetiştirilmesine elverişli olması

54.

- I. İklim koşullarının uygun olması
- II. Tüketimin fazla olması
- III. Dış satım ürünleri arasında yer alması

**Yukarıdakilerden hangileri Türkiye'de, kümes hayvancılığının büyük kentler çevresinde yoğunlaşmasında etkilidir?**

- A) Yalnız I
- B) Yalnız II
- C) Yalnız III
- D) I ve II
- E) II ve III

55. Aşağıdakilerden hangisi, Türkiye'de endüstrinin hızla gelişmesinin ülke ekonomisine sağladığı katkılardan biri değildir?

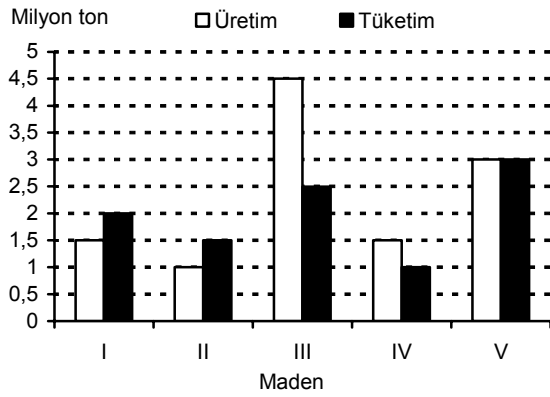
- A) Çalışma çağındaki nüfusa yeni iş olanakları yaratılması
- B) Ham maddenin ülke içinde işlenerek daha fazla değer kazanması
- C) İç ve dış ticaretin gelişmesi
- D) Göçler sonucu büyük kentlerin çevresindeki tarım arazisinde yerleşim alanları oluşması
- E) Dış satımda endüstri ürünlerinin payı arttıkça dış satım gelirlerinin de yükselmesi

56. Türkiye'de bazı yerleşim merkezlerinin büyümesinde o yörede çıkartılan yer altı zenginliklerinin payı büyüktür.

**Buna göre aşağıdaki merkezlerden hangisinin büyümesinde bu payın katkısı daha azdır?**

- A) Zonguldak
- B) İskenderun
- C) Seydişehir
- D) Soma
- E) Batman

57. Aşağıdaki grafik beş maden cevherinin 1994 yılında Türkiye'deki üretim ve tüketim miktarlarını göstermektedir.



**Yalnızca grafikteki bilgilere dayanarak, hangi madenlerin dış alımına gereksinim duyulduğu söylenebilir?**

- A) I ve II      B) I ve V      C) II ve III  
D) II ve IV      E) III ve V

58. Türkiye'nin dış ticaretiyle ilgili aşağıdaki ifadelerden hangisi **yanlıştır**?

- A) Dış satımında en büyük payı tekstil ve konfeksiyon ürünleri oluşturur.  
B) Endüstri ürünleri, dış alımda önemli bir paya sahiptir.  
C) Bazı ürünlerin dış pazarlarda rekabet gücü giderek artmaktadır.  
D) Dış satımda tarım ürünleri arasında ön sıraları pamuk, tütün, üzüm, fındık ve incir alır.  
E) Dış satım gelirleri dış alım giderlerini karşılamaktadır.

59. Türkiye'de elektrik enerjisi üretiminde aşağıdaki enerji kaynaklarından hangisinin kullanımının artması, üretim maliyetinin artmasına yol açar?

- A) Güneş      B) Akarsu      C) Rüzgâr  
D) Petrol      E) Sıcak su

60. Türkiye'de aşağıdakilerden hangisinin gelişmesinde turizm **en az** etkilidir?

- A) Hava ulaşımı  
B) Hediyelik eşya üretimi  
C) Haberleşme araçlarının üretimi  
D) Konaklama tesislerinin niteliği  
E) Belediye hizmetleri

61. – 67. SORULARI 1982 ANAYASASI'NA  
GÖRE CEVAPLAYINIZ.

61. Aşağıdakilerden hangisi milletvekili seçilebilmek için aranan şartlardan biri değildir?

- A) En az lise mezunu olmak
- B) Yükümlü olduğu askerlik hizmetini yapmış olmak
- C) Kamu hizmetlerinden yasaklı olmamak
- D) Türkiye Cumhuriyeti vatandaşı olmak
- E) Kısıtlı olmamak

62. Aşağıdakilerden hangisi TBMM'nin görev ve yetkilerinden biri değildir?

- A) Para basılmasına karar vermek
- B) Kanun koymak
- C) Savaş ilanına karar vermek
- D) Bakanlar Kurulunu denetlemek
- E) Üniversite rektörlerini seçmek

63. Cumhurbaşkanı kaç yıl için seçilir?

- A) 4
- B) 5
- C) 6
- D) 7
- E) 8

64. Başbakanın istifasını kabul etme yetkisi aşağıdakilerden hangisine aittir?

- A) TBMM Başkanına
- B) Cumhurbaşkanı
- C) Bakanlar Kuruluna
- D) Yüksek Seçim Kuruluna
- E) Anayasa Mahkemesine

65. Aşağıdakilerden hangisi TBMM'nin denetleme biçimlerinden biri değildir?

- A) Soru
- B) Genel görüşme
- C) Gensoru
- D) Meclis araştırması
- E) Ara seçim

66. TBMM seçimleri kaç yılda bir yapılır?

- A) 3
- B) 4
- C) 5
- D) 6
- E) 7

67. Kanunların şekil bakımından Anayasa'ya uygun olup olmadığını aşağıdakilerden hangisi denetler?

- A) Anayasa Mahkemesi
- B) Askeri Yüksek İdare Mahkemesi
- C) Yargıtay
- D) Danıştay
- E) Uyuşmazlık Mahkemesi

68. Hâkimler ve Savcılar Yüksek Kurulunun başkanı kimdir?

- A) Başbakan
- B) Adalet Bakanı
- C) Yargıtay Başkanı
- D) Danıştay Başkanı
- E) TBMM Başkanı

69. Aşağıdakilerden hangisi seçimle işbaşına gelir?

- A) Vali
- B) Kaymakam
- C) Belediye Başkanı
- D) İl Millî Eğitim Müdürü
- E) Emniyet Müdürü

70. İnsan haklarıyla ilgili aşağıdaki ifadelerden hangisi yanlıştır?

- A) İnsan hakları sadece sivil toplum örgütleri tarafından güvence altına alınır.
- B) İnsan hakları bireyi topluma ve devlete karşı korur.
- C) İnsan en üstün değer olarak kabul edilmelidir.
- D) İnsan hakları tüm insanlar bakımından geçerli olmalıdır.
- E) İnsan hakları bakımından ırk, din, cins farkı gözetilemez.

71. Bir devlete uyrukluk bağı ile bağı olan gerçek kişilere ne ad verilir?

- A) Millet
- B) Birey
- C) Hemşehri
- D) Vatandaş
- E) Soydaş

72. Türkiye'nin yurt dışına göç vermesinde,

- I. ortalama yaşam süresinin uzun olması,
- II. ücret düzeylerinin düşük olması,
- III. işsizlik oranının yüksek olması

etkenlerinden hangileri rol oynamıştır?

- A) Yalnız I      B) Yalnız II      C) Yalnız III  
D) I ve II      E) II ve III

74. Aşağıdaki ülkelerden hangisi, kişi başına düşen geliri çok yüksek olduğu halde "gelişmiş ülkeler" grubunda yer almaz?

- A) ABD      B) Almanya  
C) İngiltere      D) Suudi Arabistan  
E) Japonya

73. TBMM kararıyla, 1 Ocak 2005 tarihinde Türk lirasından (TL) kaç sıfır atılmıştır?

- A) 7      B) 6      C) 5      D) 4      E) 3

75. 1 Temmuz 2006'dan bu yana Avrupa Birliği (AB) dönem başkanlığını hangi ülke yapmaktadır?

- A) Yunanistan      B) İngiltere  
C) Finlandiya      D) İtalya  
E) Portekiz

TEST BİTTİ.

CEVAPLARINIZI KONTROL EDİNİZ.

**ORTAÖĞRETİM**  
**GENEL YETENEK TESTİ**  
**A KİTAPÇIĞI**

- |       |       |       |
|-------|-------|-------|
| 1. B  | 26. B | 51. C |
| 2. A  | 27. E | 52. E |
| 3. C  | 28. C | 53. C |
| 4. E  | 29. A | 54. B |
| 5. D  | 30. D | 55. A |
| 6. B  | 31. C | 56. E |
| 7. D  | 32. B | 57. C |
| 8. A  | 33. E | 58. A |
| 9. C  | 34. D | 59. C |
| 10. B | 35. B | 60. D |
| 11. D | 36. A | 61. C |
| 12. E | 37. E | 62. E |
| 13. C | 38. A | 63. A |
| 14. A | 39. E | 64. D |
| 15. B | 40. B | 65. E |
| 16. D | 41. D | 66. B |
| 17. E | 42. B | 67. C |
| 18. A | 43. E | 68. E |
| 19. C | 44. C | 69. B |
| 20. B | 45. B | 70. D |
| 21. E | 46. B | 71. C |
| 22. D | 47. D | 72. D |
| 23. A | 48. A | 73. A |
| 24. C | 49. D | 74. D |
| 25. D | 50. E | 75. C |



**ORTAÖĞRETİM  
GENEL KÜLTÜR TESTİ  
A KİTAPÇIĞI**

- |       |       |       |
|-------|-------|-------|
| 1. E  | 26. E | 51. C |
| 2. A  | 27. A | 52. D |
| 3. B  | 28. C | 53. B |
| 4. D  | 29. E | 54. B |
| 5. B  | 30. C | 55. D |
| 6. E  | 31. A | 56. B |
| 7. E  | 32. B | 57. A |
| 8. B  | 33. A | 58. E |
| 9. C  | 34. D | 59. D |
| 10. D | 35. D | 60. C |
| 11. A | 36. A | 61. A |
| 12. C | 37. E | 62. E |
| 13. D | 38. B | 63. D |
| 14. C | 39. C | 64. B |
| 15. B | 40. E | 65. E |
| 16. C | 41. B | 66. C |
| 17. E | 42. A | 67. A |
| 18. B | 43. D | 68. B |
| 19. A | 44. C | 69. C |
| 20. D | 45. A | 70. A |
| 21. A | 46. B | 71. D |
| 22. E | 47. E | 72. E |
| 23. B | 48. D | 73. B |
| 24. C | 49. A | 74. D |
| 25. B | 50. A | 75. C |