



T.C. Ölçme, Seçme ve Yerleştirme Merkezi

**KAMU PERSONEL SEÇME SINAVI
A GRUBU VE ÖĞRETMENLİK (CS)
GENEL YETENEK TESTİ-GENEL KÜLTÜR TESTİ
6 TEMMUZ 2013 CUMARTESİ**

Bu testlerin her hakkı saklıdır. Hangi amaçla olursa olsun, testlerin tamamının veya bir kısmının Merkezimizin yazılı izni olmadan kopya edilmesi, fotoğrafının çekilmesi, herhangi bir yolla çoğaltılması, yayımlanması ya da kullanılması yasaktır. Bu yasağa uymayanlar gerekli cezai sorumluluğu ve testlerin hazırlanmasındaki mali külfeti peşinen kabullenmiş sayılır.

AÇIKLAMA

1. Bu kitapçıkta Kamu Personel Seçme Sınavı Genel Yetenek Testi ve Genel Kültür Testi bulunmaktadır
2. Bu test için verilen toplam cevaplama süresi **120 dakikadır (2 saat)**.
3. Bu kitapçıkta testlerde yer alan her sorunun sadece bir doğru cevabı vardır. Bir soru için birden çok cevap yeri işaretlenmişse o soru yanlış cevaplanmış sayılacaktır.
4. İşaretlediğiniz bir cevabı değiştirmek istediğinizde, silme işlemini çok iyi yapmanız gerektiğini unutmayınız.
5. Bu testler puanlanırken her bölümde doğru cevaplarınızın sayısından yanlış cevaplarınızın sayısının dörtte biri düşülecek ve kalan sayı o bölümle ilgili ham puanınız olacaktır.
6. Cevaplamaya istediğiniz sorudan başlayabilirsiniz. Bir soru ile ilgili cevabınızı, cevap kâğıdında o soru için ayrılmış olan yere işaretlemeyi unutmayınız.
7. Sınavda uyulacak diğer kurallar bu kitapçığın arka kapağında belirtilmiştir.

1. Bu testte 60 soru vardır.

2. Cevaplarınızı, cevap kâğıdının Genel Yetenek Testi için ayrılan kısmına işaretleyiniz.

1. Bazıları, hikâye kahramanını, yazarın kendisi sanır. Edebiyat içi oyunları, metinler arası göndermeleri, yazarın kurduğu alt metin ilişkilerini görmez. Oysa iyi bir okurun gözü, metnin altını kazar; diğerlerinin bakışlarıysa satırlar üzerinden kendi ezberlerinin boşluğuna akıp gider.

Bu parçada geçen "metnin altını kazma" sözüyle, metne yönelik olarak anlatılmak istenen aşağıdakilerden hangisidir?

- A) Örtülü anlamları bulmaya çalışma
B) Başka metinlerle karşılaştırma
C) Yazılanların gerçekliğini araştırma
D) Ön yargılardan sıyrılarak okuma
E) Kusurlu yönlerini ortaya koyma

2. Hemen her anne babanın, çocuk kanallarını yer yer bebek bakıcısı gibi ---- göz önüne aldığımızda çocukları televizyon izleme ---- uzaklaştırmanın zorluğu daha iyi anlaşılır.

Bu cümlede boş bırakılan yerlere sırasıyla aşağıdakilerden hangileri getirilmelidir?

- A) önemsediyini – bağımlılığından
B) kullandığını – alışkanlığından
C) bulduğunu – sorunundan
D) düşündüğünü – amacından
E) benimsediğini – eğiliminden

3.

- I. Ayrıca, sinema salonunda bulunan kişilerin reklam başlayınca televizyonda olduğu gibi kanal değiştirme, başka işlerle meşgul olma gibi şansları bulunmamaktadır.
II. Sinema, bir reklam ortamı olarak televizyonla benzeşmektedir.
III. Bu durum, izleyicilerin beyaz perdedeki reklamları başından sonuna değin izlemesini zorunlu kılmakta ve reklamın etkisini daha da yükseltmektedir.
IV. Çünkü sinema salonlarının sahip oldukları dev ekranlar, gelişmiş ses donanımları, izleyiciler üzerinde reklamları oldukça etkili kılmaktadır.
V. Ancak, sinemada yayımlanan reklamlar, izleyicilerin ilgisini çekmede televizyondan daha başarılıdır.

Yukarıdaki numaralandırılmış cümleler anlamlı bir bütün oluşturacak biçimde sıralandığında hangisi sonuncu cümle olur?

- A) I B) II C) III D) IV E) V

- 4.
- I. Sözcükleri ustalıkla kullanma yeteneğiyle ün salmış arkadaşlarımız olmuştur.
 - II. Kullandıkları dille çok sıkıcı konuları bile özel bir renge büründürebildikleri için onların e-postalarını veya telefon mesajlarını da keyifle okuruz.
 - III. Örneğin, ünlü Çek yazar Franz Kafka, gündüzleri sigorta memuru olarak çalışan biriymiş.
 - IV. Her gün aramızda gördüğümüz bu insanların önemli bir yazar olabileceğini aklımıza getirmeyiz.
 - V. Onun arkadaşları da içerdiği ince mizah ve zarif üslubu nedeniyle, yazdığı rapor ve tutanakları sabırsızlıkla beklemiş.

Yukarıdaki numaralandırılmış cümlelerin anlamlı bir bütün oluşturabilmesi için hangileri yer değiştirmelidir?

- A) I ile II B) I ile V C) II ile III
D) III ile IV E) IV ile V

5. Venüs ve Dünya, Güneş sisteminde birbirine en çok benzeyen iki gezegendir.

Bu cümleden, aşağıdakilerin hangisine kesin olarak ulaşılabılır?

- A) Güneş sisteminde Venüs ve Dünya'dan başka gezegen incelenmemiştir.
B) Venüs, Dünya'ya yakın mesafede olan gezegenlerden biridir.
C) Güneş sisteminde birbirine benzeyen başka gezegenler de vardır.
D) Birbirine en çok benzeyen gezegenler, Güneş sisteminde bulunmaktadır.
E) Dünya'ya Venüs kadar benzeyen gezegenler, Güneş sisteminin dışındadır.

6. Tam tahıl ürünü tüketen bireylerin kalp-damar sorunları yaşama riskinin, tahıl miktarı düşük ürünler tüketenlere göre yaklaşık % 20 oranında daha az olduğu tespit edilmiştir.

Bu cümleden aşağıdakilerin hangisine kesin olarak ulaşılabılır?

- A) Kalp-damar sorunu olanların, tam tahıllı ürünleri tüketmemesi gerekir.
B) Tam tahıllı ürünlerin sağlık üzerindeki etkisi, diğer besinlere göre düşüktür.
C) Kalp-damar sorunu yaşama riski % 20 olanlar, tahıl oranı düşük ürünler tüketmelidir.
D) Tahıl tüketiminin yarattığı en önemli sorun, kalp-damar sağlığında görülmektedir.
E) Kalp-damar rahatsızlıkları, tüketilen ürünlerdeki tahıl miktarıyla ilişkilidir.

7. (I) Ergenlik döneminde kişilerin geçirdiği bunalım veya bocalamalar, meslek seçimini de olumsuz yönde etkiler. (II) Öğretmen olmak isteyen genç, başka bir gün futbolcu olmaya karar verebilir veya çoktan beri doktor olmayı hayal ettiği hâlde aniden vazgeçip mühendisliğe heveslenebilir. (III) Kişilerin yaşadığı bu kararsızlık, bunalımlı bir dönemde olmalarının yanında, bu dönemde meslekleri ve kendilerini tam olarak tanıyamamalarından da kaynaklanabilir. (IV) Bu nedenle anne ve babalar, küçük yaştan itibaren çocuklarının ilgi duyduğu, zevk aldığı veya başarılı olduğu alanları belirlemeli; çocuklarını bu alanlara yönlendirmelidir. (V) Güçlü ve zayıf yönleri bilinerek yetiştirilen gençler, yeteneklerine göre meslek seçimi yapabilecek ve daha mutlu olabileceklerdir.

Bu parçadaki numaralandırılmış cümlelerle ilgili olarak aşağıdakilerden hangisi yanlıştır?

- A) I. cümlede, bir sorunun tespiti yapılmıştır.
B) II. cümlede, soruna ilişkin örneklere yer verilmiştir.
C) III. cümlede, sorunun sebepleri verilmiştir.
D) IV. cümlede, sorunun çözüm yolları sıralanmıştır.
E) V. cümlede, soruna ilişkin bir ayrıntı dile getirilmiştir.

8. (I) Akıllı kartın kimlik kartı olarak kullanıldığı ilk ülkelerden biri Malezya'dır. (II) 1980'li yıllarda bu tür kartların ilk denemeleri ülkedeki haberleşme alanında yapılmıştır. (III) Elde edilen başarının ardından diğer ülkeler de bu konuda çalışmalara başlamıştır. (IV) İtalya, Almanya, Portekiz gibi ülkelerde elektronik kimlik uygulamasına geçme, başarıyla sonuçlanmıştır. (V) Ulaşılan yüksek güvenlikle kredi kartı hırsızlıklarına son verilecek ve kişilerin banka hesaplarının korunması sağlanacaktır. (VI) Yakın bir gelecekte Türkiye'de de nüfus cüzdanları yerine bu kartlar kullanılmaya başlanacak.

Bu parçadaki numaralanmış cümlelerden hangisi, düşüncenin akışını bozmaktadır?

- A) V B) IV C) III D) II E) I

9. Ben geldim geleli açmadı gökler;
Ya ben bulutları anlamıyorum,
Ya bulutlar benden bir şey bekler.
Hayat bir ölümdür, aşk bir uçurum;
Ben geldim geleli açmadı gökler.

Bu parçada, aşağıdaki ses olaylarından hangisi vardır?

- A) Ünlü daralması B) Ünsüz türemesi
C) Ünlü düşmesi D) Ünsüz düşmesi
E) Ünsüz yumuşaması

10. Eski otel odalarındaki not defterlerinde en içten sırları açığa çıkaran düşünceler bulunabiliyordu.

Bu cümlenin öğelerinin dizilişi, aşağıdakilerden hangisiyle özdeştir?

- A) Babam bu üç katlı, daireleri seksen metrekaarelik küçük apartmanı yaptırmaya başladığında 1953 yılıydı.
B) O çardakla barakanın yanında, içinde kocaman kırmızı balıkların yüzdüğü derin bir kuyu vardı.
C) Kapısında güvenlik görevlilerinin bulunduğu yeni moda sitelerin birinde; sessiz sakin, huzur içinde yaşamaktayım.
D) Sobalarda yakılan odun kokusu; insana, sığınacağı bir evi olmanın mutluluğunu hissettirirdi.
E) Sabaha karşı ağaçlı ve dolambaçlı bir yolda arabayla ilerlerken farlarımız, önümüzdeki çayırı olduğu gibi aydınlatıyordu.

11. North Carolina Üniversitesinde yapılan bir araştırma, çocukların yeni besinlerle tanışmayı reddetmesinde tabaklarında hangi yemeğin olduğundan çok, kalıtsal özelliklerinin etkili olduğunu ortaya koyuyor.

Bu parçadaki altı çizili sözcüklerin yapısıyla ilgili olarak aşağıdakilerin hangisi söylenemez?

- A) I. sözcük, sıfat-fiil eki almıştır.
B) II. sözcük, hem yapım hem de çekim eki almıştır.
C) III. sözcük, ses türemesi olmuş bir sözcüktür.
D) IV. sözcük, isimden fiil yapma eki almıştır.
E) V. sözcük, birleşik fiildir.

12. Aşağıdakilerin hangisinde bir isim tamlaması, bir sıfat-fiil grubunun içinde yer almamıştır?

- A) Taşların kovuklarında bitmiş sarı çiçekleri koparıp ayaklarımın altından geçen suya atıyor, dalgın dalgın düşünüyordum.
- B) Kocaman bir ekin yığınının yanında çalışan ihtiyar kadınla uzun uzun konuştum.
- C) Kilo vermenin yolunu bıkmadan usanmadan arayanlar gibi ben de zaman zaman bu uğurda sağlığımı tehlikeye attım.
- D) Sabah odaya girdiğimde yatağın yanına düşmüş bir kâğıt parçası dikkatimi çekti.
- E) Bir çengelli iğne ile iliştirilmiş kırmızı yün atkıyı çıkardı, askıya asıp içeri geçti.

13. Film, öyküyü göstermenin farklı yollarını ararken yeni

imajlar oluşturur. Başlangıçta bir yüzü aydınlatır, sonra I bir çalılığ, sonra arka plan ve sonra tekrar yüzü II aydınlatır; âdeta bir otomatik dikkat söz konusudur. III

Film bir kaç saniyeliğine bir şeye göz diker, sonra başka IV imgelere odaklanır. V

Bu parçadaki numaralandırılmış sözlerden hangisinin yazımı yanlıştır?

- A) I B) II C) III D) IV E) V

- 14.** (I) Demir kapıdan içeri girdik; ağaçlarla çevrili apartmanın girişinde küçük, beyaz perdeli bir dükkâna yaklaştık. (II) Dışarıdan bir resim atölyesi, üstelik Türk sanatının en eski ustalarından birinin atölyesi gibi görünmüyordu. (III) Acaba doğru yere mi geldik diye düşündük? (IV) İçeri girince mütevazı, sevimli, dört bir yanı rengârenk tablolarla çevrilmiş bir atölye ile karşılaştık. (V) Duvarda asılı Afrika maskı, ilk dikkatimizi çeken görüntü oldu.

Bu parçadaki numaralandırılmış cümlelerin hangisinde bir noktalama yanlışı vardır?

- A) I B) II C) III D) IV E) V

- 15.** Okyanusların dibi, çok soğuk ve karanlık olduğundan canlıların yaşamı için uygun değildir. Ancak okyanusların tabanındaki bazı yerlerde sıcak su bacaları bulunur. Büyük Okyanus'ta 2.400 metre derinlikte yapılan ölçümler, su bacalarının çıkış noktasında sıcaklığın 382 dereceye kadar çıkabildiğini gösteriyor. Çıkış noktasından uzaklaştıkça sıcaklığın canlı yaşamına elverişli hâle geldiği biliniyor. Sıcak su bacaları, yararlı kimyasal maddelerin salınmasını sağlayarak bazı canlı türleri için eşsiz bir yaşam alanı oluşturuyor. Nitekim son yıllarda yapılan araştırmalar, sıcak su bacalarının bulunduğu bölgelerde çok sayıda yeni canlı türünün var olduğunu gösteriyor.

Bu parçanın konusu, aşağıdakilerin hangisinde en doğru biçimde verilmiştir?

- A) Sıcak su bacalarındaki sıcaklık düzeyi
- B) Okyanuslardaki özel yaşam alanları
- C) Sıcak su bacalarının, ekosisteme etkisi
- D) Okyanuslarda yeni canlıların keşfi
- E) Sıcaklığın, canlıların yaşam koşullarına etkisi

16. Yazarın bu eseri, daha sonraki kitaplarının çekirdeğini oluşturuyor bence. Soluk soluğa yazılmış gibi özlü hatta şifreli bir mektup. Bir ders kitabı kadar net, bir günlük kadar gizemli.

Bu parçada, sözü edilen eserle ilgili olarak aşağıdakilerden hangisine ulaşılabılır?

- A) Çok kısa sürede ve kolaylıkla yazıldığına
- B) Günlük dilden uzak, ağır bir dili olduğuna
- C) Konularında tekrara düşüldüğüne
- D) Yazarın diğer eserlerine kaynaklık ettiğine
- E) Öğreticiliğin ön plana çıktığına

17. Televizyon ve *İnternet*'in, edebiyatı da şekillendirdiği yadsınamaz bir gerçek. Teknolojinin sunduğu görsellik, kitlelerin düşünme biçimlerini doğrudan etkiliyor çünkü. Üretilen metinler de kısa, basit içerikli ve somut biçimde sunuluyor. Anlatılan her şeyi; renk, biçim ve boyutlarıyla karşısında bulmaya alışan insanlara kitap sayfaları arasında soyut yolculuklar yapmak ağır geliyor. Bu dönüşüm sadece okurlarda değil, yazarlarda da görülüyor. *Huzur*'u, *Yalnızız*'ı, *Tutunamayanlar*'ı anlayacak okuyucu bulmak kadar Ahmet Hamdi Tanpınar, Peyami Safa, Oğuz Atay gibi yazarları bulmak da zorlaşıyor artık.

Bu parçadan aşağıdakilerin hangisi çıkarılamaz?

- A) Teknoloji kullanımı, kitap okumadaki gibi bir soyut düşünmeyi gerektirmektedir.
- B) Günümüzdeki edebî metinler, eskiye göre daha yüzeyseldir.
- C) Görsel kültürün oluşturduğu düşünme biçimi yazarları da etkilemektedir.
- D) Teknolojinin etkisiyle, daha önce yazılmış eserlerin anlaşılması zorlaşmaktadır.
- E) Edebî eserlerin değişiminde, kitle iletişim araçları önemli bir rol oynamaktadır.

18. Türk sinemasının en büyük isimlerinden olan sanatçı, sinema alanında elli yıldır ayakta durabilmeyi; nostalji kavramıyla uzaktan yakından hiçbir ilgisi olmayışına, geçmişte olan her şeyi kafasından silip atma eğilimine ve hep geleceğe dönük yaşamayı seçmesine bağlıyor. Ama yine de geçmişe bakmaktan, hatırladıklarını bizlerle ara ara paylaşmaktan kendisini alamıyor. İyi ki de öyle yapıyor. Ucundan bal damlayan kalemiyle hayatına yön veren insanları, sinemacı olarak yaşadıklarını anlatıyor tatlı tatlı. Türk sineması üzerine saptamalarda bulunuyor o kalender tavrıyla. Yeşilçam'ın ünlülerini ve adsız kahramanlarını, nice sanat ve edebiyat üstadını koluna takıp rengârenk bir yolculuğa çıkarıyor bizleri.

Bu parçayla ilgili olarak aşağıdakilerin hangisi söylenemez?

- A) Öznel yargılara yer verilmiştir.
- B) Konuşma havası içinde oluşturulmuştur.
- C) Devrik cümlelerden yararlanılmıştır.
- D) Deyim ve ikilemeler kullanılmıştır.
- E) Tanık göstermeye başvurulmuştur.

19. - 20. soruları aşağıdaki parçaya göre cevaplayınız.

(I) Her insan için bir ölçüde doğal karşılanabilecek unutkanlık, sürekli tekrarlanıyor ve günlük yaşamı belirgin bir biçimde etkiliyorsa hastalık hâline gelmiş demektir. (II) Yaş ilerledikçe daha çok görülen unutkanlık hastalığı, genç yaşlarda da ortaya çıkabilmektedir. (III) Erken yaşlardaki unutkanlıkların temelindeyse çoğunlukla psikolojik sorunlar yatmakta ama bazı vitamin eksiklikleri, guatr hastalığı veya beyin tümörleri gibi nedenler de unutkanlığa sebep olabilmektedir. (IV) Özellikle şehir yaşamında uyarınların fazla olmasının tetiklediği unutkanlık, iki farklı şekilde ortaya çıkmaktadır. (V) İlki; yeni bilginin, ilk anda önemsiz görülerek belleğe aktarılamaması veya orada saklanamaması durumudur. (VI) Diğeriyse belleğe aktarılan bilginin, yanlış veya eksik kodlanmasından dolayı geri çağırılma aşamasında ortaya çıkan unutkanlıktır. (VII) Bir kişinin; yeni tanıştığı insanların ismini hatırlayamaması birincisine, yıllardır tanıdığı birinin ismini, dilinin ucuna geldiği hâlde bir türlü söyleyememesi ise ikincisine örnektir.

19. Bu parçada aşağıdakilerin hangisine değinilmemiştir?

- A) Unutkanlık türlerinin nedenlerine
- B) Yaşam koşullarının unutkanlık üzerindeki etkisine
- C) Hangi durumlarda unutkanlığın bir hastalık olarak kabul edildiğine
- D) Gençlerin ruhsal durumlarının unutkanlıkta belirleyici olduğuna
- E) Yaşlı insanlarda unutkanlığı tetikleyen etkenlere

20. Aşağıdakilerden hangisi, bu parçada sözü edilen birinci ve ikinci tür unutkanlığın ortak özelliğidir?

- A) Gerek duyulduğunda bilgiye ulaşılabilmesi
- B) Bilginin belleğe kaydedilememesi
- C) Yeni bilgilerin önceki bilgilerle ilişkilendirilememesi
- D) Belli bir yaşa kadar ortaya çıkmaması
- E) Uzun süre kullanılan bilgilerin hatırlanamaması

21. - 22. soruları aşağıdaki parçaya göre cevaplayınız.

(I) Çok işimiz olduğunda ve zaman darlığı yaşadığımızda "Başımı kaşıyacak vaktim yok!" deriz. (II) Oysa bazı insanlar ne kadar yoğun olurlarsa olsun gün boyunca başını kaşıymaktan kendini alamaz. (III) Bir konuya odaklanmaya çalışırken durmadan başını kaşımak, saç derisiyle oynamak, dudaklarını ısırarak, tırnaklarını kemirmek bir alışkanlık hâline gelebilir. (IV) Genellikle sahibinden başkasına pek zarar vermediğinden dikkate alınmayan bu tür alışkanlıklar; tekrar edildiği ve fiziksel, psikolojik sorunlar oluşturduğunda hastalığa dönüşebilir. (V) Konuya ilişkin çok fazla araştırma bulunmamasıyla birlikte özellikle ikizler üzerinde gerçekleştirilen çalışmalar, bu hastalıkta kalıtımın % 40 oranında etkili olduğunu ortaya koymaktadır. (VI) Sorunun bilinirliğinin artması ve çözüm arayışlarının geliştirilmesi için yeni araştırmalara ihtiyaç duyulmaktadır.

21. Bu parçada anlatılan hastalıkla ilgili olarak aşağıdakilerin hangisine değinilmemiştir?

- A) İnsanların ruhsal durumlarını etkilediğine
- B) Sosyal ilişkilere zarar verdiğine
- C) Biyolojik faktörlerin etkisinin bulunduğu
- D) İnsanlar tarafından yeterince farkına varılmadığına
- E) Hangi durumlarda ortaya çıktığına

22. Bu parçadaki numaralandırılmış cümlelerin hangisinde neden-sonuç ilişkisi vardır?

- A) II B) III C) IV D) V E) VI

23. - 24. soruları aşağıdaki parçaya göre cevaplayınız.

(I) Türk mitolojisinde kaplumbağanın kubbe şeklini andıran sırtı, göğü ve alt kısmıysa yeryüzünü işaret etmektedir. (II) Böylece kaplumbağa, bir su üzerinde bulunan yer yüzüyle onun üzerindeki göğü temsil eden bir simge olmuştur. (III) Bu kozmolojik tasarıma göre kutlu bir hayvan sayılan kaplumbağa, aynı zamanda astrolojik bir simgedir. (IV) Onun dört ayağının birbirini izleyişi, dört mevsimin ahenkli bir biçimde birbirini takip edişine benzetilir. (V) Kabuğunun üzerindeki desen, kuzey gök yarım küresindeki bir yıldız grubuna işaret eder; sol gözü Güneş'i, sağ gözüyse Ay'ı temsil eder. (VI) Bütün kabuklu hayvanların reisi sayılan kaplumbağa, kışın hareketsiz kaldığı ve yazın kabuğunu değiştirip kabuğundan dışarı çıktığı için uzun ömrün ve sabrın simgesi sayılır. (VII) Uzun ömürlü oluşu ve sabrından dolayı da gücün, refahın, barışın ve mutluluğun bir işareti olarak görülür.

23. Bu parçaya göre kaplumbağayla ilgili olarak aşağıdakilerden hangisi söylenemez?

- A) Hayvanlar içerisinde özel bir yeri olduğu düşünülmektedir.
- B) Hareketi ve yaşayışı, mevsimlerin nasıl geçeceğini göstergesidir.
- C) Hem toplumsal hem de bireysel değerlerle ilişkilendirilmektedir.
- D) Fiziksel özelliklerinin, astrolojide karşılıkları bulunmaktadır.
- E) Birden fazla alanda simgesel özellikler taşımaktadır.

24. Bu parçadaki numaralandırılmış cümlelerin hangilerinde, kaplumbağanın temsil ettiği soyut kavramlardan söz edilmiştir?

- A) I ve II
- B) II ve IV
- C) IV ve V
- D) V ve VI
- E) VI ve VII

25. - 27. soruları aşağıdaki parçaya göre cevaplayınız.

(I) Günümüzde bir ülkedeki bilgisayar sistemlerinin binlerce kilometre uzaktan bile devre dışı bırakılması hiç de zor değil; bunun için sadece birkaç yüz siber savaşçıya, yeterli donanıma ve *İnternet* bağlantısına ihtiyaç var. (II) Siber saldırıya geçenler, ülkelerinden ne kadar uzakta olursa olsun, başka ülkelerden bilgisayarları esir alabiliyor ve saldırıları bu bilgisayarlar üzerinden yine başka ülkelerdeki bilgisayarlar üzerinde gerçekleştiriyor. (III) Bu nedenle siber saldırıların kaynağının tespit ve ispat edilmesi daha da zorlaşıyor hatta bazen imkânsız hâle geliyor. (IV) İyi planlanmış bir siber saldırının yapacağı yıkımın, en az klasik bir savaşınki kadar büyük olacağı da ne yazık ki bir gerçek. (V) Siber saldırı, saldıran taraf açısından son derece düşük, saldırıya maruz kalan taraf açısından ise son derece yüksek bir maliyet ortaya çıkıyor. (VI) Böyle bir teknolojik savaşta büyük kayıplar yaşanmaması için uluslararası savaş hukukunun bir an önce güncellenerek savunma amaçlı olmayan siber saldırıların bütün ülkeler tarafından yasaklanması gerekiyor. (VII) Ayrıca, ülkelerin korunma amaçlı siber ordular kurması, bilgisayar sistemlerini ve koruma programlarını daha güvenli hâle getirmesi bekleniyor.

25. Bu parçaya göre aşağıdakilerin hangisi, siber saldırıların özelliklerinden biri değildir?

- A) Saldıranın kimliğini gizleyebilmesi
- B) Dünyanın her yerinden yapılabilmesi
- C) Toplumsal yaşamı derinden etkileyebilmesi
- D) Küçük bütçelerle gerçekleştirilebilmesi
- E) Sonuçlarının kısa bir sürede görülebilmesi

26.

- I. Yerel bilgisayar sistemleri kullanma
- II. Büyük bir bütçe ayırma
- III. Yasal düzenlemeler yapma
- IV. Savunma grupları oluşturma

Bu parçaya göre, siber saldırılardan korunmak için yukarıdaki önlemlerden hangilerine başvurulmalıdır?

- A) Yalnız I
- B) I ve II
- C) I ve III
- D) II ve IV
- E) III ve IV

27. Bu parçadaki numaralandırılmış cümlelerin hangisinde bir karşılaştırma yapılmamıştır?

- A) II
- B) III
- C) IV
- D) V
- E) VII

28. - 30. soruları aşağıdaki bilgilere göre birbirinden bağımsız olarak cevaplayınız.

Ahmet, Hasan ve Zafer isimli üç kişi; A, B, C, D, E ve K vitamin değerlerinin tamamını ölçtürmüşlerdir. Vitaminlerin değer sonuçları "yüksek", "normal" ve "düşük" olmak üzere sınıflandırılmıştır. Bu üç kişinin vitamin değeri sınıflandırmalarıyla ilgili olarak bazı bilgiler şöyledir:

- Ahmet'in dört vitamin değeri yüksek, iki vitamin değeri ise normaldir.
- A vitamini herkeste aynı değerde ölçülmüştür.
- Ahmet'in yüksek olan vitamin değerlerinden biri, diğerlerinde normaldir.
- İki kişinin E ve K vitamin değeri düşüktür.
- Hasan'ın yalnızca bir vitamin değeri normaldir.
- B vitamini yüksek değerde olan iki kişiden biri Zafer'dir.

28.

- A
- B
- C

Hasan için yukarıdaki vitaminlerden hangileri normal değerde olabilir?

- A) Yalnız I B) Yalnız II C) Yalnız III
D) I ve II E) II ve III

29. C vitamini sadece Zafer'de normal değerde ölçülmüşse aşağıdakilerden hangisi kesinlikle doğrudur?

- A) Hasan'ın D vitamin değeri normaldir.
B) Ahmet'in E vitamin değeri yüksektir.
C) Hasan'ın C vitamin değeri düşüktür.
D) Ahmet'in normal değerde ölçülen vitaminlerinden biri K'dir.
E) Zafer'in D vitamin değeri yüksektir.

30. Hasan ve Zafer'in sadece iki vitamin değeri düşüğe aşağıdakilerden hangisi yanlıştır?

- A) Hasan'ın C vitamin değeri normalse D vitamin değeri yüksektir.
B) Zafer'in D vitamin değeri yüksekse Ahmet'in C vitamin değeri yüksektir.
C) Ahmet'in D vitamin değeri normalse Zafer'in C vitamin değeri normaldir.
D) Ahmet'in C vitamin değeri normalse Hasan'ın D vitamin değeri yüksektir.
E) Zafer'in C vitamin değeri yüksekse Hasan ve Zafer'in tüm vitamin değerleri aynıdır.

31.

$$\frac{3 \cdot \left(2 - \frac{5}{6}\right)}{4 \cdot \left(2 - \frac{7}{8}\right)}$$

işleminin sonucu kaçtır?

A) $\frac{7}{11}$

B) $\frac{9}{11}$

C) $\frac{7}{9}$

D) $\frac{10}{9}$

E) $\frac{13}{9}$

32.

$$\frac{1+10+100+1000}{0,001+0,01+0,1+1}$$

işleminin sonucu kaçtır?

A) 10^7

B) 10^6

C) 10^5

D) 10^4

E) 10^3

33.

$$\frac{2^5 + 2^6 + 2^7 + 2^8}{2^{-5} + 2^{-6} + 2^{-7} + 2^{-8}}$$

işleminin sonucu kaçtır?

A) 2^7

B) 2^{11}

C) 2^{13}

D) 2^{-9}

E) 2^{-12}

34.

$$\frac{(4!)^2 + (3!)^2}{(4!)^2 - (3!)^2}$$

işleminin sonucu kaçtır?

A) $\frac{19}{15}$

B) $\frac{17}{15}$

C) $\frac{13}{15}$

D) $\frac{19}{12}$

E) $\frac{13}{12}$

35. $|3 - |x - 2|| = 3$

eşitliğini sağlayan x değerlerinin toplamı kaçtır?

- A) 6 B) 4 C) 2 D) -8 E) -10

36. $\frac{a^4 - ab^3}{a^2 + ab + b^2} \cdot \frac{(a+b)^2}{a^4 - b^4}$

ifadesinin sadeleştirilmiş biçimi aşağıdakilerden hangisidir?

A) $\frac{a-b}{(a+b)^2}$

B) $\frac{a-1}{(a+b)^2}$

C) $\frac{b(a-b)}{a^2 + b^2}$

D) $\frac{a(a+b)}{a^2 + b^2}$

E) $\frac{a^2 + b}{a^2 + b^2}$

37. Pozitif gerçel sayılar kümesi üzerinde \square ve Δ işlemleri

$$x \square y = x \cdot y + x$$

$$x \Delta y = \frac{x}{y} + y$$

biçiminde tanımlanıyor.

$$a \square (a \Delta 2) = 8$$

olduğuna göre, a kaçtır?

A) $\frac{1}{3}$

B) $\frac{2}{3}$

C) 1

D) 2

E) 3

38. İki gerçel sayının çarpımı, bu sayılardan birine 2 eklenip diğerinden 2 çıkarılmasıyla elde edilen sayıların çarpımından 6 fazladır.

Buna göre, sayı doğrusu üzerinde bu iki sayı arasındaki uzaklık kaçtır?

A) 5

B) 4

C) 3

D) 2

E) 1

39. Pozitif tamsayılarla yapılan bir bölme işleminde bölen, bölümün iki katından bir fazladır.

Bu bölme işleminde kalan 11 olduğuna göre, bölünen sayı en az kaçtır?

- A) 89 B) 87 C) 85 D) 83 E) 81

40. x, y, z gerçel sayıları için

$$xy^3z^5 > 0$$

eşitsizliği veriliyor.

Buna göre,

I. $x > 0$ ve $y < 0$ ise $z > 0$

II. $x < 0$ ve $z < 0$ ise $y > 0$

III. $y > 0$ ve $z < 0$ ise $x < 0$

önergelerinden hangileri doğrudur?

- A) I ve II B) II ve III C) Yalnız I
D) Yalnız II E) Yalnız III

41.
$$\frac{1}{2+\sqrt{3}} + \frac{1}{\sqrt{3}+\sqrt{2}} + \frac{x}{\sqrt{2}+1} = 2$$

olduğuna göre, x kaçtır?

- A) $1+\sqrt{2}$ B) $1+2\sqrt{2}$ C) $2+\sqrt{2}$
D) $2+\sqrt{3}$ E) $3\sqrt{2}$

42. 311 metre uzunluğundaki boş bir çıkmaz sokağın sadece bir yanına, aşağıdaki özelliklere uyacak biçimde ve mümkün olan en çok sayıda özdeş evler inşa ediliyor.

- Evlerin her biri 8 metre genişliğindedir.
- Evlerin aralarında üçer metre boşluk vardır.
- Sokaktaki ilk evin, sokağın girişine olan uzaklığı 4 metredir.
- Sokağın girişinden başlayarak ilk beş ev, sırasıyla kırmızı, kırmızı, beyaz, beyaz, mavi renk ile boyanıyor. Sıradaki diğer evler de aynı renk düzeni ile boyanıyor.

Buna göre, sokağa kaç tane beyaz boyalı ev inşa edilmiştir?

- A) 15 B) 14 C) 13 D) 12 E) 11

43. Bir kumbarada; birisi küçük, diğeri büyük boyutlu madenî paralar için hazırlanmış iki adet bozuk para atma bölümü bulunmaktadır. Bu kumbarayla ilgili olarak aşağıdakiler bilinmektedir.

- Küçük bölüme atılan her bir para için 1 bip sesi, büyük bölüme atılan her bir büyük boyutlu para için 2 bip sesi duyuluyor.
- Küçük bölüme atılması gereken bir para büyük bölüme atılırsa bip sesi duyulmuyor.
- Kumbaraya toplam 30 adet bozuk para atılıyor ve 23 kez bip sesi duyuluyor.

Buna göre, bu kumbaraya bip sesi duyulmadan en çok kaç adet bozuk para atılmış olabilir?

- A) 10 B) 12 C) 14 D) 16 E) 18

44. X ve Y sıvılarından oluşan bir karışımın bulunduğu bir kaptan, sadece X sıvısını hacim kaybı olmadan ayırıştırarak başka bir kaba aktaran bir düzenek kuruluyor. Bu düzenek sabit hızla 2 dakikada 10 mililitre

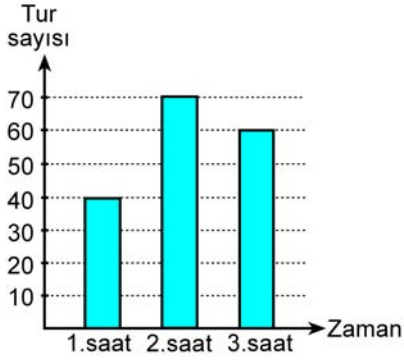
X sıvısını ayırıştırıyor. Hacimce $\frac{3}{5}$ 'i Y sıvısı olan bu

karışımındaki X sıvısı 1 saatte tamamen ayırıştırılarak diğerkaba aktarılıyor.

Buna göre, karışımındaki Y sıvısı miktarı kaç mililitredir?

- A) 475 B) 450 C) 400 D) 385 E) 360

45. Üç saat süren bir yarışta, bir otomobilin her bir saatlik zaman diliminde tamamladığı tur sayıları aşağıdaki grafikte verilmiştir.



Bu otomobil, yarışın son bir saatinde sabit hızla ilerlediğine göre, yarışın başlangıcından 135 dakika sonra toplam kaç tur tamamlamıştır?

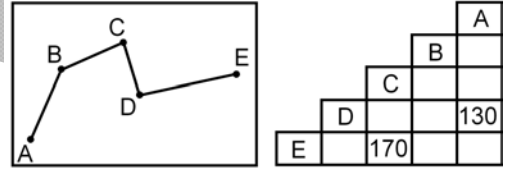
- A) 125 B) 130 C) 145 D) 150 E) 170

46. Bir bahçıvan, sulama havuzunda bulunan suyun birinci gün yarısını, ikinci gün kalanın yarısını ve bu biçimde devam ederek 5. gün de bir önceki günden kalanın yarısını kullandığında havuzda 5 litre su kalıyor.

Buna göre, başlangıçta havuzda kaç litre su vardır?

- A) 150 B) 156 C) 158 D) 160 E) 164

47. Aşağıda A, B, C, D ve E şehirlerinden geçen yol hattı gösterilmiş ve bu yol hattına göre şehirler arasındaki bazı uzaklıklar kilometre olarak tabloda verilmiştir.

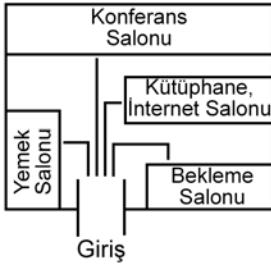


D ile E şehirleri arasındaki uzaklık, A ile C şehirleri arasındaki uzaklığın 2 katından 20 km eksiktir.

Buna göre, A ile E şehirleri arasındaki uzaklık kaç km'dir?

- A) 230 B) 235 C) 240 D) 245 E) 250

48. Aşağıda etkinlik düzenlenen bir binadaki dört salon ve bu salonlara giden yollar gösterilmiştir.

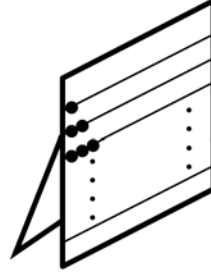


Binanın girişinden itibaren salonlara giden yolların takip edilebilmesi için önceden belirlenmiş 6 farklı renk arasından seçim yapılarak her bir yol farklı bir renge boyanacaktır.

Bu boyama işlemi kaç farklı biçimde yapılabilir?

- A) 120 B) 180 C) 240 D) 320 E) 360

- 49.



Bir usta, yarıçapı 0,5 cm olan küre biçiminde özdeş boncuklar kullanarak her bir telinin uzunluğu 30 cm olan bir abaküs yapıyor. Bu usta; abaküsün en üst teline 1, altındaki tele 2, onun altındaki tele ise 3 boncuk yerleştiriyor. Bu biçimde devam ederek daha sonra gelen her bir tel için boncuk sayısını birer artırıyor. En son telde, boncuklar arasında boşluk kalmayacak biçimde telin yarısına kadar boncuk diziyor ve abaküsü tamamlıyor.

Buna göre, abaküste toplam kaç boncuk vardır?

- A) 110 B) 115 C) 120 D) 125 E) 130

50. - 52. soruları aşağıdaki bilgilere göre birbirinden bağımsız olarak cevaplayınız.

Bir oyun parkındaki heyecan treninde, 1'den 50'ye kadar numaralanmış ve yan yatma özelliğine sahip koltuklar bulunuyor. Bu trenin parkurdaki birinci turunda sadece 1 numaralı koltuk yan yatıyor. İkinci turda numarası 2'nin tam katı olan tüm koltuklar yan yatıyor. Üçüncü turda numarası 3'ün tam katı olan tüm koltuklar yan yatıyor. Tren bu biçimde devam ederek 20. tur sonunda yolcularını indiriyor. Her bir tur sonunda ise yan yatan koltuklar normal konumlarına geri geliyor.

50. Buna göre, 20. tur sonunda kaç koltuk sadece bir kez yan yatmıştır?

- A) 10 B) 9 C) 7 D) 6 E) 5

51. Buna göre, 18 ve 24 numaralı koltuklar kaç turda aynı anda yan yatmıştır?

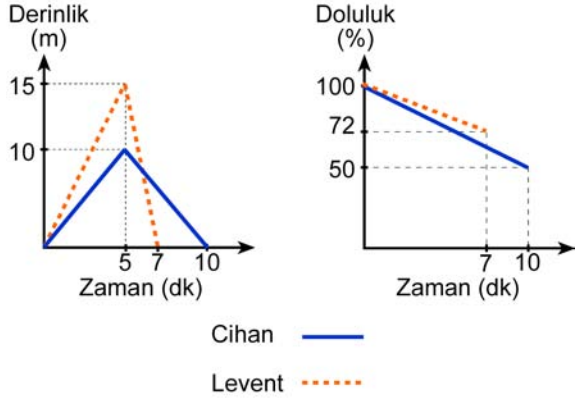
- A) 7 B) 6 C) 5 D) 4 E) 3

52. Aşağıda numarası verilmiş olan koltuklardan hangisi, 20. tur sonunda, sayıca diğerlerinden daha fazla yan yatmıştır?

- A) 45 B) 42 C) 40 D) 36 E) 30

53. - 55. soruları aşağıdaki bilgilere göre birbirinden bağımsız olarak cevaplayınız.

Özdeş oksijen tüpleri kullanan Cihan ve Levent isimli dalgıçların denizde buldukları derinliğin zamana göre değişimi ve oksijen tüplerinin doluluk yüzdelerinin zamana göre değişimi aşağıdaki doğrusal grafiklerde verilmiştir.



53. Levent, 15 metre derinlikte iken oksijen tüpünün yüzde kaçını kullanmıştır?

- A) 22 B) 20 C) 18 D) 16 E) 14

54. 4. dakika sonunda Levent, Cihan'a göre kaç metre daha derindedir?

- A) 3,5 B) 4 C) 4,5 D) 5 E) 5,5

55. Buna göre,

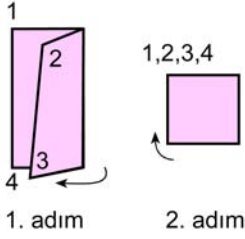
- I. Levent'in dalış hızı çıkış hızından büyüktür.
 II. Cihan, Levent'ten daha çok oksijen tüketmektedir.
 III. Cihan ile Levent'in dalış hızları arasındaki fark 1 m/dk'dır.

ifadelerinden hangileri doğrudur?

- A) Yalnız I B) Yalnız II C) II ve III
 D) I ve II E) I ve III

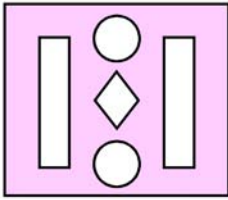
56. - 57. soruları aşağıdaki bilgilere göre birbirinden bağımsız olarak cevaplayınız.

Aşağıda; köşelerine 1, 2, 3 ve 4 numaraları verilen kare biçimindeki bir kâğıdın iki adımda dörde katlanması gösterilmektedir.

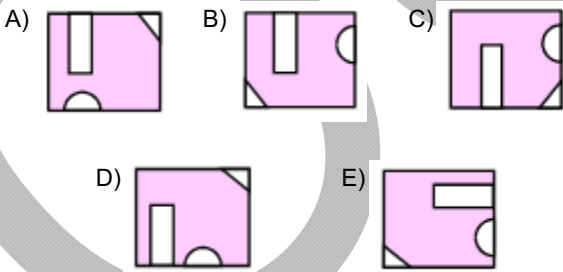


- Birinci adımda kâğıt sağdan sola, ikinci adımda ise aşağıdan yukarıya katlanıyor. Böylece 1, 2, 3 ve 4 numaralı köşeler çakıştırılıyor.
- Daha sonra kâğıdın konumu değiştirilmeden bazı parçalar kesilerek çıkarılıyor.


56. Kesilen parçalar çıkarıldıktan sonra kâğıt, konumu değiştirilmeden katlandığı yerlerden tamamen açılıyor ve aşağıdaki görünüm elde ediliyor.



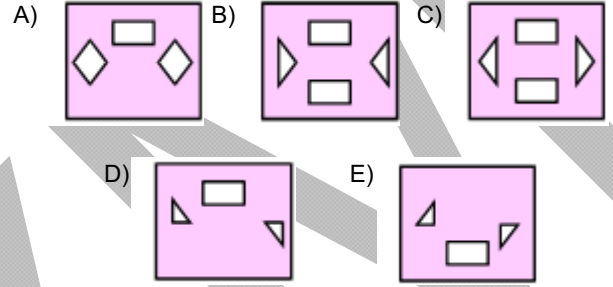
Buna göre, kâğıdın açılmadan önceki biçimi aşağıdakilerden hangisidir?



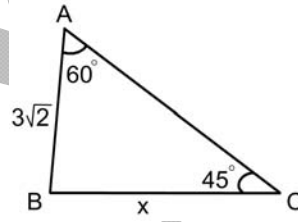
57. İkinci adımdan sonra kâğıt, konumu değiştirilmeden aşağıdaki gibi kesiliyor.



Buna göre, kesildikten sonra konumu değiştirilmeden katlandığı yerlerden tamamen açılan bu kâğıdın görünümünü aşağıdakilerden hangisidir?



58.

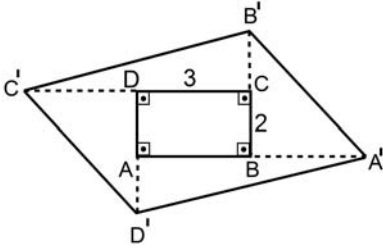


ABC bir üçgen
 $m(\widehat{ACB}) = 45^\circ$
 $m(\widehat{BAC}) = 60^\circ$
 $|AB| = 3\sqrt{2}$ birim
 $|BC| = x$

Yukarıdaki verilere göre, x kaç birimdir?

- A) $3\sqrt{3}$ B) $2\sqrt{2}$ C) $2\sqrt{6}$
 D) $\frac{2\sqrt{3}}{3}$ E) $\frac{5\sqrt{2}}{3}$

59.



Kenar uzunlukları 2 cm ve 3 cm olan ABCD dikdörtgeninde

- A noktasının B noktasına göre simetriği alınarak A' noktası
- B noktasının C noktasına göre simetriği alınarak B' noktası
- C noktasının D noktasına göre simetriği alınarak C' noktası
- D noktasının A noktasına göre simetriği alınarak D' noktası

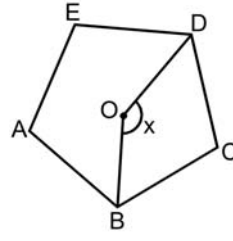
elde ediliyor.

A', B', C' ve D' noktalarının birleştirilmesiyle $A'B'C'D'$ dörtgeni oluşturuluyor.

Buna göre, $A'B'C'D'$ dörtgeninin alanı kaç cm^2 dir?

- A) 30 B) 28 C) 24 D) 18 E) 16

60.



ABCDE düzgün beşgen

$$m(\widehat{BOD}) = x$$

O noktası, beşgenin köşelerinden geçen bir çemberin merkezi olduğuna göre, x kaç derecedir?

- A) 110 B) 128 C) 136 D) 144 E) 152

1. Bu testte 60 soru vardır.

2. Cevaplarınızı, cevap kâğıdının Genel Kültür Testi için ayrılan kısmına işaretleyiniz.

1. Orta Asya'da kurulan ilk Türk devletleriyle ilgili olarak,

- I. Ülke; töre adı verilen, yazılı olmayan hukuk kurallarına göre yönetilmiştir.
- II. Toprak, yurt olarak adlandırılmıştır.
- III. Hükümdara devlet yönetimiyle ilgili konularda yardımcı olmak üzere danışma meclisleri kurulmuştur.

yargılarından hangileri doğrudur?

- A) Yalnız I B) Yalnız III C) I ve II
D) II ve III E) I, II ve III

2. Kayseri'deki Gevher Nesibe Hatun, Aksaray'daki Alaeddin Keykubat ve Divriği'deki Turan Melek adlı Türkiye Selçuklular Dönemi'ne ait eserler aşağıdaki yapı türlerinden hangisine girer?

- A) Kervansaray B) İmarethane
C) Darüşşifa D) Medrese
E) Külliye

3. Anadolu'da kurulan ilk beyliklerden biri olan ve 1072-1202 yılları arasında Erzurum ve çevresinde hüküm süren; Üç Kümbetler ve Mama Hatun Türbesi gibi eserleri günümüze ulaşan beylik aşağıdakilerden hangisidir?

- A) Danişmentliler B) Saltuklular
C) Artuklular D) Mengücekerler
E) Sökmenliler

4. Osmanlı Beyliği'nin Rumeli'ye geçişinde aşağıdakilerden hangisi etkili olmamıştır?

- A) Bizans İmparatorluğu'ndaki taht mücadeleleri
B) Karesioğulları Beyliği'nin Osmanlı egemenliğine geçmesi
C) Karamanoğulları Beyliği'nin desteği
D) Gaza düşüncesi ile hareket edilmesi
E) Uçlarda Bizans İmparatorluğu'na en yakın bölgede bulunması

5. Osmanlı Devleti'nin kuruluş ve yükseliş döneminde oluşturduğu kültürde;

- I. Orta Asya Türklerinin,
- II. Müslümanların,
- III. fethedilen yerlerin ahalisinin

yaşam tarzı ve inanışlarından hangilerinin etkili olduğu savunulabilir?

- A) Yalnız I B) Yalnız II C) Yalnız III
D) I ve II E) I, II ve III

6. Osmanlı Devleti'nde Divanühümayun'un üyelerinden reisülküttap, zamanla aşağıdakilerden hangisine dönüşmüştür?

- A) Hariciye nazırı B) Maarif nazırı
C) Maliye nazırı D) Serasker
E) Dahiliye nazırı

7. Osmanlı Devleti'nde esnaf teşkilatının usta sayısını sınırlı tutmasının nedeni aşağıdakilerden hangisidir?

- A) İhracatın teşvik edilmesi
- B) Ürün arzının talebe göre ayarlanması
- C) Para ekonomisine kısa zamanda geçilmek istenmesi
- D) Tarım ürünlerinin ön plana çıkarılması
- E) Askerlik hizmetinin gözetilmesi

8. Osmanlı toplumunda uzun yıllar Millet-i Sadıka olarak bilinen Ermeni toplumunun isteklerinin zamanla bir soruna dönüşmesinde aşağıdakilerden hangisinin etkili olduğu savunulamaz?

- A) Avrupa devletlerinin kışkırtmacı politikası
- B) Fransız ihtilaliyle gelişen milliyetçilik düşüncesi
- C) Balkanlarda oturan Hristiyan toplulukların bağımsızlıklarını kazanması
- D) Rusya ve İngiltere'nin, Ermenilerle ilgili ıslahat yapılması için Osmanlı Devleti'ne baskı yapması
- E) Osmanlı Devleti'nin, Osmanlıcılık fikrini uygulamaya koyması

9. Aşağıdaki padişah - gerçekleştirdiği yenilik eşleştirmelerinden hangisi yanlıştır?

- A) III. Selim - Nizam-ı Cedid
- B) II. Mahmut - Sened-i İttifak
- C) Abdülmecit - Tanzimat Fermanı
- D) Abdülaziz - Islahat Fermanı
- E) II. Abdülhamit - Kanunuesasi

10. II. Mahmut Dönemi'nde eğitim alanında gerçekleştirilen yeniliklerden bazıları şunlardır:

- Medresenin yanında modern askerî ve sivil okullar açıldı.
- İstanbul'da kız ve erkek çocuklara ilköğretim zorunlu hâle getirildi.
- Yurt dışına öğrenci gönderilmeye devam edildi.

Yalnız bu bilgilerle II. Mahmut Dönemi ile ilgili olarak aşağıdakilerden hangisi savunulamaz?

- A) Okuryazarlık oranında artış olmuştur.
- B) Eğitimde ikilik ortaya çıkmıştır.
- C) Karma eğitime geçilmiştir.
- D) Batıdan yeni yöntem ve kurumlar alınmıştır.
- E) Orduda yenileşme süreci hızlanmıştır.

11. Osmanlı Devleti'nde XIX. yüzyılda savunulan İslamcılık fikriyle ilgili olarak aşağıdakilerden hangisi söylenemez?

- A) Devletin bütünlüğünün dinî esaslara uyulmakla sağlanacağı fikrini savunmuştur.
- B) Din ve ümmet birdir, düşüncesiyle halifelik makamı ön plana çıkarılmıştır.
- C) Osmanlıcılık fikrinin uygulanamayacağı düşüncesiyle gündeme gelmiştir.
- D) II. Abdülhamit Dönemi'nde devlet politikası hâline gelmiştir.
- E) I. Meşrutiyet'in ilanı ile etkisini yitirmiştir.

12. Osmanlı Devleti'nde XX. yüzyılın başlarında görülen;

- I. İkinci Meşrutiyet'in ilanı,
- II. Babıali Baskını,
- III. 31 Mart Vakası

olaylarının kronolojik sıralaması aşağıdakilerden hangisidir?

- A) I, II, III B) I, III, II C) II, I, III
D) III, I, II E) III, II, I

13. Mondros Ateşkes Anlaşması'nın 7. maddesine işlerlik kazandırmak amacıyla;

- I. Mavri Mira,
- II. Pontus Rum,
- III. Hürriyet ve İtilaf,
- IV. İngiliz Muhipleri

kuruluşlarından hangileri, fiili hareketlerde bulunmuştur?

- A) I ve II B) II ve IV C) III ve IV
D) I, II ve III E) II, III ve IV

14.

- Mustafa Kemal ve Kongre liderlerinin tutuklanması için Ali Galip'in görevlendirilmesi
- İngilizlerin, Anadolu'da kendileri için tehlikeli gördükleri stratejik mevkiileri işgal etmesi
- Ankara Valisi Muhittin Paşa'nın, Kongreyi engellemek ve Mustafa Kemal ile arkadaşlarını tutuklamakla görevlendirilmesi

Damat Ferit Hükümeti, bu önlemleri aşağıdaki kongrelerden hangisini engellemek amacıyla uygulamaya koymuştur?

- A) Erzurum B) Pozantı C) Alaşehir
D) Balıkesir E) Sivas

15. İzmir'in Yunan askerleri tarafından işgal edilmesinin öncelikle aşağıdakilerden hangisine neden olduğu savunulabilir?

- A) Müdafaa-i Hukuk Cemiyetlerinin birleştirilmesine
B) İsmet Paşa'nın Batı Cephesi komutanlığına atanmasına
C) Redd-i İlhak Cemiyeti'nin kurulmasına
D) Tekâlif-i Milliye Emirlerinin yayımlanmasına
E) Hıyanet-i Vataniye Kanunu'nun çıkarılmasına

16. TBMM'nin birinci döneminde milletvekilleri sekiz ay maaşsız çalışmışlar, bir yıl sonra da 100 lira olan maaşlarının % 20'sini, bütçe açığını kapatmak amacıyla iade etmişlerdir.

Bu durumun, aşağıdakilerden hangisini gösterdiği savunulabilir?

- A) Ülke çıkarlarını her şeyin üstünde gördüklerini
B) TBMM'nin, farklı düşüncedeki kişilerden oluştuğunu
C) Kişisel çıkar ve ideolojilerin ön planda tutulduğunu
D) TBMM'nin üstünde bir gücün tanınmadığını
E) Anayasal düzenin uygulanmaya başladığını

17. Aşağıdakilerden hangisi, Yeni Türk Devleti'nin kuruluşuna işaret eden gelişme olarak kabul edilebilir?

- A) Takrir-i Sükûn Kanunu'nun çıkarılması
B) Halifeliğin kaldırılması
C) Başkomutanlık Kanunu'nun kabul edilmesi
D) TBMM'nin açılması
E) Tevhid-i Tedrisat Kanunu'nun çıkarılması

18. 24 Temmuz 1923'te imzalanan Lozan Barış Antlaşması'nda Türkiye'yi temsil eden delegasyonda yer alan kişiler aşağıdakilerden hangisinde birlikte verilmiştir?

- A) Kâzım Karabekir Paşa, Refet Bey, İsmet Paşa
- B) Fevzi Paşa, Rauf Bey, Rıza Nur Bey
- C) İsmet Paşa, Rıza Nur Bey, Hasan Bey
- D) Rıza Nur Bey, Bekir Sami Bey, Yusuf Hikmet Bey
- E) İsmet Paşa, Fevzi Paşa, Rauf Bey

19. Türkiye Cumhuriyeti'nde azınlıkların özel hukuk alanına ilişkin farklı konum ve durumlarını sona erdiren yasal düzenleme aşağıdakilerden hangisidir?

- A) Tevhid-i Tedrisat Kanunu
- B) Takrir-i Sükûn Kanunu
- C) Türk Medeni Kanunu
- D) Türk Ceza Kanunu
- E) Hıyanet-i Vataniye Kanunu

20. Aşağıdakilerden hangisiyle Türkiye Cumhuriyeti'nin, ekonomik ve mali bağımsızlığını sınırlandıran engellerden kurtulduğu savunulamaz?

- A) Türkiye Cumhuriyet Merkez Bankasının kurulmasıyla
- B) Tekâlif-i Milliye Emirlerinin yayımlanmasıyla
- C) Kapitülasyonların kaldırılmasıyla
- D) Düyun-ı Umumiye İdaresinin yetkisinin borçlarla sınırlandırılmasıyla
- E) Kabotaj Kanunu'nun kabul edilmesiyle

21. Atatürk, vasiyetinde Türkiye İş Bankasında kendisine ait hisse gelirlerinin bir kısmını Türk Tarih Kurumu ve Türk Dil Kurumuna bırakmıştır.

Atatürk'ün, bu uygulamayla aşağıdakilerden hangisini amaçladığı savunulamaz?

- A) Kurumların maddi bağımsızlığını garanti altına almayı
- B) Bilimsel çalışmalar yapılmasına imkân sağlamayı
- C) Kurumların, varlıklarını uzun süre koruyabilmelerini
- D) Millî bilinç oluşumuna yönelik faaliyetleri desteklemeyi
- E) Kurumları siyasi iktidarın bir parçası hâline getirmeyi

22.

- I. Cumhuriyet Halk Partisi
- II. Terakkiperver Cumhuriyet Partisi
- III. Serbest Cumhuriyet Partisi

Yukarıdakilerden hangilerinin kuruluşunda Atatürk'ün rolü ve katkısı vardır?

- A) Yalnız I
- B) Yalnız II
- C) I ve II
- D) I ve III
- E) I, II ve III

23. 1929 yılından itibaren Türk-İngiliz ilişkileri;

- I. Almanya,
- II. İtalya,
- III. Fransa

devletlerinden hangilerinin, Orta Doğu'daki siyasi ve ekonomik nüfuzlarını artırma çabalarının etkisi altında gelişmiştir?

- A) Yalnız I
- B) Yalnız II
- C) Yalnız III
- D) I ve II
- E) II ve III

24. Aşağıdakilerden hangisi, Mustafa Kemal Atatürk'ün hayatını anlatan biyografik bir eserdir?

- A) Ankara
B) Tek Adam
C) Üç Devirde Bir Adam
D) Onlar da Çocuktu
E) Türk'ün Ateşle İmtihanı

25. Aşağıdakilerden hangisi, Demokrat Parti Dönemi'nde Atatürk ile ilgili olarak yapılan çalışmalardan biri değildir?

- A) Atatürk'ün hazineye devrettiği Atatürk Orman Çiftliği arazisinin parçalanmasını, yasayla önlemek
B) Atatürk aleyhine işlenen suçlara ilişkin özel bir yasa çıkarmak
C) Anıtkabir'i tamamlayarak Atatürk'ün naaşını buraya taşımak
D) Devlet dairelerine, yalnızca Atatürk'ün resminin asılmasını sağlayacak bir genelge yayımlamak
E) Atatürk'ün öngördüğü üniversiteyi, ona ithafen Erzurum'da kurmak

26. İkinci Dünya Savaşı'nın ardından;

- I. Almanya,
II. Kore,
III. Japonya

topraklarının hangilerinde farklı rejimlerle yönetilen iki ayrı devlet kurulmuştur?

- A) Yalnız I
B) Yalnız II
C) Yalnız III
D) I ve II
E) II ve III

27. 1950'li yılların başlarında Kıbrıs'ın Yunanistan'a bağlanması amacı ile Yorgo Grivas liderliğinde kurulmuş Rum örgütü aşağıdakilerden hangisidir?

- A) EOKA
B) IMRO
C) Mavri Mira
D) Etniki Eterya
E) Pontus

28. Kaynağını Batı ve Orta Torosların güney yamaçlarından alan akarsuların Akdeniz'e döküldükleri alanlarda büyük deltalar oluşmamıştır.

Bu durum, aşağıdakilerden hangisi ile açıklanabilir?

- A) Yatak eğimlerinin fazla olmasıyla
B) Rejimlerinin düzenli olmasıyla
C) Bitki örtüsünün tahrip edilmesiyle
D) Havzalarındaki kayaların litolojik özellikleriyle
E) Kıyıdaki derinliğin fazla olmasıyla

29. Türkiye'de farklı toprak türlerinin görülmesinde;

- I. iklimin çeşitlilik göstermesi,
II. farklı kayaların bulunması,
III. iki kıtada da arazisinin bulunması,
IV. akarsu ağının sık olması

özelliklerinden hangileri etkilidir?

- A) I ve II
B) I ve III
C) II ve III
D) II ve IV
E) III ve IV

30. Türkiye'de Doğu Karadeniz kıyı kesimine ait aşağıdaki özelliklerin hangisinde, yer şekillerinin etkisi yoktur?

- A) Halkın bir kısmının hayvancılığa yönelmesinde
- B) Kıyıyla iç kesimler arasında kara yolu ulaşımının zor olmasında
- C) Nüfusun, dar kıyı kesiminde yoğunlaşmasında
- D) Tarım alanlarının az olmasında
- E) Yer altı kaynaklarının dağılışında

31. Son yıllarda, Konya Ovası'nda hatalı arazi kullanımından kaynaklanan çevresel sorunlarda artış görülmektedir.

Aşağıdakilerden hangisi, bu sorunlardan biri değildir?

- A) Bataklık alanların artması
- B) Obrukların oluşması
- C) Toprağın tuzlanması
- D) Erozyonun artması
- E) Yer altı su seviyesinin düşmesi

32. Bir Türkiye fiziki haritasında, yaklaşık aynı boylam üzerinde olan iki ovanın farklı renklerle gösterilmesi aşağıdakilerden hangisine bağlanabilir?

- A) Eğim değerlerinin farklı olmasına
- B) Yüz ölçümlerinin farklı olmasına
- C) Yüksekliklerinin farklı olmasına
- D) Enlem derecelerinin farklı olmasına
- E) Bitki örtülerinin farklı olmasına

33. Aşağıdakilerden hangisi, Türkiye'de teknolojinin gelişmesiyle doğal çevreye olan bağımlılığın azaldığına örnek olarak gösterilebilir?

- A) Doğu Karadeniz'in yüksek kesimlerinde yaylacılık etkinliklerinin yapılması
- B) Seracılık etkinliklerinin, kıyı kesimlerinden iç kesimlere doğru yaygınlaşması
- C) Ülkenin iç kesimlerindeki bazı yerlerde tarım topraklarının nadasa bırakılması
- D) Dik yamaçlardaki tarım arazilerinin, eş yükselti eğrilerine paralel sürülmesi
- E) Organik tarımın uygulandığı yerlerde kimyasal gübre yerine doğal gübre kullanılması

34.



Yukarıdaki haritada gösterilen Karabük şehriden Konya şehrine doğru çizilecek hat boyunca hareket eden bir kişinin, sırasıyla aşağıdaki jeomorfolojik birimlerden hangilerini görmesi beklenir?

- A) Küre Dağları, Cihanbeyli Platosu, Sultan Dağları
- B) Köroğlu Dağları, Haymana Platosu , Cihanbeyli Platosu
- C) Köroğlu Dağları, Haymana Platosu, Sultan Dağları
- D) Küre Dağları, Haymana Platosu, Cihanbeyli Platosu
- E) Köroğlu Dağları, Cihanbeyli Platosu, Sultan Dağları

35. Türkiye'nin kıyı bölgelerinde nüfus yoğunluğu iç bölgelere göre daha fazladır.

Bu durumun oluşmasında aşağıdaki özelliklerden hangisinin etkisi en azdır?

- A) Su kaynaklarının bolluğu
B) İklim şartlarının daha elverişli olması
C) Tarımsal üretim ve gelirin daha yüksek olması
D) Ulaşım imkânlarının gelişmiş olması
E) Turizmin gelişmiş olması
36. 2010 yılında oluşturulan aşağıdaki tabloda, Türkiye'nin yaş gruplarına göre 2012 ve 2025 yıllarının yıl ortası nüfus projeksiyonu gösterilmiştir.

Yıllar	Nüfus (Bin kişi)			
	0-14	15-64	65+	Toplam
2012	18.899	50.679	5.310	74.888
2025	18.708	58.264	8.485	85.457
Oranlar (%)				
2012	25,2	67,7	7,1	100
2025	21,9	68,2	9,9	100

Tablodaki verilere bakılarak elde edilecek aşağıdaki sonuçlardan hangisi yanlıştır?

- A) 2025 yılında, çocuk nüfus oranının 2012 yılına göre % 3,3 düşmesi beklenmektedir.
B) 2012 yılının çocuk nüfus oranı, 2025 yılının yaşlı nüfus oranından daha yüksektir.
C) 2025 yılında, iş gücüne dâhil olmayan nüfus oranının % 31,8 olması beklenmektedir.
D) 2012 yılı çalışma çağı nüfus oranı, 2025 yılına göre % 0,5 daha az gözükmetedir.
E) 2025 yılında, ortalama yaşam süresinin 2012 yılına göre artacağı öngörülmektedir.

37. İnsanların ekonomik, sosyal, siyasi veya doğal nedenlerle yer değiştirmesi olayına göç denir. Bu yer değiştirme hareketleri, bireylerin istekleriyle veya istekleri dışında gerçekleşir.

Buna göre, Türkiye'de yaşanan aşağıdaki göçlerden hangisi, bireylerin istekleri dışında yapılan göçlere örnektir?

- A) 1960 yılından sonra Avrupa'nın endüstrileşmiş ülkelerine yapılan göçler
B) 20. yüzyılın sonlarında Batı Trakya'dan Türkiye'ye yapılan toplu göçler
C) Bazı illerden çok sayıda tarım işçisinin çalışmak amacıyla Çukurova'ya yaptığı göçler
D) Bilim ve teknolojinin gelişmesiyle nitelikli elemanların çalışmak için başka ülkelere yaptığı göçler
E) Üniversite ve yüksekokullarda öğrenim görmek amacıyla gençlerin, öğretim kurumlarının bulunduğu kentlere yaptığı göçler

38. Türkiye'nin iç kesimlerindeki bazı yörelerinde daha çok, kuraklığa dayanıklı tarım ürünleri yetiştirilir. Ancak son yıllarda bu yörelerdeki tarım alanlarında yetiştirilen ürün çeşitliliğinde bir artış görülmektedir.

Bu durum üzerinde aşağıdakilerden hangisinin etkili olduğu söylenemez?

- A) Yeni tarım alanlarının açılması
B) Sulama imkânlarının gelişmesi
C) Makine kullanımının yaygınlaşması
D) Kimyasal gübre kullanımının artması
E) Tarımla uğraşanların bilinçlenmesi

39. Türkiye'de hayvancılığın istenilen düzeye çıkarılması ve hayvansal ürün talebinin karşılanması için çeşitli önlemler alınmaktadır.

Buna göre aşağıdakilerden hangisi, Türkiye'de hayvancılığın gelişmesi için alınacak önlemlerden biri değildir?

- A) Mera ve yayla hayvancılığında besi ve ahır hayvancılığına geçmek
- B) Hayvanlara kaba yemlerin dışında proteince zengin yemler vermek
- C) Mera ve yaylalarda erken ve aşırı otlatma yapmamak
- D) Et ve süt üretiminin yüksek olması için nöbetleşe ve dönüşümlü otlatmadan sürekli otlatmaya geçmek
- E) Hayvan ırklarını ıslah etmek, besicileri eğitmek ve mali yönden desteklemek

40. Aşağıdaki enerji santrallerinden hangilerinin yıllık üretim miktarları üzerinde iklim koşullarının etkili olduğu söylenebilir?

- A) Tunçbilek – Seyitömer
- B) Afşin – Elbistan
- C) Karakaya – Demirköprü
- D) Sarayköy – Alaçatı
- E) Çatalağzı – Soma

41.

- I. Hamitabat (Kırklareli) – Doğal gaz
- II. İzmir (İzmir) – Doğal gaz
- III. Ovaakça (Bursa) – Linyit
- IV. Bandırma (Balıkesir) – Linyit

Yukarıdaki termik santrallerden hangilerinin, enerji üretimi için kullandıkları yakıt türü yanlış verilmiştir?

- A) Yalnız I
- B) Yalnız II
- C) Yalnız III
- D) II ve III
- E) III ve IV

42. Aşağıdakilerden hangisinin kuruluşunda ham maddeye yakınlık göz önüne alınmamıştır?

- A) Yatağan'da termik santral
- B) Bursa'da otomotiv endüstrisi
- C) Giresun'da kâğıt endüstrisi
- D) Keçiözümlü'de kükürt işletmesi
- E) Afyonkarahisar'da mermer işletmeciliği

43. Karadeniz'in kıyı kesiminde yer alan Trabzon ve Samsun'un etki alanlarının geniş olmasında;

- I. iklim özellikleri,
- II. nüfus özellikleri,
- III. fonksiyonel özellikler,
- IV. yüz ölçümü

gibi etmenlerden hangileri daha fazla etkilidir?

- A) I ve II
- B) I ve III
- C) II ve III
- D) II ve IV
- E) III ve IV

44. Dış ticaret açığı, dış satımın dış alıma göre daha az olması durumunda gerçekleşir.

Aşağıdakilerden hangisi, Türkiye'de dış ticaret açığının azaltılmasına yönelik önlemler arasında yer almaz?

- A) AR-GE çalışmalarının artırılması
- B) Sanayi üretim payının ve niteliğinin artırılması
- C) Dış pazarların ihtiyacına yönelik ürünlerin üretilmesi
- D) Uluslararası ticaret anlaşmalarının artırılması
- E) Millî gelirin yükseltilmesi

45. Türkiye'nin, UNESCO Dünya Miras Listesi'nde kayıtlı olan bazı kültürel ve doğal varlıkları aşağıda verilmiştir.

- I. Xantos – Letoon
- II. Pamukkale – Hierapolis
- III. Nemrut Dağı
- IV. Göreme Millî Parkı ve Kapadokya Kayalık Sittleri

Buna göre, ülkemizi sembolize eden bu turizm varlıklarından hangileri, doğal ve kültürel özellikleri birlikte barındıran karma tipteki miras alanlarındandır?

- A) Yalnız I
- B) Yalnız II
- C) II ve III
- D) II ve IV
- E) III ve IV

46. 1982 Anayasası'na göre, Türkiye Büyük Millet Meclisi seçimleri ile ilgili aşağıdaki ifadelerden hangisi yanlıştır?

- A) Kural olarak dört yılda bir yapılır.
- B) Savaş sebebiyle seçimlerin bir yıl geriye bırakılmasına karar verilebilir.
- C) Bir kişinin üç dönemden fazla milletvekili seçilmesi mümkün değildir.
- D) Anayasa'da belirtilen şartlar altında Cumhurbaşkanı'nın kararı ile seçimler yenilenebilir.
- E) Yenilenmesine karar verilen Meclisin yetkileri yeni Meclisin seçilmesine kadar sürer.

47. 1982 Anayasası'na göre aşağıdakilerden hangisi, Türkiye Büyük Millet Meclisinin görev veya yetkilerinden biri değildir?

- A) Milletlerarası antlaşmaların onaylanmasını uygun bulmak
- B) Özel af ilanına karar vermek
- C) Para basılmasına karar vermek
- D) Bakanları denetlemek
- E) Kanun hükmünde kararname çıkarmak

48. 1982 Anayasası'na göre, suç ve cezalar ile ilgili aşağıdaki ifadelerden hangisi yanlıştır?

- A) Kimse, işlendiği zaman yürürlükte bulunan kanunun suç saymadığı bir fiilden dolayı cezalandırılmaz.
- B) Ceza ve ceza yerine geçen tedbirler tüzük veya yönetmelikle düzenlenebilir.
- C) Ceza sorumluluğu şahsidir.
- D) Hiç kimse, yalnızca sözleşmeden doğan bir yükümlülüğü yerine getirememesinden dolayı özgürlüğünden yoksun bırakılamaz.
- E) Suçluluğu hükmen sabit oluncaya kadar kimse suçlu sayılamaz.

49. Ahmet ile anne bir kız kardeşi Ayşe'nin oğlu Mehmet arasındaki hısımlığın türü ve derecesi ile ilgili aşağıdaki ifadelerden hangisi doğrudur?

- A) Üçüncü derece yarım kan, yan soy hısımlığı vardır.
- B) Üçüncü derece tam kan, yan soy hısımlığı vardır.
- C) Dördüncü derece tam kan, yan soy hısımlığı vardır.
- D) Dördüncü derece yarım kan, yan soy hısımlığı vardır.
- E) Ahmet ile Ayşe üvey kardeş oldukları için Ahmet ile Mehmet arasında hısımlık ilişkisi yoktur.

50. Belli bir hukuki duruma ilişkin olarak kanunda bir hüküm olması gerekirken hiçbir hüküm öngörülmemiş olmasının hukuki niteliği aşağıdakilerden hangisidir?

- A) Gerçek hukuk boşluğu
- B) Bilinçli hukuk boşluğu
- C) Gerçek olmayan hukuk boşluğu
- D) Gerçek olmayan kanun boşluğu
- E) Gerçek kanun boşluğu

51. Aşağıdakilerden hangisi, hukukun temel görevlerinden biri değildir?

- A) Toplumda barışı sağlamak
- B) Toplumda mutlak eşitliği sağlamak
- C) Toplumda hukuki güvenliği sağlamak
- D) Toplumda adaleti sağlamak
- E) Toplumda yeni oluşum ve gelişimlere cevap vermek

52. Aşağıdakilerden hangisi, devlet memurlarının ödevlerinden biri değildir?

- A) Anayasa ve kanunlara sadakat
- B) Amirin emrine uyma
- C) Mal bildiriminde bulunma
- D) Askerlik hizmetini yapma
- E) Bizzat işbaşında bulunma

53. Tütün ve Tütün Tekeli Tüzüğü'nün Yürürlükten Kaldırılmasına Dair Tüzük, 21 Haziran 2007 tarihli Resmî Gazete'de yayımlanarak yürürlüğe girmiştir.

Bu tüzüğü çıkarmaya yetkili makam aşağıdakilerden hangisidir?

- A) Sağlık Bakanlığı
- B) Gençlik ve Spor Bakanlığı
- C) Bakanlar Kurulu
- D) Türkiye Kamu Hastaneleri Kurumu
- E) Tütün ve Alkol Piyasası Düzenleme Kurumu

54. İdare hukukunda; örnek olarak belli bir memurun veya belli bir öğrencinin hak ve yükümlülükleri değil, genel anlamda aynı konumda bulunan memurların veya öğrencilerin hukuki durumları genel, soyut, sürekli ve kişilik dışı kurallarla düzenlenmektedir.

Yukarıdaki cümlede idare hukukunun hangi özelliği anlatılmaktadır?

- A) Yeni bir hukuk dalı olma
- B) Bağımsız bir hukuk dalı olma
- C) Pozitif bir hukuk dalı olma
- D) Statü hukuku olma
- E) İctihadi hukuk dalı olma

55. Orhan Pamuk'un 2006 Aralık ayında Nobel Edebiyat Ödülü'nü alırken yaptığı konuşmanın adı aşağıdakilerden hangisidir?

- A) Kara Kitap B) Yeni Hayat
C) Babamın Bavulu D) Masumiyet Müzesi
E) İma Edilen Yazar

56. 85. Oscar Ödülleri töreninde En İyi Yabancı Film Ödülü'nü alan Amour (Aşk) filminin yönetmeni aşağıdakilerden hangisidir?

- A) Amat Escalante B) Ken Loach
C) Wes Anderson D) Ang Lee
E) Michael Haneke

57.

- I. Hukuk
II. Sanat
III. Mimarlık ve İnşaat

TÜİK verilerine göre, yukarıdaki alanlardan mezun olanların 2012 yılı işsizlik oranlarının büyükten küçüğe doğru sıralaması aşağıdakilerden hangisinde verilmiştir?

- A) I, II, III B) I, III, II C) II, I, III
D) II, III, I E) III, I, II

58. Güneş sisteminin en büyük gezegeni aşağıdakilerden hangisidir?

- A) Jüpiter B) Satürn
C) Uranüs D) Neptün
E) Mars

59. Şubat 2013'te istifa ederek Vatikan'da, 600 yıldan bu yana istifa eden ilk papa olma özelliğini taşıyan papa aşağıdakilerden hangisidir?

- A) 16. Benediktus B) 2. İoannes Paulus
C) 11. Pius D) 13. Leo
E) 16. Gregorius

60. II. Dünya Savaşı sonrasında kurulan, "Bretton Woods İkiizleri" olarak da anılan uluslararası ekonomik kuruluşlar aşağıdakilerin hangisinde doğru olarak verilmiştir?

- A) Milletler Cemiyeti – Birleşmiş Milletler
B) Dünya Bankası – Uluslararası Para Fonu
C) Gümrük Tarifeleri ve Ticaret Anlaşması – Dünya Ticaret Örgütü
D) Ekonomik İşbirliği ve Kalkınma Örgütü – G-20
E) Avrupa Ekonomik Topluluğu – Avrupa Birliği

SINAVDA UYULACAK KURALLAR

- Sınav salonları kamera ile kayıt altına alınacaktır.** Kamera kayıtlarının incelenmesinden sonra sınav kurallarına uymadığı tespit edilen adayların sınavları ÖSYM Yönetim Kurulunca geçersiz sayılacaktır.
- Cep telefonu ile sınava girmek kesinlikle yasaktır.** Çağrı cihazı, telsiz, fotoğraf makinesi vb. araçlarla; cep bilgisayarı, kol ya da cep saati gibi her türlü bilgisayar özelliği bulunan cihazlarla; silah ve benzeri teçhizatla; müsvedde kâğıdı, defter, kitap, sözlük, sözlük işlevi olan elektronik aygıt, hesap cetveli, hesap makinesi, pergel, açölçer, cetvel vb. araçlarla sınava girmek kesinlikle yasaktır. Bu araçlarla sınava girmiş adayların adı mutlaka Salon Sınav Tutanağına yazılacak, bu adayların sınavı geçersiz sayılacaktır. **Sınava kalem, silgi, kalemıraş, saat vb. araçla ve kulaklık, küpe, broş vb. takı, herhangi bir metal eşya ile girmek de kesinlikle yasaktır. Yiyecek, içecek vb. tüketim malzemeleri de sınava getirilemez. Adaylar sınava şeffaf şişe içerisinde su getirebilecektir.**
- Bu sınav için verilen toplam cevaplama süresi **120 dakikadır.** Sınav başladıktan sonra **ilk 90** ve **son 15** dakika içinde adayın sınavdan çıkmasına kesinlikle izin verilmeyecektir. **Bu süreler dışında, cevaplamaı sınav bitmeden tamamlarsanız cevap kâğıdınızı ve soru kitapçığınızı salon görevlilerine teslim ederek salonu terk edebilirsiniz. Bildirilen sürele aykırı davranışlardan adayın kendisi sorumludur.**
- Sınav salonundan ayrılan aday, her ne sebeple olursa olsun, tekrar sınava alınmayacaktır.**
- Sınav süresince görevlilerle konuşmak, görevlilere soru sormak yasaktır. Aynı şekilde görevlilerin de adaylarla yakından ve alçak sesle konuşmaları ayrıca adayların birbirinden kalem, silgi vb. şeyleri istemeleri kesinlikle yasaktır.
- Sınav sırasında, görevlilerin her türlü uyarısına uymak zorundasınız. Sınavınızın geçerli sayılması, her şeyden önce, sınav kurallarına uymanıza bağlıdır. Kurallara aykırı davranışta bulunanların ve yapılacak uyarılara uymayanların kimlik bilgileri Salon Sınav Tutanağına yazılacak ve sınavları geçersiz sayılacaktır.
- Sınav sırasında kopya çeken, çekmeye kalkışan, kopya veren, kopya çekilmesine yardım edenlerin kimlik bilgileri Salon Sınav Tutanağına yazılacak ve bu adayların sınavları geçersiz sayılacaktır.
Adayların test sorularına verdikleri cevapların dağılımları bilgi işlem yöntemleriyle incelenecek, bu incelemelerden elde edilen bulgular bireysel ya da toplu olarak kopya çekildiğini gösterirse kopya eylemine katılan adayın/adayların sınavı geçersiz sayılacak ayrıca 2 yıl boyunca ÖSYM tarafından düzenlenen tüm sınavlara başvurusu yasaklanabilecektir.
Sınav görevlileri bir salondaki sınavın, kurallara uygun biçimde yapılmadığını, toplu kopya girişiminde bulunulduğunu raporlarında bildirdiği takdirde, ÖSYM bu salonda sınava giren tüm adayların sınavını geçersiz sayabilir.
- Cevap kâğıdında doldurmanız gereken alanlar bulunmaktadır. Bu alanları doldurunuz. Cevap kâğıdınızı başkaları tarafından görülmeyecek şekilde tutmanız gerekmektedir. Cevap kâğıdına yazılacak her türlü yazıda ve yapılacak bütün işaretlemelerde kurşun kalem kullanılacaktır. Sınav süresi bittiğinde cevapların cevap kâğıdına işaretlenmiş olması gerekir. Soru kitapçığına işaretlenen cevaplar geçerli değildir.
- Soru kitapçığınızı alır almaz kapağında bulunan ilgili alanları doldurunuz. Size söylendiği zaman, sayfaların eksik olup olmadığını, kitapçıkta basım hatalarının bulunup bulunmadığını ve soru kitapçığının her sayfasında basılı bulunan soru kitapçık numarasının, kitapçığın ön kapağında basılı soru kitapçık numarasıyla aynı olup olmadığını kontrol ediniz. Soru kitapçığının sayfası eksik ya da basımı hatalıysa değiştirilmesi için salon başkanına başvurunuz.
Size verilen soru kitapçığının numarasını cevap kâğıdınızdaki “Soru Kitapçık Numarası” alanına yazınız ve kodlayınız. Cevap kâğıdınızdaki “Soru kitapçık numaramı doğru kodladım.” kutucuğunu işaretleyiniz.
Soru kitapçığı üzerinde yer alan Soru Kitapçık Numarasını doğru kodladığınızı beyan eden alanı imzalayınız.
- Sınav sonunda soru kitapçıkları toplanacak ve ÖSYM’de incelenecektir. Soru kitapçığının sayfalarını koparmayınız. Soru kitapçığının bir sayfası bile eksik çıkarsa sınavınız geçersiz sayılacaktır.
- Cevap kâğıdına ve soru kitapçığına yazılması ve işaretlenmesi gereken bilgilerde bir eksiklik ve/veya yanlışlık olması hâlinde sınavınızın değerlendirilmesi mümkün olamamaktadır, bu husustaki özen yükümlülüğü ve sorumluluk size aittir.
- Soru kitapçığının sayfalarındaki boş yerleri müsvedde için kullanabilirsiniz.
- Soruları ve/veya bu sorulara verdiğiniz cevapları ayrı bir kâğıda yazıp bu kâğıdı dışarı çıkarmanız kesinlikle yasaktır.
- Her bölümün cevaplarını cevap kâğıdındaki ilgili alana işaretlemeye dikkat ediniz.**
- Sınav salonundan ayrılmadan önce, soru kitapçığınızı ve cevap kâğıdınızı salon görevlilerine eksiksiz olarak teslim etmeyi unutmayınız.

Bu testlerin her hakkı saklıdır. Hangi amaçla olursa olsun, testlerin tamamının veya bir kısmının Merkezimizin yazılı izni olmadan kopya edilmesi, fotoğrafının çekilmesi, herhangi bir yolla çoğaltılması, yayımlanması ya da kullanılması yasaktır. Bu yasağa uymayanlar gerekli cezai sorumluluğu ve doğacak tüm mali külfeti peşinen kabullenmiş sayılır.

KAMU PERSONEL SEÇME SINAVI
A GRUBU VE ÖĞRETMENLİK
(6 TEMMUZ 2013)

GENEL YETENEK TESTİ

- | | |
|-------|-----------|
| 1. A | 31. C |
| 2. B | 32. E |
| 3. C | 33. C |
| 4. D | 34. B |
| 5. C | 35. A |
| 6. E | 36. D |
| 7. E | 37. D |
| 8. A | 38. E |
| 9. A | 39. A |
| 10. B | 40. B |
| 11. D | 41. C |
| 12. E | 42. E |
| 13. D | 43. E |
| 14. C | 44. B |
| 15. C | 45. A |
| 16. D | 46. D |
| 17. A | 47. A |
| 18. E | 48. E |
| 19. E | 49. C |
| 20. A | 50. İPTAL |
| 21. B | 51. E |
| 22. C | 52. D |
| 23. B | 53. B |
| 24. E | 54. B |
| 25. E | 55. C |
| 26. E | 56. C |
| 27. A | 57. B |
| 28. C | 58. A |
| 29. A | 59. A |
| 30. D | 60. D |

GENEL KÜLTÜR TESTİ

- | | |
|-------|-------|
| 1. E | 31. A |
| 2. C | 32. C |
| 3. B | 33. B |
| 4. C | 34. B |
| 5. E | 35. A |
| 6. A | 36. C |
| 7. B | 37. B |
| 8. E | 38. A |
| 9. D | 39. D |
| 10. C | 40. C |
| 11. E | 41. E |
| 12. B | 42. B |
| 13. A | 43. C |
| 14. E | 44. E |
| 15. C | 45. D |
| 16. A | 46. C |
| 17. D | 47. E |
| 18. C | 48. B |
| 19. C | 49. A |
| 20. B | 50. E |
| 21. E | 51. B |
| 22. D | 52. D |
| 23. D | 53. C |
| 24. B | 54. D |
| 25. A | 55. C |
| 26. D | 56. E |
| 27. A | 57. D |
| 28. D | 58. A |
| 29. A | 59. A |
| 30. E | 60. B |