

# A

## GENEL YETENEK TESTİ

KPSS-ÖNLİSANS / 2008

1. Kolay ----, düşünmeden ----, soran, araştıran bir birey olmanın yolu kitaplardan geçiyor.

**Bu cümledeki boş bırakılan yerlere düşüncenin akışına göre aşağıdakilerden hangisi getirilmiştir?**

- A) başaramayan – incelemeyen  
B) anlamayan – konuşmayan  
C) beğenmeyen – kabullenmeyen  
D) söylemeyen – bilmeyen  
E) açıklamayan – okumayan

2. Her kitap, okuru değişik açılardan etkiler. Birinin yüreğinde titreşimler yaratan, kan dolaşımını hızlandıran bir kitap, bir başkasının ruhunu karartır, ağırlığı altında ezer onu. Birine çarpıcı, renkli yaşantılar sunan bir kitap, bir başkasına bayağı, sıradan gelebilir. Bu nedenle bir kitabın herkes üzerinde aynı etkiyi bıraktığı söylenemez.

**Bu parçada geçen “ağırlığı altında ezmek” sözüyle anlatılmak istenen aşağıdakilerden hangisidir?**

- A) İlginç özellikler taşımak  
B) Okuru bunaltmak  
C) Yanlışların görülmesini sağlamak  
D) Okuru, düşündürmeye çalışmak  
E) Eleştirel yapısı olmak

3. Üst düzey bir yöneticinin, çalıştığı kurumu geleceğe taşımak adına, hem kendisinin hem de öteki çalışanların yerine geçebilecek elemanlar yetiştirmeye önem vermesi gerekir.

**Bu cümledeki altı çizili sözün yerine aşağıdakilerden hangisi getirilirse cümlenin anlamı değişmez?**

- A) iş yerinin sürekliliğini sağlamak için  
B) gençlere, yaptıkları işi sevdirmek düşüncesiyle  
C) yaptığı işin inceliklerini göstererek  
D) üstlendiği sorumlulukların önemini belirterek  
E) benzer nitelikteki kurumların çoğalmasında amacıyla

4. Yorum, ele alınan konuyu düşünsel arayışlarla

irdeleyip (ayrıntılara kadar inceleyip) belirgin  
I II

kılmayı (anlaşılır duruma getirmeyi) gerektirir. Bilgi,

yorumun besleyici ögesidir. Sağlam (güvenilir) bilgiyi  
III

ancak o alanın uzmanları verebilir. Bu yüzden bilginin

bağlayıcılığı (uyulma zorunluluğu) vardır ama yoru-  
IV

mun yoktur. Yorumun düşünsel alanı geniştir (açıktır),  
V

yorum yaparken görsel-işitsel kaynaklardan, okunan-

lardan yararlanma olanağı vardır.

**Bu parçadaki numaralanmış sözlerden hangisi, araç içinde verilen açıklamasıyla uyuşmamaktadır?**

- A) I. B) II. C) III. D) IV. E) V.

*Diğer sayfaya geçiniz.*

5. Aşağıdaki cümlelerin hangisindeki altı çizili söz deyim **değildir**?

- A) Hiçbir zaman işin kolayına kaçmazdı.
- B) O, işi düşmezse buralara gelmez.
- C) Bu işin içinden çıkabileceğini hiç sanmıyorum.
- D) Fabrikadaki işi bitirse toplantıya geleceğini söylemiş.
- E) Meraklanmaya gerek yok, o işini bilir.

6. Okuyarak, dinleyerek ya da resimlere bakarak ulaşamayacağımız güzellikleri görebilmek için yolculuğumuza devam ediyoruz.

**Aşağıdakilerden hangisi, bu cümleden çıkarılabilecek bir yargıdır?**

- A) Değişik yapıya sahip yerler, insanların ilgisini çeker.
- B) Kimi yerlerin ayırımına ancak oralar gezilip görülerek varılır.
- C) Farklı kültürel özelliklere sahip şehirler turizm açısından gelişmeye açıktır.
- D) Tarihî kalıntıları görmek o yerlerin geçmişini öğrenmek için yeterli değildir.
- E) Çeşitli kitaplar, ansiklopediler yardımıyla gidilecek yerler hakkında bilgi edinilebilir.

7. O, 43 yıldır hep insan fotoğrafları çekiyor ve bu süre içinde edindiği deneyimlerini şöyle anlatıyor: (I) Başka insanların dünyasına girerken onlardan izin alın ve onlara karşı zorlayıcı tavırlar takınmayın. (II) Aranızda bir yakınlık kurulmasını sağlayın ki sizi reddetmeleri olasılığı ortadan kalsın. (III) Fotoğrafını çekeceğiniz kişiyle aynı dili konuşmanız şart değil, bunu beden diliyle de sağlayabilirsiniz. (IV) Müzelere gidip ressamların kompozisyonlarını inceleyin, böylece çekeceğiniz karenin kompozisyonunu makinanızda nasıl yerleştireceğinizi öğrenirsiniz. (V) Günümüzde dijital makinelerle çekilen fotoğraflar üzerinde oynanarak bazı görüntüler kesilip değiştiriliyor, ancak bu yolla iyi bir kompozisyon oluşturmayı öğrenemezsiniz.

**Bu parçadaki numaralanmış cümlelerin hangilerinde öneri ve gerekçesi birlikte verilmiştir?**

- A) I. ve II.
- B) II. ve III.
- C) II. ve IV.
- D) III. ve IV.
- E) III. ve V.

8. Vazolara yerleştirdiğiniz çiçeklerin uzun süre canlı kalması için şunları yapmalısınız: (I) Öncelikle vazoya yerleştirdiğiniz çiçeklerin yapraklarının suya değmemesine dikkat edin. (II) İki günde bir vazodaki suyu dinlenmiş suyla değiştirin. (III) Suyu mikroplardan arındırdığı için her su değişiminde bir yemek kaşığı çamaşır suyunu vazoya koyun. (IV) Her su değişiminde çiçek saplarını çapraz olarak 5 cm kesin. (V) Çiçeğin çabuk açılmasına yol açacağından, sararıp solmasını hızlandıracağından çiçeği, doğrudan güneş alan yerlere koymayın.

**Bu parçadaki numaralanmış cümlelerin hangilerinde neden-sonuç ilişkisi vardır?**

- A) I. ve II.
- B) I. ve IV.
- C) II. ve III.
- D) III. ve V.
- E) IV. ve V.

9. (I) Bu yıl on beşincisi yapılacak olan Altın Koza Film Festivali, ülkemizde ve dünyada çekilen uzun ve kısa metrajlı filmlerle belgeselleri, sinemaseverlerle buluşturmayı hedefliyor. (II) Festivalde, on üç bölümde toplam yüz doksan beş film gösterilecek. (III) Tüm filmlerin ücretsiz olarak izlenebileceği festivalde, her yıl olduğu gibi bu yıl da "Ulusal Uzun Metrajlı Film Yarışması" yer alıyor. (IV) Yarışmada, son dönemde çekilen Türk filmleri Altın Koza için yarışacak. (V) Bu yıl festivalde, Akdeniz ülkelerinden gelecek yabancı yönetmenler de ağırlanacak.

**Festivalden söz edilen bu parçadaki numaralanmış cümlelerle ilgili olarak aşağıda verilenlerden hangisi yanlıştır?**

- A) I. cümlede, amacı belirtiliyor.  
 B) II. cümlede, katılımın beklenenden fazla olduğu açıklanıyor.  
 C) III. cümlede, tekrarlanan bir durumdan söz ediliyor.  
 D) IV. cümlede, yarışma sonunda kazanılacak ödülün söz ediliyor.  
 E) V. cümlede, katılacaklarla ilgili bilgi veriliyor.

10. (I) Müzik eleştirmeni olabilmek için uzun ve yorucu bir çalışmayı göze almalısınız. (II) Çünkü hem müzik bilginizin hem de güçlü bir kaleminizin olması gerekir. (III) Ayrıca çok iyi bir müzik dinleyicisi olmalısınız. (IV) Bu işte deneyimli olanlardan kimileri "Beğenmediysen, hakkında bir şey yazma." derler. (V) Oysa beğendiğin değil beğenmediğin müzikle ilgili yazmak daha zor ama gerekli bir iştir. (VI) Denetleme, kötüleri ayıklama, önerilerde bulunma ve daha iyiye yönlendirme gibi bir göreviniz yoksa müzik eleştirmenliğinin ne anlamı kalır ki!

**Müzik eleştirmenliğinin anlatıldığı bu parçadaki numaralanmış cümlelerle ilgili olarak aşağıda verilenlerden hangisi yanlıştır?**

- A) I. cümlede, kişisel görüş bildiriliyor.  
 B) II. cümlede, I. cümleyle ilgili bir açıklama yapılıyor.  
 C) IV. cümlede, uyarı anlamı vardır.  
 D) V. cümlede, yararlarından söz ediliyor.  
 E) VI. cümlede, işlevleri belirtiliyor.

11. **Aşağıdakilerin hangisindeki "-ler, -lar" eki cümleye "abartma" anlamı katmıştır?**

- A) Burada hava, akşamları genellikle serin oluyor.  
 B) Bugün yapmam gereken dünyalar kadar iş var.  
 C) Yarın akşam amcamlar bize yemeğe gelecek.  
 D) Kimileri güne yürüyüş yaparak başlar.  
 E) Orada neler olduğunu bana da söyler misin?

12. **Aşağıdaki cümlelerin hangisinde "-ki" eki bir varlığın yerine kullanılmıştır?**

- A) Safiye'nin derslerindeki başarısı gözden kaçmıyordu.  
 B) Oyuncular akşamki maçta oldukça başarılıydı.  
 C) Geçen seneki tatilini Alanya'da geçirmiş, bu yıl da Antalya'ya gitmiş.  
 D) Evin önündeki ağaçlar susuzluktan kurumuş.  
 E) Komşunun çocukları yemek yiyor, bizimkilerse hâlâ oyun oynuyor.

13. Aşağıdaki cümlelerin hangisinde, eylemin kim tarafından yapıldığı belli değildir?

- A) Yol kenarındaki ağaçlar budandı.
- B) Öğle sığağında iskelede oturmuş, denize bakıyordu.
- C) Kolundaki ağrı için dün doktora gitti.
- D) Onunla bir toplantıda tanışmıştık.
- E) Kaç saattir burada bekliyorsunuz?

14. Aşağıdaki cümlelerin hangisinde bir yazım yanlışı vardır?

- A) Uzun zamandır aradığım kitabı önceki gün bu kitapçıda buldum.
- B) Sandalyeyi kendine doğru çekip oturdu ve bize olaydan söz etmeye başladı.
- C) İki saat süren bir yolculuktan sonra Eğirdir Gölü bütün güzelliğiyle gözlerinin önüne serilmişti.
- D) Yazarın "Savaş Ve Barış" isimli kitabını, birçok bölümünün altını çizerek okudum.
- E) Fizik alanındaki çalışmalarıyla ismini bütün dünyaya duyurmuş bir bilim adamıydı.

15. Yazınsal yapıtlarda öyle karakterler vardır ki bir

fotoğraf, bir resim olarak belleklere kazınmıştır.

Oysa benim romanlarımda karakterlerin "fiziksel

görünümleri" yoktur. Varsada ciddiye alınmayacak

kadar siliktir. Sizin de bildiğiniz gibi benim karakter-

lerim sözcüklere bürünür. Düşünceleriyle tanınıp

anımsanmak ve belki de benimsenmek ister.

**Bu parçadaki numaralanmış sözlerin hangisinde bir yazım yanlışı vardır?**

- A) I.      B) II.      C) III.      D) IV.      E) V.

16. Çocukluğuna götürüyor bizi yazar ( ) Gaziantep'teki evlerine ( ) ayağını yerden kesen uçurtma günlerine ( ) Edebiyatla geçen yıllara ( ) şiir sohbetlerine ( )

**Bu cümlede ayraçlarla ( ) belirtilen yerlere aşağıdakilerin hangisinde verilen noktalama işaretleri sırasıyla getirilmelidir?**

- A) (.) (;) (.) (.) (...)
- B) (:) (,) (...)
- C) (:) (,) (.) (.) (.) (.)
- D) (.) (,) (.) (.) (.) (.)
- E) (...)

17. Niğde'deydik ,  
I

yazları ,  
II

bazen yaz sonları Maraş'a gidip ,  
III

demden kalan dükkânın onarımını yaptırdı; oradan  
geçmişle kucaklaşmış olarak anılarla ,  
IV

buruk ,  
V

yorgun eve dönerdi.  
**Bu parçadaki numaralanmış virgüllerin (,) hangisi yanlış kullanılmıştır?**

- A) I. B) II. C) III. D) IV. E) V.

18. Keşke burada olsaydı, onun eksikliğini çok arıyorum.

**Bu cümledeki anlatım bozukluğu aşağıdaki değişikliklerin hangisiyle giderilebilir?**

- A) "arıyorum" yerine "hissediyorum" sözcüğü getirilerek  
B) "keşke" sözcüğünden sonra "o da" sözü getirilerek  
C) "eksikliğini" yerine "yokluğunu" sözcüğü getirilerek  
D) "çok" sözcüğü atılarak  
E) "keşke" yerine "hep" sözcüğü getirilerek

19. Aşağıdaki cümlelerin hangisinde bir anlatım bozukluğu vardır?

- A) Sizin de bilgi ve deneyiminden yararlanarak bu işin üstesinden gelmeye çalışacağım.  
B) Son yıllarda yazdığım makalelerden oluşan bir kitap hazırlıyorum.  
C) Lise yıllarımdan bu yana, dönemin önemli olaylarını yansıtan gazete haberlerini topluyorum.  
D) Derginin bu sayısında, geçen yıl yitirdiğimiz sanatçıyla ilgili duygularımı dile getirdim.  
E) Onun yazdığı günlüklerin bizim için elbette mutlaka farklı bir değeri var.

20. Aşağıdaki cümlelerin hangisinde bir anlatım bozukluğu vardır?

- A) Havaların bir ısınıp bir soğuması, çeşitli mevsimsel hastalıkların ortaya çıkmasına neden oluyor.  
B) Eskiden çok sık görülen bu hastalık, günümüzde çok az ya da hiç görülmemektedir.  
C) Yaz mevsimini serin yerlerde geçirmek isteyenler genellikle yaylalara gidiyor.  
D) Sıcak hava, hem metabolizmayı hem de ruh sağlığını olumsuz yönde etkiliyor.  
E) Sıcak ve kurak geçen bir yazın ardından kışın yeterince kar ve yağmur yağmayınca barajlardaki su seviyesi iyice düştü.

21. Aşağıdaki cümlelerin hangisinde bir anlatım bozukluğu vardır?

- A) Artık, yerli filmler yabancı filmlerden daha çok izleniyor.
- B) Söyleyeceklerimin yanlış anlaşılabilceğini düşünerek bu türden hassas konulara değinmedim bu kitabımda.
- C) Her şiir herkeste farklı duygular uyandırır.
- D) Yoğun geçen bir yılın ardından artık daha kendine ait zamanı olabiliyordu.
- E) Okurlara, hiçbir şeyin görüldüğü gibi olmadığını örneklerle anlatmaya çalışıyordu.

22. Araç sahipleri ve yayalar, buzlanma konusunda yaşanabilecek tehlikelere karşın dikkatli olmaları yönünde uyarıldı.

**Bu cümledeki anlatım bozukluğu aşağıdaki değişikliklerin hangisiyle giderilebilir?**

- A) "konusunda" yerine "olduğunda" sözcüğü getirilerek
- B) "ve" yerine "veya" sözcüğü getirilerek
- C) "yaşanabilecek" yerine "karşılaşılabilecek" sözcüğü getirilerek
- D) "dikkatli olmaları yönünde" sözü atılarak
- E) "karşın" yerine "karşı" sözcüğü getirilerek

23.

- I. Acaba ilk okuduğunuz kitabı hatırlayabilir misiniz?
- II. Gerçekte bir kitap değil de ailenizden biri miydi size okuma alışkanlığı aşılayan?
- III. Küçük yaşta edindiğiniz alışkanlıklar size neler kazandırdı?
- IV. Ya da bugün, sizi bir kitabı tekrar tekrar okuyacak kadar edebiyat sevdalısı yapan kitabı?
- V. Yoksa öğreniminiz sırasında Dostoyevski'yi, Reşat Nuri'yi, Yahya Kemal'i ballandıra ballandıra anlatan edebiyat öğretmeniniz mi?

**Yukarıdaki numaralanmış cümleler anlamlı bir bütün oluşturacak biçimde sıralandığında, aşağıdakilerden hangisi bu paragrafta yer almaz?**

- A) I. B) II. C) III. D) IV. E) V.

24. (I) Bütün zengin diller gibi Türkçenin zenginliği de onun kullanılmasına bağlıdır. (II) Dilin, yazılı ve sözlü olmak üzere iki boyutu vardır. (III) Bunlardan söze dayananları her türlü konuşma, ders, konferans gibi etkinlikleri içerir. (IV) Yazılı olanlarsa roman, öykü, deneme, mektup gibi türlerde dilin bütün olanaklarıyla kullanılmasını zorunlu kılar. (V) Öte yandan birçok yabancı ülkede Türkçe öğretimine yer verilmesi onun geniş bir coğrafyada konuşulduğunun göstergesidir de.

**Bu parçadaki numaralanmış cümlelerin hangisi anlatımın akışını bozmaktadır?**

- A) I. B) II. C) III. D) IV. E) V.

25. (I) Hani çok sevilen insanlar vardır. (II) Bir kere, ben onlardan değilim; hatta soğuk, itici, hırçın, uzak durulması gereken biri olarak değerlendiriliyor olabiliyim. (III) Ama en azından adalet, dürüstlük ve saygı yönünden yüksek puan aldığımı sanıyorum. (IV) Yanımda çalışanlar da bu yüzden bana saygıda kusur etmezler. (V) İnsanın adil davranabilmesi için önce sevilmemeyi göze alması gerekir. (VI) Adil olduğunuzda sizi kimileri sevmeyebilir ama bir süre sonra herkes size güvenir.

**Bu parça iki paragrafa ayrılmak istense ikinci paragraf hangi cümleyle başlar?**

- A) II. B) III. C) IV. D) V. E) VI.

26. Toroslar'da yer alan bu kasabada fotoğraflar çektim. Evlerinin önünde oturan, komşusuyla dertleşen yaşlı kadınların fotoğraflarını... Eski, ahşap, kafesli pencere-leri olan evleri sanki bu yaşlı kadınlar bekliyordu. Kasabanın gençleri gurbete çıkmış, yaşlılar kalmış kapıların önünde. Bakışlarından bazen yalnızlığın verdiği hüznü, bazen de aile yadigarı evleri bekleme- nin verdiği mutluluk okunuyor. Söyledikleri maniler- deyse çocuklarına, torunlarına duydukları özlem...

**Bu parçanın anlatımıyla ilgili olarak aşağıdakiler- den hangisi söylenemez?**

- A) Betimleme yapılmıştır.
- B) İnsana özgü özellikler doğaya aktarılmıştır.
- C) Görsel öğelerden yararlanılmıştır.
- D) Farklı duygular dile getirilmiştir.
- E) Yoruma yer verilmiştir.

27. Sinema filmi ile belgesel film, aslında birbirinden çok farklı özellikler taşıyor, ama ben ikisini birbirinden ayırıyorum. Sinema filminde olayları yönetmen şekil-lendirir. Belgesel filmdeyse olaylar gerçeklere daya- nır. Belgesel film yaparken konuyla ilgili araştırma ya- par, bilgi toplar, böylece kendimizi de eğitiriz. Ayrıca belgesel film sürprizlerle doludur, bu yüzden de biraz daha devingendir. Ayrıca, Türkiye'nin belgesel film alanında bir açığı olduğunu düşünüyorum. Ben ve ekibim çektiğimiz filmlerle, bu açığı biraz olsun kapat- maya çalışıyoruz.

**Bu parçada anlatılanlar aşağıdaki sorulardan han- gisine karşılık olarak söylenmiş olabilir?**

- A) Belgesel filmlerin incelikleri nelerdir ve niçin bu türü tercih ettiniz?
- B) Nitelikli bir sinema filmini sıradan filmlerden ayı- ran özellik nedir?
- C) Belgesel film çekerken ne gibi ön hazırlıklar yap- mak gerekir?
- D) Sinema filmi mi yoksa belgesel film mi çekmek daha zor?
- E) Günümüzde, belgesel filmlere ilgi arttı mı?

28. Yaptığınız işi sevmelisiniz. İstemeyerek işe gidiyorsa- nız yaptığınız işin ne size ne de çalıştığınız kuruma bir yararı olur. İşe giderken heyecan duymalı, işinizi yaparken keyif almalısınız. Çok çalışmalı, hırslı ve sabırlı olmalısınız. İşe yeni başlayanlardan kimileri, ne zaman yetkili konuma gelebileceklerini sorarlar. Halbuki o pozisyonu hak edebilmek için hangi yollar- dan geçmeleri gerektiğini sorsalar daha çabuk olgun- laşıp o makamı hak edebilirler.

**Bu parçada anlatılanlar aşağıdaki sorulardan han- gisine karşılık olarak söylenmiş olabilir?**

- A) İyi bir yönetici nasıl olmalıdır?
- B) Severek yapılan bir iş kişiye neler sağlar?
- C) Meslek seçiminde nelere dikkat etmek gerekir?
- D) İş dünyasında kazandığınız saygınlığı nelere borçlusunuz?
- E) İş yaşamında başarılı olmak için neler yapmak gerekir?

29. Çağımızda bilgi ve teknoloji hızla ilerliyor. Bu geliş- meler bizi hem sevindiriyor hem de düşündürüyor. "Acaba insanlar ileride nasıl yaşayacak, nelerden hoşlanacak?" sorusuna yanıt aranıyor. Ben, bilim ve teknoloji ne kadar gelişirse gelişsin, sanata ve estetiğe hep gereksinim duyulacağını düşünüyorum. Bu yüzden sanatın, özellikle de edebiyatın ---- inanı- yorum.

**Bu parçada boş bırakılan yere düşüncenin akışı- na göre aşağıdakilerden hangisi getirilebilir?**

- A) günlük yaşamla ilgili bütün ayrıntılara yer verme- si gerektiğine
- B) basılan kitap sayısına bağlı olarak gelişeceğine ve sevileceğine
- C) gereksinimlere göre değişerek her zaman var olacağına
- D) değişik konuları işlemeye elverişli olduğuna
- E) herkes tarafından çok sevildiğine

30. Bu, gerçek kişi ve olayların romanıdır. Mektuplar, anılar, raporlar, bilgi ve belgeler gerçeğe bağlı kalınarak öyküleştirilmiştir. Belli bir dönem ve o dönemdeki insanların yaşamı, tarihsel olaylar çarpıtılmadan yansıtılmış. Hatta bunlar tarih sırasıyla verilmiştir. Bu kitabı okuyan herkes, bazı olaylara tanık olmuş, onları yaşamış gibi bir duyguya kapılıyor, bildiklerine yenilerini ekliyor.

**Bu parçada sözü edilen yapıyla ilgili olarak aşağıdakilerden hangisi söylenebilir?**

- A) Öğretici yönü ağır basmaktadır.
- B) İçeriği, tartışmalara yol açacak nitelikler taşımaktadır.
- C) Olaylar, nedenleriyle birlikte anlatılmaktadır.
- D) Geçmişle ilgili belirsizlikler açıklığa kavuşturulmaktadır.
- E) Dünle bugünün benzerliğinden söz edilmektedir.

31. Alman firmaları "organik güneş pilleri"ni büyük yüzeylerde kullanılabilecek biçime getirmeye çalışıyor. Firmalar hızla yürüttükleri çalışmaların sonunda seri üretime hazır, ışığı enerjiye dönüştüren, ucuz, günümüzdeki sert güneş pillerinin aksine, bükülebilen, rulo yapılabilen, şeffaf bir folyo üretmeyi planlıyor. Çatılara, pencerelere ve cephelere uygulandığında özelliklikle gökdelenleri dışarıdan fark edilmeyen birer elektrik santraline dönüştürecek bu malzemenin 2015 yılında piyasaya çıkması bekleniyor.

**Bu parçada, organik güneş pilleriyle ilgili olarak aşağıdakilerden hangisine değinilmiştir?**

- A) Enerji ihtiyacının çoğunu karşılayabileceğine
- B) Kullanılmaya başlandığında birçok yararının olacağına
- C) Küresel ısınmanın önlenmesine katkı sağlayacağına
- D) Kullanımında çeşitli zorluklarla karşılaşılacağına
- E) Binalara uygulama maliyetinin yüksek olacağına

32. O, yaşama ve çevreye farklı bir gözle bakmayı, güzellikleri gözümüzün önüne getirmeyi bilir. Kendisiyle ilgili hiçbir şeyi gizlemez. Yaşadığı, duyduğu ne varsa okurlarının önüne serer. Yüzlerini görmediği, adlarını, yaşlarını, mesleklerini bilmediği nice okurunun koluna girip onlarla gezmelere çıkar. Güzel ve kalıcı şeyler yazmak ister ama açıkçası bu konuda ne acelesi vardır ne de gayreti.

**Bu parçaya göre söz konusu yazarla ilgili olarak aşağıdakilerden hangisi söylenebilir?**

- A) Objektif bir bakış açısına sahip olduğu
- B) Öteki yazarlardan farklı olduğuna inandığı
- C) Amaçlarına ulaşmak için yeterince çaba göstermediği
- D) Okurların beklentilerine cevap veremediği
- E) Sorumluluk almaktan kaçındığı

33. Bazı yazarlar vardır, kalemlerini öylesine ustaca, öylesine özenle kullanırlar ki her sayfada tüm ayrıntılarıyla, hareketli ögelerle bir resim çizerler. Bu resim, kendini anlatmak için okuyucunun düş gücünü kullanmasını gerektirmez.

**Bu parçada sözü edilen yazarların vurgulanan özelliği aşağıdakilerden hangisidir?**

- A) Güçlü betimlemeler yapma
- B) Farklı anlatım biçimleri kullanma
- C) Değişik konuları işleme
- D) Üretken olma
- E) Duygulardan çok, düşüncelere seslenme



34. Yazar, öykü ve romanlarını oluştururken yaşanmışlık duygusu yaratmak için çeşitli anlatım biçimlerine başvuruyor. Bunlardan biri de mektup. Bu yolla, öykü kişilerinin bastırılmış coşkularını ortaya çıkarmak daha kolay. Bu yöntemin belki de en büyük yararı, mektupların, bir olayın parçası ya da bütünü olması ve okurun da kendini olayların içinde hissetmesini sağlamasıdır.

**Bu parçaya göre, öykü ve romanlarda kullanılan mektup yönteminin sağladığı en önemli yarar aşağıdakilerden hangisidir?**

- A) Yazmada yazara birçok kolaylık sağlaması
- B) Yapıta akıcılık kazandırması
- C) Yapıtı özgün kılması
- D) Anlatılanların gerçek olduğu izlenimini yaratması
- E) Kolay ve zevkle okunması

35. Bu, acı ve mutluluk gibi temel duyguların tartışıldığı, bunlardan yola çıkılarak yaşamın sorgulandığı bir roman. Yazar, roman boyunca yazınsal kaygıları bir yana bırakıp kendini felsefenin büyüüne kaplıyor. Öyle ki okur, trende yaşananların, bazı kavramlar üzerinde düşünüp bunları tartışmak amacıyla yazıldığını fark ediyor. Kahramanlar, olayların akışını bozma pahasına sık sık, uzun diyaloglarla felsefi tartışmalara giriyor. Okur, roman okuduğunu unutup kendini tartışmanın içinde buluyor, metnin kendisinden kopuyor. ----.

**Bu parçanın sonuna düşüncenin akışına göre aşağıdakilerden hangisi getirilemez?**

- A) Bundan sonra romanda neler olacağı değil, nelerin tartışılacağı merak ediliyor
- B) Bu durum yazarın, olay anlatmaktan çok düşündürme yönelimi içinde olduğunu sezdiriyor
- C) Böylece okur, alışılmış anlatım biçimlerinin dışında farklı bir biçimle tanışmış oluyor
- D) Bu da romanın kolay okunurluğunu azaltıyor
- E) Bunlar, yazarın amacına ulaşmak için ne büyük güçlüklerle katlandığını gösteriyor

36. Bana öyle geliyor ki senin asıl eksikğin işte burada: Düz yazıyı ve şiiri yeterince izleyip irdelememek. Doğaçtan şiir söyleme dönemi çoktan kapandı. Türkçenin şiir haritasını tüm bölgeleriyle tanımalısın. ----. Bunları yaptığın gün dergilerin kapısının sana da açıldığını göreceksin.

**Bu parçada boş bırakılan yere, düşüncenin akışına göre aşağıdakilerden hangisi getirilemez?**

- A) Kolay bir iş değildir bu
- B) Şiirle ilgili çalışmalarını sürekli izlemelisin
- C) Yazınsal ürünlerin temeli dildir
- D) Şairlikte baş koşulun, dille içli dışlı olmayı gerektirdiğini unutma
- E) Şiirlerin evrensel nitelikler taşımalı

37. Bilirsiniz ki okul, bilgilenme, aydınlanma, yetişip olgunlaşma yuvasıdır. Okulda bizden beklenen şey, aklımızı kullanma, öğrendiklerimizi akıl süzgecinden geçirip olgunlaşmadır. İnsan, karşılaştığı sorunlara çözüm bula bula yetkinleşir ancak. Bu yüzden okula, yalnızca bilgi sahibi olmak için değil, aklımızı kullanma yetisi elde etmek için de gittiğimizi unutmayalım. Akıllı kullanmanın yoluysa insanın kendini eleştirmesinden, sorgulamasından, "Ben neyim?" demesinden geçer.

**Bu parçayla ilgili olarak aşağıdakilerden hangisi söylenemez?**

- A) Hatırlatma yapılmaktadır.
- B) Amaç belirtilmektedir.
- C) Yöntem anımsatılmaktadır.
- D) Olasılıklar sıralanmaktadır.
- E) Uyarıda bulunulmaktadır.

# A

KPSS-ÖNLİSANS / 2008

38.

$$3 - \frac{1}{1 + \frac{1}{\frac{3}{2}}}$$

işleminin sonucu kaçtır?

- A)  $\frac{4}{5}$       B)  $\frac{6}{5}$       C)  $\frac{12}{5}$   
D)  $\frac{14}{5}$       E) 1

39.  $\frac{0,0076}{0,19}$  kesri aşağıdakilerin hangisine eşittir?

- A) 400      B) 40      C) 4      D) 0,4      E) 0,04

40.  $\frac{3}{5}$  inden 18 çıkarılınca 9 elde edilen sayı kaçtır?

- A) 30      B) 35      C) 37      D) 40      E) 45

41.  $a < b < 0$  ve

$$c = \frac{2a+b}{a}$$

olduğuna göre, c için aşağıdakilerden hangisi doğrudur?

- A)  $1 < c < 2$       B)  $2 < c < 3$       C)  $3 < c < 4$   
D)  $4 < c < 5$       E)  $5 < c < 6$

42.

$$3^{2x+1} = 27$$

olduğuna göre, x kaçtır?

- A)  $\frac{1}{2}$       B)  $\frac{1}{3}$       C) 1      D) 2      E) 3

Diğer sayfaya geçiniz.

# A

KPSS-ÖNLİSANS / 2008

43. a, b, c gerçel sayılar olmak üzere,

$$3a = 4b$$

$$b + c = 5a$$

olduğuna göre,  $\frac{a+b-c}{a}$  ifadesinin değeri kaçtır?

- A)  $\frac{-5}{2}$  B)  $\frac{-3}{2}$  C)  $\frac{9}{10}$  D) 2 E) 3

44.

$$\frac{4}{5x+2} > \frac{1}{3}$$

eşitsizliğini sağlayan **en büyük** x tam sayısı kaçtır?

- A) 1 B) 2 C) 3 D) 4 E) 5

45.

$$a = \sqrt{7} + 2$$

$$b = \sqrt{7} - 2$$

olduğuna göre,  $\frac{a^2 - b^2}{a+b}$  ifadesinin değeri kaçtır?

- A)  $2\sqrt{7}$  B)  $4\sqrt{7}$  C) 2 D) 4 E) 6

46.  $x \in \mathbb{R}$  ve  $-1 < x < 2$  ise

$$|x+1| + |x-2|$$

ifadesinin değeri aşağıdakilerden hangisine eşittir?

- A) 3 B) 1 C)  $2x+3$   
D)  $2x-3$  E)  $2x-1$

*Diğer sayfaya geçiniz.*

# A

KPSS-ÖNLİSANS / 2008

47.

$$3\sqrt{2x-1} - 15 = 0$$

olduğuna göre, x kaçtır?

- A) 9    B) 10    C) 11    D) 12    E) 13

48.

$$a + b = 15$$

$$c = 9$$

olduğuna göre,  $a^2 - c^2 + 2ab + b^2$  ifadesinin değeri kaçtır?

- A) 135    B) 142    C) 144    D) 148    E) 152

49.

$$\frac{13}{x} - \frac{2}{3} = \frac{1}{5}$$

olduğuna göre, x kaçtır?

- A) 2    B) 3    C) 5    D) 12    E) 15

50.

$$\frac{1}{3} + a = \frac{2}{7} - b$$

olduğuna göre, a + b toplamı kaçtır?

- A)  $\frac{-1}{21}$     B)  $\frac{-1}{7}$     C)  $\frac{1}{7}$   
D)  $\frac{3}{7}$     E)  $\frac{5}{7}$

51.

$$x = \frac{5}{6}$$

$$y = \frac{6}{7}$$

$$z = \frac{7}{8}$$

olduğuna göre, aşağıdaki sıralamalardan hangisi doğrudur?

- A)  $x < y < z$     B)  $x < z < y$     C)  $y < x < z$   
D)  $z < x < y$     E)  $z < y < x$

Diğer sayfaya geçiniz.

52. Üç basamaklı 34A sayısı 6 ile kalansız bölünebilmektedir.

Buna göre, A kaç farklı değer alabilir?

- A) 1 B) 2 C) 3 D) 4 E) 5

53. Ardışık üç tek pozitif tam sayının çarpımı bu sayılardan en küçüğünün 99 katıdır.

Buna göre, en büyük sayı kaçtır?

- A) 5 B) 7 C) 9 D) 11 E) 13

54. 30 sayfalık bir hikâye kitabını 1 den başlayarak numaralandırmak için toplam kaç tane rakam kullanılır?

- A) 43 B) 45 C) 47 D) 49 E) 51

55. Yasin'in boyunun uzunluğunun Orhan'inkine oranı  $\frac{7}{9}$  dur.

Yasin ile Orhan'ın boy uzunluklarının farkı 30 cm olduğuna göre, boy uzunluklarının toplamı kaç cm dir?

- A) 235 B) 240 C) 250 D) 265 E) 270

56. Meral bir testteki soruların önce  $\frac{1}{8}$  ini, sonra da kalan soruların  $\frac{2}{7}$  sini yanıtlamıştır.

Meral 24 soru daha yanıtlasaydı testteki soruların yarısını yanıtlamış olacağına göre, testte toplam kaç soru vardır?

- A) 132 B) 154 C) 168 D) 176 E) 192

# A

KPSS-ÖNLİSANS / 2008

57. Bir yardım kampanyasına 28 kişinin bir kısmı 5'er YTL, diğer kısmı ise 10 ar YTL para vererek katılıyor.

**Kampanyada 165 YTL para toplandığına göre, kampanyaya 10 YTL vererek katılan kişi sayısı kaçtır?**

- A) 2      B) 3      C) 4      D) 5      E) 6

58. Bir parça telin  $\frac{2}{15}$  i kesilince orta nokta eski durumuna göre 1,5 cm kayıyor.

**Bu telin uzunluğu kaç cm dir?**

- A) 21      B) 22,5      C) 25      D) 27,5      E) 29

59. Bir malın maliyet fiyatı a YTL dir. Bu mal bir mağazada maliyet fiyatı üzerinden % 10 kârla b YTL ye, bir başka mağazada ise b YTL üzerinden % 15 indirimle c YTL ye satılıyor.

**Buna göre, a, b ve c arasındaki sıralama aşağıdakilerden hangisidir?**

- A)  $a < b < c$       B)  $a < c < b$       C)  $b < a < c$   
D)  $c < a < b$       E)  $c < b < a$

60. Suyu dolu olan bir kabın ağırlığı a kg dir.

**Suyun  $\frac{2}{5}$  i kullanıldığında kabın ağırlığı b kg olduğuna göre, suyun ağırlığı a ve b cinsinden aşağıdakilerden hangisine eşittir?**

- A)  $5(a-b)$       B)  $9(a-b)$       C)  $\frac{3}{2}(a-b)$   
D)  $\frac{5}{2}(a-b)$       E)  $\frac{7}{2}(a-b)$

*Diğer sayfaya geçiniz.*

# A

KPSS-ÖNLİSANS / 2008

61. 1 kg elmanın fiyatı 1 kg portakalın fiyatının % 70 i dir.

**3 kg elma ve 5 kg portakal alan birinin ödediği toplam para 35,5 YTL olduğuna göre, 1 kg elma kaç YTL dir?**

- A) 3 B) 3,5 C) 4 D) 4,5 E) 5

63. Kadir, Gamze'ye 6 YTL verirse Kadir'in parası Gamze'nin parasının 3 katı oluyor; Gamze Kadir'e 4 YTL verirse Kadir'in parası Gamze'nin parasının 5 katı oluyor.

**Buna göre, Kadir'in parası kaç YTL dir?**

- A) 86 B) 88 C) 92 D) 94 E) 96

62. Bir kentten diğer bir kente gitmek için kullanılan iki yoldan birincinin uzunluğu  $5x - 7$  km, diğerinki ise  $3x + 5$  km dir.

**Birinci yol, ikinci yoldan daha uzun olduğuna göre,  $x$  tam sayısı en küçük kaç olabilir?**

- A) 3 B) 4 C) 5 D) 7 E) 9

64. Bugünkü yaşları toplamı 480 olan bir grup öğrencinin 4 yıl önceki yaş ortalaması 28 dir.

**Buna göre, gruptaki öğrenci sayısı kaçtır?**

- A) 10 B) 15 C) 18 D) 20 E) 22

*Diğer sayfaya geçiniz.*

65. Emel elindeki parayla 15 gömlek ile 10 pantolon ya da sadece 20 pantolon alabiliyor.

**Buna göre, Emel bu parayla kaç gömlek alabilir?**

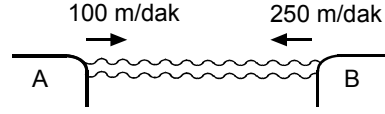
- A) 30 B) 35 C) 40 D) 45 E) 50

66. Bir köprüden geçiş ücreti olarak her bir kamyonun 5 YTL, dolmuşun 3 YTL ve taksiden 2 YTL alınmaktadır. Köprüden 2 dolmuş, 2 taksi ve 3 kamyon geçiyor.

**Köprüden geçen bu 7 araçtan herhangi 5 inden alınan toplam paranın 20 YTL olma olasılığı kaçtır?**

- A)  $\frac{1}{7}$  B)  $\frac{3}{7}$  C)  $\frac{5}{7}$   
D)  $\frac{4}{21}$  E)  $\frac{5}{21}$

- 67.



Bir gemi şekildeki A ve B iskeleleri arasındaki yolu, A dan B ye giderken dakikada 100 metre hızla, B den A ya giderken ise dakikada 250 metre hızla alıyor.

**Gemi A ve B iskeleleri arasındaki bir gidiş dönüşü 70 dakikada tamamladığına göre, iki iskele arasındaki uzaklık kaç metredir?**

- A) 4200 B) 4500 C) 4600 D) 4800 E) 5000

68. Bir su deposunun  $\frac{2}{5}$  i doludur.

**18 litre daha su konulunca  $\frac{5}{8}$  i dolu olan bu su deposu kaç litre su almaktadır?**

- A) 60 B) 70 C) 80 D) 90 E) 100

*Diğer sayfaya geçiniz.*



**69. – 71. SORULARI AŞAĞIDAKİ BİLGİLERE GÖRE CEVAPLAYINIZ.**

Aşağıdaki tabloda yıllara göre bir bölgedeki öğrenci ve öğretmen sayıları verilmiştir.

Yıllar	Öğrenci sayısı	Öğretmen sayısı
1970	200	100
1975	600	150
1980	680	170
1985	570	190
1990	1000	200
1995	2800	400
2000	3120	520
2005	4800	600

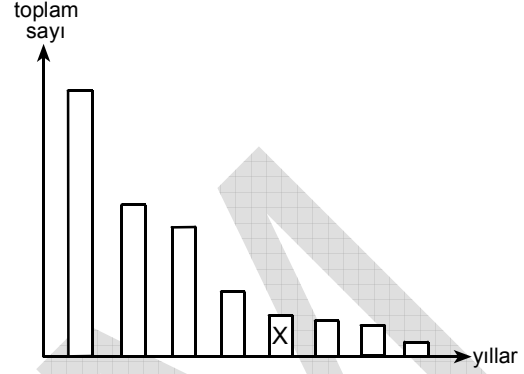
69. Hangi yıl öğretmen başına düşen öğrenci sayısı en azdır?

- A) 1970 B) 1980 C) 1985 D) 1995 E) 2000

70. 1975 yılındaki öğrenci sayısı 1970 yılındakine göre yüzde kaç artmıştır?

- A) 30 B) 40 C) 100 D) 200 E) 300

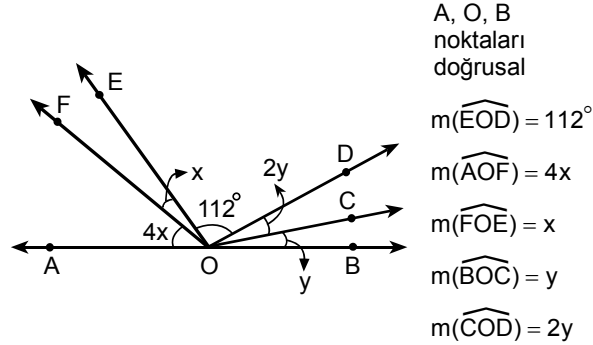
71. Tüm yıllardaki öğrenci ve öğretmen sayıları toplanıp büyükten küçüğe sıralanarak aşağıdaki grafik oluşturuluyor.



Buna göre, X ile gösterilen sütunun ait olduğu yıl aşağıdakilerden hangisidir?

- A) 1970 B) 1975 C) 1980 D) 1985 E) 1990

72.



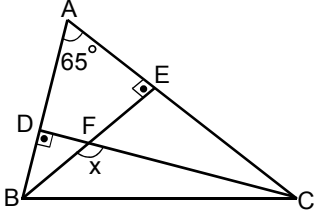
Yukarıdaki şekilde  $x + 3y = 40^\circ$  olduğuna göre,  $y - x$  kaç derecedir?

- A) 4 B) 7 C) 9 D) 12 E) 15

# A

KPSS-ÖNLİSANS / 2008

73.

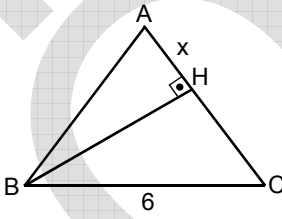


ABC bir üçgen  
 $[AB] \perp [CD]$   
 $[AC] \perp [BE]$   
 $m(\widehat{BAC}) = 65^\circ$   
 $m(\widehat{BFC}) = x$

Yukarıda verilere göre, x kaç derecedir?

- A) 100 B) 110 C) 115 D) 120 E) 125

74.

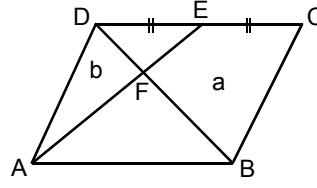


ABC bir ikizkenar  
 üçgen  
 $[BH] \perp [AC]$   
 $|BC| = 6 \text{ cm}$   
 $|AH| = x$

Yukarıdaki şekilde  $|AB| = |AC| = 9 \text{ cm}$  olduğuna göre, x kaç cm dir?

- A) 2 B) 3 C) 4 D) 5 E) 7

75.



ABCD bir  
 paralelkenar  
 $|DE| = |EC|$

Yukarıdaki şekilde ADF üçgeninin alanı  $b \text{ cm}^2$  ve BFEC dörtgeninin alanı  $a \text{ cm}^2$  olduğuna göre,  $\frac{a}{b}$  oranı kaçtır?

- A)  $\frac{3}{2}$  B)  $\frac{5}{2}$  C)  $\frac{7}{2}$   
 D) 2 E) 3

GENEL YETENEK TESTİ BİTTİ.  
 GENEL KÜLTÜR TESTİNE GEÇİNİZ.

# A

## GENEL KÜLTÜR TESTİ

KPSS-ÖNLİSANS / 2008

1. İslamiyetten önce kurulan Türk devletlerinde geniş toprakların idare edilmesinin zorluğu aşağıdakilerin hangisiyle giderilmeye çalışılmıştır?

- A) Ülkede inanç özgürlüğünün tanınması
- B) Yerleşik hayatın yaygınlaştırılması
- C) Ülkenin yönetim alanlarına ayrılması
- D) Evlilik yoluyla başka ülkelerle yakınlık kurulması
- E) Komşularla barışçıl ilişkilerin kurulmasına özen gösterilmesi

2. Aşağıdakilerden hangisi, Türk İslam devletlerinde hükümdarlık sembollerinden biri değildir?

- A) Hilat (giysi)
- B) Asa
- C) Bayrak (alem)
- D) Çetr (saltanat şemsiyesi)
- E) Ok

3. Aşağıdakilerden hangisi, Büyük Selçuklular Dönemine aittir?

- A) Nizamiye Medresesi
- B) Karatay Medresesi
- C) Çinili Köşk
- D) Muradiye Camisi
- E) İshak Paşa Sarayı

4. XVI. yüzyılın ikinci yarısından itibaren Osmanlı Devleti'nde toprak düzeninin bozulmasıyla toprak mülkiyeti yaygınlaşmıştır.

**Bu durumun aşağıdakilerden hangisine ortam hazırladığı savunulabilir?**

- A) Asker – sivil iş birliğine
- B) Feodal yapının güçlenmesine
- C) Toprak gelirlerinin artmasına
- D) Köylünün refah düzeyinin artmasına
- E) Ticaretin azınlıkların tekelinde olmasına

5. Osmanlı kanunnamelerinde "Saban giren yer mülk olmaz." şeklinde tanımlanan durumun aşağıdakilerden hangisiyle örtüştüğü savunulabilir?

- A) Toprağın gelirlere göre ayrılması
- B) Artan nüfus oranında yeni tarım alanlarının açılması
- C) Toprağın sadece kullanım hakkının köylüde olması
- D) Dirlik sahiplerinin cebelû yetiştirmek zorunda olması
- E) Her köylü ailesinin geçimini sağlayacak büyüklükte toprağa sahip olmasına özen gösterilmesi

*Diğer sayfaya geçiniz.*

## 6. Osmanlı Devleti dirlik sistemiyle,

- I. sipahinin geçimini karşılama,
- II. büyük bir askerî güce sahip olma,
- III. kapı kulu askerlerinin maaşını verme

durumlarından hangilerini sağlayarak hazinenin yükünü azaltmaya çalışmıştır?

- A) Yalnız I      B) Yalnız II      C) Yalnız III  
D) I ve II      E) II ve III

## 7. XIX. yüzyılda Osmanlı Devleti'nde azınlıkların Mebuslar Meclisinde temsil edilmesi aşağıdakilerden hangisini gösterir?

- A) Divanihümayunla Mebuslar Meclisinin yapısının aynı olduğunu  
B) Yenilik hareketlerinin halktan geldiğini  
C) Bağımsızlık hareketlerinin önlenmek istendiğini  
D) Taht kavgalarının sona erdirilmesinin amaçlandığını  
E) Azınlıklara inanç özgürlüğü tanındığını

## 8. Osmanlı Devleti'nde, sarraf geleneğinden bankacılığa kaçınıcı yüzyıldan itibaren geçilmiştir?

- A) 20.      B) 19.      C) 18.      D) 17.      E) 16.

## 9.

- I. Nizamı Cedit Ocağı
- II. Eşkinci Ocağı
- III. Enderun Mektebi

Yukarıdakilerden hangileri, orduyu güçlendirmek için III. Selim zamanında yapılan yenilikler arasındadır?

- A) Yalnız I      B) Yalnız II      C) Yalnız III  
D) I ve II      E) II ve III

## 10. Aşağıdakilerden hangisi III. Ahmet Dönemi gelişmelerinden biridir?

- A) Senedi İttifak'ın yapılması  
B) Türk matbaasının kurulması  
C) Yeniçeri Ocağının kurulması  
D) Kanunuesasi'nin uygulamaya konulması  
E) Kanunname-i Âli Osman'ın toplanması

## 11. Osmanlı Devleti'nde,

- I. Osmanlı Bankasının kurulması,
- II. Ziraat Bankasının kurulması,
- III. esnaf teşkilatının kurulması

gelişmelerinden hangileri XIX. yüzyılda gerçekleştirilmiştir?

- A) Yalnız I      B) Yalnız II      C) Yalnız III  
D) I ve II      E) I, II ve III

*Diğer sayfaya geçiniz.*

12. Amasya Genelgesi'nde milletin özgürlüğünü ve devletin bağımsızlığını sağlamak amacıyla Sivas'ta bir kongrenin toplanmasına karar verilmiştir.

**Bu kararla aşağıdakilerden hangisinin öngörüldüğü savunulabilir?**

- A) Ulusal kararların geniş katılımı alınması gerektiğinin  
B) Yerel cemiyetlerin kurulmasının  
C) Uluslararası ilişkilerin başlamasının  
D) İstanbul Hükûmetiyle görüşülmesinin  
E) Milletvekili seçimlerinin çabuklaştırılmasının

13. Erzurum Kongresi'nde aşağıdakilerden hangisiyle ilgili karar alınmamıştır?

- A) İşgal amacı olmayan devletlerin yardımlarının kabul edilmesi  
B) Ulusal sınırlar içinde vatanın bir bütün olduğu  
C) Hükûmet işlerinin Meclis denetiminde sürdürülmesine çalışılması  
D) Siyasi egemenliği, toplumsal dengeyi bozacak ayrıcalıkların reddi  
E) Redd-i İlhak ve Müdafaa-i Hukuk Cemiyetlerinin kurulması

14. Aşağıdakilerden hangisi, TBMM'ye karşı çıkarılan ayaklanmaların sonuçlarından biridir?

- A) Ulusal kongrelerin toplanması  
B) Ulusal mücadelenin zorlaşması  
C) Azınlık ayaklanmalarının çıkması  
D) Tekâlif-i Millîye Emirlerinin çıkarılması  
E) Afganistan'la dostluk antlaşmasının imzalanması

- 15.

- I. TBMM'nin hukuki varlığının Anlaşma Devletlerince tanınması  
II. Ermeni sorununun çözülmesi  
III. Misakımillî kararlarının başta Avrupa ülkeleri olmak üzere dünya kamuoyuna anlatılması

**1921 yılında TBMM, yukarıdakilerden hangileri için Londra Konferansı'na katılmayı yararlı görmüştür?**

- A) Yalnız I  
B) Yalnız II  
C) I ve III  
D) II ve III  
E) I, II ve III

16. Aşağıdakilerin hangisinde, Birinci İnönü Savaşı'nın kazanılmasının etkisi vardır?

- A) Gümrü Antlaşması  
B) Moskova Antlaşması  
C) Bükreş Antlaşması  
D) Atina Antlaşması  
E) İstanbul Antlaşması

17. Yeni Türk Devleti kurulduğunda Kanunuesasi yürürlükten kaldırılmamış ancak 1921 Anayasası'nda bulunmayan hükümler Kanunuesasi'nin hükümleriyle karşılanmıştır.

**Bu durumun, aşağıdakilerden hangisinin bir göstergesi olduğu savunulamaz?**

- A) Kanunuesasi'den yararlanıldığı  
B) Kanunuesasi'nin daha kapsamlı bir metin olduğunun  
C) Mecliste gruplaşmaların olduğunun  
D) Zaman kazanılmasına gereksinim duyulduğunun  
E) Anayasal düzene Osmanlı Döneminde geçildiğinin

*Diğer sayfaya geçiniz.*

18. Tekâlif-i Millîye Emirlerinin çıkarılmasına aşağıdaki savaşların hangisinin sonucunda gerek görülmüştür?

- A) Başkomutanlık Savaşı
- B) Sakarya Savaşı
- C) Birinci İnönü Savaşı
- D) İkinci İnönü Savaşı
- E) Eskişehir ve Kütahya Savaşları

19.

- I. Azınlıkların Türk vatandaşı sayılması
- II. Rodos ve Oniki Ada'nın İtalya'ya bırakılması
- III. Boğazlar Komisyonunun kaldırılması

Yukarıdakilerden hangileri Lozan Antlaşması'nın sonuçları arasındadır?

- A) Yalnız I
- B) Yalnız II
- C) Yalnız III
- D) I ve II
- E) II ve III

20. Aşağıdakilerden hangisi, 1937 yılında yapılan değişiklikle, 1924 Anayasası'nda yer almıştır?

- A) Atatürk ilkeleri
- B) Milletvekillerinin yemin şekli
- C) Yeni Türk Devleti'nin yönetim biçimi
- D) Yeni Türk Devleti'nin başkenti
- E) Yeni Türk Devleti'nin resmî dili

21. Atatürk 1924 yılında, "Bizim milletimiz vatanı için, hürriyeti ve egemenliği için fedakâr bir halktır, bunu ispat etti. Milletimiz yaptığı inkılapların kiskanç müdafiidir de. Benliğinde bu faziletler yerleşmiş bir milleti yürütmekte olduğu doğru yoldan hiçbir kimse hiçbir kuvvet alıkoyamaz." demiştir.

Atatürk'ün bu ifadesiyle Türk milletinin,

- I. özgürlük,
- II. bağımsızlık,
- III. inkılapçılık

ilkelerinden hangilerini korumada kararlılığını vurguladığı savunulabilir?

- A) Yalnız I
- B) Yalnız II
- C) Yalnız III
- D) I ve II
- E) I, II ve III

22.

- I. Hukuk
- II. Ekonomi
- III. Öğretim

Cumhuriyet Döneminde yukarıdaki alanların hangileriyle ilgili uygulamalarda birlik sağlamak amacı olduğu savunulabilir?

- A) Yalnız I
- B) Yalnız II
- C) Yalnız III
- D) I ve III
- E) I, II ve III

23.

- I. Siyasi rejim
- II. Ekonomik politika
- III. Uluslararası ilişkiler

Cumhuriyetçilik ilkesi yukarıdakilerden hangilerini doğrudan belirler?

- A) Yalnız I
- B) Yalnız II
- C) Yalnız III
- D) I ve II
- E) II ve III

24. Atatürk Onuncu Yıl Nutku'nda "Türk milletinin yürümekte olduğu terakki ve medeniyet yolunda, elinde ve kafasında tuttuğu meşale, müspet ilimdir." demiştir.

Atatürk'ün bu sözünün aşağıdaki ilkelerden hangisinin önemini doğrudan vurguladığı savunulabilir?

- A) Milliyetçilik B) Halkçılık C) Laiklik  
D) Devletçilik E) Cumhuriyetçilik

25.

- I. Yabancıların Türk kara sularında ticaret yapmasının yasak olması
- II. Yabancı ticaret gemilerinin Boğazlardan geçişinin serbest olması
- III. Yabancıların Marmara ve Türkiye'deki nehirlerde ve göllerde gemi bulundurmasının yasak olması

Yukarıdakilerden hangileri Kabotaj Kanunu'nun kapsamındadır?

- A) Yalnız I B) Yalnız II C) Yalnız III  
D) I ve III E) I, II ve III

26.

- I. Evlenme akdinin devlet işi olarak nitelenmesi
- II. Kadının tanıklıkta erkekle eşit olması
- III. Resmî nikâhtan sonra inançlara göre dinsel tören yapılabilmesi

Yukarıdakilerden hangileri, 4 Ekim 1926 tarihinde yürürlüğe giren Medeni Kanun'un kapsamındadır?

- A) Yalnız I B) Yalnız II C) Yalnız III  
D) I ve II E) I, II ve III

27. Türkiye'de,

- I. kadınlara seçme ve seçilme hakkının verilmesi,
- II. iki dereceli seçim sisteminden tek dereceli seçim sistemine geçilerek halkın milletvekillerini doğrudan seçebilmesi,
- III. milletvekilleri seçimlerinin iki yılda bir yapılması yerine, dört yılda bir yapılması

gelişmelerinden hangilerinin demokrasinin gereği olduğu savunulabilir?

- A) Yalnız I B) Yalnız II C) Yalnız III  
D) I ve II E) II ve III

28.

- I. İnkıpların sürekliliğini sağlama
- II. Çağdaş uygarlık düzeyine çıkma
- III. Gerçekleştirilen inkıplarla yetinme

Yukarıdakilerden hangileri, inkılapçılık ilkesinin, toplumu durağanlıktan, dogmacılıktan kurtarma amaçlı olduğunu gösterir?

- A) Yalnız I B) Yalnız II C) I ve II  
D) II ve III E) I, II ve III

29. Atatürkçü milliyetçilik anlayışı ırk, din ve mezhep ayrımcılığına karşıdır.

**Yalnız bu bilgiyle Atatürk milliyetçiliğinin,**

- I. laik devlet anlayışını benimseme,
- II. etnik kimliklere saygılı olma,
- III. milletin birliğine ve bütünlüğüne önem verme

**özelliklerinden hangilerine ulaşılır?**

- A) Yalnız I      B) Yalnız II      C) Yalnız III  
D) II ve III      E) I, II ve III

30. Müslümanlar üzerinde nüfuzu olan halifeliğin kaldırılmasında aşağıdakilerden hangisinin etkili olduğu savunulabilir?

- A) Mecelle yerine Medeni Kanun'un kabul edilmesi
- B) Saltanatın kaldırılarak Cumhuriyet'in ilan edilmesi
- C) Tekke ve türbelerin kapatılması
- D) Anayasa'dan laikliğe aykırı maddelerin çıkarılması
- E) Medreselerin kapatılması

31. Aşağıdakilerden hangisi Millet Mekteplerinin açılmasındaki amaçlardan biridir?

- A) Her kesimden vatandaşın okur yazar duruma getirmek
- B) Yurt dışına gidecek bireylere yabancı dil öğretmek
- C) Harf inkılabının yapılmasına ortam oluşturmak
- D) Medreselerin kapatılmasını sağlamak
- E) İlköğretimi zorunlu hâle getirmek

- 32.

- I. Türkiye'nin Milletler Cemiyetine üye olması
- II. Kadınlara siyasi hakların tanınması
- III. Tek dereceli seçim sistemine geçilmesi

**Yukarıdakilerden hangileri Atatürk Dönemi gelişmeleri arasındadır?**

- A) Yalnız I      B) Yalnız II      C) Yalnız III  
D) I ve II      E) I, II ve III

- 33.

- I. İş Bankasının kurulması
- II. Âşar vergisinin kaldırılması
- III. Sümerbankın kurulması

**Yukarıdakilerden hangileri Atatürk Döneminde Türk çiftçisini rahatlatmak amacıyla gerçekleştirilmiştir?**

- A) Yalnız I      B) Yalnız II      C) Yalnız III  
D) II ve III      E) I, II ve III



## 34. Atatürk Döneminde,

- I. yüksek gümrük vergisi konulması,
- II. ülkeye girecek eşyanın cinsi ve miktarının hükümet tarafından tespit edilmesi,
- III. uluslararası sergi ve panayirlara katılma kararı alınması

**önlemlerinden hangilerinin, ihracatı ithalata göre artırmak amacıyla alındığı savunulabilir?**

- A) Yalnız I      B) Yalnız II      C) Yalnız III  
D) I ve II      E) I, II ve III

35. Bozkurt adlı Türk gemisi Fransız Lotus gemisine çarparak batmıştır. Fransa, Türk mahkemesinin kararlarına itiraz etmiş; Türkiye bu itirazı kabul etmemiştir. Tarafların konuyu Lahey Adalet Divanına götürmesi sonucunda Türk mahkemesinin verdiği kararın değiştirilmesine gerek duyulmamıştır.

**Yalnız bu bilginin,**

- I. Türk hukuku ve adalet örgütünün egemenlik haklarına dayalı çağdaş düzeye yükseldiği,
- II. Türkiye – Fransa arasında yapılan ticarete ara verildiği,
- III. Türkiye'nin uluslararası deniz ticaretinde çok önemli bir yeri olduğu

**durumlarından hangilerine kanıt olduğu savunulabilir?**

- A) Yalnız I      B) Yalnız II      C) Yalnız III  
D) I ve II      E) I, II ve III

## 36.

- I. Hatay
- II. Batum
- III. Musul

**Yukarıdakilerden hangileri 1926 Ankara Antlaşması'yla Türkiye'nin sınırları dışında kalmıştır?**

- A) Yalnız I      B) Yalnız II      C) Yalnız III  
D) I ve II      E) I, II ve III

## 37. Sadâbat Paktına üye devletler,

- I. bölgesel barışı koruma,
- II. iç işlerine karışma,
- III. sınırları koruma

**durumlarından hangilerinin yükümlülüğünü karşılıklı olarak kabul etmişlerdir?**

- A) Yalnız I      B) Yalnız II      C) Yalnız III  
D) I ve III      E) I, II ve III

# A

KPSS-ÖNLİSANS / 2008

38. Türkiye'nin özel konumunun aşağıdakilerden hangisi üzerinde etkili olduğu söylenemez?

- A) Yerel saat                      B) Deniz ulaşımı  
C) Turizm etkinlikleri        D) İklim koşulları  
E) Transit taşımacılık

40. Marmara Bölgesi'nde görülen iklim çeşitliliğinin aşağıdakilerden hangisi üzerinde en az etkili olduğu söylenebilir?

- A) Endüstri kuruluşları  
B) Doğal bitki örtüsü  
C) Deniz turizmine elverişli süre  
D) Yetiştirilen tarım ürünleri  
E) Toprak türleri

39. Aşağıdakilerden hangisi, Türkiye'nin kıyı bölgelerinin ortak özelliklerinden biri değildir?

- A) Bölümleri arasında ortalama yükselti bakımından fark olması  
B) Akarsu ağızlarında delta ovalarının olması  
C) Karstik göllerin yaygın olarak görülmesi  
D) Dağların uzanışının kıyıların şekillenmesinde etkili olması  
E) Alp orojenezinde oluşmuş sıradağların bulunması

41. Aşağıdaki merkezlerin hangisinde gerçek sıcaklık ile indirgenmiş sıcaklık arasındaki fark diğerlerinden daha fazladır?

- A) Edirne                      B) Samsun                      C) Sivas  
D) Kars                      E) Adana

*Diğer sayfaya geçiniz.*

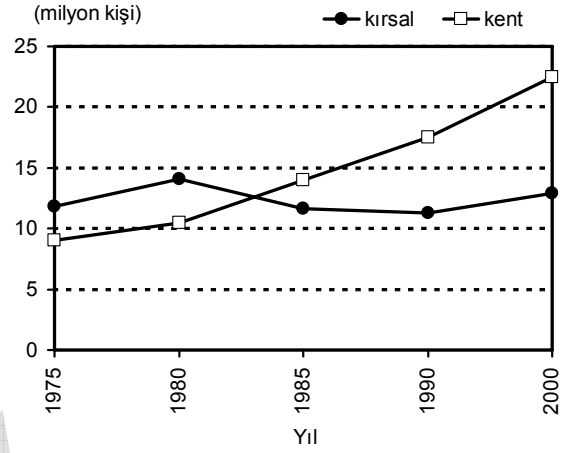
42. Türkiye’de nüfusun düzensiz dağılışında etkili olan etmenlerden ikisi aşağıdakilerin hangisinde birlikte verilmiştir?

- A) Enlem – Yağış biçimi
- B) Toprak türü – Jeolojik yapı
- C) Yükselti – Yer şekilleri
- D) Yağış biçimi – Bitki örtüsü
- E) Yer şekilleri – Enlem

43. Türkiye’de, kentsel nüfusun yaklaşık % 40’ının İstanbul, Ankara ve İzmir illerinde toplanmasında aşağıdakilerden hangisinin etkisi en azdır?

- A) Ulaşım olanaklarının fazla olması
- B) Yerli üretimi tanıtıcı fuarların kurulması
- C) Ticaret hacminin büyük olması
- D) Çeşitli endüstri kuruluşlarının bulunması
- E) Sağlık ve eğitim olanaklarının fazla olması

44. Aşağıdaki grafik, Türkiye’de 1975-2000 sayım yılları arasında kentlerde ve kırsal kesimde yaşayan erkek nüfusun değişimini göstermektedir.



Bu grafikten aşağıdaki sonuçlardan hangisi çıkarılamaz?

- A) Yalnızca 1975-1980 döneminde, hem kentsel hem de kırsal kesimde erkek nüfus artmıştır.
- B) Kırsal kesimdeki erkek nüfusun en fazla olduğu yıl 1980’dir.
- C) Kentlerdeki erkek nüfusun artış hızı kırsal kesimdekinden daha fazladır.
- D) Kırsal kesim ve kentlerde yaşayan erkek nüfus miktarı arasındaki en büyük fark 2000 yılındadır.
- E) 1980-1985 döneminde kentlerdeki erkek nüfus artarken, kırsal kesimdeki azalmıştır.

45. Aşağıdaki bölgelerin hangisinde, endüstride çalışan kişi sayısı diğerlerinden daha fazladır?

- A) Akdeniz
- B) Marmara
- C) İç Anadolu
- D) Ege
- E) Karadeniz

*Diğer sayfaya geçiniz.*

46. Aşağıdaki platolardan hangisinin bölge ekonomisine katkısında büyükbaş hayvancılık ilk sıradadır?

- A) Çatalca-Kocaeli                      B) Erzurum-Kars  
C) Taşeli                                      D) Cihanbeyli  
E) Gaziantep

48.

- I. Bakır  
II. Taş kömürü  
III. Linyit  
IV. Demir

Yukarıdaki madenlerden hangilerinin Türkiye'deki üretiminin tümü Karadeniz Bölgesi'nden elde edilir?

- A) Yalnız I                      B) Yalnız II                      C) I ve II  
D) II ve III                      E) III ve IV

47. Türkiye'deki bazı fabrikaların kuruluş yerleriyle ilgili aşağıdaki genellemelerden hangisi doğrudur?

- A) Bitkisel yağ fabrikaları, ham maddeye yakın yerlerde kurulmuştur.  
B) Seramik fabrikaları, inşaat sektörünün geliştiği yerlerde kurulmuştur.  
C) Demir-çelik fabrikaları, demir cevherinin çıkarıldığı yerlerde kurulmuştur.  
D) Otomobil fabrikaları, termik santrallere yakın yerlerde kurulmuştur.  
E) Deri konfeksiyon fabrikaları, hayvancılığın yaygın olarak yapıldığı yerlerde kurulmuştur.

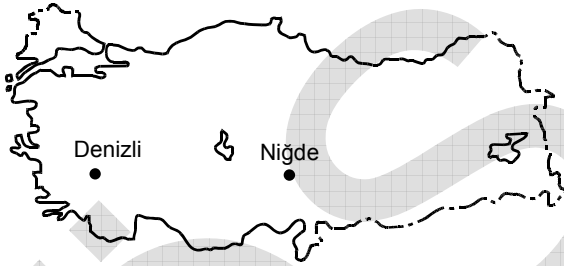
49. Türkiye'nin, ekonomisi gelişen bir ülke olmasında aşağıdakilerden hangisinin en az etkili olduğu söylenebilir?

- A) Nüfusun genç ve dinamik olması  
B) Fiziki ve beşerî özellikleri farklı coğrafi bölgelerin olması  
C) Yer altı ve yer üstü kaynaklarının çeşitli olması  
D) Avrupa'yla Asya, özellikle Orta Doğu ülkeleri arasında köprü görevi görmesi  
E) Topraklarının büyük bir bölümünün Anadolu Yarımadası'nda olması

50. Doğu Karadeniz Bölümü'nde çay üretiminin yapıldığı kuşağa ekilecek aşağıdaki bitkilerin hangisinden ürün almak daha zordur?

- A) Fındık                      B) Tütün                      C) Pamuk  
D) Turunçgiller              E) Mısır

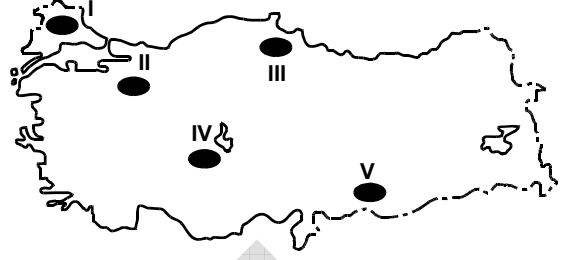
51.



Haritada gösterilen iki kentin çevresinde yetiştirilen tarım ürünlerinin farklı olmasında, aşağıdakilerden hangisinin etkisi yoktur?

- A) Tarım alanlarının genişliklerinin farklı olması  
B) Dağların kıyı çizgisine göre uzanış yönünün farklı olması  
C) Toprak türlerinin farklı olması  
D) Yıllık yağış tutarlarının farklı olması  
E) Yükseltilerinin farklı olması

52.



İklim koşulları göz önüne alındığında, yukarıdaki haritada numaralarla gösterilen tarım alanlarının hangilerinde, sulamaya diğerlerinden daha fazla gereksinim duyulması beklenir?

- A) I ve II                      B) II ve III                      C) II ve V  
D) III ve IV                      E) IV ve V

53. Aşağıdakilerden hangisi, hem Güneydoğu Anadolu Bölgesi'nde hem de İç Anadolu Bölgesi'nde yaygın olarak yetiştirilen bir tarım ürünü değildir?

- A) Buğday                      B) Tütün                      C) Elma  
D) Üzüm                      E) Mercimek

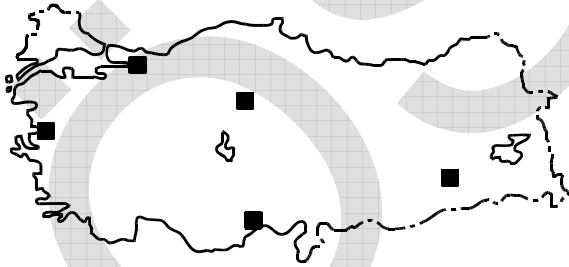
54.

- I. Daha çok baraj ve akarsularda yapılmaktadır.
- II. Deniz balıkçılığına göre daha gelişmiştir.
- III. En fazla alabalık üretilmektedir.

**Türkiye’de tatlı su balıkçılığıyla ilgili yukarıdaki özelliklerden hangileri doğrudur?**

- A) Yalnız I
- B) Yalnız II
- C) Yalnız III
- D) I ve III
- E) II ve III

55.



**Haritada işaretlenmiş merkezlerin beşinde de yapılan ve Türkiye ekonomisine önemli bir katkı sağlayan etkinlik aşağıdakilerden hangisidir?**

- A) Zeytin üretimi
- B) Yayla turizmi
- C) Petrol arıtımı
- D) Linyit çıkarımı
- E) Sigara üretimi

**56. Türkiye’de elektrik enerjisi üretimine jeotermal kaynaklarıyla en çok katkıda bulunan bölüm aşağıdakilerden hangisidir?**

- A) Ege
- B) Orta Karadeniz
- C) Yukarı Kızılırmak
- D) Adana
- E) Orta Fırat

**57. Adana, Ege ve Çatalca-Kocaeli Bölgeleri, aşağıdakilerin hangisi bakımından benzerlik gösterir?**

- A) Yüz ölçümlerinin büyüklüğü
- B) Seracılığın gelişmişliği
- C) Tarım yapılan alanların genişliği
- D) Endüstri gelirlerinin yüksekliği
- E) Yer altı kaynaklarının zenginliği

58. Aşağıdaki etkinliklerden hangisinin Güney Marmara Bölümü'nün ekonomisindeki payı diğerlerinden daha azdır?

- A) Seramik endüstrisi
- B) Turizm
- C) Otomotiv endüstrisi
- D) Bitkisel yağ üretimi
- E) Hidroelektrik üretim

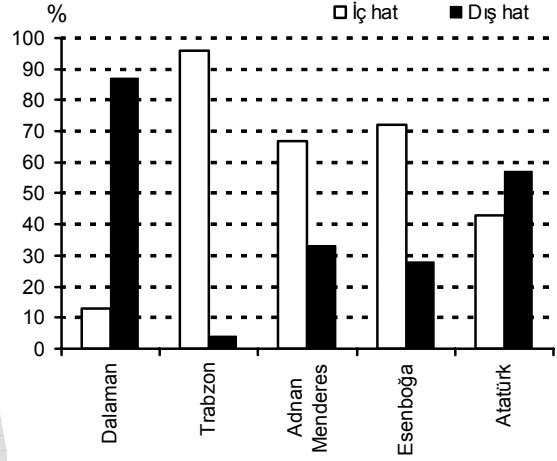
59. Akdeniz Bölgesi'ndeki,

- I. enerji üretimi,
- II. endüstri,
- III. ulaşım,
- IV. ticaret

sektörlerinden hangileri turizmin gelişmesine bağlı olarak daha çok canlılık kazanmıştır?

- A) I ve II
- B) I ve IV
- C) II ve III
- D) II ve IV
- E) III ve IV

60. Aşağıdaki grafikte, 2006 yılında Türkiye'nin bazı havaalanlarına gelen ve giden yolcuların iç ve dış hatlara göre oransal dağılımı gösterilmiştir.



**Yalnızca bu grafikteki bilgilerden yararlanarak aşağıdakilerin hangisine ulaşılabilir?**

- A) İç hatlarda Atatürk Havaalanı'na gelen ve giden yolcu sayıları birbirine yakındır.
- B) Adnan Menderes Havaalanı'ndaki iç hat yolcu sayısı Atatürk Havaalanı'ndakinden fazladır.
- C) Dalaman ve Trabzon Havaalanlarının dış hat oranları birbirine yakındır.
- D) İç hat yolcu oranları birbirine en yakın olan havaalanları Adnan Menderes ve Esenboğa'dır.
- E) İç ve dış hatlar arasındaki oransal farkın en fazla olduğu havaalanı Dalaman'dır.

61. Aşağıdakilerden hangisi, görevleriyle ilgili suçlardan ötürü Yüce Divanda değil, olağan yargı organlarında yargılanır?

- A) Vatana ihanet durumunda Cumhurbaşkanı
- B) Yargıtay Başkanı ve üyeleri
- C) Milletvekilleri
- D) Başbakan
- E) Bakanlar

62. 1982 Anayasası'na göre, Cumhurbaşkanının hastalık veya yurt dışına çıkma gibi sebeplerle geçici olarak görevinden ayrılması hâllerinde, görevine dönünceye kadar, Cumhurbaşkanlığına aşağıdakilerden hangisi vekâlet eder?

- A) TBMM Başkanı
- B) Cumhurbaşkanlığı Genel Sekreteri
- C) Cumhurbaşkanının belirleyeceği en az 40 yaşında olan ve yüksek öğrenim yapmış bir milletvekili
- D) Anayasa Mahkemesi Başkanı
- E) Başbakan

63. 1982 Anayasası'na göre, milletlerarası hukukun meşru saydığı hâllerde savaş hâli ilanına aşağıdakilerden hangisi karar verebilir?

- A) Millî Savunma Bakanının önerisi üzerine Cumhurbaşkanı
- B) İçişleri Bakanının önerisi üzerine Başbakan
- C) Doğrudan Başbakan
- D) Millî Güvenlik Kurulu
- E) TBMM

64. 1982 Anayasası'na göre, TBMM'nin görev süresiyle ilgili aşağıdaki ifadelerden hangisi doğrudur?

- A) 1982 Anayasası, en başından beri TBMM'nin 4 yıllık bir süre için seçileceğini öngörmüştür ve bu konuda herhangi bir değişiklik yapılmamıştır.
- B) 1982 Anayasası'nın ilk şeklinde TBMM'nin 6 yıllık bir süre için seçileceği öngörülmekteydi; fakat 2001 yılında yapılan bir değişiklikle, bu süre 4 yıla indirilmiştir.
- C) 1982 Anayasası, en başından beri TBMM'nin 5 yıllık bir süre için seçileceğini öngörmüştür ve bu konuda herhangi bir değişiklik yapılmamıştır.
- D) Anayasa, TBMM'nin görev süresi hakkında herhangi bir hüküm içermemektedir. Bu husus 5 yıl olarak Milletvekili Seçimi Kanunu'nda düzenlenmiş bulunmaktadır.
- E) 1982 Anayasası, 2007 yılına gelinceye kadar TBMM'nin 5 yıllık bir süre için seçileceğini öngörmekteydi; fakat bu süre 2007 yılında yapılan bir değişiklikle 4 yıla indirilmiştir.

65. Aşağıdakilerden hangisi hukuk devleti ilkesinin zorunlu koşulu değildir?

- A) Yasal idare ilkesi
- B) Yargı birliği
- C) İdarenin mali sorumluluğu
- D) Yargı bağımsızlığı
- E) Yasaya saygı ilkesi



66. Yargıtay üyelerini aşağıdakilerden hangisi seçer?

- A) Cumhurbaşkanı
- B) Hâkimler ve Savcılar Yüksek Kurulu
- C) Yargıtay Genel Kurulu
- D) Yargıtay İçtihadı Birleştirme Genel Kurulu
- E) Adalet Bakanı

67. Merkezî idarenin başkent dışındaki teşkilatına ne ad verilir?

- A) Belediye
- B) İl özel idaresi
- C) Taşra teşkilatı
- D) Mahallî idare teşkilatı
- E) Hizmet yerinden yönetimi

68. Aşağıdakilerden hangisi Millî Güvenlik Kurulunun üyelerinden biri değildir?

- A) Cumhurbaşkanı
- B) Başbakan
- C) Genelkurmay Başkanı
- D) TBMM Başkanı
- E) Hava Kuvvetleri Komutanı

69. Aşağıdakilerden hangisi hukukun yazılı kaynaklarından biri değildir?

- A) Örf ve Adet
- B) Kanun
- C) Tüzük
- D) Yönetmelik
- E) Anayasa

70. Dürüstlük kuralı aşağıdakilerin hangisinde uygulanmaz?

- A) Sözleşmelerin yorumlanmasında
- B) Sözleşmelerdeki boşlukların doldurulmasında
- C) Sözleşmelerde yan yükümlülüklerin yerine getirilmesinde
- D) Sözleşme öncesi müzakerelerde
- E) Sözleşmede öngörülen bir hakkın kazanılmasında

71. Aşağıdakilerden hangisi sınırlı ehliyetsizdir?

- A) Evli kişi
- B) Kendisine yasal danışman atanan kişi
- C) Mahkeme kararıyla ergin kılınmış olup ayırt etme gücüne sahip kişi
- D) Akıl zayıflığı sebebiyle kısıtlanmış, ayırt etme gücüne sahip kişi
- E) Velayet altında bulunan 3 yaşındaki çocuk

*Diğer sayfaya geçiniz.*

# A

KPSS-ÖNLİSANS / 2008

72. Türkiye aşağıdaki uluslararası örgütlerden hangisine üye değildir?

- A) İslam Konferansı Örgütü (İKÖ)
- B) Bağımsız Devletler Topluluğu (BDT)
- C) Ekonomik İşbirliği Örgütü (ECO)
- D) Kuzey Atlantik Antlaşması Örgütü (NATO)
- E) Avrupa Güvenlik ve İşbirliği Teşkilatı (AGİT)

74. 2006 yılından itibaren T.C. Merkez Bankası Başkanı aşağıdakilerden hangisidir?

- A) Ahmet Ertürk
- B) Tefik Bilgin
- C) Mehmet Şimşek
- D) Durmuş Yılmaz
- E) Süreyya Serdengeçti

73. G-8 zirvesi, 2008 yılında hangi ülkede yapılmıştır?

- A) ABD
- B) Rusya
- C) Japonya
- D) Almanya
- E) Fransa

75. 61. Cannes Film Festivali'nde "Üç Maymun" isimli filmi ile en iyi yönetmen ödülünü alan Türk yönetmen aşağıdakilerden hangisidir?

- A) Fatih Akın
- B) Çağan Irmak
- C) Ali Özgentürk
- D) Mustafa Altıoklar
- E) Nuri Bilge Ceylan

**TEST BİTTİ.**

**CEVAPLARINIZI KONTROL EDİNİZ.**

**KAMU PERSONEL SEÇME SINAVI (KPSS)**

21 EYLÜL 2008

**ÖNLİSANS**

**GENEL YETENEK TESTİ**

**A KİTAPÇIĞI**

- |       |       |       |
|-------|-------|-------|
| 1. C  | 26. B | 51. A |
| 2. B  | 27. A | 52. B |
| 3. A  | 28. E | 53. D |
| 4. E  | 29. C | 54. E |
| 5. D  | 30. A | 55. B |
| 6. B  | 31. B | 56. E |
| 7. C  | 32. C | 57. D |
| 8. D  | 33. A | 58. B |
| 9. B  | 34. D | 59. D |
| 10. D | 35. E | 60. D |
| 11. B | 36. C | 61. B |
| 12. E | 37. D | 62. D |
| 13. A | 38. C | 63. E |
| 14. D | 39. E | 64. B |
| 15. C | 40. E | 65. A |
| 16. B | 41. B | 66. D |
| 17. C | 42. C | 67. E |
| 18. A | 43. A | 68. C |
| 19. E | 44. A | 69. A |
| 20. B | 45. D | 70. D |
| 21. D | 46. A | 71. C |
| 22. E | 47. E | 72. A |
| 23. C | 48. C | 73. C |
| 24. E | 49. E | 74. E |
| 25. D | 50. A | 75. B |

**KAMU PERSONEL SEÇME SINAVI (KPSS)**

21 EYLÜL 2008

**ÖNLİSANS**

**GENEL KÜLTÜR TESTİ**

**A KİTAPÇIĞI**

- |       |       |       |
|-------|-------|-------|
| 1. C  | 26. E | 51. A |
| 2. E  | 27. D | 52. E |
| 3. A  | 28. C | 53. B |
| 4. B  | 29. E | 54. D |
| 5. C  | 30. B | 55. C |
| 6. D  | 31. A | 56. A |
| 7. C  | 32. D | 57. D |
| 8. B  | 33. B | 58. E |
| 9. A  | 34. E | 59. E |
| 10. B | 35. A | 60. D |
| 11. D | 36. C | 61. C |
| 12. A | 37. D | 62. A |
| 13. E | 38. A | 63. E |
| 14. B | 39. C | 64. E |
| 15. C | 40. A | 65. B |
| 16. B | 41. D | 66. B |
| 17. C | 42. C | 67. C |
| 18. E | 43. B | 68. D |
| 19. D | 44. A | 69. A |
| 20. A | 45. B | 70. E |
| 21. E | 46. B | 71. D |
| 22. D | 47. A | 72. B |
| 23. A | 48. B | 73. C |
| 24. C | 49. E | 74. D |
| 25. D | 50. C | 75. E |