

A

GENEL YETENEK TESTİ

KPSS-ORTAÖĞR. / 2008

1. Çok küçük, çelimsiz bir örümcekti bu. Mercimek tane-si büyüklüğündeki bedeni yaylanıyor, ama tepeye tır-manma çabası her seferinde ---- sonuçlanıyordu. Kim bilir nereden gelip de banyo küvetine düşmüştü. Ban-yo küvetinin duvarına bir daha tırmandı. Tam doruğa ulaşacakken yine aşağıya ----.

Bu parçadaki boş bırakılan yerlere sırasıyla aşağı-dakilerden hangisinin getirilmesi uygun olur?

- A) beceriksizlikle – kayıverdi
B) başarısızlıkla – yuvarlanıverdi
C) mutsuzlukla – iniverdi
D) engelle – düşüverdi
E) kötü – hoplayıverdi

2. "İçin" sözcüğü aşağıdakilerin hangisinde cümleye ötekilerden farklı bir anlam katmıştır?

- A) Temiz bir çevre için herkes çaba göstermelidir.
B) Sağlıklı ve uzun bir yaşam için spor yapmalı-sınız.
C) Buradan köye ulaşmak için bir saat yürüme-lisiniz.
D) Şehrin yabancı olduğu için gezerken sık sık yolumu kaybettim.
E) Bu işi zamanında bitirebilmek için çok çalışma-lıyım.

3. Aşağıdaki cümlelerin hangisinde, deyim in an-la-mıyla ayraç içindeki söz uyuşmamaktadır?

- A) Elindeki işi kılı kırk yararak iki günde yaptı. (yavaşça)
B) Yanında konuşanın sözlerine kulak kesildi. (dikkatle dinlemek)
C) Bu oyuncunun sezon boyunca takıma dış dokunur bir katkısı olmadı. (önemli)
D) Olacakların kokusunu çok önceden almıştı. (sezmek)
E) Lisedeyken çok konuşmayan, ağırbaşlı bir çocuktü. (ciddi)

4. (I) Buralara gelme hikâyem, altı ay öncesine uzanı-yor. (II) Mardin'e ziyaretlerimden birinde, otelin duva-rında asılı olan o fotoğrafla karşılaştığım ana. (III) Sa-vur'un fotoğraflarını gördüğüm o ilk anda, bunların Mardin'in değişik açılardan çekilmiş fotoğrafları ol-duğunu düşündüm. (IV) Sonra da kendime o fotoğ-rafları niçin ben çekmedim diye kızdım. (V) Dikkatle bakınca da gördüklerimin Mardin'in genel görüntü-süne çok benzeyen ancak bir o kadar da farklı Sa-vur ilçesine ait olduğunu anladım.

Bu parçadaki numaralanmış cümlelerin hangisin-de karşılaştırma söz konusudur?

- A) I. B) II. C) III. D) IV. E) V.

Diğer sayfaya geçiniz.

5. (I) Sıtma, uluslararası halk sağlığının önemli sorunlarından biri. (II) Her yıl, ortalama dört yüz milyon kişi bu hastalığa yakalanıyor. (III) Bunların birkaç milyonu yaşamını yitiriyor. (IV) Sıtmanın görüldüğü bölgelere yolculuk yapanlar, ilaçla korunmalı. (V) Kişisel korunma yöntemlerini uygulamalı, cibinlikle yatmalı, uzun kollu gömlek ve pantolon giymeli, şapka kullanmalı.

Bu parçadaki numaralanmış cümlelerin hangilerinde önlemden söz edilmektedir?

- A) I. ve II. B) I. ve III. C) II. ve III.
D) III. ve IV. E) IV. ve V.

6. **Aşağıdaki cümlelerin hangisinde benzerlerinden üstün olma durumu söz konusudur?**

- A) Son yıllarda, balık yetiştiriciliğinin ülke ekonomisine sağladığı katkı gözden kaçmıyor.
B) Avlanarak elde edilen balıklar, artan nüfusun gereksinimini karşılamaya yetmiyor.
C) Et, süt, peynir gibi gıdalarda olmayan Omega-3 yağ asidini içerdiği için sık sık balık yemek gerektiği söyleniyor.
D) İyot bakımından zengin olan balığın bazı hastalar tarafından tüketilmesinin zararlı olduğu belirtiliyor.
E) Kemik erimesi rahatsızlığı olanların balık yemeyi ihmal etmemesi gerekiyor.

7. (I) Tarsus'un görülmeye değer yerlerinden biri olan Gözlükule Höyüğü, kentin güneydoğusunda bulunuyor. (II) Günümüzde, ağaçlandırılıp park olarak kullanılan Gözlükule, 300 m uzunluğunda ve 22 m yüksekliğinde bir höyük. (III) 1934, 1938 ve 1947 yıllarında yapılan arkeolojik kazılardan, bölgeye yerleşimin Yeni Taş Çağında başladığı anlaşılıyor. (IV) Gözlükule'deki kazılarda, ok uçları, küçük mızraklar, seramikler, dörtgen planlı taş ve kerpiç evler gibi kalıntılar bulundu. (V) Çıkarılan yapıtlar Adana ve Mersin Müzelerinde sergileniyor.

Bu parçada anlatılan yerle ilgili olarak aşağıda verilenlerden hangisi yanlıştır?

- A) I. cümlede, konumundan söz ediliyor.
B) II. cümlede, boyutlarına değiniliyor.
C) III. cümlede, yerleşimin ne zaman başladığı belirtiliyor.
D) IV. cümlede, bulunan eşyaların kimlere ait olduğu açıklanıyor.
E) V. cümlede, çıkarılanların nerelerde görülebileceği belirtiliyor.

8. (I) Boynu dik tutan yedi omur kemiği arasında disk adı verilen kırkırdaklar vardır. (II) Bu disklerin içindeki jölemsi sıvının omuriliğe veya sinirlere doğru taşması, boyun fıtığına yol açar. (III) Bu rahatsızlık, boyun ağrısıyla ya da tek başına kol ağrısıyla kendini gösterir. (IV) Hastanın, sinirlerindeki baskıya bağlı olarak elinde kas gücü kaybı görülür, tutma yeteneği azalır. (V) Boyun fıtığı ilerlerse hastanın kolunda incelme de görülebilir.

Boyun fıtığının anlatıldığı bu parçadaki numaralanmış cümlelerle ilgili olarak aşağıda verilenlerden hangisi yanlıştır?

- A) I. cümlede, neden olan etkenler belirtiliyor.
B) II. cümlede, nasıl oluştuğu anlatılıyor.
C) III. cümlede, belirtilerinden söz ediliyor.
D) IV. cümlede, nelere neden olduğu açıklanıyor.
E) V. cümlede, bir olasılıktan söz ediliyor.

A

KPSS-ORTAÖĞR. / 2008

9. (I) Yöneticilik çok yıpratır insanı. (II) Ben yöneticiliği hiç isteyerek yapmadım. (III) Yazı yazmanın zevki yoktur yöneticilikte. (IV) Çünkü insanla uğraşmak zor bir iştir, her gün en az on kişinin, on çeşit derdi gelir önünüze. (V) Eğer iyi bir yöneticiyseniz, istenenlere kimseyi kırmadan "Evet." ya da "Hayır." diyebilir, sorunları da çözersiniz ama bunu başarabilmek çok zordur.

Yöneticiliğin anlatıldığı bu parçadaki numaralanmış cümlelerle ilgili olarak aşağıda verilenlerden hangisi yanlıştır?

- A) I. cümlede, bireyi nasıl etkilediğinden söz ediliyor.
B) II. cümlede, öznel bir açıklama yapılıyor.
C) III. cümlede, pişmanlıktan söz ediliyor.
D) IV. cümlede, neden güç olduğuna ilişkin bilgi veriliyor.
E) V. cümlede, bir koşul belirtiliyor.

10. Tarihin ilk dönemlerinde, bir kabilede olağanüstü bir durumla karşılaşıldığı zaman, kabilenin deneyimli ve bilgili en yaşlı üyelerine gidilip akıl danışılmış.

Bu cümledeki numaralanmış sözcüklerden hangisi nitelik belirtmektedir?

- A) I. B) II. C) III. D) IV. E) V.

11. Aşağıdakilerden hangisi biçimce olumlu, anlamca olumsuz bir cümledir?

- A) Zayıflamak için ne spor yapıyor ne de yediklerine dikkat ediyor.
B) Ya bizimle gelirsün ya da evde yalnız oturursun.
C) Uzun zamandır kimseyi arayıp sormuyor.
D) Ne yazık ki ona artık hiç kimse güvenmiyor.
E) Niçin böyle söyledi hâlâ anlamış değilim.

12. Aşağıdakilerden hangisi yanıt vermeyi gerektiren bir soru değildir?

- A) Yarın onunla beraber mi geleceksin?
B) Hangi meyve daha çok C vitamini içeriyor?
C) Müzik çalışmaların devam ediyor mu?
D) Bu kadar çaba göstermenin sebebi ne?
E) Nerede o güzelim çocukluk günlerim?

Diğer sayfaya geçiniz.

A

KPSS-ORTAÖĞR. / 2008

13. Aşağıdaki cümlelerin hangisinde işin ne zaman yapıldığı belli değildir?

- A) Her sebze, mevsiminde daha ucuza satılıyor.
- B) Geç saatte yattığım hâlde erkenden uyandım.
- C) Biraz önce buradan ayrıldı.
- D) Parka doğru yavaş yavaş yürüdüm.
- E) İlgiyle izlenen yarışmanın sonuçları bir hafta önce açıklandı.

14. Zirvede şirin bir göl ... Dağ havası, binlerce çam

ağacı, bol su ve bungalov tipi ahşap evler ...

Ülkemizin güzelliğiyle ünlü, sayılı yaylarından biri

olan Uzungöl Yaylası'ndayız ... Sisi, ormanı ve

gölüyle doyumsuz bir görünüm ... Hele çeşit çeşit

çiçekleri ...

Bu parçadaki numaralanmış üç noktadan (...) hangisi yanlış kullanılmıştır?

- A) I.
- B) II.
- C) III.
- D) IV.
- E) V.

15. Beykoz, Boğaziçi'nin sondan bir önceki iskelesi. Şirin

bir İstanbul semti. Cevizi, paçası ve lezzetli balıklarla

ıyla ünlü. Sakin ve çalışkan halkı yıllar boyu,

yemyeşil tepelerinin betonlaşmasına gücünün

yettiğince karşı koymuş. Tepelerinde bir zamanlar

padışahların ava çıktığı güzelim koruların ancak

bir kısmı kurtarılabilmiş.

Bu parçadaki numaralanmış sözlerin hangisinde bir yazım yanlışı vardır?

- A) I.
- B) II.
- C) III.
- D) IV.
- E) V.

16. Türkiye'nin 400 m uzunluğundaki en büyük havaalanı

nı 10 Temmuz'da açılıyor. Ayrıca 17.000 m² lik alanıyla

ıyla Topkapı sarayından sonra yurdumuzun ikinci

büyük müzesi de burada bulunuyor.

Bu cümlelerdeki numaralanmış sözlerin hangisinde bir yazım yanlışı vardır?

- A) I.
- B) II.
- C) III.
- D) IV.
- E) V.

Diğer sayfaya geçiniz.

17. Aşağıdaki cümlelerin hangisinde bir anlatım bozukluğu vardır?

- A) Yaptığımız anketler düşüncelerimizin doğruluğunu kanıtladı.
- B) Bu, beş altı yıllık süren bir çalışmadır.
- C) Bilgi toplama aşamasında çok zorluk çektik.
- D) Toplanan bilgilerin doğru olup olmadığını araştırdık.
- E) Bu konuda birçok katılımcının görüşü alındı.

18. Aşağıdaki cümlelerin hangisinde eş anlamlı sözcüklerin birlikte kullanılmasından kaynaklanan bir anlatım bozukluğu vardır?

- A) Bayram yaklaştığı için okulda çok hızlı bir faaliyet ve etkinlik başladı.
- B) Çantasına koyduğu dosyaları, fotoğrafları evde inceleyip bir rapor yazacaktı.
- C) Çevresindekilerce, deneyimli ve başarılı bir marangoz olarak tanınıyordu.
- D) Bu oyuncaklar, çocukları hem eğlendiriyor hem de eğitiyor.
- E) Ana dili öğretiminin yalnızca Türkçe ve edebiyat dersleriyle sınırlı olmadığını biliyor.

19. Bir balığın taze mi, değil mi olduğunu nasıl anlarsınız?

Bu cümledeki anlatım bozukluğu, aşağıdaki değişikliklerden hangisiyle giderilebilir?

- A) "bir" yerine "bu" sözcüğü getirilerek
- B) "taze mi" yerine "bayat mı" sözü getirilerek
- C) "olduğunu nasıl anlarsınız" yerine "olduğu nasıl anlaşılır" sözü getirilerek
- D) "nasıl" yerine "hangi yöntemle" sözü getirilerek
- E) "taze mi, değil mi olduğunu" yerine "taze olup olmadığını" sözü getirilerek

20. Çevre bilincinden yoksul kişilerin sayısı arttıkça dünyanın geleceği kararmaktadır.

Bu cümledeki anlatım bozukluğu, aşağıdaki değişikliklerden hangisiyle giderilebilir?

- A) "kişilerin sayısı" yerine "kişiler sayıca" sözü getirilerek
- B) "çevre bilincinden" yerine "çevreyi koruma bilincinden" sözü getirilerek
- C) "yoksul" yerine "yoksun" sözcüğü getirilerek
- D) "dünyanın geleceği kararmaktadır" yerine "dünyanın geleceğini karartacaktır" sözü getirilerek
- E) "arttıkça" yerine "artarsa" sözcüğü getirilerek

21. Çocuk, bana gözleriyle öyle bir bakıyordu ki
I II III IV

etkilenmemek olanaksızdı.
V

Bu cümledeki numaralanmış sözlerden hangisi gereksiz kullanılmıştır?

- A) I. B) II. C) III. D) IV. E) V.

22. "Bütün ömrüm boyunca böyle işler yapmak istedim."
I II III IV

dedi.
V

Bu cümledeki numaralanmış sözcüklerden hangisi atılırsa cümlenin anlamında bir daralma ya da bozulma olmaz?

- A) I. B) II. C) III. D) IV. E) V.

23. (I) Bir dönem ülkenin neredeyse en önemli konularından biriydi arabesk. (II) Herkes ne olduğu tam olarak tanımlanamayan bu müziğin peşine düşmüş gibiydi. (III) Üzerine tezler yazıldı, belgeseller yapıldı, nereden çıktığına ilişkin fikirler yürütüldü. (IV) Ne var ki zaman içinde "arabesk müzik" yerini yavaş yavaş "fantezi müzik"e bırakmaya başladı. (V) "Arabesk" in bu yükselişi müzik eleştirmenlerinin gözünden kaçmıyor. (VI) Artık arabeskin, üzerinde uzun uzun düşünülen, toplumsal kökleri sorgulanan bir kavram olmaktan çıktığını söyleyebiliriz herhâlde.

Bu parçadaki numaralanmış cümlelerden hangisi düşüncenin akışını bozmaktadır?

- A) II. B) III. C) IV. D) V. E) VI.

24. Deniz kenarında, yeni şiir kitaplarıyla baş başayım. Yalnız değilim, dizelerle dertleşiyorum, şiirler benim can yoldaşım. Arada bir martılara ekmek atıyorum. Dalgalar kıyıya vuruyor. Balıkçı teknelerinin pat patları içime bir ferahlık veriyor. Güneş biraz sonra batacak, bulutlar kızaracak, etraf grileşecek, akşam olacak. Karşıdaki Çiçek Adası görünmeyecek.

Bu parçanın anlatımıyla ilgili olarak aşağıdakilerden hangisi söylenemez?

- A) Görsel öğelere yer verilmiştir.
B) Anlatanın duygusu yansıtılmıştır.
C) Karşılaştırmadan yararlanılmıştır.
D) Betimleme yapılmıştır.
E) Bir doğa olayı, oluş sırasına göre verilmiştir.

25. Uyanınca hemen pencereye koşarım. Hava güneşli de yağmurlu da olsa caddeler kar altında da kalsa... Umudumu dışarıda ararım. Yıllar önce bir gazetede okumuştum; uzaktan mor dağlara bakmak, çimenlik yerlerde dolaşmak gözü dinlendirirmiş. Bense dinlendirmek için değil, gördüklerimin ardındakileri yazabilmek için yapıyorum bunu. Havaalanına inip kalkan uçaklara, takırtıyla yol alan trenlere bakmak; çocukların, kuşun, böceğin sesini duymak neler çağrıştırmaz ki!

Bu parçayla ilgili olarak aşağıdakilerden hangisi söylenemez?

- A) Yazar ruhsal sıkıntılarını yansıtmaktadır.
B) Çevrenin, insanın yaratıcılığını harekete geçirdiği belirtilmektedir.
C) Görülenleri tüm özellikleriyle yansıtmamanın zorluğu ortaya konmaktadır.
D) İnsanın doğayla bir bütün oluşturduğu vurgulanmaktadır.
E) İçinde bulunulan çevreyi anlatan yapıtların ilgiyle okunduğundan söz edilmektedir.

26. Kumluca'yla ilgili ilginç bir rivayet var: Sarıkavak'tan bir köylü günün birinde bugünkü ilçe merkezinin bulunduğu kumluk araziye karpuz ekmiş. Yetişen iri karpuzlarını satmaya götürdüğünde, görenler çok şaşır-mışlar ve bunları nerede yetiştirdiğini sormuşlar köy-lüye. "Derenin oradaki kumluca yerde." cevabını ver-miş köylü. Karpuzların methiyle bu bereketli topraklar, zamanla "Kumluca" olarak anılmaya başlanmış. İlçe bugün, seracılığın kalbinin attığı tarım bölgelerinden biri konumunda.

Bu parçada Kumluca'yla ilgili olarak aşağıdakiler-den hangisine değinilmiştir?

- A) Karpuzdan başka neler yetiştirilebildiğine
- B) Seracılığı yaygınlaştırmak gerektiğine
- C) Bir ticaret merkezi olduğuna
- D) Yaşam koşullarının zor olduğuna
- E) Tarım açısından nasıl bir önem taşıdığına

27. Aksaray Müzesinde sergilenen mumyaların çoğu, İhlara Vadisi ve çevresinden çıkarılmış. Bu müze-de, 10. yüzyıla ait dört sağlam mumya, bir erişkine ait eksik mumya, eksik çocuk mumyaları, bir de kedi mumyası bulunmakta. Aralarında en çok ilgi gören, kedi mumyası. Bu mumya, bir kilisede rahip mumya-sıyla yan yana bulunmuş. Kedinin rahibe ait olduğu ve sahibi tarafından çok sevildiği için onunla birlikte mumyalandığı sanılmakta. Kedi mumyası, havada uçuyor gibi durduğu için "Rahibin Uçan Kedisi" ola-rak da adlandırılıyor.

Bu parçada, Aksaray Müzesindeki mumyalarla il-gili olarak aşağıda verilenlerden hangisine yöne-lik bilgi vardır?

- A) Niteliklerine
- B) Doğal olayların etkisine
- C) Mumyalanma yöntemlerine
- D) Hangi amaçla yapıldıklarına
- E) Dönemlerinin gerçek dışı inançlarını yansıttık-larına

28. Yeni turizm anlayışında zaman çok önemli. Bu yüz-den her yere uçakla gitmek isteniyor. Oysa buradan, en yakın havaalanına 3-3,5 saatte ulaşıyor. Bu ne-denle ilçemizde hava ulaşımı çok tercih edilmiyor.

Bu parçada, aşağıdaki sorulardan hangisinin ce-vabı vardır?

- A) Turizmin gelişmesini sağlayan etkenler nelerdir?
- B) Turizmde hak ettiği yere gelebilmesi için ilçeniz-de neler yapılıyor?
- C) Sizce turistler niçin hava yoluyla ulaşımaya öncelik veriyor?
- D) İlçeniz hangi yönden turistlerin ilgisini çekiyor?
- E) İlçenizin coğrafi koşulları havaalanı yapmaya el-verişli mi?

29. Gelecekte farklı biri olacağı, daha çocukluğunda anlaşılan sıra dışı insanlar vardır. Bunlar, yaşamlarının ilerleyen yıllarında uygun bir durum ya da kişiy-le karşılaştıklarında büyük bir değişim sancısı çekme-ye başlarlar. Böyle insanlar, çevrelerine yabancılaşa-cak kadar zorlu bir süreç olan bu dönemi başarıyla atlatabilirlerse önemli işlere imza atarlar. Artık hem bilim dünyasında hem de yazınsal yapıtlarda anlatıl-maya değer nitelikleri olan insandır onlar.

Bu parçaya göre, sıra dışı insanlarla ilgili olarak aşağıdakilerden hangisi söylenebilir?

- A) Buldukları ortamda her zaman ilgi görmekten hoşlanırlar.
- B) Yaptıkları ve söyledikleriyle örnek gösterilirler.
- C) Çevrelerince yadırganmaktan sürekli olarak yakınırırlar.
- D) Kendileri gibi başkalarının da değişmesini ister-ler.
- E) Altından kalkılması güç işleri yapmayı severler.

30. Zekânın gelişmesinde annenin doğum öncesi ve sonrası sağlık durumu, beslenmesi, anatomik yapısı gibi ögeler etkilidir. Doğum sırasındaki etkenler, doğum sonrasında sağlık koşulları da önemlidir. Çevre, beslenme, iklim, toplumsal yapı, eğitim koşulları da unutulmamalıdır.

Bu parçada zekâyla ilgili olarak anlatılmak istenen aşağıdakilerden hangisidir?

- A) Yaşam boyunca gelişimini sürdürdüğü
B) Hangi düzeyde olduğunun nasıl saptandığı
C) Kişiden kişiye farklılık gösteren özellikler taşıdığı
D) Doğal ve toplumsal koşulların etkisiyle biçimlendiği
E) Bazı özelliklerinin kalıcı olduğu

31. Likya dilinde "kırlangıç" anlamına gelen "kaledonya" sözcüğünden adını alan Gelidonya Feneri, 1934'te yapılmaya başlanmış ve 1936'da tamamlanmış. Toplam uzunluğu 509 kilometre olan tarihî Likya Yolu, Gelidonya Feneri'nin altından geçiyor. Fener, Korsan Koyu'ndan yola devam edildiğinde, Taşlık Burnu'nda karşınıza çıkıyor. Sivri kayalıklar üzerine inşa edilmiş, denizden yüksekliği 227 metre olan bu fenere ulaşmak doğayla iç içe bir yürüyüşü de beraberinde getiriyor. Çam ağaçları arasından geçen patikayı tamamlayıp fenere vardığınızda karşınızda duran Beşadalar manzarası tatlı yorgunluğunuzu unutturuyor. Konumu gereği elektrik verilemeyen fener, gazlı tüp kullanılarak çalıştırılıyor.

Bu parçada Gelidonya Feneri'yle ilgili olarak aşağıdakilerden hangisine değinilmemiştir?

- A) Yapıldığı yerin özelliklerine
B) Aydınlatmada ne kullanıldığına
C) Adının nereden geldiğine
D) Yapımının ne kadar sürdüğüne
E) Denizciler için taşıdığı öneme

32. Su, doğanın ve insanlığın devamlılığı için yaşamsal bir kaynaktır. Ancak, dünya nüfusunun artması, küresel ısınmaya bağlı iklim değişiklikleri, suyun yeryüzündeki dağılım ve kullanım şekli, suyla ilgili ciddi sorunların ortaya çıkmasına yol açacaktır. Son on yılda kısıtlı su kaynaklarına karşın suya olan gereksinim altı-yedi kat artmıştır. Bu oran dünya nüfusu artış oranının iki katından fazladır. Öte yandan, dünya nüfusunun 2025'te 8,3 milyara, 2050'deyse 10-12 milyara ulaşacağı tahmin edilmektedir. Dünya genelinde 2,4 milyar insan, yetersiz ve kalitesiz su nedeniyle sağlık-sız koşullarda yaşamaktadır. İlgili kuruluşlar su kaynaklarının daha etkin bir biçimde kullanılması ve yönetilmesinin gerekliliğine dikkat çekmektedir.

Bu parçada suyla ilgili olarak aşağıdakilerden hangisine değinilmemiştir?

- A) Sorunların çözümü için bugüne kadar neler yapıldığına
B) Kaynakların, gün geçtikçe gereksinimi karşılamakta yetersiz kaldığına
C) Gelecekte nasıl bir durumla karşılaşabileceğine
D) Yetkililerin, konunun önemini vurgulamaya çalıştığına
E) Yaşanan sorunun nelerden kaynaklandığına

33. 22 yıl öncesine kadar Urfa-Adıyaman çevresinde yaşayanlar, göl kavramına pek alışık değildi. Atatürk Baraj Gölü 1990'da su tutmaya başladığında, yöre halkı sadece göl ile değil suyun getirdiği farklı bir kültürle de tanışmaya başladı. Bugüne kadar sulama ve içme suyu olarak kullanılan 81,7 kilometre karelik devasa su kütlesi balıkçılık için de elverişliydi. Ancak araştırmacılar, gölde balıkçılığın kontrollü yapılması gerektiğini söylüyorlar. Çünkü kontrolsüz girişimlerin gölün ekosistemine geri dönüşü olmayan zararlar verebileceğini düşünüyorlar. Gölde 15'e yakın balık türü ve balık miktarı açısından zengin bölgeler saptandı. Ancak bu balıkların yüzde 90'ını ekonomik değeri düşük türler oluşturuyor. Araştırmacılara göre baraj gölü henüz olgunluğa erişmemiş koca bir dev ve onu doğru yola sokmanın tam zamanı.

Bu parçada Atatürk Baraj Gölü'yle ilgili olarak aşağıdakilerden hangisine değinilmemiştir?

- A) Yöre halkının yeni bir durumla karşı karşıya kaldığına
B) Çevresindeki illerin iklimini etkilediğine
C) Birçok balık türünü barındırdığına
D) Balıkçılığın bilinçli olarak yapılması gerektiğine
E) Çalışmalarla, daha çok yararlanılabilir duruma getirilebileceğine

Diğer sayfaya geçiniz.

34. Titanyum ilk olarak Kaliforniyalı ünlü mimar Frank O. Gehry tarafından İspanya Bilbao'daki Guggenheim Müzesinin yapımında kullanıldığından beri uluslararası mimarlık dünyasının yıldızı. Doğal hâli koyu gri olan titanyum, hava durumuna göre mavimsi ya da kırmızı olabiliyor. Eskiden sadece takılarda, uzay araç ve gereçlerinde ya da tıp alanında kullanılan bu malzemeden günümüzde çok çeşitli alanlarda yararlanılmakta. Çelikten daha sert ve hafif, ısıya alüminyumdan daha dayanıklıdır. Ayrıca titanyum paslanmaz ve altındaki beton sağlam kaldığı sürece yerinde durabilir.

Bu parçaya göre titanyumla ilgili olarak aşağıdakilerden hangisi söylenemez?

- A) Birçok ülkede kullanılmaktadır.
- B) Çevre şartlarına göre rengi değişebilmektedir.
- C) Doğada az bulunduğu için oldukça değerlidir.
- D) Bazı özelliklerinden dolayı inşaatlarda kullanmaya elverişlidir.
- E) Kullanım alanı zamanla genişlemiştir.

35. Özel ilgi alanı olanlarımız dışında çoğumuz, kelebekleri birbirinden pek ayırt edemeyiz. Kuşları, serçe, martı, karga ya da leylek olarak adlandırırız ama adıyla tanıdığımız kaç kelebek türü vardır? Kelebeklerin dünyasına biraz ilgi duyduğumuzda renk ve desenlerine göre türlere ayrıldığını, canlılar aleminin en zengin tür çeşitliliğine sahip gruplarından biri olduğunu fark ederiz. Her tür, farklı mevsimlerde uçar ve farklı bitkilerle beslenir. Öteki böceklerle göre daha çok sevilen ve çok sayıda ilgilisi bulunduğu için hakkında en fazla bilgi sahibi olunan böceklerdendir.

Bu parçada kelebeklerle ilgili olarak aşağıdakilerden hangisine değinilmemiştir?

- A) Sınıflandırılmasında hangi özelliklerinin dikkate alındığına
- B) Beslenmelerinin türlere göre değişkenlik gösterdiğine
- C) Çeşit açısından çok zengin olduğuna
- D) Yaşam sürelerinin ne kadar olduğuna
- E) Haklarında çok şey bilinmesinin nedenine

36. Çevre kirliliği ve küresel ısınmanın hangi felakete yol açabileceğini şimdiden görebiliyoruz. Dünyanın bu ortak sorununu çözebilme için alternatif enerji kaynaklarının daha iyi değerlendirilmesi gerekiyor. Bu aşamada akla ilk olarak güneş geliyor. Güneş, sonsuz enerjisini insanlara sunmaya her zaman hazır. Artık amaç, bu kaynaktan olabildiğince yararlanmak olmalı. Böyle bir amaca da ancak ileri teknoloji yardımıyla ulaşılabilir.

Bu parçada, çevre kirliliği ve küresel ısınmayla ilgili olarak aşağıdakilerden hangisine değinilmemiştir?

- A) Yeni kaynaklardan yararlanmak gerektiğine
- B) Yapılmak istenenin nasıl gerçekleştirilebileceğine
- C) Kötü sonuçlar doğuracağına artık bilindiğine
- D) Bütün ulusların bu sorunla karşı karşıya olduğuna
- E) İnsanların hangi tutumlarının buna yol açtığına

37. Yanında duran arkadaşının tersine, kısa boylu, şişman, oldukça esmer tenli biriydi. Davul gibi olan karnını, kirlili sarı üzerine yatay mavi çizgili, kısa kollu gömlek daha da şişkin gösteriyordu. Kahverengimsi yeleğinin cepleri tıka basa doluydu. Palaska benzeri kemerine bağlı cep telefonu, görüntüsüne bir farklılık katıyordu.

Bu parçaya göre, sözü edilen kişiyle ilgili olarak aşağıdakilerden hangisi söylenemez?

- A) Bedenine uygun giyecek bulmakta zorlandığı
- B) Karşılaştırma yoluyla arkadaşına ilişkin bilgi edindiği
- C) Giyimine özen göstermeyen bir kişi izlenimi uyandırdığı
- D) Kimi fiziksel özelliklerinin betimlendiği
- E) Zevkine yönelik bilgi verildiği

A

KPSS-ORTAÖĞR. / 2008

38. 5 ile 83 arasında kaç tane çift sayı vardır?

- A) 37 B) 38 C) 39 D) 40 E) 41

39. $a \cdot b$ çarpımında her çarpana 3 eklenirse çarpım ne kadar büyür?

- A) $9a \cdot b$ B) $3a + 3b$ C) $3a + 3b + 9$
D) $3a + 6b + 12$ E) $6a + 3b + 9$

40. $\frac{4}{\sqrt[3]{8}}$ ifadesinin eşiti aşağıdakilerden hangisidir?

- A) $\frac{1}{8}$ B) $\frac{1}{4}$ C) $\frac{1}{2}$ D) 2 E) 4

41.

$$\sqrt{0,49} - \sqrt{0,16}$$

işleminin sonucu kaçtır?

- A) 0,2 B) 0,3 C) 0,4 D) 0,5 E) 0,6

42. x, y, z pozitif tam sayılar olmak üzere

$$2x = \frac{y}{3} = 4z$$

olduğuna göre, $x + y + z$ toplamının en küçük değeri kaçtır?

- A) 11 B) 12 C) 13 D) 14 E) 15

Diğer sayfaya geçiniz.

A

KPSS-ORTAÖĞR. / 2008

43. Üç basamaklı bir sayının iki basamaklı bir sayıyla çarpımı en çok kaç basamaklı bir sayı olur?

- A) 4 B) 5 C) 6 D) 7 E) 8

44. Bir bölme işleminde bölen 7, bölüm 11 olduğuna göre, bölünen en fazla kaç olabilir?

- A) 83 B) 84 C) 85 D) 86 E) 87

45.

$$2 \cdot 3^x = a$$

olduğuna göre $4 \cdot 81^x$ ifadesinin a türünden eşiti aşağıdakilerden hangisidir?

- A) $\frac{a^4}{2}$ B) $\frac{a^4}{4}$ C) a^4
D) $4a^2$ E) $9a^2$

46.

$$\frac{2x-1}{4} + \frac{x+1}{3} > 0$$

eşitsizliğini sağlayan x tam sayı değerlerinin en küçüğü kaçtır?

- A) -2 B) -1 C) 0 D) 1 E) 2

47.

$$a^2 - b^2 - a + b$$

ifadesinin çarpanlarından biri $a - b$ ise diğeri nedir?

- A) $a + b - 1$ B) $a + b + 1$ C) $a - b + 1$
D) $-a + 2b + 1$ E) $2a + b - 1$

Diğer sayfaya geçiniz.

48.

$$\frac{y^2 - y}{x - \frac{x}{y}} \cdot \frac{x}{y}$$

ifadesinin sadeleştirilmiş biçimi aşağıdakilerden hangisidir?

- A) $\frac{1}{x}$ B) $\frac{1}{y}$ C) x
D) y E) x·y

49.

$$\frac{0,3 - 0,2x}{x - 0,4} = 0,5$$

olduğuna göre, x kaçtır?

- A) $\frac{1}{2}$ B) $\frac{3}{4}$ C) $\frac{4}{5}$
D) $\frac{5}{7}$ E) $\frac{7}{9}$

50. Üç basamaklı ABC ve CAB sayılarının toplamı 994 olduğuna göre, en büyük ABC sayısı için A kaçtır?

- A) 9 B) 8 C) 7 D) 6 E) 5

51. Üç basamaklı 3AB sayısının 5 ile bölümünden elde edilen kalan 2 dir. Bu sayının 3 ile bölümünden elde edilen kalansa 1 dir.

Buna göre, A + B toplamının en büyük değeri kaçtır?

- A) 9 B) 11 C) 13 D) 15 E) 16

Diğer sayfaya geçiniz.

A

KPSS-ORTAÖĞR. / 2008

52.

$$A - B = \{1, 2, 3, 4\}$$

$$B - A = \{a, b\}$$

$$A \cap B = \{5, c, d\}$$

olduğuna göre, $A \cup B$ kümesinin eleman sayısı kaçtır?

- A) 10 B) 9 C) 7 D) 6 E) 5

53. Şubat ayının 28 gün olduğu bir yılda 1 Şubat, perşembe gününe rastlıyor.

Buna göre, 1 Mart hangi güne rastlar?

- A) Pazartesi B) Salı C) Çarşamba
D) Perşembe E) Cuma

54. İnsan vücudunun % 70 i sudur.

Buna göre, 90 kg gelen bir kişinin vücudunda kaç kg su vardır?

- A) 63 B) 60 C) 57 D) 55 E) 54

55. Ayşe'nin yaşının Bülent'in yaşına oranı iki yıl önce $\frac{1}{4}$ iken bugün $\frac{1}{3}$ tür.

Buna göre, Bülent Ayşe'den kaç yaş büyüktür?

- A) 12 B) 11 C) 10 D) 9 E) 8

Diğer sayfaya geçiniz.

A

KPSS-ORTAÖĞR. / 2008

56. Sabit hızla hareket eden bir araç, bir yolun $\frac{3}{8}$ ini 6 saatte gidiyor.

Bu araç aynı hızla yolun tamamını kaç saatte gider?

- A) 12 B) 16 C) 18 D) 20 E) 24

58. Bir depodaki paketler, üçer üçer gruplandığında 2, beşer beşer gruplandığında 4, yedişer yedişer gruplandığında 6 paket artıyor.

Buna göre, depodaki paketlerin sayısı en az kaçtır?

- A) 92 B) 94 C) 97 D) 101 E) 104

57. 800 YTL parası olan Nilgün parasının 180 YTL sini Kağan'a verirse ikisinin paraları eşit oluyor.

Buna göre, Kağan'ın parayı almadan önce kaç YTL si vardı?

- A) 400 B) 440 C) 480 D) 520 E) 540

59. Bir merdivenin basamaklarını birer birer çıkıp üçer üçer inen bir çocuğun inerken attığı adım sayısı çıkarken attığı adım sayısından 12 eksiktir.

Buna göre, merdiven kaç basamaklıdır?

- A) 16 B) 18 C) 20 D) 24 E) 36

Diğer sayfaya geçiniz.

60. Dakikada b litre su akıtan bir musluk, a litrelik bir havuzun $\frac{1}{3}$ ünü kaç dakikada doldurur?

- A) $\frac{a}{3}$ B) $\frac{b}{3}$ C) $\frac{a}{3b}$
D) $\frac{b}{3a}$ E) $\frac{3}{ab}$

61. Her 300 gram una 40 gram şeker katılarak hazırlanan 1 kg 360 gramlık karışımda kaç gram şeker vardır?

- A) 120 B) 140 C) 160 D) 180 E) 200

62. İngilizce ve Fransızca dillerinden en az birinin bildiği 29 kişilik bir turist grubunda Fransızca bilenlerin sayısı, İngilizce bilenlerin sayısının 2 katıdır.

Bu turist grubunda her iki dili bilen 1 kişi olduğuna göre, yalnızca İngilizce bilen kaç turist vardır?

- A) 9 B) 11 C) 12 D) 13 E) 15

63. Bir otobüsteki bayan yolcuların sayısının bay yolcuların sayısına oranı $\frac{4}{5}$ tir.

Otobüste toplam 54 yolcu olduğuna göre, kaç bayan yolcu vardır?

- A) 12 B) 14 C) 16 D) 24 E) 36

64. Bir lokantada yemek yiyen altı arkadaş, gelen hesabı aralarında eşit olarak paylaşıp ödemeye karar veriyor. Fakat, arkadaşlardan ikisi yanlarına para almadıklarını fark ediyor ve bu durumda diğer dört kişi hesabı ödüyor.

Bu dört kişinin her biri ilk durumdan 6 YTL fazla ödeme yaptığına göre, gelen hesap kaç YTL dir?

- A) 66 B) 72 C) 78 D) 84 E) 90

65. Bir malın alış fiyatı satış fiyatının $\frac{5}{8}$ ine eşittir.

Bu mal alış fiyatı üzerinden yüzde kaç kârla satılmaktadır?

- A) 20 B) 30 C) 40 D) 50 E) 60

66. Pul biberin 150 gramı a YTL, yarım kilogramı $(10a - 20)$ YTL dir.

Pul biberin 1 kilogramı kaç YTL dir?

- A) 10 B) 15 C) 17 D) 19 E) 20

67. Bir kutuda 8 sarı, 5 kırmızı bilye vardır.

Kutudan rastgele alınan iki bilyenin her ikisinin de kırmızı olma olasılığı kaçtır?

- A) $\frac{2}{13}$ B) $\frac{3}{19}$ C) $\frac{4}{29}$
D) $\frac{5}{39}$ E) $\frac{6}{43}$

68. $A = \{0, 1, 2, 3, 4\}$ kümesi üzerinde Δ işlemi, $a \Delta b = a \cdot b$ çarpımının 5 ile bölümünden kalan biçiminde tanımlanıyor.

Buna göre, $2\Delta(3\Delta 4)$ işleminin sonucu kaçtır?

- A) 0 B) 1 C) 2 D) 3 E) 4

69. – 71. SORULARI AŞAĞIDAKİ BİLGİLERE GÖRE CEVAPLAYINIZ.

Aşağıdaki tabloda A, B, C, D, E ülkelerinin 1985 ve 1995 yıllarında gayrisafi millî hasıladan eğitime ayırdıkları paylar gösterilmiştir.

Ülke	1985 (%)	1995 (%)
A	1,2	2,2
B	4,8	4,2
C	3,7	5
D	5,4	3,2
E	5	5,4

69. A ülkesinin 1985 yılında eğitime ayırdığı para miktarı 3,6 milyon dolar ise ülkenin gayrisafi millî hasılası aynı yıl kaç milyon dolardır?

- A) 240 B) 280 C) 300 D) 320 E) 360

70. E ülkesinin 1995 yılında gayrisafi millî hasıladan eğitime ayırdığı pay oransal olarak 1985 yılına göre yüzde kaç artmıştır?

- A) 2 B) 4 C) 5 D) 6 E) 8

71. Tüm ülkelerin 1995 yılındaki gayrisafi millî hasılları 1985 yılına göre artmıştır.

Buna göre,

- I. B ülkesinin 1995'te eğitime ayırdığı para miktar olarak azalmıştır.
- II. C ülkesinin 1995'te eğitime ayırdığı para miktar olarak artmıştır.
- III. D ülkesinin 1995'te eğitime ayırdığı para miktar olarak artmıştır.

yargılarından hangileri kesin olarak doğrudur?

- A) Yalnız II B) Yalnız III C) I ve II
D) I ve III E) I, II ve III

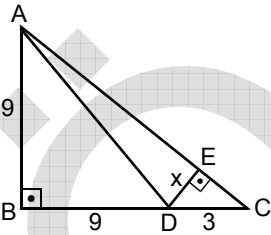
Diğer sayfaya geçiniz.

72. Bir ABC üçgeninin a, b, c kenarları sırasıyla 3, 4, 6 sayıları ile orantılıdır.

a, b, c kenarlarına ait yükseklikler sırasıyla h_a , h_b , h_c olduğuna göre, bu yükseklikler sırasıyla hangi sayılarla orantılıdır?

- A) 2, 3, 4
B) 3, 4, 6
C) 4, 3, 2
D) 6, 4, 3
E) 9, 16, 36

73.

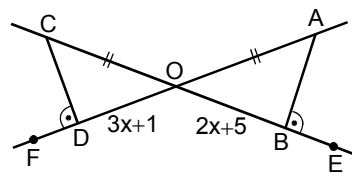


ABC bir üçgen
 $AB \perp BC$
 $DE \perp AC$
 $|AB| = |BD| = 9$ cm
 $|DC| = 3$ cm
 $|DE| = x$

Yukarıdaki verilere göre, x kaç cm dir?

- A) $\frac{11}{5}$ B) $\frac{9}{5}$ C) $\frac{8}{3}$
D) $\frac{7}{3}$ E) $\frac{5}{3}$

74.



$m(\widehat{ABE}) = m(\widehat{CDF})$
 $|OC| = |OA|$
 $|OD| = 3x + 1$ cm
 $|OB| = 2x + 5$ cm

Yukarıdaki şekilde C, O, B, E noktaları kendi aralarında ve A, O, D, F noktaları da kendi aralarında doğrusaldır.

Buna göre, $|OD|$ uzunluğu kaç cm dir?

- A) 10 B) 12 C) 13 D) 14 E) 15

75. $y = -x + 3$ ile $y = 2x - 1$ doğrularının kesim noktasının apsisi kaçtır?

- A) $\frac{3}{2}$ B) $\frac{1}{3}$ C) $\frac{2}{3}$
D) $\frac{4}{3}$ E) $\frac{3}{4}$

GENEL YETENEK TESTİ BİTTİ.

GENEL KÜLTÜR TESTİNE GEÇİNİZ.

A

GENEL KÜLTÜR TESTİ

KPSS-ORTAÖĞR. / 2008

1. Aşağıdakilerden hangisinin Uygurların matbaalarının olduğuna ve baskı yaptıklarına bir kanıt olduğu savunulabilir?

- A) Tahtadan yapılmış harfler
- B) Çeviri eserler
- C) 18 harften oluşan alfabe
- D) Taş üzerine yazılmış kitabeler
- E) Kâğıt üzerine yazılmış belgeler

2.

- I. Bulgarlar
- II. Macarlar
- III. Göktürkler

Yukarıdaki Türk kavimlerinden hangileri Hristiyanlığı kabul etmiştir?

- A) Yalnız I
- B) Yalnız II
- C) I ve II
- D) I ve III
- E) I, II ve III

3. Anadolu Selçukluları zamanında, uç bölgelerde görev alan Türkmen beylerinin boy ve oymaklarıyla gelerek buralarda yerleşmelerinin,

- I. bölgede nüfusun artması,
- II. sınırların korunması,
- III. Anadolu'nun Türkleşmesine katkısı olması

durumlarından hangilerine ortam hazırladığı savunulabilir?

- A) Yalnız I
- B) Yalnız II
- C) Yalnız III
- D) I ve III
- E) I, II ve III

4. Osmanlı Devleti'nde, devletin tebaası olan kişilerin sosyal ve ekonomik hayat düzeyinin yükseltilmesi ve insanların sağlık, eğitim, kültür gereksinimlerinin karşılanmasında aşağıdakilerin hangisinden yararlanılmıştır?

- A) Timar sistemi
- B) Vakıf sistemi
- C) İltizam sistemi
- D) Müsadere usulü
- E) Devşirme sistemi

5. Osmanlı Devleti'nde şeyhülislamı atama ve onu görevden alma yetkisi aşağıdakilerden hangisine aittir?

- A) Padişah
- B) Rumeli Kazaskeri
- C) Nişancı
- D) Reisülküttap
- E) Sadrazam

6. Osmanlı Devleti'nde ruhsal bozuklukların tedavi edilmesi amacıyla II. Bayezit Külliyesi'nde bulunan şifahane aşağıdaki kentlerin hangisindeydi?

- A) Kayseri
- B) Niğde
- C) Edirne
- D) Konya
- E) Trabzon

Diğer sayfaya geçiniz.

7.

- I. Senedi İttifak
- II. Kapitülasyonlar
- III. Islahat Fermanı

Yukarıdakilerden hangileri Avrupa devletlerinin Osmanlı Devleti'nin iç işlerine karışmalarına ortam hazırlamıştır?

- A) Yalnız I B) Yalnız II C) Yalnız III
D) I ve II E) II ve III

8. Aşağıdaki padişahlardan hangisinin döneminde yapılan düzenleme hareketlerinde batıdan yararlanılmamıştır?

- A) I. Mahmut B) IV. Murat C) II. Mahmut
D) III. Selim E) III. Ahmet

9. XIX. yüzyılda Osmanlı Devleti'nde, geleneksel eğitim veren medreseler, çağdaş eğitim veren devlet okulları, yabancı ve misyoner okulları bulunuyordu.

Bu durumun aşağıdakilerden hangisini gösterdiği savunulabilir?

- A) Eğitimin vakıflara bağlı olduğunu
B) Medreselerde müfredatın değiştiğini
C) Eğitim ve öğretimde bölünmüşlük olduğunu
D) Misyoner okullarının medresenin önüne geçtiğini
E) Yabancı okullarının daha sonra kurulduğunu

10. Sultan Abdülmecit, hiçbir kesimin etkisi olmadan Tanzimat Fermanı'yla tebaasına can, mal ve namus güvenliğinin sağlanacağını, vergilerin herkesin gelirene göre alınacağını duyurmuştur.

Bu duyuru, Osmanlı Devleti'nde aşağıdakilerden hangisi yönünde bir gelişmedir?

- A) Avrupa devletlerinden biri olması
B) Özerk yönetimlerin yaygınlaşması
C) Yeniliklerin halktan gelmesi
D) Halkın yönetime katılması
E) Temel hakların tanınması

11. Osmanlı Devleti'nin Birinci Dünya Savaşı'na girmesinde,

- I. Balkan Savaşlarında kaybedilen toprakların geri alınmak istenmesi,
- II. Rusya'da rejim değişikliği olması,
- III. Balkan Savaşlarından sonra İttihat ve Terakki Partisinin yönetimi ele geçirmesi

gelişmelerinden hangilerinin etkisi vardır?

- A) Yalnız I B) Yalnız II C) Yalnız III
D) I ve III E) II ve III

12. Aşağıdakilerden hangisi Sivas Kongresi'ni, Erzurum Kongresi'nden ayıran özelliklerden biridir?

- A) Mustafa Kemal'in kongre başkanı seçilmesi
- B) Anadolu ve Rumeli Müdafaa-i Hukuk Cemiyetlerinin birleştirilmesi
- C) Azınlıklara sosyal ve siyasi dengeyi bozacak ayrıcalıkların tanınmaması
- D) Temsilciler Kurulu seçilmesi
- E) Her türlü işgale karşı çıkılması

13. Aşağıdaki gelişmelerden hangisinin, TBMM Hükümetinin tanınması konusunda Anlaşma Devletleri arasında görüş ayrılığı olduğunu gösterdiği savunulamaz?

- A) Gürcistan ile antlaşma yapılması
- B) Fransa ile Ankara Antlaşması'nın yapılması
- C) II. İnönü Savaşı'ndan sonra İtalya'nın Anadolu'daki askerî gücünü çekmesi
- D) TBMM Hükümetinin İtalya'nın aracılığı ile Londra Konferansı'na katılması
- E) İngiltere'nin, Yunanistan'ı Kurtuluş Savaşı süresince desteklemesi

14. Temsilciler Kurulunun çalışma yeri olarak Ankara'yı seçmesinde,

- I. savaş alanlarına yakın olması,
- II. İstanbul'daki siyasi gelişmeleri yakından izleyebilme olanağı vermesi,
- III. TBMM'nin açılması

durumlarından hangilerinin etkili olduğu savunulabilir?

- A) Yalnız I
- B) Yalnız II
- C) Yalnız III
- D) I ve II
- E) I, II ve III

15. İlk TBMM'de ülkenin düşman işgalinden kurtuluşuna kadar, milletvekillerinin siyasal parti ve grup hareketlerini yasaklayan hükümler getirilmeye çalışılmasındaki amacın aşağıdakilerden hangisi olduğu savunulabilir?

- A) Anayasal düzene geçmek
- B) Çok partili döneme geçişi geciktirmek
- C) Meclisteki milletvekili sayısını değişmeyen hâle getirmek
- D) Anadolu ve Rumeli'deki ulusalcı düşüncede olanları bir cemiyet altında birleştirmek
- E) Ulusal birliğin parçalanmasını engellemek

16. Moskova Antlaşması'nın 8. maddesiyle TBMM Hükümeti ve Sovyet Rusya birbirlerine karşı ülkelerinde örgütler kurulmasını önlemeye karar vermiştir.

Bu kararlar,

- I. birbirlerinin iç işlerine karışmama,
- II. rejimlerini karşılıklı güvence altına alma,
- III. aynı uluslararası ittifaklarda yer alma

durumlarından hangilerinin amaçlandığı savunulabilir?

- A) Yalnız I
- B) Yalnız II
- C) I ve II
- D) II ve III
- E) I, II ve III

- 17.
- Mustafa Kemal'e mareşallik unvanının verilmesi
 - Fransa'yla Ankara Antlaşması'nın yapılması

Yukarıdaki gelişmeler aşağıdaki savaşlardan hangisinin sonuçları arasındadır?

- A) Başkomutanlık Savaşı
B) Sakarya Savaşı
C) Birinci İnönü Savaşı
D) İkinci İnönü Savaşı
E) Eskişehir ve Kütahya Savaşları

- 18.
- I. Cumhuriyet'in ilan edilmesi
 - II. Erzurum Kongresi'nin toplanması
 - III. Amasya Genelgesi'nin yayımlanması

Yukarıdaki gelişmelerin kronolojik sırası aşağıdakilerden hangisidir?

- A) I, II, III
B) I, III, II
C) II, I, III
D) III, I, II
E) III, II, I

- 19.
- İmroz ve Bozcaada'nın Türkiye'de kalması
 - Karaağaç'ın tazminat karşılığı Türkiye'ye bırakılması

Yukarıdaki gelişmeler aşağıdaki antlaşmalardan hangisinin kapsamındadır?

- A) Lozan Antlaşması
B) Atina Antlaşması
C) Ouchy Antlaşması
D) Montrö Antlaşması
E) Ankara Antlaşması

20. İslamiyette ortaya çıkan siyasi ve dinî güçlerin bir elde toplanması geleneğine aşağıdakilerden hangisiyle son verilmiştir?

- A) 1876 Anayasası'nın yürürlükten kaldırılması
B) Tekke ve türbelerin kapatılması
C) Saltanatın kaldırılması
D) Hukuk birliğinin sağlanması
E) Medreselerin kapatılması

- 21.
- I. Yeni Türk alfabesi
 - II. Okka yerine kilo sistemi
 - III. Alaturka saat yerine alafranga saat sistemi

Yukarıdakilerden hangilerinin kullanılmasıyla uluslararası ilişkilerdeki uygulamalarda uyumsuzlukların giderilmesinin amaçlandığı savunulabilir?

- A) Yalnız I
B) Yalnız II
C) Yalnız III
D) II ve III
E) I, II ve III

22. Aşağıdakilerden hangisinin gerçekleştirilmesinde ulusçu devlet anlayışı olduğu savunulamaz?

- A) Ölçü birimlerinin değiştirilmesi
B) Kabotaj Kanunu'nun uygulanması
C) Türk Tarih Kurumunun kurulması
D) Yeni Türk alfabesinin kabul edilmesi
E) Türk parasının korunması için kanun çıkarılması

23. Aşağıdakilerden hangisi, Tevhid-i Tedrisat (Öğretim Birliği) Kanunu'nun sonuçlarından biridir?

- A) Azınlık okullarının kapatılması
- B) Ülkede ulusal ve laik öğretimin başlaması
- C) Uluslararası ticari ilişkilerin kolaylaşması
- D) Hukuk alanında birlik sağlanması
- E) Türk tarihinin bir bütün olarak araştırılması

24. Türk toplumunun ilerleme ve gelişme yolunda, uluslararası ilişkilerde çağdaş uluslarla yan yana ve uyum içinde yürümesi, kendine özgü karakterini ve bağımsız kimliğini korumasını temel alan milliyetçilik ilkesiyle aşağıdakilerden hangisine ulaşamaz?

- A) Ulusallığın ve bağımsızlığın ilke edinilmesi
- B) Çağdaşlığın benimsenmesi
- C) Türk milletinin kendini diğer milletlerden üstün görmesi
- D) Toplumun refah düzeyinin yükseltilmesine çalışılması
- E) Uluslararası barışın korunmasına özen gösterilmesi

25. 1930-1934 yılları arasında kadınla erkek arasındaki siyasi eşitsizlik, kadınlara,

- I. belediye seçimlerine katılma,
- II. milletvekili seçme ve seçilme,
- III. kendi soyadını taşıyabilme

haklarından hangilerinin tanınmasıyla giderilmeye çalışılmıştır?

- A) Yalnız I
- B) Yalnız II
- C) Yalnız III
- D) I ve II
- E) I, II ve III

26.

- I. Mülkiyet hakkının olması
- II. Toplumda ayrıcalıklara son verilmesi
- III. Herkesin yönetime katılması

Yukarıdakilerden hangileri halkçılık ilkesiyle bağdaşır?

- A) Yalnız I
- B) Yalnız II
- C) Yalnız III
- D) I ve II
- E) I, II ve III

27. Atatürk Döneminde,

- I. Kabotaj Kanunu'nun kabul edilmesi,
- II. Soyadı Kanunu'nun kabul edilmesi,
- III. tekke ve türbelerin kapatılması

gelişmelerinden hangilerinin resmî işlemlerde kolaylık sağladığı savunulabilir?

- A) Yalnız I
- B) Yalnız II
- C) Yalnız III
- D) I ve II
- E) I, II ve III

28. Terakkiperver Cumhuriyet Partisinin kapatılma nedeni aşağıdakilerden hangisidir?

- A) İki dereceli seçim sisteminin uygulanması
- B) Muhalefet partisine ihtiyaç duyulması
- C) Serbest Cumhuriyet Partisinin kurulması
- D) Şeyh Sait Ayaklanması'nın çıkması
- E) Menemen Olayı'nın çıkması

29. Kurtuluş Savaşı'nın "Vatanın parçalanmaz bir bütün olduğu" ilkesi ilk kez aşağıdakilerin hangisinde yer almıştır?

- A) Sivas Kongresi kararları
- B) Erzurum Kongresi kararları
- C) Amasya Genelgesi
- D) Amasya Görüşmeleri
- E) Misakımillî

30. Devletçilik ilkesi,

- I. özel girişimciliğe yer verilmesi,
- II. yabancı sermayeden yararlanılması,
- III. mülkiyet hakkının ulusun yararlarına aykırı biçimde kullanılması

durumlarından hangilerine karşıdır?

- A) Yalnız I
- B) Yalnız II
- C) Yalnız III
- D) I ve II
- E) II ve III

31. Atatürk Döneminde, Türkiye'nin,

- I. yabancı gemilerin Türk kara sularında serbest dolaşımını yasaklaması,
- II. Milletler Cemiyetine üye olması,
- III. Balkan Paktının kurucu üyelerinden biri olması

durumlarından hangilerinin, uluslararası ilişkilerde uzlaşmacı olduğunu gösterdiği savunulabilir?

- A) Yalnız I
- B) Yalnız II
- C) Yalnız III
- D) I ve II
- E) II ve III

32. 17 Şubat 1923 tarihinde açılan İktisat Kongresi'nin toplantı yeri olarak İzmir'in seçilmesinde,

- I. Kurtuluş Savaşı'nın bitimini noktlayan yer olması,
- II. Türkiye'nin en önemli ihracat limanlarından biri olması,
- III. kongreye her ilçeden sekiz delegenin seçilmesi

durumlarından hangilerinin etkili olduğu savunulabilir?

- A) Yalnız I
- B) Yalnız II
- C) I ve II
- D) II ve III
- E) I, II ve III

33.

- I. Türkiye – Irak sınırının çizilmesi
- II. İtalya ile savaş durumunun sona ermesi
- III. Irak'ın petrol üzerine konan vergi gelirinden kendi payına düşecek miktarın yüzde onunu 25 yıllık süre için Türkiye'ye vermeyi kabul etmesi

Yukarıdakilerden hangileri, Musul sorununun çözülmesinin sonuçları arasındadır?

- A) Yalnız I B) Yalnız II C) Yalnız III
D) I ve III E) I, II ve III

34. Atatürk'ün girişimiyle Cumhuriyet Döneminde kurulan ilk banka aşağıdakilerden hangisidir?

- A) İş Bankası
B) Sanayi ve Maadin Bankası
C) Emlak ve Eytam Bankası
D) Merkez Bankası
E) Ziraat Bankası

35. Balkan Paktının kurulmasında aşağıdakilerden hangisinin etkisi olduğu savunulabilir?

- A) Birinci Dünya Savaşı'nın başlaması
B) Hatay'ın Türk topraklarına katılması
C) Sadâbat Paktına Türkiye'nin girmesi
D) Montrö Sözleşmesi'yle Boğazların Türk egemenliğine geçmesi
E) Faşist İtalya ve Nazi Almanya'nın güçlenmesi

36.

- I. Yabancı okullar sorununun çözülmesi
- II. Batı Trakya'nın Yunanistan'a bırakılması
- III. Türkiye'nin Kore Savaşı'na katılması

Yukarıdakilerden hangileri Atatürk Dönemi gelişmeleri arasındadır?

- A) Yalnız I B) Yalnız II C) I ve II
D) I ve III E) II ve III

37.

- I. Kuzey Atlantik Antlaşması Örgütü (NATO)
- II. Birleşmiş Milletler Teşkilatı
- III. Varşova Paktı

Yukarıdakilerden hangileri bugün de işlevini sürdürmektedir?

- A) Yalnız I B) Yalnız II C) Yalnız III
D) I ve II E) I, II ve III

A

KPSS-ORTAÖĞR. / 2008

38. Türkiye'nin kara sınırlarıyla ilgili aşağıdaki ifadelerden hangisi yanlıştır?

- A) Kuzeybatıda Bulgaristan'la sınırı vardır.
- B) Yunanistan'la olan sınırının çoğunu Meriç Nehri oluşturur.
- C) Suriye'yle olan sınırının tamamında demir yolu vardır.
- D) İran dışındaki diğer sınırlar Millî Mücadele sırasında ya da sonrasında imzalanan antlaşmalarla belirlenmiştir.
- E) En fazla ülkeyle doğu sınırında komşudur.

40. Aşağıdaki ovalardan hangisi, karşısında verilen bölgede yer almaz?

<u>Ova</u>	<u>Bölge</u>
A) Altınbaşak	Güneydoğu Anadolu
B) Amik	Akdeniz
C) Erbaa	İç Anadolu
D) Ergene	Marmara
E) Gediz	Ege

39. Kızılırmak, aşağıdaki özelliklerin hangisi bakımından Türkiye'nin diğer akarsularından ayrılır?

- A) Çok fazla miktarda alüvyon taşıması
- B) Enerji potansiyelinin yüksek olması
- C) Geniş bir su toplama alanına sahip olması
- D) Tümüyle ülke sınırları içinde yer alan en uzun akarsu olması
- E) İç su balıkçılığı yönünden önemli bir potansiyele sahip olması

41. Türkiye'de etkin olan yerel rüzgârlardan hangisinin esiş yönü yanlış verilmiştir?

<u>Rüzgâr adı</u>	<u>Esiş yönü</u>
A) Poyraz	Kuzeydoğu
B) Keşişleme	Güneydoğu
C) Yıldız	Kuzey
D) Karayel	Kuzeybatı
E) Lodos	Batı

Diğer sayfaya geçiniz.

42. Türkiye'nin coğrafi bölgelerinde kar yağışının ve karın yerde kalma süresinin farklı olmasında,

- I. deniz etkisi,
- II. yükselti,
- III. boylam,
- IV. bitki örtüsü

etmenlerinden hangilerinin etkisi vardır?

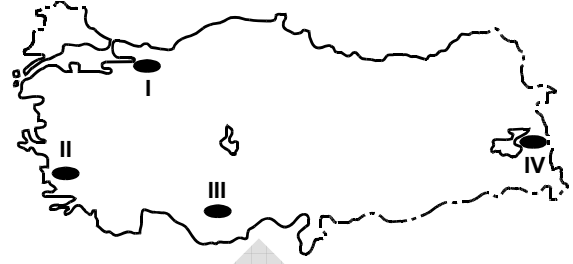
- A) I ve II B) I ve III C) II ve III
D) II ve IV E) III ve IV

43. Tarım, ticaret, turizm, endüstri ve ulaşım, kentlerin büyümesinde etkilidir.

Buna göre, aşağıdaki kıyı kentlerinden hangisinin gelişmesinde bu etkenlerin daha az etkili olduğu söylenebilir?

- A) İzmir B) İstanbul C) Zonguldak
D) İskenderun E) Antalya

44.



Haritada numaralanmış dört yöreden hangisi en sık, hangisi en seyrek nüfusludur?

- | | En sık | En seyrek |
|----|--------|-----------|
| A) | I | II |
| B) | I | III |
| C) | II | III |
| D) | II | IV |
| E) | III | IV |

45. Aşağıdakilerden hangisi Türkiye'deki nüfus dağılışı üzerinde etkili değildir?

- A) Ekonomik etkinliklerin farklı olması
- B) Toprak verimliliğinin farklı olması
- C) Geniş deltaların bulunması
- D) İki kıtada topraklarının bulunması
- E) Yer şekillerinin çeşitlilik göstermesi

Diğer sayfaya geçiniz.

46.

- I. Üretimi yalnız Akdeniz Bölgesi'nde yapılır.
- II. Türkiye'nin önemli dış satım ürünlerinden biridir.
- III. Portakal ve mandalina üretimi diğerlerinden fazladır.
- IV. Dünya üretiminin yarısından fazlasını Türkiye karşılar.

Türkiye'de turuncgil üretimiyle ilgili yukarıdaki özelliklerden hangileri doğrudur?

- A) I ve II B) I ve III C) II ve III
D) II ve IV E) III ve IV

47.



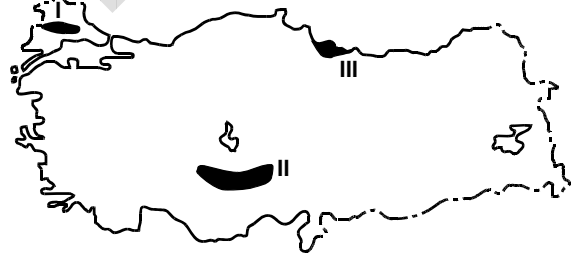
Yukarıdaki Karadeniz Bölgesi haritasında numaralanmış beş merkezden hangisinde buğday üretimi yapmak diğerlerinden daha zordur?

- A) I B) II C) III D) IV E) V

48. Çukurova'yla Konya Ovası arasında yapılan aşağıdaki karşılaştırmalardan hangisi doğrudur?

- A) Seracılık etkinlikleri Konya Ovası'nda daha yaygındır.
- B) Yetiştirilebilen tarım ürünü çeşidi Konya Ovası'nda daha fazladır.
- C) Toprağı nadasa bırakma uygulaması Çukurova'da daha yaygındır.
- D) Endüstriyel tarım ürünlerinin yetiştirilmesi bakımından Konya Ovası daha elverişlidir.
- E) Aynı tarihte ekilen buğday Çukurova'da daha erken hasat edilir.

49.

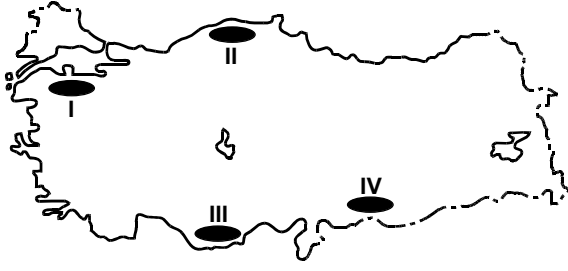


Haritada gösterilen üç yörede yoğun olarak yetiştirilen ürünler aşağıdakilerin hangisinde doğru olarak verilmiştir?

	I	II	III
A) Ayçiçeği		Buğday	Fındık
B) Portakal		Şeker pancarı	Mısır
C) Pamuk		Buğday	Mısır
D) Pamuk		Mercimek	Fındık
E) Ayçiçeği		Şeker pancarı	Çay

Diğer sayfaya geçiniz.

50.



Türkiye'nin yüzey şekilleri göz önüne alındığında, haritada gösterilen tarım alanlarının hangi ikisinde, traktör ve biçerdöver gibi tarım aletlerinin kullanımının diğerlerinden daha az olması beklenir?

- A) I ve II B) I ve III C) II ve III
D) II ve IV E) III ve IV

51.

- I. Mersin
II. Sivas
III. Muğla
IV. Sinop

Kışın serin ve yağışlı, yazın sıcak ve kurak iklim isteyen bir tarım ürünü, yukarıdaki illerin hangilerinde daha kolay yetiştirilebilir?

- A) I ve II B) I ve III C) II ve III
D) II ve IV E) III ve IV

52. Aşağıdakilerin hangisinde bir tarım ürünü, üretim miktarının ve dış satımdaki payının en fazla olduğu ille birlikte verilmiştir?

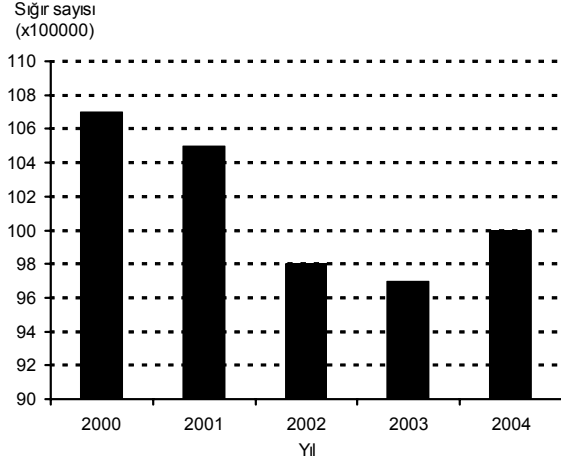
- A) İncir – Aydın
B) Zeytin – Hatay
C) Elma – Kastamonu
D) Mandalina – Rize
E) Üzüm – Adana

53. Türkiye'deki kümes hayvancılığı ve arıcılık etkinliklerinde önemli bir yere sahip olan iller aşağıdakilerin hangisinde verilmiştir?

<u>Kümes hayvancılığı</u>	<u>Arıcılık</u>
A) Mardin	Artvin
B) Uşak	Samsun
C) Erzurum	Çanakkale
D) Rize	Antalya
E) Bolu	Muğla

Diğer sayfaya geçiniz.

54. Aşağıdaki grafik Türkiye’de 2000-2004 yılları arasındaki siğir sayısını göstermektedir.



Yalnızca bu grafiğe dayanarak aşağıdaki bilgilerden hangisine ulaşılabilir?

- A) Verilen yıllardaki kesim hayvanı sayısına
B) Verilen yıllarda siğir sayıları arasındaki değişim oranına
C) Verilen yıllarda et üretimi arasındaki değişime
D) Verilen yıllardaki süt üretimi miktarına
E) Sağımlik hayvan sayısı ile et üretilen hayvan sayısı arasındaki orana

55. Aşağıdaki limanlardan hangisinin demir yoluyla bağlantısı yoktur?

- A) İskenderun B) Mersin
C) Zonguldak D) Samsun
E) Trabzon

56. Türkiye’de çeşitli nedenlerle tahrip edilen orman örtüsünün kendini yenilemesi en kolay olan bölge aşağıdakilerden hangisidir?

- A) Akdeniz B) Güneydoğu Anadolu
C) İç Anadolu D) Karadeniz
E) Ege

- 57.

- I. Toplam rezervi daha zengindir.
II. Termik santrallerde kullanımı daha yaygındır.
III. Çıkartma maliyeti daha yüksektir.

Taş kömürü ile karşılaştırıldığında, Türkiye’de linyitle ilgili yukarıdaki ifadelerden hangileri doğrudur?

- A) Yalnız I B) Yalnız III C) I ve II
D) I ve III E) II ve III

Diğer sayfaya geçiniz.

A

KPSS-ORTAÖĞR. / 2008

58. Türkiye'nin hidroelektrik enerji üretimine, aşağıdaki bölümlerden hangisinin katkısı en azdır?

- A) Konya
B) Orta Karadeniz
C) Ege
D) Adana
E) Yukarı Fırat

60. Türkiye'de dış turizmin gelişmesinde aşağıdakilerden hangisinin etkisi en azdır?

- A) Bazı turistik yörelere havaalanı yapılması
B) Kıyı yerleşmelerinde modern yat limanlarının yapılması
C) Konaklama hizmeti veren yerlerin sayı ve niteliklerinin artması
D) Tarihî ve doğal güzelliklere sahip alanların tanımlarının yapılması
E) Turizm merkezleri çevresinde turfanda sebze ve meyvecilik yapılması

59.

- I. Petrol
II. Radyoaktif elementler
III. Su gücü
IV. Taş kömürü

Güneydoğu Anadolu Bölgesi, yukarıda verilen enerji kaynaklarının hangileri bakımından Türkiye'de önemli bir yere sahiptir?

- A) I ve II
B) I ve III
C) I ve IV
D) II ve III
E) II ve IV

Diğer sayfaya geçiniz.

61. 1982 Anayasası'na göre, bir siyasal partinin kapatılmasına aşağıdakilerden hangisi karar verebilir?

- A) İçişleri Bakanlığı
- B) Anayasa Mahkemesi
- C) Uyuşmazlık Mahkemesi
- D) Danıştay
- E) Yargıtay

62. 1982 Anayasası'nın değiştirilmesi için gereken teklif ve kabul yeter sayısı ile ilgili aşağıdaki ifadelerden hangisi doğrudur?

- A) TBMM üye tam sayısının en az beşte birinin teklifi ve toplanmış olan üyelerin en az üçte ikisinin kabulü gerekir.
- B) TBMM üye tam sayısının en az onda birinin teklifi ve TBMM üye tam sayısının en az üçte ikisinin kabulü gerekir.
- C) 20 milletvekili veya bir siyasi parti grubunun teklifi ve TBMM üye tam sayısının en az salt çoğunluğunun kabulü gerekir.
- D) TBMM üye tam sayısının en az üçte birinin veya Bakanlar Kurulunun teklifi ve TBMM üye tam sayısının en az üçte ikisinin kabulü gerekir.
- E) TBMM üye tam sayısının en az üçte birinin teklifi ve TBMM üye tam sayısının en az beşte üçünün kabulü gerekir.

63. Aşağıdakilerden hangisi, 1982 Anayasası'nın 4. maddesi uyarınca, değiştirilmesi ve değiştirilmesinin teklif edilmesi yasaklanmış olan 3. maddesinde yer almamıştır?

- A) Başkentin Ankara olduğu
- B) Bayrağın şeklinin kanunda belirtilen beyaz ay yıldızlı al bayrak olduğu
- C) İstiklâl Marşı'nın millî marş olduğu
- D) Devletin dilinin Türkçe olduğu
- E) Latin harflerinden oluşturulan Türk alfabesinin kullanılacağı

64. 1982 Anayasası'na göre, milletvekili seçimlerinin yönetim ve denetimini aşağıdakilerden hangisi yapar?

- A) TBMM Anayasa Komisyonu
- B) Anayasa Mahkemesi
- C) Yüksek Seçim Kurulu
- D) Yargıtay Cumhuriyet Başsavcılığı
- E) Uyuşmazlık Mahkemesi

A

KPSS-ORTAÖĞR. / 2008

65. Yürütme yetkisi ve görevi aşağıdakilerden hangisine aittir?

- A) Milletvekillerine
- B) Cumhurbaşkanına ve Bakanlar Kuruluna
- C) Yargıtay Başkanına ve Danıştay Başkanına
- D) Hâkimlere ve savcılara
- E) Genelkurmay Başkanına

66. Aşağıdakilerden hangisi il genel idaresinin organlarından biridir?

- A) İl genel meclisi
- B) İl daimi encümeni
- C) Belediye meclisi
- D) Belediye encümeni
- E) İl idare kurulu

67. Belediyenin asli karar organı aşağıdakilerden hangisidir?

- A) Belediye meclisi
- B) Belediye encümeni
- C) İl genel meclisi
- D) Belediye başkanı
- E) Vali

68. Aşağıdakilerden hangisi merkezî idarenin taşra teşkilatından biri değildir?

- A) İl genel idaresi
- B) Belediye idaresi
- C) İlçe idaresi
- D) Bucak idaresi
- E) Bölge idareleri

69. Normlar arasındaki hiyerarşik sıralamaya göre en üstün norm aşağıdakilerden hangisidir?

- A) Kanun hükmünde kararname
- B) Yönetmelik
- C) Anayasa
- D) Kanun
- E) Tüzük

70. Bir kişiyi devlete bağlayan hukuki ve siyasi bağa ne ad verilir?

- A) Uyrukluk (Tabiiyet)
- B) Üyelik
- C) Katılma
- D) Sığınma
- E) Karşılıklılık

71. Hukuk kurallarının hangi özelliği onu diğer sosyal düzen kurallarından ayırır?

- A) Sosyal yaşamı düzenlemesi
- B) Kişilere bazı ödevler yüklemesi
- C) Herkese uygulanabilir olması
- D) Devlet gücüne dayanması
- E) Bazı emir ve yasakları içermesi

Diğer sayfaya geçiniz.

A

KPSS-ORTAÖĞR. / 2008

72. Hazine Müsteşarlığı aşağıdakilerden hangisine bağlıdır?

- A) TBMM
B) Maliye Bakanlığı
C) İçişleri Bakanlığı
D) Başbakanlık
E) T.C. Merkez Bankası

74. Türkiye’de ve başka bazı ülkelerde kene aracılığıyla bulaşarak ölümlere yol açan hastalık aşağıdakilerden hangisidir?

- A) Malarya
B) Karasu ateşi
C) Tatarcık humması
D) Kayalık dağlar ateşi
E) Kırım-Kongo kanamalı ateşi

73. Türkiye’de yerel seçimler hangi yılda yapılacaktır?

- A) 2008
B) 2009
C) 2010
D) 2011
E) 2012

75. 2008 Avrupa Futbol Şampiyonası’nı kazanan ülke aşağıdakilerden hangisidir?

- A) Almanya
B) İtalya
C) İspanya
D) Hollanda
E) Portekiz

TEST BİTTİ.

CEVAPLARINIZI KONTROL EDİNİZ.

KAMU PERSONEL SEÇME SINAVI (KPSS)

21 EYLÜL 2008

**ORTAÖĞRETİM
GENEL YETENEK TESTİ**

A KİTAPÇIĞI

- | | | |
|-------|-------|-------|
| 1. B | 26. E | 51. E |
| 2. D | 27. A | 52. B |
| 3. A | 28. C | 53. D |
| 4. E | 29. B | 54. A |
| 5. E | 30. D | 55. A |
| 6. C | 31. E | 56. B |
| 7. D | 32. A | 57. B |
| 8. A | 33. B | 58. E |
| 9. C | 34. C | 59. B |
| 10. B | 35. D | 60. C |
| 11. A | 36. E | 61. C |
| 12. E | 37. A | 62. A |
| 13. D | 38. C | 63. D |
| 14. C | 39. C | 64. B |
| 15. E | 40. D | 65. E |
| 16. D | 41. B | 66. E |
| 17. B | 42. E | 67. D |
| 18. A | 43. B | 68. E |
| 19. E | 44. A | 69. C |
| 20. C | 45. B | 70. E |
| 21. B | 46. C | 71. A |
| 22. A | 47. A | 72. C |
| 23. D | 48. D | 73. B |
| 24. C | 49. D | 74. C |
| 25. B | 50. C | 75. D |

KAMU PERSONEL SEÇME SINAVI (KPSS)

21 EYLÜL 2008

**ORTAÖĞRETİM
GENEL KÜLTÜR TESTİ**

A KİTAPÇIĞI

- | | | |
|-------|-------|-------|
| 1. A | 26. E | 51. B |
| 2. C | 27. B | 52. A |
| 3. E | 28. D | 53. E |
| 4. B | 29. B | 54. B |
| 5. A | 30. C | 55. E |
| 6. C | 31. E | 56. D |
| 7. E | 32. C | 57. C |
| 8. B | 33. D | 58. A |
| 9. C | 34. A | 59. B |
| 10. E | 35. E | 60. E |
| 11. D | 36. A | 61. B |
| 12. B | 37. D | 62. E |
| 13. A | 38. C | 63. E |
| 14. D | 39. D | 64. C |
| 15. E | 40. C | 65. B |
| 16. C | 41. E | 66. E |
| 17. B | 42. A | 67. A |
| 18. E | 43. C | 68. B |
| 19. A | 44. B | 69. C |
| 20. C | 45. D | 70. A |
| 21. D | 46. C | 71. D |
| 22. A | 47. D | 72. D |
| 23. B | 48. E | 73. B |
| 24. C | 49. A | 74. E |
| 25. D | 50. C | 75. C |