



T.C. Ölçme, Seçme ve Yerleştirme Merkezi

**KAMU PERSONEL SEÇME SINAVI
ORTAÖĞRETİM**

**GENEL YETENEK TESTİ
GENEL KÜLTÜR TESTİ**

28 EYLÜL 2014 PAZAR

Bu testlerin her hakkı saklıdır. Hangi amaçla olursa olsun, testlerin tamamının veya bir kısmının Merkezimizin yazılı izni olmadan kopya edilmesi, fotoğrafının çekilmesi, herhangi bir yolla çoğaltılması, yayımlanması ya da kullanılması yasaktır. Bu yasağa uymayanlar gerekli cezai sorumluluğu ve testlerin hazırlanmasındaki mali külfeti peşinen kabullenmiş sayılır.

AÇIKLAMA

1. Bu kitapçıkta Kamu Personel Seçme Sınavı (Ortaöğretim) **Genel Yetenek Testi** ve **Genel Kültür Testi** bulunmaktadır.
2. Bu testler için verilen toplam cevaplama süresi **120 dakikadır (2 saat)**.
3. Genel Yetenek Testi ve Genel Kültür Testinin her birinde **60 soru** vardır.
4. Bu kitapçıkta testlerde yer alan her sorunun sadece bir doğru cevabı vardır. Bir soru için birden çok cevap yeri işaretlenmişse o soru yanlış cevaplanmış sayılacaktır.
5. İşaretlediğiniz bir cevabı değiştirmek istediğinizde, silme işlemi çok iyi yapmanız gerektiğini unutmayınız.
6. Bu testler puanlanırken doğru cevaplarınızın sayısından yanlış cevaplarınızın sayısının dörtte biri düşülecek ve kalan sayı testle ilgili ham puanınız olacaktır.
7. Cevaplamaya istediğiniz sorudan başlayabilirsiniz. Bir soru ile ilgili cevabınızı, cevap kâğıdında o soru için ayrılmış olan yere işaretlemeyi unutmayınız.
8. Sınavda uyulacak diğer kurallar bu kitapçığın arka kapağında belirtilmiştir.

1. Bu testte 60 soru vardır.

2. Cevaplarınızı, cevap kâğıdının Genel Yetenek Testi için ayrılan kısmına işaretleyiniz.

1. Yeşil yeşil giyinmiş ağaçlar sabrın simgesidir

I
bana göre. Soğuğa, sıcağa, yağmura

II kulak asmadan doğa koşullarına göğüs gererler.

III Yaşlı bir ağaç gövdesi, insanın yoruldukça insafına

IV sığınacağı bir liman gibidir çoğu zaman.

V
Bu parçadaki numaralandırılmış sözlerden hangisi gerçek anlamıyla kullanılmıştır?

A) I B) II C) III D) IV E) V

2. Dünya bir ---- olarak algılanmaya başlanınca insanların ona müdahale edip daha iyi ---- için bir şeyler denemeleri de normalleşti.

Bu cümlede boş bırakılan yerlere sırasıyla aşağıdakilerden hangileri getirilmelidir?

- A) makine – çalışması
B) gezegen – dönmesi
C) fabrika – hizmet alması
D) laboratuvar – ilerlemesi
E) canlı – yaşaması

3. Her işe başlarken zorlu bir sürecin beni beklediğini önceden kabul ederim, böylece çalışırken hayal kırıklığına uğramam ve işimi kolay hallettiğimde de mutlu olurum.

Aşağıdaki atasözlerinden hangisi bu cümlede anlatılmak istenen duruma anlamca en yakındır?

- A) Kış kış gerek, yaz yaz.
B) İşini kış tut da yaz çıkarsa bahtına.
C) Gölgeyi hoş gören tekneyi boş görür.
D) Başa gelmez iş olmaz, ayağa değmez taş olmaz.
E) İşleyen demir pas tutmaz.

4. I. temel ilkelerini ve işleyişini
II. halkla etkileşimi sağlayan en önemli
III. şekilde anlatan bilim merkezleridir
IV. araçlardan biri de bilim ve teknolojinin
V. çoğunlukla uygulamalı ve etkileşimli bir

Yukarıdaki sözler anlamlı ve kurallı bir cümle oluşturacak biçimde sıralandığında hangisi baştan dördüncü olur?

A) I B) II C) III D) IV E) V

5. (I) Atmosfer olmasa Dünya'daki canlılar Güneş'ten ve uzaydan gelen radyasyona, meteor bombardımanına ve aşırı sıcaklığa maruz kalır; hayatlarına devam edemezler. (II) Gaz, sıvı ve diğer parçacıklardan oluşan bir katmanla atmosfer, Dünya'yı çevreleyerek canlıları bu potansiyel ölümcül tehditlere karşı korur. (III) Atmosferin troposfer olarak adlandırılan bölümü sayesinde Dünya'daki hava olayları yaşanır. (IV) Troposferin üstünde stratosfer bulunur ve bu katman aynı zamanda ozon tabakasını da içerir. (V) Ozon tabakası ise insan faaliyetlerinden yayılan kimyasallar sonucu zarar gördüğünde yeryüzünde aşırı ısınma ve soğumalar baş gösterir.

Bu parçadaki numaralandırılmış cümlelerin hangisinde atmosferin işlevinden söz edilmemektedir?

- A) I B) II C) III D) IV E) V

6. Çocuk sorunları ilk kez 1923 yılında, İsviçre'nin Cenevre kentindeki bir toplantıda tartışılmış ve bunun ardından kabul edilen çocuk hakları "Cenevre Bildirisi" adıyla yayımlanmıştır.

Bu cümlede aşağıdaki sorulardan hangisinin cevabı yoktur?

- A) Çocuk sorunları üzerinde ilk kez ne zaman durulmuştur?
 B) Çocuk sorunlarıyla ilgili ilk tartışmalar nasıl sonuçlanmıştır?
 C) Cenevre Bildirisi'nin içeriğini neler oluşturmaktadır?
 D) Cenevre, hangi ülke sınırları içerisinde bulunmaktadır?
 E) Dünya çocuk günü hangi tarihte kutlanmaktadır?

7. Doğanın korunmasını teşvik etmek amacıyla yeni yeni yöntemler deneniyor. Örneğin bu kapsamda "borca karşılık doğa" kavramı; yoksul bir ülkenin belli ekolojik alanlarını korumaya alması karşılığında, gelişmiş ülkelerden aldığı borçların bir bölümünün silinmesi anlamına geliyor.

Aşağıdakilerden hangisi bu parçada bir ismi niteleme görevinde kullanılmamıştır?

- A) yoksul B) ekolojik C) gelişmiş
 D) yeni yeni E) amacıyla

8. Aşağıdaki cümlelerin hangisinde işi başkasına yaptırma anlamı bulunmaktadır?

- A) Fakültede kullandığı kitapları depoya kaldırttı.
 B) Dün akşam boyunca arabaları yıkayıp temizledi.
 C) Tatilden döndüğünde giysilerinin tümünü düzenledi.
 D) Eve gelir gelmez, annem görmeden odamı topladım.
 E) Bu sene gerçekleştirilecek işlerin planını yaptık.

9. Aşağıdakilerin hangisinde altı çizili söz, cümlenin nesnesi görevinde değildir?

- A) Bu mısraları, henüz on yaşındayken okumuştum.
 B) İlk şiir kitabını, 1923 yılında İstanbul'dan almış.
 C) Dün akşamki filmi, daha önce defalarca seyrettik.
 D) Büyükannesi, haftada bir kez bu parkta yürüyordu.
 E) Saatini düşürdüğünü, her nasılsa anlamamış.

10. (I) Uykusunun geldiğini nereden biliyor? (II) Buna epey şaşıtıysa da koydu başını onun dizine. (III) Uzun uzun düşündü sonra. (IV) Ne dizeler geçiyordu aklından ne şairler... (V) Yaş otuz beş, yolun yarısı eder. (VI) Yolun tamamı yetmiş miydi gerçekten?

Bu parçadaki numaralandırılmış cümlelerin hangisinde bir yazım yanlışı vardır?

- A) I B) II C) III D) IV E) V

11. Tanrı yetenek vermediğinden parlak sunuş sözleri bulamam bir türlü () bulduklarım da yapay ve soğuk görünür. Bir de şu soruyu kendime sormadan edemem () Doğru mu bu yaptığım ()

Bu parçada ayraçlarla () gösterilen yerlere sırasıyla aşağıdaki noktalama işaretlerinden hangileri getirilmelidir?

- A) (,) (:) (?) B) (;) (:) (!) C) (,) (;) (?)
D) (:) (,) (...) E) (;) (;) (?)

12. (I) Amerikan armudu olarak bilinen avokado, Avrupa'ya II. Dünya Savaşı sonlarında geldi. (II) Maya ve Azteklerin çok sevdiği bu meyveye İspanyollar "yerli" anlamına gelen "avocado" demişlerdi. (III) Amerika'daki yüksek tüketim miktarıyla, her dönem iyi bir gelir kaynağı olmuştu. (IV) Avrupa'dan sonra Türkiye'ye de gelen avokado, üretimi ve tüketimi bakımından bizde istatistiklere giremedi. (V) Yine de Akdeniz sahillerinde, özellikle Alanya, Antalya ve Adana'da bu meyve yetiştirilmekte.

Bu parçadaki numaralandırılmış cümlelerden hangisi düşüncenin akışını bozmaktadır?

- A) I B) II C) III D) IV E) V

13. (I) Dağa tırmanırken vücudum ter içindeydi. (II) Dere sağda, aşağıda kalmıştı. (III) Üzeri kuru çam yapraklarıyla örtülü keçi yolunda kayıp dereye yuvarlanmamak için bazen diz üstü çöküp bir ardıç dalını yakalıyor, bazen de tutar tutmaz köküyle beraber elimde kalan bir kekiğe yapışıyordum. (IV) Ben üç dört saatte obaya varacağımı sandığım için yanıma bir şey almamıştım. (V) Nihayet yol düzleşmiş, artık tırmanmak ve yürümek daha da kolaylaşmıştı.

Bu parçadaki numaralandırılmış cümlelerden hangisi düşüncenin akışını bozmaktadır?

- A) I B) II C) III D) IV E) V

14. Bugüne (I) kadar (II) sevmekten (III) vazgeçmediğim, şirin yüce bir uğraş olduğunu (IV) kendisinden öğrendiğim (V) şairlerden biriydi o.

Bu parçadaki numaralandırılmış yerlerden hangilerine "asla" sözcüğü getirilebilir?

- A) I ve II B) I ve IV C) II ve III
D) III ve V E) IV ve V

15. **Aşağıdakilerin hangisinde bir anlatım bozukluğu vardır?**

- A) Takım arkadaşlarım ve kendi adıma sizlere iyi çalışmalar diliyorum.
B) Sinemaya eskiden seyrek de olsa giderdim, artık hiç gitmiyorum.
C) Eski komşumu her gün görmem ama çok severim.
D) Denizi ve doğal güzellikleriyle birçok sanatçıya esin kaynağı olmuştu.
E) Gideceğim yerlerle ilgili kitapları mutlaka önceden karıştırırım.

16. ----. Yaşamını sürdürebilmek için çevredeki göstergeleri anlamlandırır. Bu durum, ona doğadaki yerini ve işlevini keşfetme olanağı sağlar. Örneğin kuşlar göç aylarının geldiğini doğadaki birtakım değişimlerden anlayabilir, arılar ise bol çiçekli tarlaların yönünü bir esintiden çıkarabilirler.

Bu parçanın başına, düşüncenin akışına göre aşağıdakilerden hangisi getirilebilir?

- A) Canlılar arasındaki ayırt edici özelliklerden biri de bildiklerini konuşarak aktarabilme becerisidir
- B) Her canlı, dünyayı kendi gereksinimlerine göre yorumlar
- C) Doğayı anlayabilmek için önce onu bütünüyle algılamak gerekir
- D) Dilsel iletişimin olmadığı yerde sezgi ve içgüdülerle yoruma gider
- E) Varoluşun kendisi her dönemde bazı yorum türlerini de beraberinde getirmiştir

17. Hayat bir sorunlar yumağının içinde çırpınmayla geçiyor. Kimi insanlar, sorunlarla boğuştukça işi içinden çıkılmaz hâle getirirken bazıları sorunları âdeta tereyağından kıl çeker gibi çözüyor. Sorunları çözmenin en temel ilkesi, onu fark ettiğimiz ana kadarki bakış açımızı sorgulamak ve kendimizi farklı bir biçimde düşünmeye zorlamaktır.

Bu parçada asıl anlatılmak istenen aşağıdakilerden hangisidir?

- A) Bakış açısını sürekli değiştirmek sorunların görülmesini engeller.
- B) Sorunları çözmek için sebeplerinin ortadan kaldırılması gerekir.
- C) Soruna nereden yaklaştığınız, sorunun çözümünde belirleyicidir.
- D) Sorunları kolayca çözmek herkes için geliştirilebilir bir beceridir.
- E) Sorunun kendisini fark edip anlamak çözümün başlangıcıdır.

18. Romancı; var olan olayların, kişilerin ve durumların soyutlamasını yapar ama bunu yaparken bazı kurallara bağlı kalır. Kendi içinde tutarlı ve değişen derecelerde yaşanmışlık hissi veren bir konuyu resmederken önce malzemesini ayıklar. Ardından bazı noktaları vurgular. Romanı oluşturacak bu malzemeyi farklı yönleriyle ele alır; hayal gücüyle onları yoğurur ve okura daha küçük, daha özelleşmiş bir yaşam parçası sunar.

Bu parçada romancının vurgulanan yönü aşağıdakilerden hangisidir?

- A) Dış gerçekliği süzgeçten geçirerek yeni dünyalar yaratması
- B) Toplumun yaşayışını yansıtan bir ayna görevinin olması
- C) Hayal unsurları aracılığıyla okurun çıkarım yapmasını sağlaması
- D) Topluma ve insan ilişkilerine yeni bir yön vermesi
- E) Farklı biçim denemeleriyle gerçeklerden uzaklaşması

19. Dildeki yapaylık biraz da televizyonun yaşamımızdaki etkisinden kaynaklanıyor. Televizyon ekranlarına çıkanların aşırı özentili tavırları ya da aynı derecedeki özentisiz hâlleri arasındaki farklılık, izleyenlerin sadece giyimlerine değil sözlerine de yansıyor. Cümleler ya ütülü bir elbise gibi ya da süklüm püklüm duruyor.

Bu parçadan aşağıdakilerin hangisi kesin olarak çıkarılabilir?

- A) Medyadaki başarı, sokak diliyle sağlanır.
- B) Özentili, medyada yer almak için mutlak şarttır.
- C) Kıyafetle konuşma biçimi arasında bir ilişki vardır.
- D) Sokağın dili, doğal ve samimi olduğu için güzeldir.
- E) Gündelik dilin belirleyicilerinden biri de medyadır.

20. Amsterdam, Hollanda'nın ulaşımı kolay ve ilgi çekici yerlere sahip bir bölgesinde yer alır. Haarlem yalnızca on beş dakikalık mesafededir. Edam ve Gouda'nın peynir pazarlarına gitmek yarım saatten kısa sürer. Kuzeyde geleneksel balıkçı köyünün canlandırıldığı Zuiderze Müzesi, güneyde ise tarihî Utrecht şehri yer alır. Doğuda 1692 yılından bu yana Hollanda kraliyet ailesinin yazlık av köşkü olan Paleis Het Loo bulunur.

Bu parçada Amsterdam'la ilgili olarak aşağıdakilerin hangisinden söz edilmemiştir?

- A) Nerede konumlandığından
- B) Tarihî ve turistik yerlerinden
- C) Kültürel bir ögesinin sergileniş biçiminden
- D) Ülkenin ileri gelenlerinin kullandığı mekândan
- E) Ulaşım imkânlarının neler olduğundan

21. İbni Haldun şiire yalnızca bir söz sanatı gibi yaklaşmaz. Ona göre şiir; bilginin, haberin, doğrunun, yanlışın ve hikmetin de kaynağıdır. Şiir, bütün bunları yine şiirin ilkelerine uyarak ifade eder. Bilginin bir dalından diğerine, bir maksattan öbürüne geçer.

Bu parçaya göre İbni Haldun'un şiire bakışıyla ilgili olarak aşağıdakilerden hangisi söylenemez?

- A) Her şeyden önce, bir söz sanatı olduğunun bilincindedir.
- B) Kendine özgü kuralları olduğunu düşünmektedir.
- C) Öğretici işlevi olduğunu kabul etmektedir.
- D) Yaşananların en iyi kayıt yöntemi olduğunu savunmaktadır.
- E) Bir amaç için yazılmasını doğru bulmaktadır.

22. - 23. soruları aşağıdaki parçaya göre cevaplayınız.

İncirin ana vatanı, Anadolu topraklarıdır. İncir buradan Suriye, Mısır, Filistin ve Çin'e kadar uzanan geniş bir alana yayılmıştır. Bu meyve, Antik Mısır ve Yunan medeniyetlerinde bereket ve verimlilik timsali olmuştur. Olimpiyatlara katılan atletlere incir yaprağından taç yapılmış, yemeleri için de bolca incir verilmiştir. İncir bugün de oldukça fazla tüketilen bir meyvedir. Faydaları saymakla bitmez: Hücre gelişimini sağlar, anasonla birlikte tüketildiğinde kan yapma özelliği bulunur, bağırsakları yumuşatır. İncir, soframızda da birçok yemeğe tat katmakta kullanılır.

22. Bu parçaya göre incirle ilgili olarak aşağıdakilerden hangisi söylenbilir?

- A) Dünya üzerinde sınırlı bölgelerde yetiştirilir.
- B) İncir kullanılan yemekler daha sağlıklı ve lezzetli olur.
- C) Uzun zamandır bilinen ve rağbet gören bir meyvedir.
- D) Tarihin her döneminde bereketi simgelemiştir.
- E) Bol tüketildiğinde kan yapıcı etkisi olduğu kanıtlanmıştır.

23. Bu parçanın anlatımıyla ilgili olarak aşağıdakilerden hangisi söylenemez?

- A) Öykülemeye başvurulmuştur.
- B) Karşılaştırma yapılmıştır.
- C) Nesnel bilgilere yer verilmiştir.
- D) Örnekler kullanılmıştır.
- E) Tanık göstermeden yararlanılmıştır.

24. - 26. soruları aşağıdaki parçaya göre cevaplayınız.

(I) Ünlü yazarın son çıkan romanı çok sayıda eleştiriye maruz kaldı. (II) Yazılanlara göre, romanın yapısı derinlikten uzaktı ve kahramanlar yüzeysel tasarlanmıştı. (III) Kimsenin söylemeye cesaret edemediği ama bazı eleştiri yazılarında öne çıkan düşünce ise yazarın bu romanı sadece ticari amaçlarla yazmış olduğuydu. (IV) Eleştirilerin bir kısmı yazarın eski romanlarını hatırlatıyor, bu romanlardaki ince işçiliği ve yazarın son romanında olmayan çok katmanlı anlatımı yâd ediyordu. (V) Eleştiriler o kadar yoğun ve sert biçimde devam etti ki yazar pes etmek zorunda kaldı. (VI) Hüzünlü bir tavrın hâkim olduğu son röportajında, bu romanının yeniden basılmasına izin vermeyeceğini açıkladı.

24. Bu parçaya göre aşağıdakilerden hangisi söz konusu romanın eleştirilen yönleri arasında değildir?

- A) Maddi beklentilerle oluşturulması
- B) Karakterlerin tek boyutlu kurgulanması
- C) Önceki romanların basit bir tekrarı olması
- D) Yüzeysel bir anlatıma sahip olması
- E) Edebi bir değerden yoksun kalması

25. Bu parçadaki numaralandırılmış cümlelerin hangisi, söz konusu romana yönelik eleştirileri sonlandırma isteğinin göstergesi niteliğindedir?

- A) II
- B) III
- C) IV
- D) V
- E) VI

26. Bu parçadaki numaralandırılmış cümlelerin hangisinde sebep-sonuç ilişkisi vardır?

- A) II
- B) III
- C) IV
- D) V
- E) VI

27. - 30. soruları aşağıdaki bilgilere göre birbirinden bağımsız olarak cevaplayınız.

Çalışanların doğum günlerinin kutlandığı bir iş yerinde sırasıyla mart, nisan ve mayıs aylarında, farklı günlerde doğum günleri kutlanacak olan A, B, C, D, E, F, G ve H adlı sekiz kişinin doğum günü kutlama sıralarına ilişkin kimi bilgiler şu şekildedir:

- Söz konusu sekiz kişiden ikinci sırada B'nin, yedinci sırada H'nin doğum günü kutlanacaktır.
- Mart ayında doğum günü kutlanacak üçüncü ve son kişi E'dir.
- Nisan ayı içerisinde yalnızca A ve G'nin doğum günü kutlanacaktır.
- Mayıs ayında doğum günü kutlanacak ilk kişi C'dir.

27.

- A
- D
- F

Yukarıdakilerden hangileri doğum günü dördüncü sırada kutlanacak kişiler arasında olabilir?

- A) Yalnız I B) Yalnız II C) Yalnız III
D) I ve II E) II ve III

28. Aşağıdakilerden hangisi kesin olarak doğrudur?

- Altıncı sırada doğum günü kutlanacak kişi C'dir.
- F'nin doğum günü mart ayında kutlanacaktır.
- Dördüncü sırada A'nın doğum günü kutlanacaktır.
- Beşinci sırada G'nin doğum günü kutlanacaktır.
- H'den bir önce A'nın doğum günü kutlanacaktır.

29. Sekiz kişiden doğum günü kutlanacak son kişinin D olduğu biliniyorsa aşağıdakilerden hangisi kesin olarak doğrudur?

- Beşinci sırada A'nın doğum günü kutlanacaktır.
- Mart ayında doğum günü kutlanacak ilk kişi F'dir.
- Mart ayında E'nin doğum günü, B'den önce kutlanacaktır.
- Mayıs ayında doğum günü kutlanacak iki kişi bulunmaktadır.
- B'den hemen sonra G'nin doğum günü kutlanacaktır.

30. Bu bilgiler, aşağıdakilerden hangisini belirlemek için yeterli değildir?

- Mart ayında doğum günü olan kişi sayısını
- Mayıs ayında doğum günü olan kişi sayısını
- Altıncı sırada doğum günü kutlanacak kişiyi
- Doğum günü kutlanacak ilk kişinin kim olduğunu
- Dördüncü ve beşinci kişilerin doğum günlerinin hangi ay kutlanacağını

31.

$$1 - \left[\frac{1}{2} - \left(\frac{1}{3} - \frac{1}{6} \right) + \frac{1}{4} \right]$$

işleminin sonucu kaçtır?

- A) $\frac{1}{3}$ B) $\frac{2}{3}$ C) $\frac{3}{4}$
 D) $\frac{1}{6}$ E) $\frac{5}{12}$

32.

$$\frac{3 \cdot (0,36 - 0,2)}{0,48 + 0,24}$$

işleminin sonucu kaçtır?

- A) $\frac{1}{2}$ B) $\frac{2}{3}$ C) $\frac{4}{3}$
 D) $\frac{3}{4}$ E) $\frac{5}{4}$

33.

$$\frac{6 \cdot 3^{-7} + 2 \cdot 3^{-5}}{9^{-3}}$$

işleminin sonucu kaçtır?

- A) 8 B) 9 C) 10 D) 12 E) 15

34.

$$\frac{\sqrt[3]{40} + \sqrt[3]{135}}{\sqrt[3]{25}}$$

işleminin sonucu kaçtır?

- A) $\sqrt[3]{4}$ B) $\sqrt[3]{5}$ C) $\sqrt[3]{9}$
 D) $\sqrt[3]{16}$ E) $\sqrt[3]{25}$

35.

$$\begin{array}{r} A8A \\ + 7A9 \\ \hline KL7M \end{array}$$

Yukarıda verilenlere göre, $K + L + M$ toplamı kaçtır?

- A) 13 B) 14 C) 15 D) 16 E) 17

36. a , b ve c tam sayıları için

$$b < c < a$$

$$a \cdot b = -10$$

$$a \cdot c = 5$$

olduğuna göre, $a + b + c$ toplamı kaçtır?

- A) 4 B) 5 C) 6 D) 7 E) 8

37. Üç basamaklı ABC doğal sayısı, iki basamaklı BA doğal sayısına bölündüğünde bölüm 20, kalan ise iki basamaklı BC doğal sayısı oluyor.

Buna göre, $A + B$ toplamı kaçtır?

- A) 6 B) 7 C) 8 D) 9 E) 10

38. a ve b doğal sayılar olmak üzere,

$$a^2 = b^2 + 92$$

$$\text{EBOB}(a, b) = 2$$

olduğuna göre, $a - b$ farkı kaçtır?

- A) 2 B) 4 C) 8 D) 23 E) 46

39.

$$2^7 + 6^8$$

toplamının 7'ye bölümünden kalan kaçtır?

- A) 0 B) 1 C) 2 D) 3 E) 4

40. a, b ve c pozitif tam sayıları

$$3a + b = 6c - 5$$

eşitliğini sağlamaktadır.

Buna göre, aşağıdakilerden hangisi her zaman bir çift sayıdır?

- A) a+b B) a+c C) b+c
D) a.b E) a.c

41. \sqrt{x} bir tam sayı olmak üzere,

$$|\sqrt{x} + 4| < 10$$

eşitsizliğini sağlayan x değerlerinin toplamı kaçtır?

- A) 14 B) 30 C) 42 D) 55 E) 70

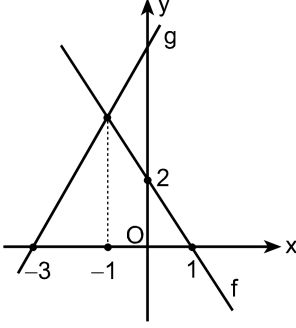
42.

$$2(\sqrt{a} + \sqrt{b}) = a - b = 20$$

olduğuna göre, a + b toplamı kaçtır?

- A) 40 B) 44 C) 48 D) 50 E) 52

43. f ve g doğrusal fonksiyonlarının grafikleri aşağıda verilmiştir.



Buna göre, $g(0)$ değeri kaçtır?

- A) 4 B) 5 C) 6
D) $\frac{9}{2}$ E) $\frac{11}{2}$

44.

$$\frac{x+2}{2} + \frac{2}{x+2} = \frac{2x+7}{4}$$

eşitliğini sağlayan x değeri kaçtır?

- A) $\frac{2}{3}$ B) $\frac{5}{3}$ C) $\frac{3}{4}$
D) $\frac{5}{4}$ E) $\frac{6}{5}$

45. Bir sınıftaki öğrencilerin bir sınavda aldıkları puanların ortalaması hesaplanıyor. Eğer sınıftaki erkek öğrencilerin her biri 3 puan daha az alsaydı sınıf ortalaması 2 puan azalmış olacaktı.

Sınıfta 24 erkek öğrenci olduğuna göre, toplam kaç öğrenci vardır?

- A) 30 B) 32 C) 36 D) 40 E) 42

46. Bir tiyatrodaki ilk sırada n seyirci, ilk sıradan sonraki her sırada ise bir önceki sırada oturan seyirci sayısından 2 fazla sayıda seyirci oturmuştur.

Bu tiyatrodaki ilk 22 sırada toplam 792 seyirci oturduğuna göre, ilk sırada kaç seyirci oturmuştur?

- A) 9 B) 12 C) 15 D) 18 E) 21

47. Bir parkurda sabit hızla koşan bir atletin koşmaya başladıktan 3 saniye sonra, parkuru tamamlamasına 96 metre; 8 saniye sonra ise 56 metre kalıyor.

Buna göre, atletin koştuğu parkurun uzunluğu kaç metredir?

- A) 108 B) 120 C) 128 D) 132 E) 144

48. Beş kardeşin yaşları, birbirinden farklı beş tam sayıdır. Bu kardeşlerden en büyük ikisinin yaşları toplamı 25, en küçük ikisinin yaşları toplamı ise 18'dir.

Buna göre, beş kardeşin yaşları toplamı kaçtır?

- A) 53 B) 54 C) 55 D) 56 E) 57

49. Bir manav, elinde bulunan bir miktar elmanın dörtte birini kilogramı 3 TL'den, kalanını ise kilogramı 2 TL'den satmış ve bu iki satışın her birinden 12 TL kâr elde etmiştir.

Buna göre, manav toplam kaç kilogram elma satmıştır?

- A) 24 B) 28 C) 32 D) 36 E) 40

50. Başlangıçta boş olan bir depoya önce 25 adet A ürünü, sonra da 20 adet B ürünü konuyor. Bu depoya konan ilk 40 ürünün toplam ağırlığı ile son 30 ürünün toplam ağırlığı birbirine eşittir.

Depoya konan 1 adet A ürünü 6 kilogram olduğuna göre, 1 adet B ürünü kaç kilogramdır?

- A) 9 B) 12 C) 15 D) 18 E) 21

51. Bir üniversitenin A ve B bölümlerindeki öğrenci sayılarıyla ilgili olarak aşağıdakiler bilinmektedir.

- A bölümünde kız öğrenci sayısının erkek öğrenci sayısına oranı $\frac{5}{4}$ 'tür.
- B bölümünde kız öğrenci sayısının erkek öğrenci sayısına oranı $\frac{7}{8}$ 'dir.
- Toplam kız öğrenci sayısı, erkek öğrenci sayısına eşittir.

Bu iki bölümde toplam 120 öğrenci olduğuna göre, A bölümünde kaç erkek öğrenci vardır?

- A) 12 B) 16 C) 20 D) 24 E) 28

52. Köşeleri 1, 2, 3, 4, 5, 6, 7 ve 8 rakamlarıyla numaralandırılmış bir düzgün sekizgen ile ilgili olarak aşağıdakiler bilinmektedir.

- Sekizgenin merkezine göre simetrik olan herhangi iki köşesinin numaraları toplamı aynıdır.
- Sekizgenin 1 numaralı köşesinin komşu köşelerinin numaraları toplamı 7'dir.

Buna göre, 8 numaralı köşenin komşu köşelerinin numaraları toplamı kaçtır?

- A) 11 B) 12 C) 13 D) 14 E) 15

53. Bir mobilya mağazasındaki dolaplar 3 veya 4 raflıdır. Bu dolaplardaki toplam raf sayısı 50'dir.

Buna göre, mağazada bulunan dolapların en az kaç tanesi 4 raflıdır?

- A) 1 B) 2 C) 3 D) 4 E) 5

54. 4 matematik ve 4 istatistik bölümü öğrencisi arasından her iki bölümden en az birer öğrencinin bulunacağı 4 temsilci seçilecektir.

Bu temsilciler kaç farklı şekilde seçilebilir?

- A) 56 B) 60 C) 64 D) 66 E) 68

55. Arda ve Berk'in hilesiz bir zarla oynadıkları oyunla ilgili olarak aşağıdakiler bilinmektedir.

- Arda ve Berk zarı birer defa atıyor.
- Zarların üst yüzüne gelen sayılar aynı ise Arda kazanıyor.
- Zarların üst yüzüne gelen sayıların farkı en az dört ise Berk kazanıyor.
- Diğer durumlarda berabere kalıyorlar.

Bu oyunda Arda ve Berk'in berabere kalma olasılığı kaçtır?

- A) $\frac{1}{2}$ B) $\frac{1}{3}$ C) $\frac{2}{3}$
D) $\frac{1}{4}$ E) $\frac{3}{4}$

56. - 57. soruları aşağıdaki bilgilere göre birbirinden bağımsız olarak cevaplayınız.

Aşağıdaki özelliklerin tamamını sağlayan dört basamaklı tüm pozitif tam sayılar bir kâğıda yazılıyor.

- 5'e tam bölünür.
- İlk ve son basamağındaki rakamlar aynıdır.
- Rakamlarının toplamı bir tam sayının karesine eşittir.

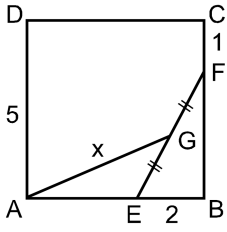
56. Buna göre, kâğıda yazılan en büyük sayı ile en küçük sayının farkı kaçtır?

- A) 870 B) 900 C) 960
D) 970 E) 990

57. Buna göre, kâğıda kaç sayı yazılmıştır?

- A) 4 B) 7 C) 11 D) 14 E) 22

58.



ABCD bir kare

$|EG| = |GF|$

$|DA| = 5$ birim

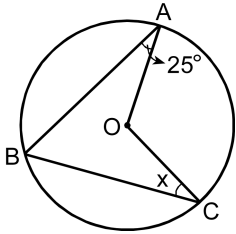
$|EB| = 2$ birim

$|FC| = 1$ birim

Yukarıdaki verilere göre, $|AG| = x$ kaç birimdir?

- A) $3\sqrt{2}$ B) $4\sqrt{2}$ C) $3\sqrt{3}$
 D) $2\sqrt{5}$ E) $3\sqrt{5}$

59.



O merkezli çember

$m(\widehat{OAB}) = 25^\circ$

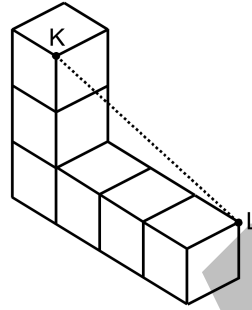
$m(\widehat{OCB}) = x$

Şekildeki ABC yayının uzunluğu, AC yayının uzunluğunun 2 katıdır.

Buna göre, x kaç derecedir?

- A) 30 B) 35 C) 40 D) 45 E) 50

60.

Birim küplerden oluşan yukarıdaki şekilde, $|KL|$ uzunluğu kaç birimdir?

- A) $\sqrt{12}$ B) $\sqrt{13}$ C) $\sqrt{14}$
 D) $\sqrt{15}$ E) $\sqrt{17}$

1. Bu testte 60 soru vardır.

2. Cevaplarınızı, cevap kâğıdının Genel Kültür Testi için ayrılan kısmına işaretleyiniz.

1. Aşağıdakilerden hangisi Karadeniz'in kuzeyinden Avrupa'ya göç eden Türk kavimlerinden biri değildir?

- A) Avarlar
B) Peçenekler
C) Hunlar
D) Kıpçaklar
E) Uygurlar

2. İslamiyetin kabulünden önceki Türk devletlerinin ele alınacağı "İpek Yolu'nda Türkler" adlı bir sergi düzenlenecektir.

Düzenlenecek sergi, aşağıdaki devletlerden hangisini kapsamayacaktır?

- A) Karahanlı
B) Uygur
C) Göktürk
D) Asya Hun
E) Avrupa Hun

3. Türklerde, İslamiyet'in kabulüyle birlikte İslamiyet'teki tasvir yasağı, insan ve hayvan figürlerinin yapılmaması biçiminde yorumlanmıştır. Bu da süslemede, resimden boşalan yerin yazı ile doldurulmasına neden olmuştur.

Bu parçada anlatılan sanat dalı aşağıdakilerden hangisidir?

- A) Hat
B) Tezhip
C) Nakkaşlık
D) Oymacılık
E) Ebru

4.

- Macarların Balkanlardaki etkisinin azaltılması
- Balkanlarda direncin kırılmasında aşama kaydedilmesi
- Edirne ve Batı Trakya'nın daha güvenli hâle gelmesi
- Meriç Irmağı'nın tamamen Osmanlılara geçmesi

Aşağıdakilerden hangisi, belirtilen bu kazanımların elde edilmesinde etkili olmuştur?

- A) Maltepe (Pelekanon) Savaşı
B) Çimpe Kalesi'nin fethi
C) Edirne'nin fethi
D) Sırpsındığı Savaşı
E) Aydıncık'ın fethi

5. Aşağıdakilerden hangisi Osmanlı ordu teşkilatında "kapıkulu askerlerini" oluşturan birliklerden değildir?

- A) Lağımcılar
B) Beşliler
C) Cebeciler
D) Humbaracılar
E) Top arabacıları

6. Timar sistemi sayesinde devlet hazinesinden para harcamadan her an savaşa hazır büyük bir atlı birlik yetiştiriliyordu. Toprağın boş kalması engellenerek üretimin artırılması ve devamlılığı sağlanıyordu. Reayanın ödemesi gereken vergileri, dirlik sahibi topluyor ve buna karşılık cebelü adı verilen askerlerin ihtiyaçları karşılanıyordu. Sipahiler bölgelerinin huzur ve güvenliğinden de sorumludular. Böylelikle devletin merkezî otoritesi, gücünü ülkenin en uç noktalarına kadar ulaştırabiliyordu.

Bu bilgilere göre, Osmanlı Devleti'nde uygulanan timar sistemi aşağıdaki alanların hangisinde işlev görmemiştir?

- A) Askerî
B) İdari
C) Malî
D) Kültürel
E) Ekonomik
7. **Fatih Sultan Mehmet tarafından yazılı kanun hâline getirilen ve devletin parçalanmasını önlemek amacıyla padişahlara tanınan kardeşlerini öldürebilme yetkisi, aşağıdaki Osmanlı padişahlarından hangisinin döneminde kaldırılmıştır?**
- A) I. Ahmet
B) II. Selim
C) II. Mahmut
D) III. Selim
E) Kanuni Sultan Süleyman

8. **Aşağıdakilerden hangisi, III. Selim Dönemi'nde yapılan ıslahat hareketlerinden biri değildir?**

- A) İlk karantina teşkilatının kurulması
B) Londra, Paris, Viyana ve Berlin'de daimî elçiliklerin açılması
C) Avrupai tarzda bir ordu kurularak adına Nizam-ı Cedit denilmesi
D) Yeni orduların eğitimi için Avrupa'dan subayların getirilmesi
E) Yabancı dil öğretimine önem verilmesi

9. **Mısır Valisi Kavalalı Mehmet Ali Paşa'nın, Osmanlı padişahının emirlerine uymaması ve Anadolu'ya sefer düzenlemesi, aşağıdaki Osmanlı padişahlarından hangisinin döneminde gerçekleşmiştir?**

- A) II. Mahmut
B) III. Selim
C) Abdülmecit
D) II. Abdülhamit
E) V. Mehmet Reşat

10. Osmanlı Devleti'nde XIX. yüzyılda basın ve yayın hayatında önemli gelişmeler yaşanmış, çeşitli resmî ve özel gazeteler yayımlanmıştır.

Bu dönemde yayımlanan

- I. Takvim-i Vekâyi,
- II. Tercüman-ı Ahvâl,
- III. Tasvir-i Efkâr

gazetelerinden hangileri özel gazetedir?

- A) Yalnız II
- B) Yalnız III
- C) I ve II
- D) II ve III
- E) I, II ve III

11. Tanzimat Fermanı'nın hazırlanmasına katkıda bulunan ve bu fermanı Gülhane Parkı'nda okuyarak halka duyuran devlet adamı aşağıdakilerden hangisidir?

- A) Mithat Paşa
- B) Namık Kemal
- C) Mustafa Reşit Paşa
- D) Hüseyin Avni Paşa
- E) Alemdar Mustafa Paşa

12. XIX. yüzyılda, Osmanlı İmparatorluğu'nu ekonomik ve ticari anlamda sıkıntıya sokan Balta Limanı Ticaret Antlaşması, aşağıdaki devletlerden hangisiyle imzalanmıştır?

- A) Fransa
- B) Rusya
- C) Almanya
- D) Avusturya
- E) İngiltere

13. Aşağıdaki devletlerden hangisi, I. Dünya Savaşı sırasında Osmanlı topraklarının paylaşımına yönelik olarak yapılan antlaşmalarda yer almamıştır?

- A) İngiltere
- B) Fransa
- C) Avusturya-Macaristan
- D) Rusya
- E) İtalya

14. İzmir ve çevresinde Türklerin çoğunlukta olduğunu belirten ve İzmir'in işgali sonrasında yapılan katliamlardan Yunanistan'ı sorumlu tutan rapor, aşağıdakilerden hangisi tarafından yazılmıştır?

- A) Tuğamiral Richard Webb
- B) Koramiral Calthorpe
- C) Amiral Robeck
- D) General Milne
- E) Amiral Bristol

15. Yeni Türk Devleti'nin millî egemenlik ilkesi üzerine kurulacağını gösteren ilk adım aşağıdakilerden hangisidir?

- A) Amasya Genelgesi'nin yayımlanması
- B) Saltanatın kaldırılması
- C) Halifeliğin kaldırılması
- D) Cumhuriyet'in ilan edilmesi
- E) Medeni Kanun'un kabul edilmesi

16. Anlaşma Devletleri'nin, Osmanlı Mebuslar Meclisini basıp milletvekillerinin çoğunu Malta'ya sürgün etmesinde aşağıdakilerden hangisi etkili olmuştur?

- A) Misakımillî'nin kabul edilmesi
- B) Padişah'ın Meclisin açılmasını geciktirmesi
- C) Hürriyet ve İtilaf Partisinin, seçimi boykot etmesi
- D) Mecliste Müslüman olmayanların yer alması
- E) Londra Konferansı'nın sonuçsuz kalması

17. Aşağıdakilerden hangisi I. İnönü Savaşı'na yol açan Yunan saldırısının nedenlerinden biridir?

- A) Londra Konferansı'nın toplanmasını önlemek
- B) Ankara Antlaşması'nın sonuçlarını etkilemek
- C) Teşkilatıesasiye Kanunu'nun uygulanmasını önlemek
- D) TBMM Hükûmetine Sevr Antlaşması'nı kabul ettirmek
- E) Gümrü Antlaşması'nın uygulanmasını sağlamak

18. Lozan Barış Konferansı'na sadece Boğazlarla ilgili görüşmeler için katılan iki devlet, aşağıdakilerin hangisinde birlikte verilmiştir?

- A) Sovyet Rusya – Bulgaristan
- B) Yunanistan – Sovyet Rusya
- C) Sovyet Rusya – Romanya
- D) Yugoslavya – Bulgaristan
- E) Romanya – Yugoslavya

19.

- I. Musul'un durumunun belirsiz olması
- II. Boğazlar üzerinde Türk egemenliğinin sınırlandırılması
- III. Hatay'ın sorun olması

Lozan Antlaşması'yla çözüme kavuşturulamayan yukarıdaki konulardan hangileri, sonraki yıllarda Türkiye'nin lehine sonuçlanmıştır?

- A) Yalnız I
- B) Yalnız II
- C) Yalnız III
- D) I ve II
- E) II ve III

20. Atatürk; inkılabı, parti politikaları üstünde millî bir siyaset doğrultusunda geliştirmeyi amaçlamıştır. Bu hedefin gerçekleştirilmesine yardımcı olmak amacıyla da çeşitli kurumlar oluşturmuştur.

Buna göre, aşağıdakilerden hangisi Atatürk Dönemi'nde inkılabın kültürel temellerini sağlamlaştırmak için açılan kurumlardan biri değildir?

- A) Atatürk Orman Çiftliği
- B) İnkılap Tarihi Enstitüsü
- C) Türk Dil Kurumu
- D) Türk Tarih Kurumu
- E) Halkevleri

21. Türkiye Cumhuriyeti'nde resmi işlemlerdeki karışıklıkları önlemek amacıyla 1934 yılında aşağıdakilerden hangisi gerçekleştirilmiştir?

- A) Soyadı Kanunu'nun kabul edilmesi
- B) Medeni Kanun'un kabul edilmesi
- C) Yeni Türk alfabesinin kabul edilmesi
- D) Kadınlara seçme ve seçilme haklarının verilmesi
- E) Şapka Giyilmesi Hakkında Kanun'un çıkarılması

22. Cumhuriyet Dönemi'nde, Türkiye'nin İngiltere ve Fransa'ya yakınlaşmasında

- I. Mussolini'nin Roma İmparatorluğu'nu canlandırma düşüncesi,
- II. Almanya'nın Hitler yönetiminde yayılcı politika izlemesi,
- III. Bulgaristan'ın Balkan Antantı'nın dışında kalması

durumlarından hangileri etkili olmuştur?

- A) Yalnız I
- B) I ve II
- C) I ve III
- D) II ve III
- E) I, II ve III

23. Halkçılık ilkesi, Atatürk'ün idealindeki halkın

- I. sınıfsız,
- II. imtiyazsız,
- III. kaynaşmış

olma özelliklerinden hangilerine dayanmaktadır?

- A) Yalnız I
- B) Yalnız II
- C) Yalnız III
- D) I ve II
- E) I, II ve III

24. Atatürk'ün, "Mümkün olduğu kadar az zaman içinde milleti refaha ve memleketi bayındırlığa erdirmek için özellikle de ekonomik alanda kamu imkânlarını fiilen seferber kılmaktır." şeklinde tanımladığı ilke aşağıdakilerden hangisidir?

- A) Devletçilik
- B) Halkçılık
- C) Laiklik
- D) Cumhuriyetçilik
- E) Milliyetçilik

25. Atatürk, vefatından kısa bir süre önce "Bir dünya harbi olacaktır. Bu harp neticesinde dünyanın vaziyet ve muvazenesi baştan başa değişecektir. İşte bu devre esnasında doğru hareket etmesini bilmeyip küçük bir hata yapmamız hâlinde başımıza Mütareke senelerinden daha çok felaketler gelmesi mümkündür." demiştir.

Atatürk'ün bu açıklamayı yapmasında aşağıdakilerden hangisinin etkisi yoktur?

- A) Japonya'ya atom bombasının atılmasının
- B) Japonya'nın Mançurya'ya saldırmasının
- C) Rusya'nın ülkede komünist rejimini yerleştirmesinin
- D) İtalya'nın saldırgan bir politika yürütmesinin
- E) Almanya'nın, Versay Antlaşması'nın getirdiği koşullardan kurtulma çabasının

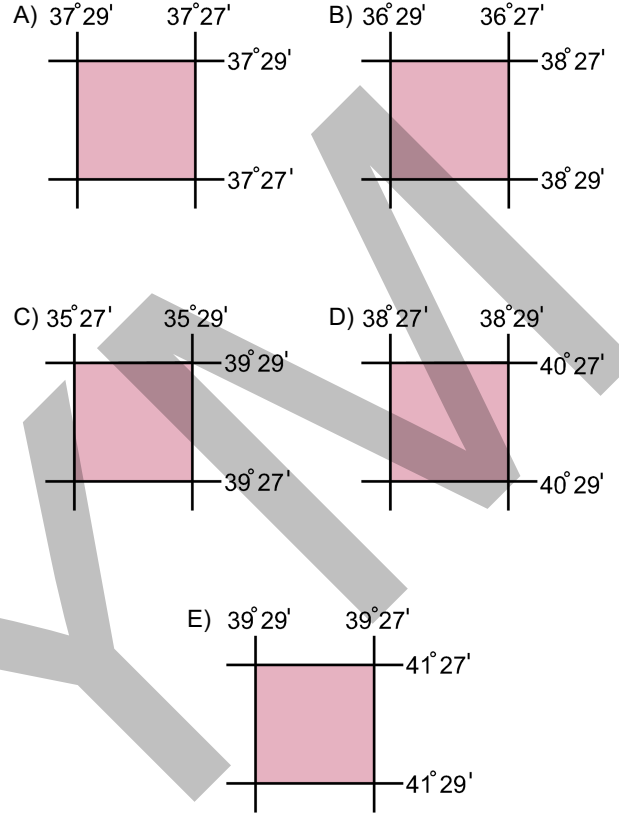
26. Aşağıdakilerden hangisi, 1991 yılında Sovyet Sosyalist Cumhuriyetler Birliği'nin dağılması sonucunda bağımsızlığını ilan eden devletlerden biri değildir?

- A) Ukrayna B) Polonya
C) Gürcistan D) Ermenistan
E) Estonya

27. Aşağıdakilerden hangisi Orta Asya'daki bağımsız Türk cumhuriyetlerinden biri değildir?

- A) Tataristan B) Kırgızistan
C) Özbekistan D) Kazakistan
E) Türkmenistan

28. Aşağıda coğrafi koordinatları verilen alanlardan hangisi, Türkiye sınırları içerisinde yer almaktadır?

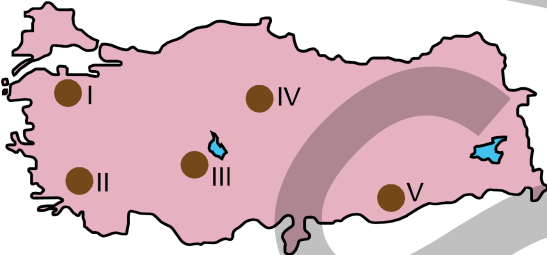


29. Türkiye, coğrafi konumu nedeniyle Dünya'da ve içinde bulunduğu bölgede jeopolitik öneme sahip bir ülkedir.

Bu durumun oluşmasında aşağıdakilerden hangisinin bir etkisi yoktur?

- A) Fosil yakıt dış satımının fazla olmasının
B) Çevresindeki deniz ve karalara göre konumunun
C) Uluslararası ulaşım yollarının kavşak noktasında olmasının
D) Zengin petrol ve doğal gaz kaynaklarına yakınlığının
E) Nüfusunun ve doğal kaynak potansiyelinin

30. Aşağıdaki haritada bazı alanlar numaralandırılarak koyu renkle gösterilmiştir.



Bu alanların hangilerinde rüzgâr, yer şekilleri üzerinde daha fazla etkilidir?

- A) I ve II
B) I ve IV
C) II ve V
D) III ve IV
E) III ve V

31.

- I. Göksu – Akdeniz
II. Sakarya – Karadeniz
III. Filyos – Marmara
IV. Ergene – Ege

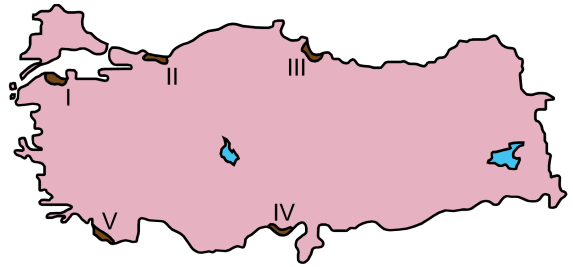
Yukarıdaki akarsulardan hangileri, karşısında verilen denize dökülmez?

- A) Yalnız I
B) Yalnız II
C) Yalnız III
D) II ve IV
E) III ve IV

32. Türkiye'de; Ege Denizi kıyılarıyla ilgili olarak aşağıda verilen özelliklerden hangisi, yaz mevsiminin sıcak ve kurak geçmesiyle ilişkili değildir?

- A) Deniz turizmi süresinin uzun olması
B) Maki örtüsünün yaygın olması
C) Pamuk ve zeytin yetiştirilmesi
D) Sıcak su kaynaklarının bulunması
E) Orman yangınlarının sık görülmesi

33. Dağların denize paralel olarak uzandığı yüksek kıyılarda duvar gibi yükselen falezler oluşur.



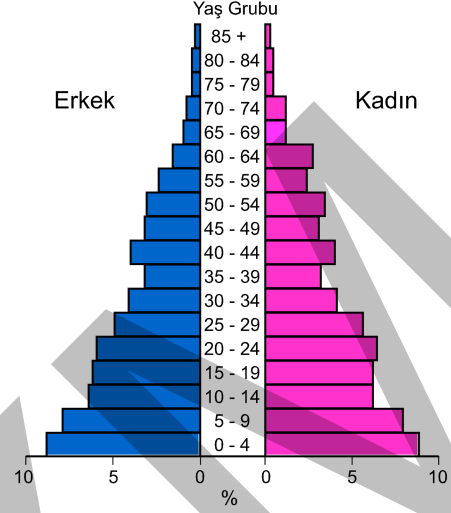
Buna göre haritada numaralarla gösterilen alanların hangisinde, geniş alanlı falez oluşumları görülür?

- A) I
B) II
C) III
D) IV
E) V

34. Aşağıda verilen akarsu ve oluşturduğu delta ovası eşleştirmelerinden hangisi **yanlıştır**?

Akarsu	Oluşturduğu Delta Ovası
A) Kızılırmak	Bafra
B) Sakarya	Karasu
C) Yeşilirmak	Çarşamba
D) Büyük Menderes	Menemen
E) Göksu	Göksu

35. Aşağıda, Türkiye'nin 1955 yılına ait nüfus piramidi verilmiştir. Piramit incelendiğinde 35-39 yaş aralığını oluşturan nüfusun, bir önceki ve bir sonraki yaş grubuna göre daha az olduğu görülmektedir.



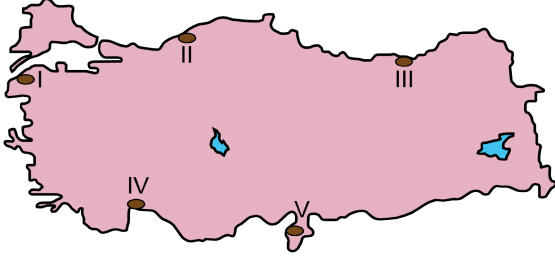
Bu durumun nedeni aşağıdakilerin hangisinde **doğru** olarak verilmiştir?

- A) Cumhuriyet öncesi savaş döneminde doğurganlık oranının düşük olması
- B) 1940-1945 yılları arasında, Cumhuriyet tarihindeki en düşük nüfus artış hızının görülmesi
- C) 1950-1955 yılları arasında doğum ve ölüm oranlarının yüksek olması
- D) II. Dünya Savaşı yıllarında yaşanan seferberlik hâlinin kalkmasıyla doğurganlık oranının artması
- E) Yaşlı nüfusta ölüm hızının yüksek olması nedeniyle ortalama yaşam süresinin kısılması

36. Türkiye'de yaşanan iç göçler dikkate alındığında aşağıdaki faaliyet alanlarından hangisinin mevsimlik göçler üzerindeki etkisi **daha azdır**?

- A) Turizm
- B) Tarım
- C) Yayılcılık
- D) Ormancılık
- E) İnşaat

37.



Yukarıdaki haritada numaralandırılarak koyu renkle gösterilmiş beş liman şehriden hangisi;

- korunaklı liman,
- gelişmiş kara yolu ulaşımı,
- geniş bir hinterland,
- gelişmiş sanayi

özelliklerinin tümüne sahiptir?

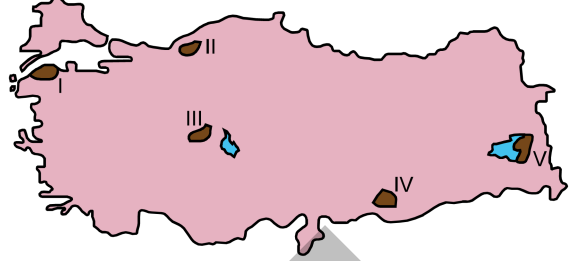
- A) I B) II C) III D) IV E) V

38. Akdeniz ve Ege Denizi'nin kıyı kesimlerinde iklim özellikleri benzer olduğu hâlde, Ege kıyılarında zeytin yetiştirme alanları daha geniştir.

Bu durumun nedeni aşağıdakilerden hangisidir?

- A) Dağların uzanışı
 B) Yıllık yağış tutarı
 C) Deniz etkisi
 D) Ortalama yükselti
 E) Akarsu ağının genişliği

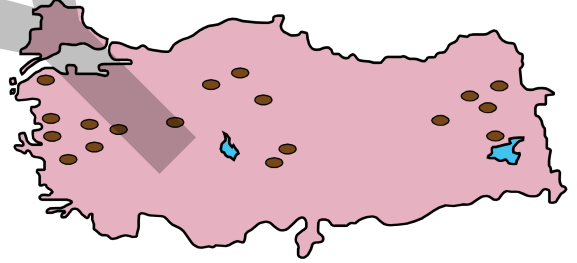
39.



Beslenme ve yetiştirilme koşulları göz önüne alındığında, yukarıda numaralandırılarak koyu renkle gösterilen alanların hangisinde koyun yetiştiriciliğinin önemi daha azdır?

- A) I B) II C) III D) IV E) V

40. Aşağıdaki haritada, ses ve ısı yalıtımında kullanılan ve doğal bir malzeme olan perlitin Türkiye'deki rezervlerinin dağılışı koyu renklerle gösterilmiştir.



Bu dağılışı dikkate alındığında, perlit rezervinin bu alanlarda görülmesinde aşağıdakilerden hangisiyle doğrudan bir ilişki söz konusudur?

- A) Volkanik arazilerle
 B) Jipsli arazilerle
 C) Kaya tuzu yataklarıyla
 D) Fay hatlarıyla
 E) Masif arazilerle

41. Türkiye’de son yıllarda enerji üretimi ve tüketiminde doğal gazın payının artmasıyla aşağıdakilerden hangisinin gerçekleştiği söylenemez?

- A) Termik santrallerin sayısı artmıştır.
- B) Özellikle büyük kentlerde ısınmadan kaynaklanan hava kirliliği azalmıştır.
- C) Enerjide dışa bağımlılık artmıştır.
- D) Yeni istihdam olanakları ortaya çıkmıştır.
- E) Hidroelektrik santrallerinin sayısı azalmıştır.

42. Türkiye’de bazı büyük sanayi tesislerinin, kıyı kesimlerinde kurulmasının nedeni bu alanların başlıca hangi avantajıyla ilişkilidir?

- A) Enerji temini
- B) Ulusal güvenlik
- C) Ulaşım kolaylığı
- D) Sermaye kolaylığı
- E) Ham madde temini

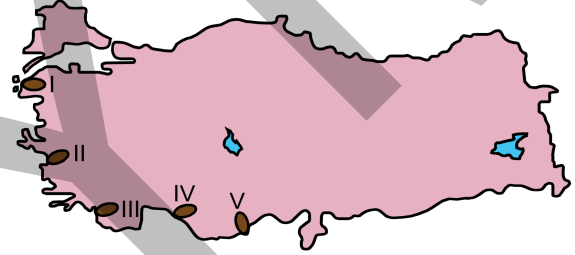
43. Aşağıdakilerden hangisi, Akdeniz kıyı kesimiyle iç kesimleri birbirine bağlayan geçitlerden biri değildir?

- A) Gülek Boğazı
- B) Sertavul Geçidi
- C) Çubuk Beli
- D) Cankurtaran Geçidi
- E) Çeltikçi Beli

44. Türkiye’nin dış ticaretiyle ilgili olarak aşağıdaki yorumlardan hangisi doğrudur?

- A) Turizm gelirleri, dış ticaret açığını kapatacak düzeye gelmiştir.
- B) Dış ticaret hacminin büyümesiyle birlikte dış satım da istenilen düzeye ulaşmıştır.
- C) Son beş yıl içerisinde dış alımın parasal karşılığı, dış satımın parasal karşılığından yüksektir.
- D) Dış alımda Avrupa Birliği ülkeleri ilk sıralarda yer alır.
- E) Dış satımda sanayi ürünlerinin yanı sıra tarım ürünlerinin payı da artmıştır.

45.



Deniz, kıyı ve kıyı gerisindeki kültürel çekicilikler göz önüne alındığında, yukarıdaki haritada numaralandırılarak koyu renkle gösterilen alanlardan hangisi uluslararası turizm bakımından günümüzde en az ilgi gören yerdir?

- A) I
- B) II
- C) III
- D) IV
- E) V

46. Bir kimsenin bilerek sebep olmadığı bir tehlikeden kendisini veya başkasını kurtarmak için bir üçüncü kişinin şahsına veya malına zarar vermesi hâli aşağıdakilerden hangisiyle ifade edilir?

- A) Haklı savunma
- B) Zorunluluk hâli
- C) Mücbir sebep
- D) Beklenmeyen hâl
- E) İhkakıhak

47. Hâkim, bir uyuşmazlığın çözümünde aşağıdaki kaynaklardan hangisine diğerlerinden önce başvurur?

- A) Kanun
- B) Yönetmelik
- C) Bilimsel görüş
- D) Örf ve âdet hukuku
- E) Yargı kararları

48. Aşağıdakilerden hangisi, demokratik bir sistemin özelliklerinden biri değildir?

- A) Seçimlerde gizli oy esasının benimsenmesi
- B) Siyasi karar organlarının düzenli aralıklarla tekrarlanan seçimler ile belirlenmesi
- C) Çok partili siyasi hayatın varlığı
- D) Siyasi faaliyetlerde bulunma haklarının tanınması
- E) Seçimlerde kullanılan oyların sayım ve dökümünün gizli olarak yapılması

49. 1982 Anayasası'na göre, Cumhurbaşkanlığı seçimleri için doldurulması gereken asgari seçme ve seçilme yaş sınırları aşağıdakilerin hangisinde sırasıyla doğru olarak verilmiştir?

- A) 17 – 25
- B) 18 – 25
- C) 18 – 30
- D) 18 – 40
- E) 21 – 40

50. Tüzüklerin yargısal denetimi aşağıdakilerden hangisi tarafından gerçekleştirilir?

- A) İdare mahkemesi
- B) Bölge idare mahkemesi
- C) Danıştay
- D) Yargıtay
- E) Uyuşmazlık Mahkemesi

51. Türk hukuk sistemine göre, kanunların yürürlüğe gireceği tarih; kanun metninde belirtilmemişse kanunun yürürlüğe girme tarihi aşağıdakilerden hangisidir?

- A) Resmî Gazete'de yayımlandığı gün
- B) Resmî Gazete'de yayımlandığı günü izleyen gün
- C) Resmî Gazete'de yayımlandığı günden itibaren 15 gün sonra
- D) Resmî Gazete'de yayımlandığı günden itibaren 30 gün sonra
- E) Resmî Gazete'de yayımlandığı günden itibaren 45 gün sonra

52. Aşağıdakilerden hangisi tüzük çıkarma yetkisine sahiptir?

- A) Cumhurbaşkanlığı
- B) İçişleri Bakanlığı
- C) Barolar Birliği
- D) Başbakanlık
- E) Bakanlar Kurulu

53. İlçe adının değiştirilmesi aşağıdakilerden hangisiyle yapılabilir?

- A) Üçlü kararnameyle
- B) Başbakanın kararıyla
- C) İçişleri Bakanının kararıyla
- D) Bakanlar Kurulu kararıyla
- E) Kanunla

54. Aşağıdakilerden hangisi, merkezi yönetime yardımcı kuruluşlardan biridir?

- A) Danıştay
- B) Yargıtay
- C) Askerî Yargıtay
- D) Askerî Yüksek İdare Mahkemesi
- E) Anayasa Mahkemesi

55. Türk Dil Kurumu Bilim Kurulu, “kendi fotoğrafını çekmek” anlamına gelen “selfie” kelimesine Türkçe karşılık olarak aşağıdaki kelimelerden hangisini seçmiştir?

- A) Bakçek
- B) Görçek
- C) Kendiçekim
- D) Kendinçek
- E) Özçekim

56. 2013 yılı sonlarında Montmajour'da Günbatımı adlı eseriyle tekrar gündeme gelen; 1853-1890 yılları arasında yaşamış; *Ayçiçekleri*, *Kesik Kulaklı Portresi*, *Yatak Odası* gibi resimleriyle tanınan Hollandalı ünlü ressam aşağıdakilerden hangisidir?

- A) Vincent Van Gogh
- B) Pablo Picasso
- C) Salvador Dali
- D) Paul Gauguin
- E) Claude Monet

57. Ayrımcı rejime son verme çabalarından dolayı 1993'te Nobel Barış Ödülü'nü alan ve Aralık 2013'te hayatını kaybeden, demokratik yollarla seçilen ilk Güney Afrika devlet başkanı aşağıdakilerden hangisidir?

- A) Nelson Mandela
- B) Hugo Chavez
- C) Fidel Castro
- D) Itamar Franco
- E) Vaclav Havel

58. Sir Arthur Conan Doyle tarafından yaratılan İngiliz hayalî dedektif kahraman aşağıdakilerden hangisidir?

- A) Red Kit B) Müfettiş Gadget
C) Sherlock Holmes D) Superman
E) Harry Potter

59. Aşağıdakilerden hangisi, bir ada ülkesi değildir?

- A) Hindistan B) Japonya
C) Yeni Zelanda D) İngiltere
E) Madagaskar

60. Aşağıdakilerden hangisi, Türk Halk Edebiyatı'nın bir çeşidi olan Âşık Edebiyatı geleneğinin temsilcilerinden biri değildir?

- A) Karacaoğlan B) Koroğlu
C) Dadaloğlu D) Âşık Paşa
E) Âşık Veysel

SINAVDA UYULACAK KURALLAR

- Sınav salonları kamera ile kayıt altına alınacaktır.** Kamera kayıtlarının incelenmesinden sonra sınav kurallarına uymadığı tespit edilen adayların sınavları ÖSYM Yönetim Kurulunca geçersiz sayılacaktır.
- Cep telefonu ile sınava girmek kesinlikle yasaktır.** Çağrı cihazı, telsiz, fotoğraf makinesi vb. araçlarla; cep bilgisayarı, kol veya cep saati gibi her türlü bilgisayar özelliği bulunan cihazlarla; silah ve benzeri teçhizatla; müsvedde kâğıdı, defter, kitap, sözlük, sözlük işlevi olan elektronik aygıt, hesap cetveli, hesap makinesi, pergel, açıölçer, cetvel vb. araçlarla sınava girmek kesinlikle yasaktır. Bu araçlarla sınava girmiş adayların adı mutlaka Salon Sınav Tutanağına yazılacak, bu adayların sınavı geçersiz sayılacaktır. **Sınava kalem, silgi, kalemtraş, saat vb. araçla ve kulaklık, küpe, broş vb. takı, herhangi bir metal eşya ile girmek de kesinlikle yasaktır. Yiyecek, içecek vb. tüketim malzemeleri de sınava getirilemez. Adaylar sınava şeffaf şişe içerisinde su getirebilecektir.**
- Bu sınav için verilen toplam cevaplama süresi **120 dakikadır.** Sınav başladıktan sonra **ilk 90** ve **son 15** dakika içinde adayın sınavdan çıkmasına kesinlikle izin verilmeyecektir. **Bu süreler dışında, cevaplama sınav bitmeden tamamlarsanız cevap kâğıdınızı ve soru kitapçığınızı salon görevlilerine teslim ederek salonu terk edebilirsiniz. Bildirilen süreler aykırı davranışlardan adayın kendisi sorumludur.**
- Sınav salonundan ayrılan aday, her ne sebeple olursa olsun, tekrar sınava alınmayacaktır.**
- Sınav süresince görevlilerle konuşmak, görevlilere soru sormak yasaktır. Aynı şekilde görevlilerin de adaylarla yakından ve alçak sesle konuşmaları ayrıca adayların birbirinden kalem, silgi vb. şeyleri istemeleri kesinlikle yasaktır.
- Sınav sırasında, görevlilerin her türlü uyarısına uymak zorundasınız. Sınavınızın geçerli sayılması, her şeyden önce, sınav kurallarına uymanıza bağlıdır. Kurallara aykırı davranışta bulunanların ve yapılacak uyarılara uymayanların kimlik bilgileri Salon Sınav Tutanağına yazılacak ve sınavları geçersiz sayılacaktır.
- Sınav sırasında kopya çeken, çekmeye kalkışan, kopya veren, kopya çekilmesine yardım edenlerin kimlik bilgileri Salon Sınav Tutanağına yazılacak ve bu adayların sınavları geçersiz sayılacaktır.
Adayların test sorularına verdikleri cevapların dağılımları bilgi işlem yöntemleriyle incelenecek, bu incelemelerden elde edilen bulgular bireysel veya toplu olarak kopya çekildiğini gösterirse kopya eylemine katılan adayın/adayların sınavı geçersiz sayılacak ayrıca 2 yıl boyunca ÖSYM tarafından düzenlenen tüm sınavlara başvurusu yasaklanabilecektir.
Sınav görevlileri bir salondaki sınavın, kurallara uygun biçimde yapılmadığını, toplu kopya girişiminde bulunulduğunu raporlarında bildirdiği takdirde, ÖSYM bu salonda sınava giren tüm adayların sınavını geçersiz sayabilir.
- Cevap kâğıdında doldurmanız gereken alanlar bulunmaktadır. Bu alanları doldurunuz. Cevap kâğıdınızı başkaları tarafından görülmeyecek şekilde tutmanız gerekmektedir. Cevap kâğıdına yazılacak her türlü yazıda ve yapılacak bütün işaretlemelerde kurşun kalem kullanılacaktır. Sınav süresi bittiğinde cevapların cevap kâğıdına işaretlenmiş olması gerekir. Soru kitapçığına işaretlenen cevaplar geçerli değildir.
- Soru kitapçığınızı alır almaz kapağında bulunan ilgili alanları doldurunuz. Size söylendiği zaman sayfaların eksik olup olmadığını, kitapçıkta basım hatalarının bulunup bulunmadığını ve soru kitapçığının her sayfasında basılı bulunan soru kitapçık numarasının, kitapçığın ön kapağında basılı soru kitapçık numarasıyla aynı olup olmadığını kontrol ediniz. Soru kitapçığının sayfası eksik veya basımı hatalıysa değiştirilmesi için salon başkanına başvurunuz.
Size verilen soru kitapçığının numarasını cevap kâğıdınızdaki “Soru Kitapçık Numarası” alanına yazınız ve kodlayınız. Cevap kâğıdınızdaki “Soru kitapçık numaramı doğru kodladım.” kutucuğunu işaretleyiniz.
Soru kitapçığı üzerinde yer alan Soru Kitapçık Numarasını doğru kodladığınızı beyan eden alanı imzalayınız.
- Sınav sonunda soru kitapçıkları toplanacak ve ÖSYM’de incelenecektir. Soru kitapçığının sayfalarını koparmayınız. Soru kitapçığının bir sayfası bile eksik çıkarsa sınavınız geçersiz sayılacaktır.
- Cevap kâğıdına ve soru kitapçığına yazılması ve işaretlenmesi gereken bilgilerde bir eksiklik ve/veya yanlışlık olması hâlinde sınavınızın değerlendirilmesi mümkün olamamaktadır, bu husustaki özen yükümlülüğü ve sorumluluk size aittir.
- Soru kitapçığının sayfalarındaki boş yerleri müsvedde için kullanabilirsiniz.
- Soruları ve/veya bu sorulara verdiğiniz cevapları ayrı bir kâğıda yazıp bu kâğıdı dışarı çıkarmanız kesinlikle yasaktır.
- Her bölümün cevaplarını cevap kâğıdındaki ilgili alana işaretlemeye dikkat ediniz.**
- Sınav salonundan ayrılmadan önce, soru kitapçığınızı, cevap kâğıdınızı ve sınava giriş belgenizi salon görevlilerine eksiksiz olarak teslim etmeyi unutmayınız.**

Bu testlerin her hakkı saklıdır. Hangi amaçla olursa olsun, testlerin tamamının veya bir kısmının Merkezimizin yazılı izni olmadan kopya edilmesi, fotoğrafının çekilmesi, herhangi bir yolla çoğaltılması, yayımlanması ya da kullanılması yasaktır. Bu yasağa uymayanlar gerekli cezai sorumluluğu ve doğacak tüm mali külfeti peşinen kabullenmiş sayılır.

KAMU PERSONEL SEÇME SINAVI
ORTAÖĞRETİM
28.09.2014

GENEL YETENEK TESTİ

- | | | |
|-------|-------|-------|
| 1. D | 26. D | 51. C |
| 2. A | 27. A | 52. A |
| 3. B | 28. A | 53. B |
| 4. E | 29. B | 54. E |
| 5. D | 30. D | 55. C |
| 6. E | 31. E | 56. B |
| 7. E | 32. B | 57. C |
| 8. A | 33. A | 58. D |
| 9. D | 34. E | 59. B |
| 10. A | 35. B | 60. C |
| 11. A | 36. A | |
| 12. C | 37. B | |
| 13. D | 38. A | |
| 14. C | 39. D | |
| 15. A | 40. D | |
| 16. B | 41. D | |
| 17. C | 42. E | |
| 18. A | 43. C | |
| 19. E | 44. A | |
| 20. E | 45. C | |
| 21. D | 46. C | |
| 22. C | 47. B | |
| 23. E | 48. B | |
| 24. C | 49. C | |
| 25. E | 50. D | |

GENEL KÜLTÜR TESTİ

- | | | |
|-------|-------|-------|
| 1. E | 26. B | 51. E |
| 2. A | 27. A | 52. E |
| 3. A | 28. C | 53. E |
| 4. D | 29. A | 54. A |
| 5. B | 30. E | 55. E |
| 6. D | 31. C | 56. A |
| 7. A | 32. D | 57. A |
| 8. A | 33. E | 58. C |
| 9. A | 34. D | 59. A |
| 10. D | 35. A | 60. D |
| 11. C | 36. D | |
| 12. E | 37. E | |
| 13. C | 38. A | |
| 14. E | 39. B | |
| 15. A | 40. A | |
| 16. A | 41. E | |
| 17. D | 42. C | |
| 18. A | 43. D | |
| 19. E | 44. C | |
| 20. A | 45. E | |
| 21. A | 46. B | |
| 22. B | 47. A | |
| 23. E | 48. E | |
| 24. A | 49. D | |
| 25. A | 50. C | |