



T.C. Ölçme, Seçme ve Yerleştirme Merkezi

**KAMU PERSONEL SEÇME SINAVI
ÖĞRETMENLİK ALAN BİLGİSİ TESTİ
COĞRAFYA ÖĞRETMENLİĞİ**

5 AĞUSTOS 2018 PAZAR

Bu testlerin her hakkı saklıdır. Hangi amaçla olursa olsun, testlerin tamamının veya bir kısmının Merkezimizin yazılı izni olmadan kopya edilmesi, fotoğrafının çekilmesi, herhangi bir yolla çoğaltılması, yayımlanması ya da kullanılması yasaktır. Bu yasağa uymayanlar gerekli cezai sorumluluğu ve testlerin hazırlanmasındaki mali külfeti peşinen kabullenmiş sayılır.

ÖSYM

ACIKLAMA

1. Bu kitapçıkta Alan Bilgisi ve Alan Eğitimi Testi bulunmaktadır.
2. Bu test için verilen cevaplama süresi **75 dakikadır (1 saat, 15 dakika)**.
3. Bu kitapçıkta testi yer alan her sorunun sadece bir doğru cevabı vardır. Bir soru için birden çok cevap yeri işaretlenmişse o soru yanlış cevaplanmış sayılacaktır.
4. İşaretlediğiniz bir cevabı değiştirmek istediğinizde, silme işlemini çok iyi yapmanız gerektiğini unutmayınız.
5. Bu test puanlanırken doğru cevaplarınızın sayısından yanlış cevaplarınızın sayısının dörtte biri çıkarılacak ve kalan sayı ham puanınız olacaktır.
6. Cevaplamaya istediğiniz sorudan başlayabilirsiniz. Bir soru ile ilgili cevabınızı, cevap kâğıdında o soru için ayrılmış olan yere işaretlemeyi unutmayınız.
7. Sınavda uyulacak diğer kurallar bu kitapçığın arka kapağında belirtilmiştir.

Bu soruların telif hakkı ÖSYM'ye aittir. Sorular ÖSYM'nin yazılı izni olmaksızın kullanılamaz.

Bu testte 50 soru vardır.

1. Bazı haritalar ülkelerin veya büyük yerleşmelerin idari bölünüşünü göstermek için hazırlanır. Bu haritalarda çizgisel özellikli birtakım bilgilerin dağılışı verilir. Birbirinden yasalar veya kurallarla belirlenmiş çizgilerle ayrılan alanları gösterir. Örneğin Türkiye Mülki ve İdari Bölümler Haritası gibi.

Bu harita türü genel olarak aşağıdakilerden hangisiyle adlandırılır?

- A) Korokromatik B) Koroplet C) İzoplet
D) Kalitatif E) Patern

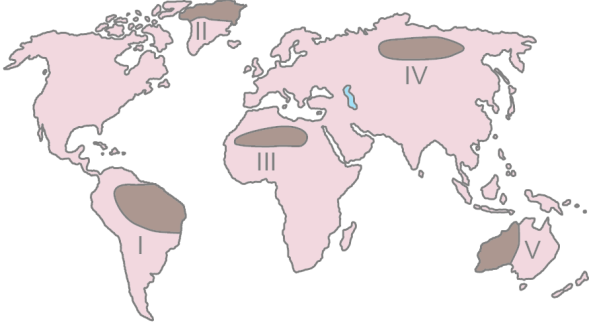
2. Aşağıda, bir bölümü gösteren topoğrafya haritasında Y ve X noktalarının yükselti değerleri verilmiştir.



Buna göre, Z noktasının yükseltisi aşağıdaki hangi değerler arasında bulunur?

- A) 1101-1199 metre arası B) 1201-1299 metre arası
C) 1301-1399 metre arası D) 1401-1499 metre arası
E) 1501-1599 metre arası

3. Aşağıdaki haritada bazı alanlar numaralandırılarak koyu renkle gösterilmiştir.



Bu alanlardan hangisi "sıcak ve çok nemli" hava kütlelerinin kaynak bölgesidir?

- A) I B) II C) III D) IV E) V

4. Atmosferde dikey yönde gelişen ve tepe kısmı yayvan bir kubbe veya örs şeklinde olan bulutlardır. Bu büyük bulut kuleleri; şimşek, gök gürültüsü ve genellikle dolu ile birlikte kuvvetli sağanak tipi yağışları oluştururlar.

Özellikleri verilen bu bulut tipi aşağıdakilerden hangisidir?

- A) Kumülüs B) Stratüs
C) Kumulonimbus D) Altokumülüs
E) Sirrostratüs

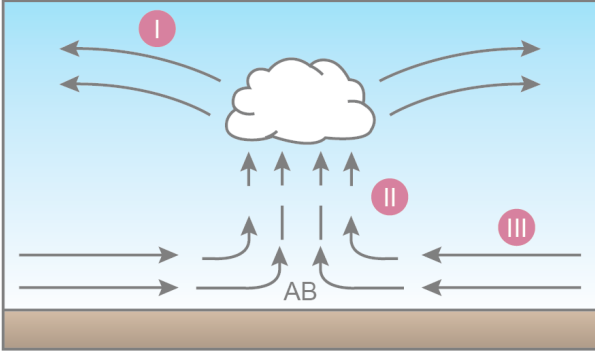
5. Yerin kar ile örtülü olduğu, durgun ve bulutsuz dönemlerde yer yüzeyinden ışıma çok olduğu için, yer yüzeyi ve ona yakın hava katmanları aşırı soğumaya uğrar. Yeryüzünden biraz üst kısımlarda ise soğuma bu kadar şiddetli değildir ve alttaki havaya göre daha sıcak kalır. Bu olaya bağlı olarak yukarı doğru çıkıldıkça hava belli bir düzeye kadar daha sıcaktır. Dolayısıyla, yerin soğuması ile hareketsiz hava içinde sıcaklık değerleri, alt katman ile üst katman arasında normal durumun dışına çıkmaktadır.

Atmosferin alt katmanlarında sıkça rastlanılan bu hava olayı aşağıdakilerden hangisidir?

- A) Refleksiyon B) Konveksiyon C) Kondüksiyon
D) İnversiyon E) Difüzyon

ÖSYM
Bu soruların telif hakları ÖSYM'ye aittir. Sorular ÖSYM'nin yazılı izni olmaksızın hiçbir kişi, kurum veya kuruluş tarafından kullanılamaz.

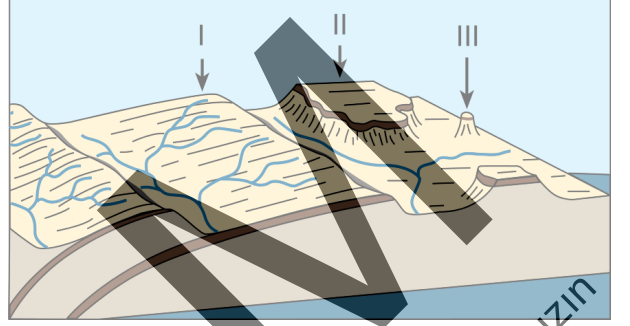
6. Aşağıdaki grafikte termik kökenli bir alçak basınç merkezinde gözlenen yatay ve dikey hava hareketleri gösterilmiştir.



Numaralandırılan bu yatay ve dikey hava hareketleri aşağıdakilerin hangisinde doğru adlandırılmıştır?

- | I | II | III |
|----------------|-------------|-------------|
| A) Konveksiyon | Diverjans | Konverjans |
| B) Diverjans | Konverjans | Konveksiyon |
| C) Konveksiyon | Konverjans | Diverjans |
| D) Diverjans | Konveksiyon | Konverjans |
| E) Konverjans | Konveksiyon | Diverjans |

7. Aşağıda eğimli ve yatay tabakalı yer şekillerine ilişkin bir grafik verilmiştir.



Bu grafik üzerinde numaralandırılan yapıların yer şekillerinin adı aşağıdakilerin hangisinde doğru olarak verilmiştir?

- | I | II | III |
|-----------|-------|--------|
| A) Plato | Mesa | Büt |
| B) Hogbek | Plato | Mesa |
| C) Kuesta | Büt | Plato |
| D) Mesa | Büt | Hogbek |
| E) Kuesta | Plato | Büt |

8. I. Çamur katmanlarından oluşurlar.
II. Morfolojik eğim kırıklığının olduğu yerlerde oluşurlar.
III. Tane boyutu tepe noktasından uç kısmına doğru küçülür.

Yukarıdakilerden hangileri alüvyal yelpazeleri karakterize eder?

- | | | |
|-------------|--------------|---------------|
| A) Yalnız I | B) Yalnız II | C) Yalnız III |
| D) I ve II | E) II ve III | |

9. Kuvaterner'de deniz seviyesinde meydana gelen önemli alçalma ve yükselmeler akarsuların aşağı havzalarında kazılma ve birikme süreçleri başta olmak üzere pek çok değişikliklerin yaşanmasına neden olmuştur.

Deniz seviyesinin alçaldığı dönemde;

- I. akarsu boylarının kısalması,
- II. akarsu vadilerinde alüvyal boğulmanın olması,
- III. akarsu vadilerinde derine kazılmalar olması

durumlarından hangilerinin, akarsuların aşağı kesimlerinde meydana gelmesi beklenir?

- A) Yalnız I B) Yalnız II C) Yalnız III
D) I ve II E) I ve III
10. Karstik arazilerde gelişmiş yer altı sistemlerinin olduğu alanlarda bazı akarsular dik bir yamacın tabanında bulunan düdenlerden yer altına girerek karst sistemine dâhil olur.

Bu tür akarsuların oluşturduğu vadi tipi aşağıdakilerden hangisidir?

- A) Koni karstı B) Asılı vadi
C) Boğaz vadi D) Kör vadi
E) Labirent karstı

11. Göl veya denizlerde komşu iki dalga tepesi veya çukuru arasındaki yatay uzaklık, aşağıdakilerden hangisiyle adlandırılır?

- A) Dalga boyu B) Dalga yüksekliği
C) Dalga periyodu D) Dalga genliği
E) Dalga hızı

12. I. Serbest
II. Tutuklu
III. Tünemiş

Yukarıdaki akifer tiplerinin hangilerinde artezyen kaynağı meydana gelir?

- A) Yalnız I B) Yalnız II C) Yalnız III
D) I ve II E) II ve III

13. Genel olarak silis miktarı az olan ana materyaller, silis oranı yüksek olanlara göre hem besin maddesi yönünden zengindir hem de daha kolay ayrışır.

Buna göre, aşağıdaki ana materyallerden hangisinin üzerinde besin maddesi bakımından daha zengin toprakların oluşması beklenir?

- A) Granit B) Trakit C) Kuvarsit
D) Periyot E) Bazalt

14. Erozyonun fazla olduğu dağlık alanlarda ve eğimin yüksek olduğu diğer sahalarda, ana kaya parçaları ile karışık hâlde bulunan ve ana kaya üzerinde çok ince bir katman oluşturan toprak türü aşağıdakilerden hangisidir?

- A) Çernozyem B) Litosol C) Rendzina
D) Vertisol E) Fluvisol

15. Maki adı verilen kısa boylu ağaççıkların tahribi ile oluşan bitki topluluğuna garig adı verilir.

Aşağıdakilerden hangisi bu topluluk içerisinde yer almaz?

- A) Süpürge Çalısı B) Tüylü Laden
C) Fundalar D) Kermez Meşesi
E) Diken Çalısı

16. "Kıyı ve ılıman bölgelerde yaşayan toplumların daha uygar, uysal; dağlık bölgelerde yaşayanların ise uygarlıkta geri ve sert mizaçlı olduklarını" **dile getiren ve o dönemde bilindiği kadarıyla Dünya'nın tasvirlerini içeren on yedi ciltlik "Geographica" adlı çalışması bulunan İlk Çağ düşünürü aşağıdakilerden hangisidir?**

- A) Thales B) Strabo C) Heredot
D) Batlamyus E) Hekatus

17. ----, 1864 yılında yazdığı kitabında insan ve doğa ilişkisini ele almış, toprak erozyonunun tehlikelerini ormanların ortadan kalkmasının iklimi de değiştireceğine dikkat çekmiştir. Günümüz çevreci akımının öncüsü sayılmış ve XIX. yüzyılın ikinci yarısında Amerikan coğrafyası üzerinde etkili olmuştur.

Bu parçada boş bırakılan yere aşağıdakilerden hangisi getirilmelidir?

- A) Jedidiah Morse B) Arnold Henry Guyot
C) William Morris Davis D) Reginald A. Daly
E) George Perkins Marsh

18. I. Devletin güçlü olmasında nüfus önemlidir.
II. Ekonomik gelişme nüfus artışına bağlıdır.
III. Servet artışı nüfusu çoğaltır.
IV. Toplumsal gelirden çok bireysel gelir artmalıdır.

Nüfusla ilgili yukarıdaki görüşlerden hangileri "Merkantilist" teoriye aittir?

- A) I ve II B) I ve III C) II ve III
D) II ve IV E) III ve IV

19. "Nüfus artışı tarımsal kalkınmanın meydana gelmesine imkan vermektedir." görüşü aşağıdaki bilim adamlarından hangisine aittir?

- A) T. R. Malthus B) C. Marx
C) J. E. Coher D) E. Boserup
E) J. M. Rubenstein

20. **Aşağıdaki mağaralardan hangisi Prehistorik Dönem'de barınma alanı olarak kullanılmış olup kalıntıları günümüze kadar ulaşmıştır?**

- A) Karain B) Damlataş C) Ballica
D) İnsuyu E) Düdenbaşı

21. Aşağıdaki kıtalardan hangisi, 2000'li yıllardan itibaren daha fazla mülteci akınına uğramıştır?

- A) Afrika B) Asya
C) Güney Amerika D) Avustralya
E) Avrupa

22. Metaller genellikle dört ana gruba ayrılır.

Aşağıdakilerden hangisi bu dört gruptan biri olan demir alaşımları içinde yer almaz?

- A) Krom B) Nikel C) Uranyum
D) Manganez E) Titanyum

23. 1990'lı yıllardan bu yana her yıl düzenli olarak yayımlanan "İnsani Gelişme Raporu" aşağıdaki kuruluşlardan hangisi tarafından hazırlanmaktadır?

- A) Birleşmiş Milletler Kalkınma Programı
B) Birleşmiş Milletler Çevre Programı
C) Dünya Bankası
D) Uluslararası Para Fonu
E) Dünya Ticaret Örgütü

24. Tarihsel mirasa dayalı çekiciliklerin yanı sıra, müze, opera ve sanat galerileri gibi kültürel çekicilikleri olan ve yeme-içme ile birlikte alışveriş olanakları da fazla olan şehir yerleşmelerinde şehrsel turizm gelişmiştir.

Aşağıdaki şehirlerin hangisinde bu turizm türü daha fazla gelişmiştir?

- A) Viyana B) Budapeşte C) Monaco
D) Atina E) Nice

25. Bir tarlaya değişik zamanlarda ekilse de iki veya daha fazla ürünün bir arada yetiştirilmesi aşağıdakilerden hangisiyle adlandırılır?

- A) Entansif tarım B) Monokültür
C) Enterkültür D) Ekstansif tarım
E) Plantasyon tarımı

26. Siyasi coğrafyada "pasif alanlar" olarak adlandırılan alanlar aşağıdaki ülkelerin hangisinde diğerlerine göre daha azdır?

- A) Brezilya B) Rusya C) Kanada
D) Avustralya E) Hollanda

27. Avrupa Birliği'nin ilk adımını 1957 yılında altı Avrupa ülkesi Roma Antlaşması'nı imzalayarak atmıştır.

Aşağıdaki ülkelerden hangisi bu altı ülke arasında yer almaz?

- A) Belçika B) Fransa C) İtalya
D) Hollanda E) Yunanistan

28. Dünyada erozyonun neden olduğu toprak kayıplarının yaklaşık olarak yarısı dört önemli tarım ülkesinde gerçekleşmektedir.

Aşağıdakilerden hangisi bu ülkelerden biri değildir?

- A) ABD B) Hindistan C) Çin
D) Rusya E) Almanya

29. Günümüzde hava kirliliği ve bu kirliliğin olumsuz etkileri aşağıdaki kentlerin hangisinde diğerlerine göre daha fazladır?

- A) Pekin B) Berlin C) Londra
D) Paris E) Kyoto

30. Aşağıdakilerden hangisi küresel ısınmanın nedenlerinden biri **değildir**?

- A) Fosil yakıt kullanımındaki artış
B) Sel ve su baskınlarındaki artış
C) Bitki örtüsünün tahribi
D) Hızlı sanayileşme
E) Hızlı ve çarpık kentleşme

31. I. Gökırmak
II. Göksu
III. Çarşamba
IV. Eşen

Yukarıdaki hidrografik bölgelerden hangileri Akdeniz havzası içerisinde yer alır?

- A) I ve II B) I ve III C) II ve III
D) II ve IV E) III ve IV

32. I. En yüksek zirvesi 2500 metre yükseltiye sahiptir.
II. Aktif volkanlara rastlanır.
III. Dağlar kuzeybatı-güneydoğu yönünde uzanır.
IV. Dağların yüksek kesimlerinde pek çok buzul bulunur.

Yukarıdaki coğrafi özelliklerden hangileri Kafkasya Bölgesi'ne ait özellikler arasında yer alır?

- A) I ve II B) I ve III C) II ve III
D) II ve IV E) III ve IV

33. Türkiye'de, kuzeydeki ve güneydeki kıvrım dağların etkisiyle bazı alanların deniz ile olan bağlantısı kesilmiştir. Kapalı havzalara dönüşmüş olan bu alanlarda dışa akışı olmayan göller meydana gelmiştir.

Aşağıdakilerden hangisi, bu türdeki göllerden biri değildir?

- A) Tuz Gölü
B) Beyşehir Gölü
C) Tuzla Gölü
D) Burdur Gölü
E) Yay Gölü

34. Aşağıdaki yerleşmelerden hangisi Akdeniz iklim bölgesi içerisinde gösterilemez?

- A) İskenderun
B) Alanya
C) Nazilli
D) Akşehir
E) Tarsus

35. Avrupa kıtasının batısında ılıman okyanusal iklim etkilidir. Kış mevsimi ılık, yaz mevsimi serin geçer. Avrupa'nın batı kıyılarında bu iklimin etkili olmasında Atlas Okyanusu üzerinden gelen Batı Rüzgarları ve Gulf Stream sıcak su akıntısının önemli etkisi vardır.

Aşağıdakilerden hangisi bu iklimin görüldüğü ülkelerden biri değildir?

- A) İngiltere
B) Fransa
C) İsveç
D) İspanya
E) Hollanda

36. Aşağıdakilerden hangisi Arap Yarımadası üzerindeki ülkelerden biri değildir?

- A) Birleşik Arap Emirlikleri
B) Katar
C) Bahreyn
D) Umman
E) Yemen

37. Aşağıdakilerden hangisi ABD ile Kanada arasında yer alan göllerden biri değildir?

- A) Erie
B) Ontario
C) Superior
D) Victoria
E) Huron

38. Atlas Dağlarından dolayı "Atlas ülkeleri" olarak tanımlanan ülkeler aşağıdakilerin hangisinde yer almıştır?

- A) Fransa, İspanya, Portekiz
B) Belçika, Hollanda, Lüksemburg
C) Fas, Tunus, Cezayir
D) İngiltere, Fransa, İrlanda
E) Mısır, Libya, Tunus

39. Toplam yüzölçümünün % 90'ı çöllerle kaplı olan ülkede nüfusun büyük bölümü Akdeniz kıyı kesiminde bulunur. Çöl alanları nüfus yoğunluğu bakımından son derece seyrek olup vaha ve su kaynaklarının bulunduğu yerler kısmen nüfuslanmıştır.

Özellikleri verilen bu Afrika ülkesi aşağıdakilerden hangisidir?

- A) Moritanya B) Libya C) Somali
D) Çad E) Senegal

40. Aşağıdaki ülkelerin hangisinde biyoçeşitlilik veya tür zenginliğinin diğerlerine göre daha fazla olması beklenir?

- A) Brezilya B) Şili C) Arjantin
D) İsveç E) Norveç

41. "Bir coğrafya öğretmeni dünyadaki volkanları anlatırken sadece dağılışılarından ve oluşumlarından bahsetmemeli; aynı zamanda volkanik toprakların verimliliğine vurgu yapmalı ve bu alanların depremle olan ilişkisini de birlikte açıklamalıdır."

Bu açıklamada, 2011 Coğrafya Dersi Öğretim Programı'nın aşağıdaki hangi özelliği vurgulanmıştır?

- A) Bütüncül bakış açısı
B) Konuların sarmal düzeni
C) Diğer bilim dallarıyla ilişkisi
D) Doğal ve beşerî sistemlerin bir bütün olduğu
E) Öğrenmeyi kolaylaştırıcı bir yol izlediği

42. Aşağıdakilerden hangisi 2018 Coğrafya Dersi Öğretim Programı'nda yer alan ve öğrencilere kazandırılması hedeflenen harita becerilerinden biri değildir?

- A) Mekânsal dağılışı algılama
B) Harita üzerinde konum belirleme
C) Haritayı doğru şekilde yorumlama
D) Haritalardan yararlanarak hesaplama yapma
E) Amaca uygun harita çizme

43. 2018 Coğrafya Dersi Öğretim Programı'nda yer alan becerilerden biri de coğrafi gözlemdir.

Aşağıdakilerden hangisi bu becerinin bileşenleri arasında gösterilemez?

- A) Olay ve olgulara dikkat etme
B) Arazide veri toplama
C) Olay ve olguları algılama
D) Olay ve olgular arasında ilişkiler kurabilme
E) Gözlediklerini kaydetme ve aktarma

44. Bir coğrafya öğretmeni "Çevre kirliliğini nasıl artırabiliriz?" sorusunu kullanarak mevcut durumdaki olumsuz ve yanlış noktalara işaret ederek çözümü dolaylı yoldan öğrencilerine buldurmaya çalışmaktadır.

Bu öğretmenin, dersinde aşağıdaki yöntem veya tekniklerden hangisini uyguladığı söylenebilir?

- A) Fikir taraması B) Ters beyin fırtınası
C) Karşıtsal tartışma D) Vizüel
E) Zıt panel

45. Bir coğrafya öğretmeni, harita konusunu işledikten sonra değerlendirme aşamasında öğrencilerine "Yaşadığınız mekânı kroki çizerek gösteriniz." şeklinde bir ödev verir.

Öğrencilere verilen bu ödev Bloom taksonomisinde bilişsel alanın aşağıdaki hangi basamağında yer alır?

- A) Bilgi B) Kavrama C) Uygulama
D) Analiz E) Değerlendirme

46. **Yapılandırmacı öğrenme yaklaşımının uygulandığı bir coğrafya dersinde aşağıdakilerden hangisi beklenmez?**

- A) Çok yönlü bakış açısına yer verme
B) Öğrencinin öğretim etkinliğinin merkezinde yer alması
C) Öğrencilerin ders sürecine aktif katılımı
D) Öğretim sürecinde öğretmenin bilgi dağıtıcı olması
E) Öğretmenin düşündürücü sorular sorması

47. Bir coğrafya öğretmeni kırsal yerleşme yapılarını öğretmek için sınıfını üç gruba ayırmış ve bunlara ayrı ayrı öykü yazma, slogan yazma ve afiş hazırlama görevlerini vermiştir. Çalışma tamamlanınca grupların yerleri değiştirilmiş ve önceki grupların yapmış olduklarını bir adım öteye götürmek üzere devam ettirilmiştir. Sonra grupların yerleri tekrar değiştirilmiş böylece her bir grubun bir önceki grubun yaptıklarını daha ileri götürmeleri sağlanmıştır. Etkinlik bitiminde kırsal yerleşme yapıları üzerine yapılmış olan çalışmalar sergilenmiştir.

Buna göre, öğretmen aşağıdaki öğretim yöntem veya tekniklerinden hangisini kullanmıştır?

- A) Akvaryum B) Köşelenme
C) Kartopu D) İstasyon
E) Balık Kılıçığı

48. 11. sınıf coğrafya dersinde "Türkiye sanayisini şekillendiren faktörleri ve bu sektörün özelliklerini açıkla" kazanımının açıklama kısmında "Sanayi bölgesi varsa buralara gezi yapılabilir." ibaresi yer almaktadır.

Bu doğrultuda ders işleyen ve uygun zamanda sanayi bölgesine gezi düzenleyen öğretmen aşağıdaki öğretim ilkelerinden hangisini dikkate almıştır?

- A) Yakından uzağa B) Somuttan soyuta
C) Öğrenciye görelilik D) Güncellik
E) Bütünlük

49. Nüfusun dağılışını etkileyen beşerî faktörler konusunu işleyecek olan bir coğrafya öğretmeni, konu üzerine öğrencilerinin düşüncelerini istemiş ve onları bahçeye çıkararak büyük bir çember etrafına dizmiştir. Konu üzerine görüş belirtmek isteyen öğrencileri çemberin ortasına almış, açıklama yapmalarını ve tartışma ortamının oluşmasını sağlamıştır. Diğer öğrenciler ise onları dinlemiş ve not almışlardır. Uygulamanın bitiminde sınıfa tartışmanın bir özeti sunulmuştur.

Buna göre öğretmen, aşağıdaki öğretim yöntem veya tekniklerinden hangisini kullanmıştır?

- A) Köşelenme B) Akvaryum C) İstasyon
D) Kartopu E) Gösteri

50. Gölcük'te görev yapan bir coğrafya öğretmeni dersinde öğrencilerine "Bu dersimizde 17 Ağustos 1999'da şehrimizi yıkan ve insanlara çok büyük acılar yaşatan deprem konusunu işleyeceğiz." diyerek derse başlamıştır.

Öğretmen, dersine böyle bir giriş yaparak aşağıdakilerden hangisini gerçekleştirmeye çalışmaktadır?

- A) Dikkat çekip güdülemeyi sağlamak
B) Bilgi düzeyini artırmak
C) Geri bildirimde bulunmak
D) Coğrafi gözlem becerilerini geliştirmek
E) Coğrafi sorgulama becerisini geliştirmek

ÖSYM
Bu soruların telif hakları ÖSYM'ye aittir. Sorular ÖSYM'nin yazılı izni olmaksızın hiçbir kişi, kurum veya kuruluş tarafından kullanılamaz.

SINAVDA UYULACAK KURALLAR

1. Sınav salonunda saate entegre kamera ile kayıt yapılıyor ise; kamera kayıtlarının incelenmesinden sonra sınav kurallarına uymadığı tespit edilen adayların sınavları ÖSYM Yönetim Kurulunca geçersiz sayılacaktır.
2. Cep telefonu ile sınava girmek kesinlikle yasaktır. Her türlü elektronik/mekanik cihazla ve çağrı cihazı, telsiz, fotoğraf makinesi vb. araçlarla; cep bilgisayar, her türlü saat ile, kablosuz iletişim sağlayan bluetooth, kulaklık vb. her türlü bilgisayar özelliği bulunan cihazlarla; her türlü kesici ve delici alet, ateşli silah vb. teçhizatla; kalem, silgi, kalemtıraş, müsvedde kâğıdı, defter, kitap, ders notu, sözlük, dergi, gazete vb. yayınlar, hesap makinesi, pergel, açılışer, cetvel vb. araçlarla sınava girmek kesinlikle yasaktır. Sınava kolye, küpe, yüzük (alyans hariç), bilezik, broş, anahtar, anahtarlık, metal para gibi metal içerikli eşyalarla (basit başörtü iğnesi ve ince metal tokalı kemer hariç); plastik veya camdan yapılmış her türlü güneş gözlüğü ile (şeffaf/numaralı gözlük hariç), banka/kredi kartı, ulaşım kartı vb. kartlarla; yiyecek-içecek (şeffaf pet şişe içerisindeki su hariç) ve diğer tüketim maddeleri ile gelmeleri kesinlikle yasaktır. Bu tür eşya, araç-gereçlerle sınava girmiş adaylar mutlaka Salon Tutanağı'na yazılacak, bu adayların sınavı geçersiz sayılacaktır.
Ancak, ÖSYM Başkanlığı tarafından belirlenen Engelli ve Yedek Sınav Evrakı Yönetim Merkezi (YSYM) binalarında sınava girecek olan engelli adayların sınava giriş belgelerinde yazılı olan araç-gereçler, cihazlar vb. yukarıda belirtilen yasakların kapsamı dışında değerlendirilecektir.
3. Bu sınav için verilen toplam cevaplama süresi **75 dakikadır (1 saat, 15 dakika)**. Sınav başladıktan sonra adayın **sınav sonuna kadar sınav salonundan çıkmasına kesinlikle izin verilmeyecektir**. Bildirilen süreleri aynırı davranışlardan adayın kendisi sorumludur.
4. Sınav salonundan ayrılan aday, her ne sebeple olursa olsun, tekrar sınav salonuna alınmayacaktır.
5. Sınav süresince görevlilerle konuşmak, görevlilere soru sormak yasaktır. Aynı şekilde görevlilerin de adaylarla yakından ve alçak sesle konuşmaları ayrıca adayların birbirinden kalem, silgi vb. şeyleri istemeleri kesinlikle yasaktır.
6. Sınav sırasında, görevlilerin her türlü uyarısına uymak zorundasınız. Sınavınızın geçerli sayılması her şeyden önce, sınav kurallarına uymanıza bağlıdır. Kurallara aykırı davranışta bulunanlar ve yapılacak kurallara uymayanlar Salon Tutanağı'na yazılacak ve sınavları geçersiz sayılacaktır.
7. Sınav sırasında kopya çeken, çekmeye kalkışan, kopya veren, kopya çekilmesine yardım edenler Salon Tutanağı'na yazılacak ve bu adayların sınavları geçersiz sayılacaktır.
Adayların test sorularına verdikleri cevapların dağılımları bilgi işlem yöntemiyle incelenecek, bu incelemelerden elde edilen bulgular bireysel veya toplu olarak kopya çekildiğini gösterirse kopya çekimine katılan adayın/adayların sınavı geçersiz sayılacak ayrıca 2 yıl boyunca ÖSYM tarafından düzenlenen hiçbir sınavta başvuru yapamayacak ve sınava giremeyecektir.
Sınav görevlileri bir salondaki sınavın, kurallara uygun biçimde yapıldığını, toplu kopya girişiminde bulunulduğunu raporlarında bildirdiği takdirde, ÖSYM bu salonda sınava giren tüm adayların sınavını geçersiz sayabilir.
8. Cevap kâğıdında doldurmanız gereken alanlar bulunmaktadır. Bu alanları doldurunuz. Cevap kâğıdınızı başkaları tarafından görülme üzere tutmanız gerekmektedir. Cevap kâğıdına yazılacak her türlü yazıda ve yapılacak bütün işaretlemelerde kurşun kalem kullanılacaktır. Sınav süresi bittiğinde cevapların cevap kâğıdına işaretlenmiş olması gerekir. Soru kitapçığına işaretlenen cevaplar değerli değildir.
9. Soru kitapçığınızı alır almaz kapağında bulunan alanları doldurunuz. Size söylendiği zaman sayfaların eksik olup olmadığını, kitapçıkta basım hatalarının bulunup bulunmadığını ve soru kitapçığının her sayfasında basılı bulunan soru kitapçık numarasının, kitapçığın ön kapağında basılı soru kitapçık numarasıyla aynı olup olmadığını kontrol ediniz. Soru kitapçığının sayfası eksik veya basım hatalıysa değiştirilmesi için salon başkanına başvurunuz.
Size verilen soru kitapçığının numarasını, cevap kâğıdınızdaki "Soru Kitapçık Numarası" alanına yazınız ve kodlayınız. Cevap kâğıdınızdaki "Soru Kitapçık numaramı doğru kodladım." kutucuğunu işaretleyiniz.
Soru kitapçığı üzerinde yer alan Soru Kitapçık Numarasını doğru kodladığınızı beyan eden alanı imzalayınız.
10. Sınav sonunda soru kitapçıkları toplanacak ve ÖSYM'de incelenecektir. Soru kitapçığının sayfalarını koparmayınız. Soru kitapçığının bir sayfası bile eksik çıkarsa sınavınız geçersiz sayılacaktır.
11. Cevap kâğıdına ve soru kitapçığına yazılması ve işaretlenmesi gereken bilgilerde bir eksiklik ve/veya yanlışlık olması hâlinde sınavınızın değerlendirilmesi mümkün değildir, bu husustaki özen yükümlülüğü ve sorumluluk size aittir.
12. Soru kitapçığının sayfalarındaki boş yerleri müsvedde için kullanabilirsiniz.
13. Soruları ve/veya bu sorulara verdiğiniz cevapları ayrı bir kâğıda yazıp bu kâğıdı dışarı çıkarmanız kesinlikle yasaktır.
14. **Sınav salonundan ayrılmadan önce, soru kitapçığınızı, cevap kâğıdınızı ve sınava giriş belgenizi salon görevlilerine eksiksiz olarak teslim ediniz. Bu konudaki sorumluluk size aittir.**
15. Sınav süresi salon görevlilerinin "SINAV BAŞLAMIŞTIR" ibaresiyle başlar, "SINAV BİTMİŞTİR" ibaresiyle sona erer.

Bu testlerin her hakkı saklıdır. Hangi amaçla olursa olsun, testlerin tamamının veya bir kısmının Merkezimizin yazılı izni olmadan kopya edilmesi, fotoğrafının çekilmesi, herhangi bir yolla çoğaltılması, yayımlanması ya da kullanılması yasaktır. Bu yasağa uymayanlar gerekli cezai sorumluluğu ve doğacak tüm mali külfeti peşinen kabullenmiş sayılır.

COĞRAFYA

1. B
2. C
3. A
4. C
5. D
6. D
7. E
8. E
9. C
10. D
11. A
12. B
13. E
14. B
15. D
16. B
17. E
18. A
19. D
20. A
21. E
22. C
23. A
24. A
25. C
26. E
27. E
28. E
29. A
30. B
31. D
32. E
33. B
34. D
35. C
36. C
37. D
38. C
39. B
40. A
41. A
42. E
43. B
44. B
45. C
46. D
47. D

COĞRAFYA

48. A
49. B
50. A

ÖSYM

Bu soruların telif hakları ÖSYM'ye aittir. Sorular ÖSYM'nin yazılı izni olmaksızın hiçbir kişi, kurum veya kuruluş tarafından kullanılamaz.