



T.C. Ölçme, Seçme ve Yerleştirme Merkezi

KAMU PERSONEL SEÇME SINAVI ORTAÖĞRETİM

GENEL YETENEK TESTİ
GENEL KÜLTÜR TESTİ

22 KASIM 2020

Bu testlerin her hakkı saklıdır. Hangi amaçla olursa olsun, testlerin tamamının veya bir kısmının Merkezimizin yazılı izni olmadan kopya edilmesi, fotoğrafının çekilmesi, herhangi bir yolla çoğaltılması, yayımlanması ya da kullanılması yasaktır. Bu yasağa uymayanlar gerekli cezai sorumluluğu ve testlerin hazırlanmasındaki mali külfeti peşinen kabullenmiş sayılır.

AÇIKLAMA

1. Bu kitapçıkta toplam **120 soru** bulunmaktadır.
Genel Yetenek Testi: 60 soru
Genel Kültür Testi: 60 soru
2. Bu sınav için verilen cevaplama süresi **130 dakikadır (2 saat 10 dakika)**.
3. **Bu sınav puanlanırken, her testteki doğru cevaplarınızın sayısından yanlış cevaplarınızın sayısının dörtte biri çıkarılacak ve kalan sayı o bölümle ilgili ham puanınız olacaktır.**
4. Kitapçığın sayfalarındaki boş yerleri müsvedde için kullanabilirsiniz.
5. Cevaplamaya, istediğiniz sorudan başlayabilirsiniz. Bir soru ile ilgili cevabınızı, cevap kâğıdında o soru için ayrılmış olan yere işaretlemeyi unutmayınız.
6. Bu kitapçıkta yer alan her sorunun sadece bir doğru cevabı vardır. Cevap kâğıdında bir soru için birden çok cevap yeri işaretlenmişse o soru yanlış cevaplanmış sayılacaktır. İşaretlediğiniz bir cevabı değiştirmek istediğinizde, silme işlemi çok iyi yapmanız gerektiğini unutmayınız.
7. Sınavda uyulacak kurallar bu kitapçığın arka kapağında belirtilmiştir.

1. Bu testte 60 soru vardır.

2. Cevaplarınızı, cevap kâğıdının Genel Yetenek Testi için ayrılan kısmına işaretleyiniz.

1. Ünlü sosyolog Emile Durkheim tarihin akışına ---- modern toplumun ayırıcı özelliğinin iş bölümü olduğu çıkarımını yapar. Durkheim, artan iş bölümünün daha fazla bireysel özgürlük ve mutluluğa ---- sağladığı hâlde, bu geçişin iyi şekilde kullanılmadığını da ekler.

Bu cümlede boş bırakılan yerlere sırasıyla aşağıdakilerden hangisi getirilmelidir?

- A) takılarak - geçiş
B) bakarak - imkân
C) yoğunlaşarak - uyum
D) kapılarak - mekân
E) değinerek - maddiyat

2. Dışarıda yağmur başlıyor, bir tatlı şarkı taşıyor sokağa:

Duvardaki resminle... Bir serin rüzgâr çarpıyor
yüzümüze, burnumuza toprak kokusu... Yağmur, giden
bir avuç insanı hatırlatıyor; gözyaşları birikiyor içimizde.
Başımızı önümüze eğiyor ve hayatı tartıyoruz çaresizce.

Bu parçada numaralanmış sözlerin hangilerinde mecazlı söyleyişe yer verilmemiştir?

- A) I ve II
B) I ve III
C) II ve III
D) III ve IV
E) IV ve V

3. (I) Svalbard Küresel Tohum Deposu, Norveç'e ait Svalbard Takımadaları'ndan Spitzbergen'de bulunmaktadır. (II) Svalbard sözcüğünün halk dilindeki diğer bir adı "kıyamet ambarı"dır. (III) Kuzey Buz Denizi'ndeki bu takımadaların bulunduğu denizin adından da anlaşılacağı gibi Kuzey Kutbu'na çok yakındır. (IV) Daha önceleri pek büyük bir öneme sahip olmayan bu takımadada, 2008'de küresel tohum deposunun hizmete girmesiyle birlikte, birdenbire dünya çapında bir üne kavuşmuştur. (V) Takımadalar ve depo, önümüzdeki yıllarda da adından sıkça söz ettireceğe benziyor.

Bu parçada numaralanmış cümlelerde Svalbard ile ilgili aşağıdakilerden hangisi söylenemez?

- A) I. cümlede, tohum deposunun nerede olduğu belirtilmektedir.
B) II. cümlede, sözcüğün yerel dildeki ismi verilmiştir.
C) III. cümlede, depoda ne tür tohumların yer aldığı sıralanmıştır.
D) IV. cümlede, depo sebebiyle adının yayıldığı belirtilmiştir.
E) V. cümlede, gelecekle ilgili bir tahmin yapılmıştır.

4. İyilik takasa gelmez, değiş tokuş pazarına girince iyiliğin değeri kalmaz.

Bu cümlede anlatılmak istenen aşağıdakilerden hangisidir?

- A) Maddi yardım, kişiye uzun vadede daha çok zarar veren bir iyilik biçimidir.
B) İyilik; sadece iyilik yapılanı değil, iyiliği yapan insanı da bütünüyle değiştirir.
C) Bir iyilik, karşınızdaki kişinin hayatında yarattığınız değişim oranında büyüktür.
D) İyilik kendi başına kıymetlidir, bir karşılık beklenerek yapıldığında kıymetini yitirir.
E) Yardımlaşmayı ve dayanışmayı bilmeyen insanlar için iyiliğin bir değeri yoktur.

5. Ürdün'ün güney ucunda bulunan Akabe, ülkenin en turistik bölgelerinden biri. Dört mevsim tatile gidilebilen şehir; deniz ve su altı tutkunlarını kendisine çekiyor. Kızıldeniz'in rengârenk balıkları ve eşsiz kumsalları, kışın ılık geçmesi, burayı dünyanın dört bir yanından akın akın gelen dalgıçların uğrak noktası hâline getiriyor.

Bu parçada numaralanmış sözcüklerden hangisi, farklı bir kökten türemiştir?

- A) I B) II C) III D) IV E) V

6. Bahar bende umudu, enerjiyi ve yenilenmeyi çağrıştırır. Bahar yaklaştıkça coşku artar. Çok sıcak olmayan güneşli havaları severim. Yoğun iş tempoma rağmen evimde huzurla vakit geçirmekten hoşlanırım. Evimde de genelde baharı çağrıştıracak renkler kullanırım.

Bu parçada numaralanmış sözcüklerden hangisi zarf-fiildir?

- A) I B) II C) III D) IV E) V

7. (I) İçi dolu bir kumbara, veznedar tarafından açılmak üzere bir banka şubesine ilk kez Şükrü Bey'in oğlu tarafından götürülür. (II) Sûha adlı bu çocuğun hesabına yatan paranın ayrıntıları bilinmez. (III) Ancak bundan sonra çocukların el öpme gibi yollara başvurarak kumbara canavarını büyötmeye çalıştıkları bilinmektedir. (IV) Böylelikle çocukların düşlerini hapseden kumbaralar, birer oyuncuğa dönüşür zaman içinde. (V) Kumbaranın metali, bozuk parayla artan çocuk düşünün sıcaklığına dayanmamış ve eriyip çocuk düşlerinin şeklini almış gibidir.

Bu parçada numaralanmış cümlelerin hangisinde "ünlü düşmesi" yoktur?

- A) I B) II C) III D) IV E) V

8. Yıllar sonra beklenmedik bir anda seninle karşılaşmak beni derinden etkiledi.

Bu cümlenin öznesi, aşağıdaki kelime gruplarından hangisiyle oluşmuştur?

- A) İsim-fiil grubu B) İsim tamlaması
C) Sıfat tamlaması D) Zarf-fiil grubu
E) Sıfat-fiil grubu

9. (I) Bugüne kadar yaptığım mülakatların hemen hepsiyle ilgili hoş hatıralarım var. (II) Bu hatıralardan birkaçına kitabımın giriş bölümünde yer verdim. (III) Kitapta yer alan metinlere fazla müdahale etmedim. (IV) Yalnızca yazım birliğini sağlamak için küçük düzenlemeler yaptım. (V) Özetle, sıkılmadan okuyacağınızı ümit ettiğim bir kitap yazdım.

Bu parçada numaralanmış cümlelerle ilgili aşağıdakilerden hangisi söylenemez?

- A) I. cümlede, belgisiz zamir vardır.
B) II. cümlede, işaret sıfatı vardır.
C) III. cümlede, miktar zarfı vardır.
D) IV. cümlede, niteleme sıfatı vardır.
E) V. cümlede, yer-yön zarfı vardır.

10. Osmanlı ordusu, batı yönünde hareket etmekteydi.

Görünürde olağan üstü bir durum yoktu sanki. Her şey
I II
yolunda seyrediyor gibiydi. Ancak Tuna kıyısına
III
yaklaşınca bir hareketlilik başlayıverdi. Sultan da bu
IV V
duruma bir anlam veremedi.

Bu parçada numaralanmış sözlerden hangisinin yazımı yanlıştır?

- A) I B) II C) III D) IV E) V

11. Mehmet kızdı () () Tam da ağlayacak sırayı buldun () değil mi () () dedi.

Bu cümlede ayraçlarla () belirtilen yerlere sırasıyla aşağıdaki noktalama işaretlerinden hangileri getirilmelidir?

- A) (:) (") (,) (?) (")
B) (;) (") (...) (?) (")
C) (.) (-) (.) (?) (,)
D) (.) (") (,) (") (?)
E) (:) (") (...) (?) (")

12. (I) Malezya'da, Selebes Denizi'nin kıyısındaki Semporna kenti açıklarında, Bajau su çingenelerinin denizin ortasında kurdukları köyler, modern insana çok şey söylüyor. (II) Yağmur yağdığına başlarını sokacakları bir kulübeleri varsa mutlu olan bu insanlar, bizim çağdaşımız. (III) Beton, otomobil ve teknolojiye gark olmuş, çalıştıkça daha da yoksullaşan bizleri sadelikleriyle afallatıyorlar. (IV) "Maddi anlamda neredeyse hiçbir şeye sahip olmayan bu insanlar nasıl bu kadar mutlular?" diye sormaktan kendimizi alamıyoruz. (V) Bajau su köylerinde, gündelik hayat son derece sade bir seyir izliyor. (VI) Erkeklerin çoğu, günü balık avlayarak geçirirken kadınlar teknelerin bakımı ve onarımının yanı sıra ev işleri ve çocuklarla ilgileniyor.

Bu parça iki paragrafa ayrılmak istense ikinci paragraf numaralanmış cümlelerin hangisiyle başlar?

- A) II B) III C) IV D) V E) VI

13. (I) Ankara'nın eski fotoğraflarında çoğunlukla boş ve kıraç arazinin yalın ancak dikkat çekici bir sunumu yer alır. (II) Başkent olmadan önce Ankara'da yerleşik bir hayat yokmuş gibi bir boşluk, ıssızlık gözler önüne serilir. (III) Ankara'nın uzun yıllar boyunca nasıl inşa edildiği, tarihî süreçlere bakılarak bir bulmaca gibi takip edilebilir. (IV) Bu bozkırın çok kısa bir zaman diliminde insan ve bina kalabalığıyla bu kadar doldurulmuş olması ise hayret vericidir. (V) Yakup Kadri de *Ankara* romanında başkentteki söz konusu ıssızlığın yerini nasıl kısa zamanda yaşam alanlarının ve gündelik hayat koşturmacasının aldığını çarpıcı bir şekilde anlatır.

Bu parçada numaralanmış cümlelerden hangisi düşüncenin akışını bozmaktadır?

- A) I B) II C) III D) IV E) V

14. Hayvan destekli tedaviler (HDT), bir hayvanın doğrudan tedavide veya var olan başka bir tedaviye destek amacıyla kullanılması olarak tanımlanıyor. Genellikle psikolojik sorunların tedavisinde kullanılan bu yöntemin işe yarayıp yaramadığı ise tartışmalı bir konu. Çoğu çalışmada HDT'de kaydedilen gelişmenin hayvanların tedavi gücünden mi, yoksa zaman içinde oluşan birikimli ilerlemeden mi kaynaklandığı açıklanamıyor. Ayrıca tedavisinde HDT'den yararlanan hastaların psikolojilerindeki iyileşmenin hayvanlarla vakit geçirmeye bağlı geçici bir durum mu yoksa hastalık belirtilerinin kalıcı olarak yok edilmesinin göstergesi mi olduğu da tam olarak saptanamıyor.

Bu parçaya göre HDT ile ilgili temel sorun aşağıdakilerden hangisidir?

- A) Uygulanan yöntemin hastadan hastaya değişkenlik göstermesi
- B) Etkisinin bilimsel yöntemlerle tam olarak ortaya konulamaması
- C) Hangi hastalıklarda daha etkili olacağı belirlenememesi
- D) Tedavinin, hastaların hayvanlara karşı tutumlarından etkilenmesi
- E) Genellikle doğrudan tedaviye destek amacıyla tercih edilmesi

15. Fotoğrafın haberde kullanılmaya başlanmasının tarihi çok eskiye gitmez. Ancak habere fotoğrafın eklenmesiyle birlikte gazetelerin habercilik anlayışları ve haber içeriklerinde önemli değişiklikler gözlenir. Böylece fotoğraf, haber metnini destekleyen önemli bir öge hâline gelir. Günümüzde haber fotoğrafından beklenen, olayı tüm açıklığı ve gerçekliğiyle yansıtmasıdır. Fotoğrafların, manipülasyona uğramamış ve tarafsız olması gerekir. Çünkü fotoğraf, haberi doğru olarak algılamamıza yardımcı olur. Haberlerde fotoğraf kullanılmadan önce gazete ve dergilerde önemli olaylar elle yapılan çizim ve resimlerle destekleniyordu. Günümüzde de zaman zaman bunun örneklerine rastlamak mümkün.

Bu parçadan hareketle haber fotoğraflarıyla ilgili aşağıdakilerden hangisi söylenemez?

- A) Yönlendirmeden uzak olması gerektiği
- B) Kullanımının kamuoyunca beğenildiği
- C) Haberin anlaşılabilirliğine katkı sağladığı
- D) Haber yazımına yeni bir boyut kazandırdığı
- E) Olayları olduğu gibi yansıtması gerektiği

16. Batı ülkelerinde "la diva Turca" yani "Türk devi" olarak bahsedilen Leyla Gencer'e, dünya operasının sayılı sopranolarından biri olduğu yıllarda birçok ülke vatandaşlık teklif etmiştir. O ise "İnsanın tek bir ülkesi olur." diyerek tüm teklifleri reddetmiş, hayatı boyunca yalnız Türk pasaportu taşımıştır. Sanatının doruğunda olduğu yıllarda ülkesinde adı bile duyulmayan sanatçı; sahneyi bıraktıktan ancak yıllar sonra o, sahnede kaydedilen korsan plaklar sayesinde ünlenmiştir.

Bu parçadan hareketle Leyla Gencer'le ilgili aşağıdakilerden hangisine ulaşılabılır?

- A) Kendi ülkesinde değeri sonradan anlaşılmıştır.
- B) Gelişmekte olan bir sanat dalında eserler üretmiştir.
- C) Ülkesini dünyaya tanıtmak için çalışmalar yapmıştır.
- D) Sanatsal çalışmalarına zirvedeyken son vermiştir.
- E) Yurt dışındaki başarıları ile ülkesinde ünlenmiştir.

17. Birkaç asır öncesine kadar 60'lı yaşlara ulaşmak neredeyse imkânsız görülürken günümüzde 100 yaşına kadar hatta daha uzun yıllar yaşayan asırlık insan sayısı giderek artıyor. Dünyanın farklı yerlerindeki bu asırlık insanların bazı ortak özellikleri var. Gündelik yaşamlarında genellikle yürümeyi ve bisiklete binmeyi tercih ettikleri gibi düzenli olarak spor yapmayı da aksatmıyorlar. Ailelerinin yaşlı ve genç tüm bireyleri ile sürekli iletişim hâlinde. Gönüllü olarak sivil toplum kuruluşlarının projelerine katılıyorlar. Sigara ve alkole hayatlarında yer vermiyorlar.

Bu parçada asırlık insanlarla ilgili aşağıdakilerden hangisine değinilmemiştir?

- A) Fiziksel bakımdan aktif olduklarına
- B) Toplumsal konularda duyarlı olduklarına
- C) Zararlı alışkanlıklardan uzak durduklarına
- D) Akrabalık ilişkilerini canlı tuttuklarına
- E) Stresten uzak kalmaya çalıştıklarına

18. İlaçların etkisinin cinsiyete göre incelendiği bir araştırmanın sonucunda bazı ilaçlara kadın ve erkeklerin %40'a varan oranlarda farklı tepkiler geliştirdiği ortaya konmuştur. Bu araştırma kapsamında incelenen ilaçlardan birinin kan sulandırıcı özelliği de var. Kimi doktorların kalp krizinden korunmak için 40 yaşından itibaren her gün alınmasını tavsiye ettiği bu ilacın; erkekleri kalp krizine, kadınları ise beyin kanamasına karşı koruduğu belirlenmiştir. Bu farklılıkta kadınların boy ve kilo ortalamalarının erkeklere göre daha düşük olması, yağ dokularının fazlalığına bağlı olarak ilaçların vücutlarında daha yavaş emilmesi ve böbreklerinden daha yavaş atılması gibi faktörlerin rol oynadığı düşünülmüştür.

Bu parçadan hareketle aşağıdakilerden hangisi söylenebilir?

- A) Cinsiyete göre farklı etkiler yaratan ilaçların sayısı oldukça azdır.
- B) Kan sulandırıcı ilaçlar, kadınlarda kalp krizi riskini artırıcı bir etki yaratmaktadır.
- C) İlaçların beklenen etkisi kadınlarda daha kısa sürede ortaya çıkmaktadır.
- D) Kadın ve erkeklerin ilaçlara verdiği tepkiler fizyolojileriyle bağlantılıdır.
- E) İlaçlar vücutta yağ dokusu adı verilen kısımda depolanmaktadır.

19. Acemi sürücülere yeterince anlayışlı davranmıyoruz. Oysa biz de onlar gibi araba kullanmayı zamanla öğrendik ve trafiğe ilk çıktığımızda kızdığımız kişilerden bir farkımız yoktu. Hayatı da böyle değerlendirmeliyiz aslında. Hata yapan kişilere kızmadan önce ----.

Bu parçanın sonuna düşüncenin akışına göre aşağıdakilerden hangisi getirilmelidir?

- A) şüphesiz bizim de aynı aşamalardan geçtiğimizi hatırlamalıyız
- B) bizimle aynı fikri paylaşmak zorunda olmadıklarını bilmeliyiz
- C) onların bize göstereceği tepkiyi göz önünde bulundurmalıyız
- D) bunun bilgi eksikliğinden kaynaklandığını düşünmeliyiz
- E) geçmişte yaşamış oldukları olumsuzlukları dikkate almalıyız

20. Sinemanın erken dönemlerinde atılan adımlarda komedi oldukça popülerdir. Kimi zaman mizah, sinemanın teknik imkânları üzerinden üretilir. Ancak daha yaygın tavır, komik olanı tek tek insanlardaki tezahürlerinden derleyip komik tipin maskesinde ifade düzlemine taşımaktır. Komik tipin veya ondan kaynaklanan alaya almanın izleyicide yol açabileceği olumsuz tepkilerin, insandan maskeye aktarılma biçimindeki bu soyutlama adımıyla önüne geçilir. Sembolik bir temsil, bir canlandırma olarak dışa vuran ve yabancılaştırılan her bir duygu ve heyecan hareketi böylece tüketilebilir hâle getirilir. Gündelik hayatın eksiklikleri, aksaklıkları ve yoksunlukları böylece komedi sineması aracılığıyla aktarılır.

Bu parçaya göre “komik tipin maskesi”nin sinemadaki işlevi aşağıdakilerden hangisidir?

- A) Günlük yaşamda karşılaşılan olumsuz davranışları izleyicinin örnek almasını engellemek
- B) Bireyin dışa vurduğu hemen her duygunun mizahi bir yönü olduğunu göstermek
- C) İzleyicilere günlük yaşamın aksaklıklarını ve yoksunluklarını unutmaya fırsatı tanımak
- D) İzleyicinin kendisini dış dünyadan soyutlayıp kişisel bir muhasebe yapmasını sağlamak
- E) İzleyicide alaya alınanın bizzat kendisi olduğu algısının oluşumunu önlemek

21. Tıbbın önemli buluş ve gelişmelerinden biri aşılardır. Aşılama yöntemi, aşısı bulunan hastalıklardan korunmada, başvurulan en önemli halk sağlığı uygulamasıdır. Her yıl dünyada 5 yaşın altında 12 milyon çocuk yaşamını yitirmekteyken son zamanlarda düzenli olarak uygulanan aşilar sayesinde 3 milyon çocuğun ölümü önlenmiş ve 750 bin çocuk da sakatlıktan korunmuştur. Bugüne değin aşılama ile çiçek hastalığı gibi bazı hastalıkların kökü kazanmıştır. Çocuk felci ve kızamık hastalığına ilişkin çalışmalar ise devam etmektedir. Yeni doğan bebeklere uygulanan BCG aşısı ile menenjit ve tüberküloz gibi hastalıkların görülme sıklığında düşüş gözlemlenmiştir.

Bu parçada aşağıdakilerden hangisine değinilmemiştir?

- A) Hastalıkların çocuklarda kalıcı sağlık sorunlarına yol açabildiğine
- B) Günümüzde bazı hastalıkların aşı çalışmalarının henüz tamamlanmadığına
- C) Aşıların hangi yaş aralığındaki çocuklara yaptırılması gerektiğine
- D) Aşılar sayesinde dünya genelinde çocuk ölümlerinin azaldığına
- E) Aşılama sonrasında bazı hastalıklara artık rastlanmadığına

22 - 23. soruları aşağıdaki parçaya göre cevaplayınız.

Türk sinemasında son dönemlerde görülen nicel artışın nitelik açısından da bir karşılık bulup bulmadığı tartışma konusu. Ancak bu tartışmada bir sonuca ulaşabilmek için peşin hükümlü olmadan birkaç sezon daha beklemekte fayda var. Geçtiğimiz iki sinema sezonundaki film enflasyonunun içinden vasatın altında filmlerle birlikte, yurt dışında da ses getiren yapımlar da ortaya çıktı. Ama her şey kendi karşısını da doğuruyor. Yani yerli sinemanın toplam seyirci oranındaki payı büyüdükçe seyirciye tuzak kuran filmlerin sayısı da giderek artıyor. Dizi oyuncularının ve dizilerin popülerliğinden yararlanmak isteyen yapımcılar, kısa vadede bu tür hilelerle amaçlarına belki ulaşabilirler ama uzun vadede bu durum sinemamıza zarar verecek gibi.

22. Bu parçada Türk sineması ile ilgili aşağıdakilerden hangisine değinilmemiştir?

- A) Son yıllardaki hareketliliğinin içerdığı nicelik-nitelik tartışmasına
- B) Popüler kültür üretiminin sektör üzerindeki kimi etkilerine
- C) Uluslararası alanda elde edilen birtakım başarılar olduğuna
- D) Sinema salonlarının giderek daha çok izleyiciyi çektiğine
- E) Yapımcıların sanat sinemasına yaptıkları önemli katkılara

23. Bu parçada söz edilen "tuzak" aşağıdakilerden hangisidir?

- A) Yerel izleyicinin beğenilerini gözardı etmek
- B) Ekonomik sıkıntıların sektörü yönlendirmesi
- C) Popülerlik kaygılarının nitelik üzerindeki tehdidi
- D) Uluslararası başarı ve ödüllerin hedeflenmesi
- E) Gişe hasılatının üretim maliyetinin altında kalması

24 - 26. soruları aşağıdaki parçaya göre cevaplayınız.

Utangaçlık; bireylerin kişiler arası ilişkilerinin, profesyonel amaçlarının önüne geçen çekingenlik veya yeni durumlarla karşılaşınca tecrübe ettiği suskunluk durumu olarak tanımlanabilir. Aslında ne olduğunu çok iyi bildiğimiz bu duygunun neden oluştuğunu belirlemeye yönelik yapılan pek çok araştırma var. Bu araştırmaların birinden elde edilen sonuçlar, bireylerin yüzde onunun utangaç doğduğunu tespit etmiştir. Bu çocukların doğdukları andan beri tanımadıkları insan veya durumlar karşısında aşırı dikkatli ve çekingen davrandığı belirlenmiştir. Daha bütüncül bir çalışmada bazı bireylerin, çocukluk döneminde tecrübe ettiği olumsuz durumların veya sevilme için başarıyı şart koşan ailelerde yetişmelerinin etkisiyle utangaç oldukları saptanmıştır. Dokuz ülkede yürütülen geniş çaplı başka bir araştırmada; risk almanın teşvik edildiği toplumlardaki bireylerin daha dışa dönük, sosyal başarısızlığın çok önemsendiği toplumlardaki bireylerin ise daha içe dönük olduğu ortaya konmuştur. Gençlerle yürütülen yakın tarihli bir araştırmada ise vakitlerinin çoğunu bilgisayar ve telefonla geçiren kişilerin kendilerini yalnız hissettikleri için utangaçlıklarının arttığı dile getirilmiştir.

24. Bu parçaya göre aşağıdakilerden hangisi utangaçlığı etkileyen nedenlerden biri değildir?

- A) Kültürel etkenler B) Yetiştirilme tarzı
C) Genetik unsurlar D) Fiziksel özellikler
E) Gündelik alışkanlıklar

25. Bu parçada bahsedilen araştırmalarla ilgili aşağıdakilerden hangisi söylenemez?

- A) Utangaçlığın yaş grupları üzerindeki etkisi karşılaştırmalı olarak belirlenmiştir.
B) Utangaçlığı aşmaları için bireylere çeşitli önerilerde bulunmak amaçlanmıştır.
C) Utangaçlığın oluşumunda belirleyici bireysel ve toplumsal faktörler ortaya konmuştur.
D) Utangaçlığın değişmeyen özelliklerinin ne olduğunu tespit etmeye odaklanılmıştır.
E) Farklı toplumlarda utangaçlığı tanımlama biçimlerini değerlendiren ölçütler geliştirilmiştir.

26. Bu parçaya göre aşağıdakilerden hangisinin utangaçlığa yol açtığı söylenemez?

- A) Alışılmadık koşullarla yüz yüze gelinmesi
B) Yeni bir sosyal çevreye girme zorunluluğu
C) Kişinin üzerindeki toplumsal baskı hissi
D) Teknolojik aletlerin yarattığı yalıtılmışlık duygusu
E) Akran rekâbetinin başarıdaki belirleyiciliği

27 - 30. soruları aşağıdaki bilgilere göre birbirinden bağımsız olarak cevaplayınız.

Bir konserde Ayşe, Burak, Cemil, Defne, Erdem, Funda ve Gizem adlı sanatçılar; K, L ve M adlı bestecilere ait şarkıları belli bir sırada söylemişlerdir. Her kişinin sadece bir şarkı söylediği konsere ilişkin kimi bilgiler şu şekildedir:

- Aynı besteciye ait şarkılar, art arda söylenmemiştir.
- İlk sırada L, son sırada K adlı besteciye ait şarkılar söylenmiştir.
- Gizem üçüncü sırada şarkı söylemiştir.
- Altıncı sırada şarkı söyleyen Funda, L adlı besteciye ait bir şarkı söylememiştir.
- Erdem, K adlı besteciye ait bir şarkı söylemiştir.
- Erdem, Gizem'den önce şarkı söylemiştir.
- Ayşe'den hemen sonra Defne şarkı söylemiştir.
- Üçüncü ve beşinci sırada aynı besteciye ait şarkı söylenmiştir.

27. Buna göre;

- Ayşe,
- Burak,
- Cemil

adlı kişilerden hangileri M adlı besteciye ait bir şarkı söylemiş olabilir?

- A) Yalnız I B) Yalnız II C) Yalnız III
D) I ve II E) II ve III

28. Defne ---- sırada ---- adlı besteciye ait bir şarkı söylemiştir.

Bu cümlede boş bırakılan yerlere sırasıyla aşağıdakilerden hangisi getirilmelidir?

- A) ikinci - K B) ikinci - L
C) dördüncü - M D) beşinci - L
E) beşinci - M

29. Aşağıdakilerden hangisi kesin olarak bilinmektedir?

- A) K adlı besteciye ait toplam şarkı sayısı
B) L adlı besteciye ait toplam şarkı sayısı
C) M adlı besteciye ait toplam şarkı sayısı
D) Birinci sırada şarkı söyleyen kişi
E) Yedinci sırada şarkı söyleyen kişi

30. Ayşe ve Burak'ın aynı bestecinin şarkılarını söyledikleri biliniyorsa aşağıdakilerden hangisi doğrudur?

- A) Cemil ve Defne aynı bestecinin şarkılarını söylemiştir.
B) Ayşe ve Erdem farklı bestecilerin şarkılarını söylemiştir.
C) Burak ve Cemil aynı bestecinin şarkılarını söylemiştir.
D) Defne ve Gizem farklı bestecilerin şarkılarını söylemiştir.
E) Funda ve Gizem aynı bestecinin şarkılarını söylemiştir.

$$31. \frac{\frac{1}{2} + \frac{3}{4} + \frac{5}{6}}{\frac{3}{4} - \frac{2}{3}}$$

işleminin sonucu kaçtır?

- A) 5 B) 10 C) 15 D) 20 E) 25

$$32. \frac{(-2)^3 + (-3)^3}{(-2)^2 - (-3)^2}$$

işleminin sonucu kaçtır?

- A) 3 B) 5 C) 6 D) 7 E) 9

$$33. \frac{\frac{\sqrt{3}}{\sqrt{2}} - \frac{\sqrt{2}}{\sqrt{3}}}{\sqrt{6}}$$

işleminin sonucu kaçtır?

- A)
- $\frac{1}{6}$
- B)
- $\frac{1}{3}$
- C)
- $\frac{1}{2}$
-
- D) 3 E) 6

34. A, B ve C birer rakam olmak üzere,

$$\begin{array}{r} AB5 \\ + CAB \\ \hline 1008 \end{array}$$

toplama işlemi veriliyor.

Buna göre, A + B + C toplamı kaçtır?

- A) 9 B) 10 C) 11 D) 12 E) 13

35. A, B, C, D, E sıfırdan ve birbirinden farklı rakamlar olmak üzere,

$$A \cdot B = A$$

$$7 - D = B$$

$$4 \div E = E$$

$$3 + C = A$$

eşitlikleri veriliyor.

Buna göre, A rakamının alabileceği değerler toplamı kaçtır?

- A) 15 B) 16 C) 17 D) 21 E) 24

36. a ve b gerçel sayıları için

$$\frac{a+2}{b+1} = \frac{2}{3}$$

$$\frac{a-1}{b-2} = \frac{1}{3}$$

olduğuna göre, a · b çarpımı kaçtır?

- A) 9 B) 10 C) 12 D) 15 E) 16

37. x gerçel sayısı için

$$2^{x-2} + 2^x + 2^{x+2} = 42$$

olduğuna göre, x kaçtır?

- A) 2 B) 3 C) 4

D) $\frac{3}{2}$

E) $\frac{5}{2}$

38.

$$\frac{x^3 - x^2 - x + 1}{x^3 - 2x^2 + x}$$

ifadesinin sadeleştirilmiş biçimi aşağıdakilerden hangisidir?

- A) x - 1 B) x C) x + 1

D) $\frac{1-x}{x}$

E) $\frac{x+1}{x}$

39. a, b ve c pozitif tam sayılar olmak üzere,

$$a + a \cdot b + a \cdot b \cdot c$$

ifadesi tek sayıdır.

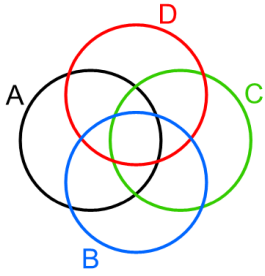
Buna göre,

- I. a
- II. a + b
- III. a + b + c

ifadelerinden hangileri her zaman tek sayıdır?

- A) Yalnız I B) Yalnız II C) Yalnız III
D) I ve II E) I ve III

40. Aşağıda, her biri boş kümeden farklı olan A, B, C ve D kümelerinin Venn şeması gösterimleri verilmiştir.



Buna göre,

- I. $(A \cap B) \setminus (C \cup D)$
- II. $(A \cap C) \setminus (B \cup D)$
- III. $(B \cap D) \setminus (A \cup C)$

kümelerinden hangileri kesinlikle boş kümedir?

- A) Yalnız I B) Yalnız II C) Yalnız III
D) II ve III E) I, II ve III

41. Gerçek sayılar kümesi üzerinde tanımlı f ve g fonksiyonları, her x gerçel sayısı için

$$f(x + 1) = g(x + 2) = x + 3$$

eşitliğini sağlamaktadır.

Buna göre,

$$\frac{g(5) + f(4)}{g(3) \cdot f(2) \cdot g(1)}$$

ifadesinin değeri kaçtır?

- A) $\frac{1}{8}$ B) $\frac{3}{8}$ C) $\frac{5}{8}$
D) $\frac{1}{4}$ E) $\frac{3}{4}$

42. a bir gerçel sayı olmak üzere,

$$|x - a| = a + 2$$

eşitliğini sağlayan x gerçel sayılarının çarpımının -16 olduğu biliniyor.

Buna göre, a kaçtır?

- A) 2 B) 3 C) 4 D) 5 E) 6

43. a, b ve c gerçel sayıları için

$$a \cdot c < 0 < a - b < c$$

olduğuna göre, aşağıdaki sıralamalardan hangisi doğrudur?

- A) $a < c < b$ B) $b < a < c$ C) $b < c < a$
D) $c < a < b$ E) $c < b < a$

44. İki basamaklı AB doğal sayısı 5'e, üç basamaklı BAB doğal sayısı 9'a tam bölünmektedir.

Buna göre, $A \cdot B$ çarpımı kaçtır?

- A) 25 B) 30 C) 35 D) 40 E) 45

45. Bir süt üreticisi sütün litresini 5 TL'den satmaktadır. Aslı, Buket ve Cansu isimli üç arkadaş bu üreticiden belirli miktarlarda süt satın alarak toplam 95 TL ödemişlerdir. Eğer bu üç arkadaştan her biri; Aslı'nın almış olduğu miktarda süt alsaydı bu üç arkadaş toplam 60 TL, Cansu'nun almış olduğu miktarda süt alsaydı bu üç arkadaş toplam 135 TL ödeyeceklerdi.

Buna göre; Buket, süt üreticisine kaç TL ödeme yapmıştır?

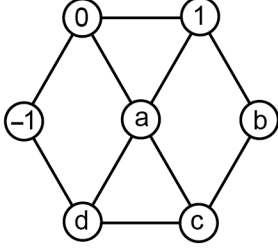
- A) 20 B) 25 C) 30 D) 35 E) 40

46. Bir kutunun içerisinde 7 farklı renkte ve her bir renge ait eşit ve çift sayıda boncuk bulunmaktadır. Elif bu kutudaki, bir renge ait boncukların tamamını ve geriye kalan her bir renge ait boncukların yarısını kullanarak bir kolye yapıyor.

Elif'in bu kolye yapımında kullandığı boncuk sayısı 16 olduğuna göre, başlangıçta kutuda bulunan boncuk sayısı kaçtır?

- A) 28 B) 42 C) 56 D) 70 E) 84

47. Aşağıdaki düzenekte, her birinin içinde bir sayı yazılı olan ve bazıları doğru parçası ile birbirine bağlı olan 7 daire verilmiştir. Bir doğru parçasıyla birbirine bağlı olan dairelere komşu daireler denir.

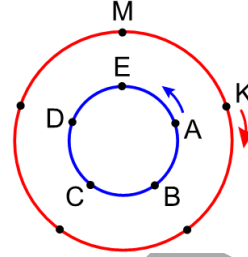


Bu düzenekte, her bir dairenin içinde yazılı olan sayı, bu daireye komşu olan dairelerdeki sayıların toplamına eşittir.

Buna göre, $a + b + c + d$ toplamı kaçtır?

- A) -2 B) -1 C) 0 D) 1 E) 2

48. Aşağıdaki şekilde, merkezleri ortak olan ve her birinin üzerinde eşit aralıklarla işaretlenmiş beş nokta bulunan dairesel iki koşu parkurundan büyük olanın yarıçapı, küçük olanın yarıçapının 2 katıdır.



Aylin küçük koşu parkurunda A noktasından, Kemal ise büyük koşu parkurunda K noktasından aynı anda harekete başlayarak şekilde gösterilen oklar yönünde aynı sabit hızla koşuyor.

Buna göre, Kemal ilk kez M noktasına geldiğinde Aylin hangi noktada olur?

- A) A B) B C) C D) D E) E

49. Biri mavi diğeri kırmızı olan iki çubuktan mavi olanın uzunluğu, kırmızı olanın uzunluğunun 2 katıdır. Can; mavi çubuğun uzunlukça % 20'sini, kırmızı çubuğun ise uzunlukça % 10'unu kesip attıktan sonra kalan parçaları şekildeki gibi uç uca yapıştırarak tek bir çubuk elde ediyor.



Buna göre; son durumda elde edilen bu çubuktaki kırmızı parçanın uzunluğu, elde edilen bu çubuğun uzunluğunun yüzde kaçtır?

- A) 30 B) 32 C) 36 D) 40 E) 42

50. İki basamaklı AB ve BC sayılarının her ikisi de bir doğal sayının karesine eşit ise üç basamaklı ABC sayısına ortakareli sayı denir.

Örneğin, $36 = 6^2$ ve $64 = 8^2$ olduğu için 364 bir ortakareli sayıdır.

Buna göre, en büyük ortakareli sayı ile en küçük ortakareli sayının toplamı kaçtır?

- A) 528 B) 634 C) 745 D) 813 E) 980
51. Damla; daire numaraları sırasıyla 1, 2, 3, 4 ve 5 olan beş komşusundan rastgele ikisini seçerek bu iki komşusuna birer tane mektup yollamaya karar veriyor.

Buna göre, Damla'nın seçtiği komşularının dairelerinin numaraları toplamının bir asal sayı olma olasılığı kaçtır?

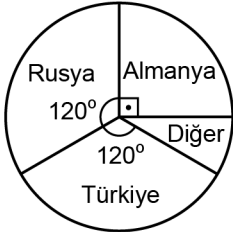
- A) $\frac{1}{6}$ B) $\frac{1}{5}$ C) $\frac{1}{4}$
D) $\frac{1}{3}$ E) $\frac{1}{2}$

52 - 53. soruları aşağıdaki bilgilere göre birbirinden bağımsız olarak cevaplayınız.

Bir otele bir yıl boyunca gelen her bir müşteri, otel girişinde iki sorudan oluşan aşağıdaki anketi doldurmuştur.

Müşteri Anketi	
Hangi ülkede yaşıyorsunuz?	
Türkiye <input type="checkbox"/>	Almanya <input type="checkbox"/>
Rusya <input type="checkbox"/>	Diğer <input type="checkbox"/>
Otelimizi nereden duydunuz?	
Tur şirketi <input type="checkbox"/>	İnternet <input type="checkbox"/>
Öneri-tavsiye <input type="checkbox"/>	Diğer <input type="checkbox"/>

Her bir müşterinin her bir soruya tek bir cevap vererek doldurduğu bu anketin sonuçlarına göre, bu yıl boyunca otele gelen müşterilerin yaşadıkları ülkelere göre sayıca dağılımları Şekil 1'deki, bu oteli duydukları kaynaklara göre sayıca dağılımları ise Şekil 2'deki dairesel grafikte gösterilmiştir.



Şekil 1



Şekil 2

52. Yaşadığı ülke olarak "Türkiye" seçeneğini işaretleyen müşteri sayısı ile "Rusya" seçeneğini işaretleyen müşteri sayısının toplamı 320'dir.

Buna göre, oteli duyduğu kaynak olarak "Öneri - tavsiye" seçeneğini işaretleyen müşteri sayısı kaçtır?

- A) 180 B) 165 C) 150 D) 135 E) 120

53. Oteli duyduğu kaynak olarak "Tur şirketi" seçeneğini işaretleyen müşteri sayısı, "İnternet" seçeneğini işaretleyen müşteri sayısının $\frac{4}{3}$ 'üne eşittir.

Oteli duyduğu kaynak olarak "Diğer" seçeneğini işaretleyen müşteri sayısı 90 olduğuna göre, bu otele yıl boyunca gelen toplam müşteri sayısı kaçtır?

- A) 270 B) 360 C) 450 D) 540 E) 630

54 - 56. soruları aşağıdaki bilgilere göre birbirinden bağımsız olarak cevaplayınız.

Üç basamaklı iki doğal sayıdan birinin rakamları toplamı, diğerinin rakamları toplamına eşit ise bu iki sayıya eş toplamı denir.

Örneğin, 147 ile 363 sayıları eş toplamlıdır.

54. Buna göre,

- I. 100
- II. 111
- III. 999

sayılarından hangilerinin kendisinden başka eş toplamı olduğu bir sayı yoktur?

- A) Yalnız I B) Yalnız II C) I ve II
D) I ve III E) II ve III

55. 611 sayısı ile eş toplamı olan en büyük sayı ile en küçük sayının toplamı kaçtır?

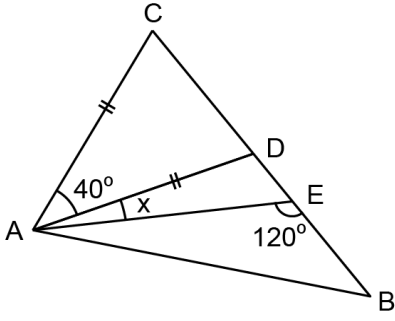
- A) 869 B) 881 C) 907 D) 923 E) 945

56. Eş toplamı olan iki sayının toplamı 221'dir.

Buna göre, aşağıdakilerden hangisi bu iki sayıdan her biri ile eş toplamı olan bir sayıdır?

- A) 102 B) 211 C) 320 D) 411 E) 502

57.



ABC üçgen

$|AC| = |AD|$

$m(\widehat{CAD}) = 40^\circ$

$m(\widehat{AEB}) = 120^\circ$

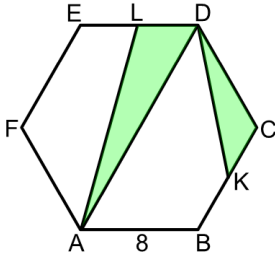
$m(\widehat{DAE}) = x$

Şekilde, D ve E noktaları BC kenarı üzerindedir.

Buna göre, x kaç derecedir?

- A) 10 B) 15 C) 18 D) 21 E) 25

58.



ABCDEF düzgün altıgen

$|AB| = 8$ birim

Şekilde, K ve L noktaları buldukları kenarların orta noktalarıdır.

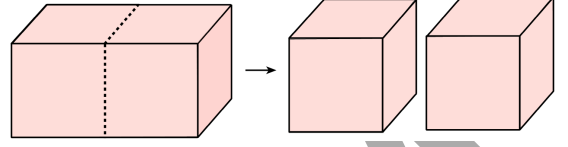
Buna göre, boyalı bölgelerin alanları toplamı kaç birimkaredir?

- A)
- $16\sqrt{3}$
- B)
- $18\sqrt{3}$
- C)
- $20\sqrt{3}$

D) $22\sqrt{3}$

E) $24\sqrt{3}$

59. Dikdörtgenler prizması biçimindeki bir tahta, şekildeki gibi kesikli çizgilerden geçen bir düzlem boyunca kesilerek özdeş iki tane küp şeklinde tahta parçası elde ediliyor.



Elde edilen bu iki tahta parçasının yüzey alanları toplamı, başlangıçtaki tahtanın yüzey alanından 8 birimkare fazladır.

Buna göre, elde edilen tahta parçalarından birinin yüzey alanı kaç birimkaredir?

- A) 16 B) 20 C) 24 D) 28 E) 32

60. c bir pozitif gerçel sayı olmak üzere, dik koordinat düzleminde

$y = c, y = x, y = \frac{x}{2}$

doğruları arasında kalan kapalı sınırlı bölgenin alanı 32 birimkaredir.

Buna göre, c kaçtır?

- A) 4 B) 6 C) 8 D) 10 E) 12

1. Bu testte 60 soru vardır.

2. Cevaplarınızı, cevap kâğıdının Genel Kültür Testi için ayrılan kısmına işaretleyiniz.

1. Tarih öğretmeni: "Mani dinine ait kitaplarda dinî ve dünyevi sahneleri canlandıran minyatürler bulunmaktadır. Minyatürlerde rahipler, prensler, savaş sahneleri ve süvariler yer almaktadır. Bu eserlerin bulunduğu devletin sınırları içinde Hoça, Bezeklik, Turfan ve Bulak gibi önemli kültür sanat merkezleri vardır." demiştir.

Tarih öğretmenin hakkında bilgiler verdiği bu Türk devleti aşağıdakilerden hangisidir?

- A) Hunlar B) Avarlar C) Uygurlar
D) Göktürkler E) Hazarlar

2. Sivas Gök Medrese, Sultan Han Kervansarayı ve Konya Alaeddin Camii aşağıdakilerden hangisine aittir?

- A) Anadolu Selçuklu Devleti
B) Büyük Selçuklu Devleti
C) Karamanoğulları
D) Germiyoğulları
E) Osmanlı Devleti

3. Selçuklular Dönemi'nde devlet işleri "divan-ı saltanat" denilen büyük divanda görüşülüp karara bağlanırdı. Ayrıca bu divana bağlı devletin mali, askerî, adli ve diğer konularının görüşüldüğü başka divanlar da vardı.

Aşağıdakilerden hangisi bu divanlardan biri değildir?

- A) Divan-ı İstifa B) Divan-ı Arz
C) Divan-ı İşraf D) Divan-ı Hümayun
E) Divan-ı Mezalim

4. Osmanlı Devleti'ndeki kadırlarla ilgili aşağıdakilerden hangisi söylenemez?

- A) Berat sahibi oldukları
B) Vergiden muaf oldukları
C) Vakıfları denetledikleri
D) Davalarda hüküm verdikleri
E) Cezaları infaz ettikleri

5. Fatih Sultan Mehmet'in İstanbul'daki faaliyetlerini gören dönemin tarihçisi Neşri, "İstanbul'u Sultan Mehmet yapmıştır." demiştir.

Fatih'in aşağıdaki faaliyetlerinden hangisinin, Neşri'nin bu sözünü doğruladığı söylenemez?

- A) Şehzadeleri sancaklara göndermesi
B) Birçok vakıf kurması
C) Kiliselere haklar vermesi
D) Farklı etnik unsurları İstanbul'a göç ettirmesi
E) Bilgin ve sanatçılar getirtmesi

6. Aşağıdakilerden hangisi, Osmanlı Devleti'nde coğrafya ve astronomi alanında ön plana çıkmış kişilerden biri değildir?

- A) Ali Kuşçu B) Piri Reis
C) Seydi Ali Reis D) Matrakçı Nasuh
E) Naima

7. Osmanlı Devleti'nin kurucusu Osman Bey *Gazi* unvanı kullanırken Fatih Sultan Mehmet *Kayser-i Rum* (Roma Sezarı) ile *Sultânü'l-Berreyn ve Hakanü'l-Bahreyn* (İki Karanın Sultanı ve İki Denizin Hakanı), Yavuz Sultan Selim *Hâdimü'l-Harameyni'sh-Şerifeyn* (Kutsal yerlerin hizmetkârı), Kanuni Sultan Süleyman ise *Halife-i Rûy-i Zemin* (Yeryüzünün Halifesi) gibi unvanlar kullanmışlardır.

Osmanlı padişahlarının kullandığı bu unvanlarla ilgili aşağıdakilerden hangisi söylenemez?

- A) İslamiyet öncesi unvanları kullanmayı bırakmışlardır.
 B) İslam dünyasında etkili olmayı amaçlamışlardır.
 C) İktidarlarını, kullandıkları unvanlarla teyit etmişlerdir.
 D) Farklı hükümdarlık geleneklerinin varisleri olduklarını iddia etmişlerdir.
 E) Zaman içerisinde evrensel hükümdarlık iddiasında bulunmuşlardır.

8. Aşağıdakilerden hangisi XVI. yüzyıl sonlarında, Osmanlı Devleti'nde "Büyük Kaçgun" olarak adlandırılan göç hareketlerinin nedenlerinden biri değildir?

- A) Yönetici suistimallerinin artması
 B) Vergi yükünün ağırlaşması
 C) Art arda kuraklıkların yaşanması
 D) Asayişin sarsılması
 E) Devşirme sisteminin bozulması

9. Aşağıdakilerden hangisi Osmanlı Devleti'nin XIX. yüzyılda geleneksel kurumların dışında açtığı yardım kuruluşlarından biridir?

- A) Mızıkai Hümayun
 B) Darülfünun-ı Şahane
 C) Şirket-i Hayriye
 D) Hilal-i Ahmer Cemiyeti
 E) Sanayi-i Nefise Mektebi

10. Sultan Abdülmecid Dönemi'nde İngiltere ve Fransa'nın Osmanlı Devleti'ne borç verme konusunda istekli davranmalarında;

- I. Osmanlı dış politikasını etkilemek,
 II. Osmanlı iç işlerine karışmak,
 III. Osmanlı yerli üretimini desteklemek

düşüncelerinden hangilerinin etkili olduğu söylenebilir?

- A) Yalnız I
 B) I ve II
 C) I ve III
 D) II ve III
 E) I, II ve III

11. Osmanlı Devleti'nin dış borçlarını tahsil etmek üzere 1881 yılında kurulan ve maliye üzerinde denetim sağlayan teşkilat aşağıdakilerden hangisidir?

- A) Osmanlı Bankası
 B) Hazine-i Hassa
 C) İrad-ı Cedit
 D) İtibar-ı Millî Bankası
 E) Düyûn-ı Umumiye

12. Balkan savaşları sonunda, 1913'te imzalanan antlaşmalarla Osmanlı Devleti'nin Trakya sınırını aşağıdakilerden hangisi oluşturmuştur?

- A) Meriç Nehri B) Istranca Dağları
C) Midye-Enez Hattı D) Çatalca
E) Yeşilköy

13. Mustafa Kemal Paşa Birinci Dünya Savaşı sırasında aşağıdaki yerlerden hangisinde görev yapmıştır?

- A) Mısır B) Basra C) Hicaz
D) Suriye E) Galiçya

14. Mustafa Kemal Paşa, 12 Ocak 1920'de toplanan Osmanlı Mebusan Meclisi'nde ---- milletvekili, 23 Nisan 1920'de toplanan TBMM'de ---- milletvekili oldu.

Boş bırakılan yerlere sırasıyla aşağıdakilerden hangisi getirilmelidir?

- A) Sivas - İstanbul B) Amasya - Sivas
C) Erzurum - Ankara D) Samsun - Ankara
E) Erzurum - Afyon

15. Milli Mücadele'de; "Vatanın bütünlüğünün ve milletin bağımsızlığının tehlikede olduğu" vurgusu ilk kez aşağıdakilerin hangisinde yer almıştır?

- A) Havza Genelgesi B) Erzurum Kongresi
C) Sivas Kongresi D) Amasya Genelgesi
E) Amasya Görüşmesi

16. Millî Mücadele yıllarında General Harbord, Osmanlı ülkesinde yaşanan aşağıdaki sorunlardan hangisiyle ilgili bir rapor hazırlamak için, ABD Başkanı Wilson tarafından görevlendirilmiştir?

- A) Ermeni B) Filistin C) Musul
D) Pontus E) Boğazlar

17. Yunanlıların, 6 Ocak 1921 tarihinde ileri harekâtıyla başlayan Birinci İnönü Savaşı, 11 Ocak'ta düşman ordusunun Bursa civarındaki mevzilerine çekilmeleriyle sonuçlanmıştır. Yunan karargâhı, bu savaşla ilgili resmî bildirisini ancak 17 Ocak'ta yayımlamış ve Yunan harekâtını basit bir keşif hücumu olarak nitelendirmiştir.

Bu bilgiye dayanarak aşağıdakilerden hangisine ulaşılamaz?

- A) Yunan halkından başarısızlığın gizlenmeye çalışıldığına
B) Yunan karargâhının İnönü Savaşı'nın önemini azaltmak istediğine
C) Yunan ordusunun moralinin yüksek tutulmasının amaçlandığına
D) Türk askerinin başarılı bir savunma yaptığına
E) Yunan ordusunun saldırı gücünün kırıldığına

18. Aşağıdakilerden hangisi TBMM Hükûmetinin 1921 yılında toplanan Londra Konferansı'nda, İtilaf Devletleri'ne kabul ettirmeye çalıştığı siyasal belgedir?

- A) Misakımillî
B) Teşkilat-ı Esasiye Kanunu
C) Kanunuesasi
D) Tekâlif-i Milliye Emirleri
E) Misak-ı İktisadi

19. 20 Nisan 1924 tarihinde TBMM’de kabul edilen **Teşkilat-ı Esasiye Kanunu’nun yürürlüğe giren ilk şekliyle ilgili aşağıdakilerden hangisi yanlıştır?**

- A) Egemenliğin kayıtsız şartsız millete ait olduğu ifade edilmiştir.
- B) Türkiye Devleti’nin bir cumhuriyet olduğu belirtilmiştir.
- C) Kamu özgürlükleri düzenlenmiştir.
- D) Türkiye Cumhuriyeti’nin dininin İslam olduğu vurgulanmıştır.
- E) Kadınlara seçme ve seçilme hakkı tanınmıştır.

20. Atatürk *Nutuk*’ta “Milletimizin kurduğu yeni devletin mukadderatına, işlerine, bağımsızlığına, unvanı ne olursa olsun hiç kimseyi karıştıramayız.” demiştir.

Aşağıdakilerden hangisi Atatürk’ün bu ifadeleri doğrultusunda gerçekleşen siyasi gelişmelerden biri değildir?

- A) Ankara’nın başkent olması
- B) Irak sınırının belirlenmesi
- C) Kabotaj Kanunu’nun çıkarılması
- D) Merkez Bankasının kurulması
- E) Yabancı okulların düzenlenmesi

21. Aşağıdakilerden hangisi Atatürk Dönemi’nde şeker fabrikası kurulan yerlerden biri **değildir**?

- A) Uşak
- B) Alpullu
- C) Eskişehir
- D) Turhal
- E) Divriği

22. Mustafa Kemal Paşa, 17 Şubat 1923’te İzmir’de toplanan Türkiye İktisat Kongresi’nin açılış konuşmasında ekonomik bağımsızlığın önemine vurgu yaparak askerî zaferlerin ekonomik başarılarla taçlandırılması gerektiğini, ekonomik bağımsızlığın siyasi bağımsızlık kadar önemli olduğunu ifade etmiştir.

Buna göre;

- I. Kabotaj Kanunu’nun kabul edilmesi,
- II. kapitülasyonların kaldırılması,
- III. Nisab-ı Müzakere Kanunu’nun çıkarılması

gelişmelerinden hangileri ekonomik bağımsızlığın sağlanması amacıyla gerçekleştirilmiştir?

- A) Yalnız I
- B) Yalnız II
- C) I ve II
- D) I ve III
- E) II ve III

23. Atatürk bir konuşmasında “Cumhuriyetimiz henüz çok gençtir. Geçmişten kendine miras kalan bütün hayati işler, zamanın gereklerini karşılayacak düzeyde değildir. Siyasi ve fikrî hayatta olduğu gibi iktisadi işlerde de, bireylerin girişimlerinin sonuçlarını beklemek doğru olmaz.” demiştir.

Atatürk’ün bu konuşması aşağıdaki ilkelerden hangisiyle ilgilidir?

- A) Laiklik
- B) Cumhuriyetçilik
- C) Devletçilik
- D) Milliyetçilik
- E) Halkçılık

24. Atatürk'ün, 1 Kasım 1936 tarihli TBMM'nin açılış konuşmasında "Daima kendisiyle dostluğa çok ehemmiyet verdiğimiz Fransa ile aramızda, tek ve büyük mesele budur. Bu işin hakikatini bilenler ve hakkı sevenler, alâkamızın şiddetini ve samimiyetini iyi anlarlar ve tabii görürler." ifadesini kullanmasına neden olan dış politika sorunu aşağıdakilerden hangisidir?

- A) Musul B) Hatay
C) Yabancı Okullar D) Boğazlar
E) Kapitülasyonlar

25. Aşağıdakilerden hangisi İkinci Dünya Savaşı sırasında Müttefiklerin, Türkiye'nin savaşa girmesini sağlamak amacıyla Türk Hükümeti ile müzakere yaptığı konferanslardan biridir?

- A) Potsdam B) Kahire C) Kazablanka
D) Yalta E) Quebec

26. Aşağıdakilerden hangisi Soğuk Savaş yıllarında varlığını sürdüren Varşova Paktı ülkelerinden biri değildir?

- A) Polonya B) Avusturya C) Çekoslovakya
D) Bulgaristan E) Macaristan

27. 1930 yılında imzalanan Dostluk, Tarafsızlık, Uzlaşma ve Hakem Antlaşması ile başlayan Türk-Yunan dostluğu, 1950'li yılların ortalarında bozulmaya başlamıştır.

Türk-Yunan dostluğunun bozulmasında, Yunanistan'ın aşağıdaki politikalarından hangisi etkili olmuştur?

- A) Kıbrıs Sorunu'na müdahale etmesi
B) II. Dünya Savaşı'na İngiltere'nin yanında katılması
C) Kuzey Atlantik Paktından ayrılması
D) Etabli konusunda zorluk çıkarması
E) Balkan Paktına üye olması

28. Platolar, geniş düzlüklerin akarsular tarafından derin bir şekilde yarılarak parçalanması sonucu oluşmuşlardır. Türkiye'de platolara daha çok Orta Anadolu Bölgesi'nde rastlanır.

Aşağıdakilerden hangisi bu bölgede yer alan platolardan biri değildir?

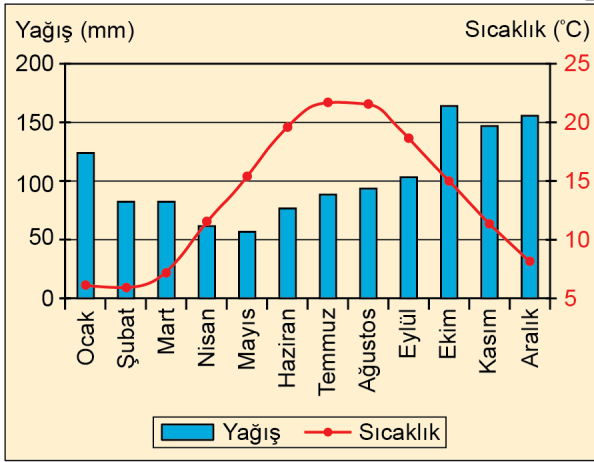
- A) Obruk Platosu B) Bozok Platosu
C) Taşeli Platosu D) Haymana Platosu
E) Uzunyayla Platosu

29. Aşağıdaki haritada bazı alanlar numaralandırılarak gösterilmiştir.



Bu alanların hangisinde 21 Haziran tarihinde gündüz süresi daha uzundur?

- A) I B) II C) III D) IV E) V
30. Aşağıda, bir il merkezine ait aylık ortalama yağış ve sıcaklık grafiği verilmiştir.



Grafikteki bilgiler dikkate alındığında bu il merkezinin aşağıdakilerden hangisi olduğu söylenebilir?

- A) Zonguldak B) Ankara C) İzmir
D) Çanakkale E) Ardahan

31. I. Bazı doğal göllerin kuruması
II. Peribacası oluşumu
III. Çökme obruklarının sayıca artması

Yukarıdakilerden hangileri Türkiye’de insanlar tarafından doğal kaynaklar üzerinde gerçekleşen baskının artması sonucunda ortaya çıkmıştır?

- A) Yalnız I B) Yalnız II C) Yalnız III
D) I ve III E) II ve III

32. Türkiye’de sıcaklık kısa mesafelerde önemli değişimler göstermektedir.

Bu durum üzerinde;

- I. bakı,
II. yağış,
III. yükselti,
IV. enlem

faktörlerinden hangileri daha fazla etkili olmaktadır?

- A) I ve II B) I ve III C) I ve IV
D) II ve III E) III ve IV

33. Türkiye’de yüksekliğe bağlı bitki kuşaklarının oluşmasının temel nedeni aşağıdakilerden hangisidir?

- A) Toprak türlerinin değişmesi
B) Erozyonun artması
C) Kar yağışının azalması
D) Sıcaklığın düşmesi
E) Rüzgâr hızının artması

34. Türkiye’de en geniş alanı şekillendiren dış kuvvet aşağıdakilerden hangisidir?

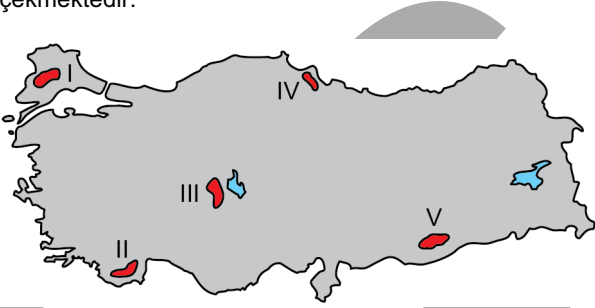
- A) Akarsular B) Buzullar
C) Rüzgârlar D) Dalgalar
E) Kütle hareketleri

35. Şehirlerin büyümesi ve etki alanlarının genişlemesi birçok açıdan olumluken diğer yandan doğal değerlerin bozulması, gürültü ve hava kirliliği gibi birçok olumsuz soruna da yol açmaktadır.

Aşağıdaki şehirlerin hangisinde bu tür olumsuz etkilerin daha az olması beklenir?

- A) Denizli B) Çorum C) Şanlıurfa
D) Gaziantep E) Çankırı

36. Türkiye’de nüfusun az olduğu alanlara bakıldığında yüksek, eğimli, engebeli ve dağlık alanlar dikkat çekmektedir.



Yukarıdaki haritada numaralandırılarak gösterilen yerlerden hangisi bu duruma örnek gösterilebilir?

- A) I B) II C) III D) IV E) V

37. Anadolu’daki kırsal yerleşmelerin bir kısmı dağlık alanların eteklerinde kurulmuştur.

Aşağıdakilerden hangisi bu durumun nedenleri arasında daha az etkilidir?

- A) Su kaynakları bakımından zengin olması
B) Tarımsal faaliyette çeşitlilik sunması
C) Tarım arazilerinin yakınında yer alması
D) Bitki örtüsünün çeşitlilik arz etmesi
E) Topoğrafyanın yerleşime uygun olması

38. Türkiye maden çeşitliliği bakımından dünyanın sayılı ülkeleri arasında yer almakla birlikte bu madenlerin rezerv ve tenör durumu her madenin işletmeye açılmasına imkân vermemektedir. Madenlerin işletmeye açılması için o madenin ekonomik bakımdan verimli olması gerekir.

Buna göre Türkiye’de, aşağıda bulunan madenlerden hangisi bu özelliklere daha az sahiptir?

- A) Bor B) Demir C) Boksit
D) Krom E) Volfram

39. Günümüzde Göbeklitepe olarak bilinen, avcı ve toplayıcı toplumların inşa ettiği ve Anadolu’nun en eski inanç merkezi olduğu kabul edilen ören yeri aşağıdaki illerin hangisinde bulunmaktadır?

- A) Çorum B) Konya C) Şanlıurfa
D) Nevşehir E) Kayseri

40. Aşağıdakilerden hangisi Türkiye'nin dahil olduğu uluslararası doğal gaz boru hattı projelerinden biri değildir?

- A) Mısır - Türkiye Boru Hattı
B) Irak - Türkiye Boru Hattı
C) Azerbaycan - Türkiye Boru Hattı
D) Transmed Boru Hattı
E) Mavi Akım Projesi

41. Türkiye'de geniş yer kaplayan platolarda en fazla yapılan ekonomik faaliyet tarım ve hayvancılıktır.

Aşağıdaki platolardan hangisi bu özelliğin dışında kalmaktadır?

- A) Erzurum - Kars - Ardahan
B) Gaziantep
C) Çatalca - Kocaeli
D) Uzunyayla
E) Haymana

42. • Kastamonu
• Erzurum
• Uşak
• Konya

Yukarıdaki illerin tümünde bulunan sanayi tesisi aşağıdakilerden hangisidir?

- A) Şeker fabrikası
B) Tütün fabrikası
C) İlaç fabrikası
D) Vagon fabrikası
E) Kâğıt fabrikası

43. Türkiye'deki önemli yatakları Kastamonu-Küre, Elazığ-Maden ve Artvin-Murgul olan yer altı kaynağı aşağıdakilerden hangisidir?

- A) Krom
B) Demir
C) Bakır
D) Kurşun
E) Boksit

44. Aşağıdakilerden hangisi Türkiye'de kış turizmi bakımından daha önce gelişme göstermiştir?

- A) Uludağ
B) Palandöken
C) Erciyes Dağı
D) Ilgaz Dağı
E) Kartalkaya

45. Türkiye'de tarımı etkileyen faktörler göz önüne alındığında aşağıdakilerden hangisinin yapılması diğerlerine göre daha az önceliklidir?

- A) Devlet desteklerinin artırılması
B) Pazar şartlarının iyileştirilmesi
C) Kaliteli tohum üretimi
D) Sulama olanaklarının geliştirilmesi
E) Organik gübre kullanımının yaygınlaştırılması

46. 1982 Anayasası'na göre, milletvekili seçilebilmek için en az hangi düzeyde mezuniyet gerekir?

- A) İlkokul
B) Ortaokul
C) Lise
D) Ön lisans
E) Lisans

47. 1982 Anayasası'na göre, bakanları atama görev ve yetkisi aşağıdakilerden hangisine aittir?

- A) Yüksek Seçim Kurulu
- B) Millî Güvenlik Kurulu
- C) Cumhurbaşkanı
- D) Anayasa Mahkemesi
- E) Türkiye Büyük Millet Meclisi

48. Aşağıdakilerden hangisi Türk vatandaşlarının, milletvekili genel seçimlerinde oy kullanabilmesi için aranan koşullardan biridir?

- A) Taksirli bir suçtan hüküm giymemiş olma
- B) Belli bir yaşı doldurmuş olma
- C) Yurt içinde bulunma
- D) Okuryazar olma
- E) En az ilkokul mezunu olma

49. I. Bölge idare mahkemesi
II. Danıştay
III. Vergi mahkemesi

1982 Anayasası'na göre, yukarıdakilerden hangileri yüksek mahkemeler arasında yer alır?

- A) Yalnız I
- B) Yalnız II
- C) Yalnız III
- D) I ve III
- E) I, II ve III

50. I. Belediye meclisi üyeleri
II. Türkiye Büyük Millet Meclisi üyeleri
III. İl genel meclisi üyeleri

Yukarıdakilerden hangileri mahallî idareler seçimlerinde seçilir?

- A) Yalnız I
- B) Yalnız II
- C) I ve III
- D) II ve III
- E) I, II ve III

51. 5393 sayılı Belediye Kanunu'na göre aşağıdakilerden hangisi belediyenin organlarından biridir?

- A) Belediye heyeti
- B) Belediye başkanı
- C) Belediye komisyonu
- D) Belediye genel sekreterliği
- E) Belediye idare kurulu

52. 4721 sayılı Türk Medeni Kanunu'na göre erginlik kaç yaşın doldurulmasıyla başlar?

- A) 14
- B) 15
- C) 16
- D) 17
- E) 18

53. Aşağıdakilerden hangisi hukukun yardımcı kaynaklarından biridir?

- A) Kanunlar
- B) Usulüne göre yürürlüğe konulmuş uluslararası anlaşmalar
- C) Bilimsel görüşler
- D) Yönetmelikler
- E) Cumhurbaşkanlığı kararnameleri

54. Aşağıdakilerden hangisi bir kimsenin kan hısmıdır?

- A) Nişanlısı B) Kayınvalidesi C) Süt kardeşi
D) Büyükanesi E) Baldızı

55. İçişleri bakanlığına bağlı, afet ve acil durumlara ilişkin süreçlerin aktif yönetimi için gerekli çalışmaları yürütmek, ilgili kurum ve kuruluşlar arasında koordinasyon sağlamak ve bu alanda politikalar üretmekle görevli kurumun kısa adı aşağıdakilerden hangisidir?

- A) AFAD B) ATAM
C) TÜBİTAK D) TİKA
E) ASELSAN

56. Anadolu Ajansının kurulmasına katkı sağlamış, İzmir'in işgali sonrası Sultanahmet Meydanı'nda yapılan mitingdeki konuşmasıyla tanınan, *Sinekli Bakkal* ve *Ateşten Gömlek* adlı romanların yazarı aşağıdakilerden hangisidir?

- A) Safiye Ali B) Süreyya Ağaoğlu
C) Mevhibe İnönü D) Halide Edip Adıvar
E) Semiha Es

57. Sultan II. Abdülhamid tarafından kurulan; din, dil, ırk, sınıf ve cinsiyet farkı gözetmeksizin bakıma muhtaç yaşlı, engelli ve kimsesiz bireylere günümüzde de hizmet veren kurum aşağıdakilerden hangisidir?

- A) Yeşilay B) Darülaceze C) Darülfünun
D) Darülbeyaz E) Darülelhan

58. Öldüğü günü kavuşma vakti olarak tanımlanmasından dolayı bu güne "şeb-i arûs" (düğün gecesi) denilen ve ölüm yıl dönümü bu adla anılan İslam âlimi aşağıdakilerden hangisidir?

- A) Yunus Emre
B) Hacı Bektaş-ı Velî
C) Mevlânâ Celâleddîn-î Rumî
D) Hacı Bayram-ı Velî
E) Ahmet Yesevi

59. 2020 yılında, Azerbaycan ile Ermenistan arasında çatışmalara neden olan bölge aşağıdakilerden hangisidir?

- A) Dağlık Karabağ B) Kırım
C) Arakan D) Kuzey Osetya
E) Pencap

60. TEMA vakfının kurucu onursal başkanlığını yapan, 2020 yılında hayatını kaybeden ve Toprak Dede olarak da bilinen kişi aşağıdakilerden hangisidir?

- A) Ahmet Mete Işıkara B) Fuat Sezgin
C) Halil İncalık D) Ara Güler
E) Hayrettin Karaca

SINAVDA UYULACAK KURALLAR

1. Sınav salonunda saate entegre kamera ile kayıt yapılıyor ise kamera kayıtlarının incelenmesinden sonra sınav kurallarına uymadığı tespit edilen adayların sınavları, ÖSYM Yönetim Kurulunca geçersiz sayılacaktır.
2. **Cep telefonu ile sınava girmek kesinlikle yasaktır.** Adayların sınav binasına; her türlü delici ve kesici alet, ateşli silah, çanta, cüzdan, cep telefonu, saat (kol saati ve her türlü saat), anahtarlık, her türlü araç anahtarı, kablosuz iletişim sağlayan bluetooth ve benzeri cihazlar ile; kulaklık, kolye, küpe, yüzük (**alyans hariç**), bilezik broş ve diğer takılar, her türlü plastik, cam eşya (**şeffaf/numaralı gözlük hariç**), plastik ve metal içerikli eşyalar (**başörtü için kullanılan boncuklu/boncuksuz toplu iğne, para, anahtarlıksız basit anahtar, ulaşım kartı, basit tokalı kemer, basit tel toka ve basit piercing (taşsız, metal top veya sivri uçlu) hariç**) banka/kredi kartı vb. kartlarla, her türlü elektronik/mekanik cihaz ve her türlü müsvedde kâğıt, defter, kalem, silgi, kalemtüraş, kitap, ders notu, sözlük, dergi, gazete ve benzeri yayınlar, cetvel, pergel, açıölçer ve bu gibi araçlarla, yiyecek içecek (**şeffaf pet şişe içerisinde bandajı çıkarılmış su hariç**), ilaç ve diğer tüketim maddeleri ile gelmeleri yasaktır. Bu tür eşya, araç-gereçlerle sınav girmiş adaylar mutlaka Salon Tutanağı'na yazılacak, bu adayların sınavı geçersiz sayılacaktır. **Ancak, ÖSYM Başkanlığı tarafından belirlenen Engelli ve Yedek Sınav Evrakı Yönetim Merkezi (YSYM) binalarında sınava girecek olan engelli adayların sınav giriş belgelerinde yazılı olan araç-gereçler, cihazlar vb. yukarıda belirtilen yasakların kapsamı dışında değerlendirilecektir.**
3. Bu sınav için verilen cevaplama süresi **130 dakikadır (2 saat 10 dakika)**. Sınav başladıktan sonra **ilk 100** dakika içinde adayın sınavdan çıkmasına kesinlikle izin verilmeyecektir. **Bu süre dışında, cevaplama sınav bitmeden tamamlarsanız cevap kâğıdınızı ve soru kitapçığınızı salon görevlilerine teslim ederek salonu terk edebilirsiniz. Bildirilen sürele aykırı davranışlardan adayın kendisi sorumludur.**
4. **Sınav salonundan ayrılan aday, her ne sebeple olursa olsun, tekrar sınav salonuna alınmayacaktır.**
5. Sınav süresince görevlilerle konuşmak, görevlilere soru sormak yasaktır. Aynı şekilde görevlilerin de adaylarla yakından ve alçak sesle konuşmaları ayrıca adayların birbirinden kalem, silgi vb. şeyleri istemeleri kesinlikle yasaktır.
6. Sınav sırasında, görevlilerin her türlü uyarısına uymak zorundasınız. Sınavınızın geçerli sayılması, her şeyden önce, sınav kurallarına uymanıza bağlıdır. Kurallara aykırı davranışta bulunanlar ve yapılacak uyarılara uymayanlar Salon Tutanağı'na yazılacak ve sınavları geçersiz sayılacaktır.
7. Sınav sırasında kopya çeken, çekmeye kalkışan, kopya veren, kopya çekilmesine yardım edenler Salon Tutanağı'na yazılacak ve bu adayların sınavları geçersiz sayılacaktır. Adayların test sorularına verdikleri cevapların dağılımları bilgi işlem yöntemleriyle incelenecek, bu incelemelerden elde edilen bulgular bireysel veya toplu olarak kopya çekildiğini gösterirse kopya eylemine katılan adayın/adayların sınavı geçersiz sayılacak ayrıca bu aday/adaylar 2 yıl boyunca ÖSYM tarafından düzenlenen hiçbir sınavı başvuru yapamayacak ve sınava giremeyecektir. Sınav görevlileri bir salondaki sınavın, kurallara uygun biçimde yapılmadığını, toplu kopya girişiminde bulunulduğunu raporlarında bildirdiği takdirde, ÖSYM bu salonda sınava giren tüm adayların sınavını geçersiz sayabilir.
8. Cevap kâğıdında doldurmanız gereken alanlar bulunmaktadır. Bu alanları doldurunuz. Cevap kâğıdınızı başkaları tarafından görülmeyecek şekilde tutmanız gerekmektedir. Cevap kâğıdına yazılacak her türlü yazıda ve yapılacak bütün işaretlemelerde kurşun kalem kullanılacaktır. Sınav süresi bittiğinde cevapların, cevap kâğıdına işaretlenmiş olması gerekir. Soru kitapçığına işaretlenen cevaplar geçerli değildir.
9. Soru kitapçığınızı alır almaz kitapçık kapağında bulunan alanları doldurunuz. Size söylendiği zaman sayfaların eksik olup olmadığını, kitapçıkta basım hatalarının bulunup bulunmadığını ve soru kitapçığının her sayfasında basılı bulunan soru kitapçık numarasının, kitapçığın ön kapağında basılı soru kitapçık numarasıyla aynı olup olmadığını kontrol ediniz. Soru kitapçığının sayfası eksik veya basımı hatalıysa değiştirilmesi için salon başkanına başvurunuz. **Size verilen soru kitapçığının numarasını cevap kâğıdınızdaki "Soru Kitapçık Numarası" alanına yazınız ve kodlayınız. Cevap kâğıdınızdaki "Soru kitapçık numaramı doğru kodladım." kutucuğunu işaretleyiniz. Soru kitapçığı üzerinde yer alan Soru Kitapçık Numarasını doğru kodladığınızı beyan eden alanı imzalayınız.**
10. Sınav sonunda soru kitapçıkları toplanacak ve ÖSYM'de incelenecektir. Soru kitapçığının sayfalarını koparmayınız. Soru kitapçığının bir sayfası bile eksik çıkarsa sınavınız geçersiz sayılacaktır.
11. Cevap kâğıdına ve soru kitapçığına yazılması ve işaretlenmesi gereken bilgilerde bir eksiklik ve/veya yanlışlık olması hâlinde sınavınızın değerlendirilmesi mümkün değildir, bu husustaki özen yükümlülüğü ve sorumluluk size aittir.
12. Soruları ve/veya bu sorulara verdiğiniz cevapları ayrı bir kâğıda yazıp bu kâğıdı dışarı çıkarmanız kesinlikle yasaktır.
13. **Sınav salonundan ayrılmadan önce, soru kitapçığınızı, cevap kâğıdınızı ve sınava giriş belgenizi salon görevlilerine eksiksiz olarak teslim ediniz. Bu konudaki sorumluluk size aittir.**
14. Sınav süresi salon görevlilerinin "SINAV BAŞLAMIŞTIR" uyarısıyla başlar, "SINAV BİTMİŞTİR" uyarısıyla sona erer.

Bu testlerin her hakkı saklıdır. Hangi amaçla olursa olsun, testlerin tamamının veya bir kısmının Merkezimizin yazılı izni olmadan kopya edilmesi, fotoğrafının çekilmesi, herhangi bir yolla çoğaltılması, yayımlanması ya da kullanılması yasaktır. Bu yasağa uymayanlar gerekli cezai sorumluluğu ve doğacak tüm mali külfeti peşinen kabullenmiş sayılır.

22-11-2020

GENEL YETENEK

1. B
2. B
3. C
4. D
5. C
6. B
7. C
8. A
9. E
10. A
11. A
12. D
13. C
14. B
15. B
16. A
17. E
18. D
19. A
20. E
21. C
22. E
23. C
24. D
25. C
26. E
27. A
28. D
29. B
30. A
31. E
32. D
33. A
34. D
35. A
36. B
37. B
38. E
39. A
40. D
41. B
42. B
43. B
44. D
45. C
46. A
47. C

GENEL YETENEK

48. C
49. C
50. E
51. E
52. E
53. D
54. D
55. C
56. E
57. A
58. E
59. C
60. C

GENEL KÜLTÜR

1. C
2. A
3. D
4. E
5. A
6. E
7. A
8. E
9. D
10. B
11. E
12. A
13. D
14. C
15. D
16. A
17. E
18. A
19. E
20. B
21. E
22. C
23. C
24. B
25. B
26. B
27. A
28. C
29. E
30. A
31. D
32. B
33. D
34. A
35. E
36. B
37. D
38. E
39. C
40. D
41. C
42. A
43. C
44. A
45. E
46. A
47. C

GENEL KÜLTÜR

48. B
49. B
50. C
51. B
52. E
53. C
54. D
55. A
56. D
57. B
58. C
59. A
60. E