



T.C.
MİLLÎ EĞİTİM BAKANLIĞI
ÖLÇME, DEĞERLENDİRME VE SINAV HİZMETLERİ GENEL MÜDÜRLÜĞÜ

**Sınavla Öğrenci Alacak Ortaöğretim
Kurumlarına İlişkin Merkezî Sınava Yönelik
Örnek Deneme - 3**

(SAYISAL BÖLÜM)

- Bu kitapçıkta sayısal bölüme ait örnek sorular bulunmaktadır.
 - Matematik : 20 soru
 - Fen Bilimleri : 15 soru



Matematik Örnek Soruları

1. $|a|$, 1 veya 1'den büyük, 10'dan küçük bir gerçek sayı ve n bir tam sayı olmak üzere $a \cdot 10^n$ gösterimi bilimsel gösterimdir. Ağaçlar yaptıkları karbondioksit emilimi nedeniyle küresel ısınmanın etkilerini azaltmak ya da ortadan kaldırmak için oldukça önemlidir. Yetişkin bir ağacın bir saatte ortalama 2,3 kg karbondioksit emilimi yaptığı bilinmektedir.

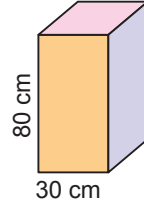


Milli Eğitim Bakanlığı ile Tarım ve Orman Bakanlığı arasında imzalanan iş birliği protokolü gereğince 6 Kasım 2018 tarihinde "Fidanlar, Fidanlarla Büyüyor!" projesi kapsamında 81 ilde eş zamanlı olarak 10 milyon fidan dikimi yapılmıştır.

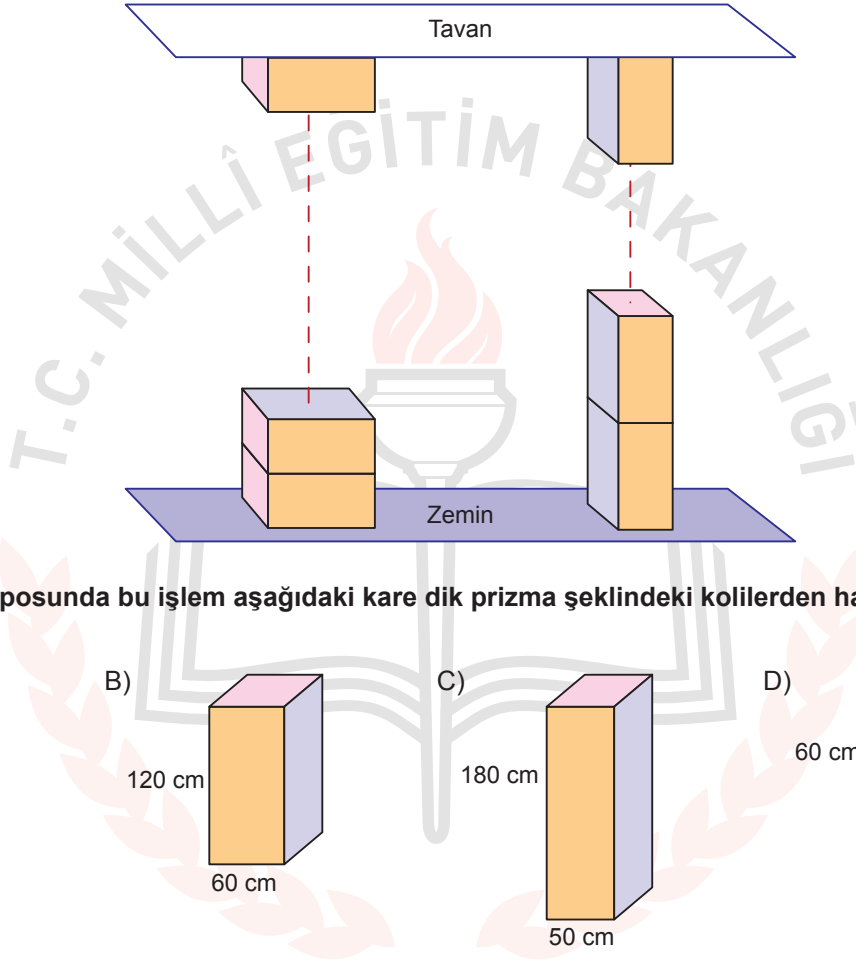
Proje kapsamında dikilen 10 milyon fidanın tamamının yetişkinliğe erişmesi durumunda bir saatte yapacağı ortalama karbondioksit emilimi miktarının ton cinsinden bilimsel gösterimi aşağıdakilerden hangisidir? (1 ton = 1000 kg)

- A) $2,3 \cdot 10^4$ B) $2,3 \cdot 10^5$ C) $2,3 \cdot 10^6$ B) $2,3 \cdot 10^7$

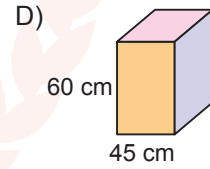
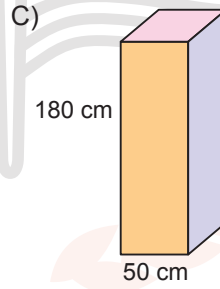
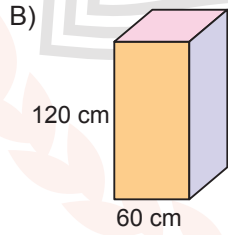
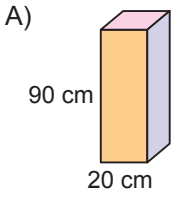
2.



Yukarıdaki kare dik prizma şeklindeki koliler herhangi bir yüzeyi üzerinde üst üste konularak hiç boşluk kalmadan yüksekliği 3 metreden az olan bir soğuk hava deposunda tavana kadar yerleştirilebilmektedir.



Aynı soğuk hava deposunda bu işlem aşağıdaki kare dik prizma şeklindeki kolilerden hangisi ile de yapılabilir?



3. Maraton, 42 195 metrelik bir kořu yarışıdır. Bir maraton kořusunda yarışmacıların su ve gıda ihtiyaçlarını karşılamak amacıyla yolun sol tarafına eşit aralıklarla su istasyonları, sağ tarafına ise eşit aralıklarla gıda istasyonları kurulacaktır. Yarışın bittiği noktada her iki istasyonun da karşılıklı birer tane olması istenmektedir.

Bu istasyonların aralarındaki mesafeler aşağıdaki seçeneklerin hangisindeki gibi olursa karşılıklı istasyon sayısı en az olur?

<u>Su Takviye İstasyonu</u>	<u>Gıda Takviye İstasyonu</u>
A) Her 2,5 km'de bir	Her 3,5 km'de bir
B) Her 2,5 km'de bir	Her 4,5 km'de bir
C) Her 3 km'de bir	Her 4 km'de bir
D) Her 3 km'de bir	Her 4,5 km'de bir



4. $a \neq 0$ ve m, n birer tam sayı olmak üzere $\frac{a^n}{a^m} = a^{n-m}$ dir.

A, B, C, D mikroorganizmaları mikroskop altında büyütülerek ayrı ayrı incelenmiştir.

Aşağıdaki tabloda bu mikroorganizmaların gerçek büyüklükleri ile mikroskopta görülen büyüklükleri verilmiştir.

Tablo: Bazı Mikroorganizmaların Gerçek Büyüklükleri İle Mikroskopta Görülen Büyüklükleri

	Gerçek Büyüklük (mm)	Mikroskopta Görülen Büyüklük (mm)
A mikroorganizması	$2,5 \cdot 10^{-1}$	3,75
B mikroorganizması	$3 \cdot 10^{-2}$	3
C mikroorganizması	$1 \cdot 10^{-4}$	0,1
D mikroorganizması	$2 \cdot 10^{-3}$	2,4

Bu inceleme sırasında hangi canlı için kullanılan büyütme oranı en küçüktür?

- A) A mikroorganizması
- B) B mikroorganizması
- C) C mikroorganizması
- D) D mikroorganizması

5. a ve b birer doğal sayı olmak üzere $a\sqrt{b} = \sqrt{a^2b}$ dir.

Alanı 28 m^2 olan kare şeklindeki bir bahçenin çevresine 2 sıra tel çekilecektir. Telin metre fiyatı satın alınacak miktara göre değişiklik göstermektedir. Telin metre fiyatları aşağıdaki tabloda gösterilmiştir.

Tablo: Tel Miktarına Göre Metre Fiyatları

Tel Miktarı	Metre Fiyatı
20 m den az	15 TL
20 - 39 m	14,5 TL
40 - 59 m	14 TL
59 m den fazla	13,5 TL


Bu iş için kullanılacak telin metresi kaç lira olur?

A) 13,5

B) 14

C) 14,5

D) 15



6. Eylül Hanım, kredi kartı için her hanesinde bir rakam olan dört haneli bir şifre belirleyecektir. Bunun için soldan sağa doğru ilk haneye yazdığı rakamın karesini ikinci haneye ve ikinci haneye yazdığı rakamın karesini son iki haneye yazarak şifresini oluşturuyor.

Eylül Hanım'ın oluşturduğu şifrenin son rakamı 6 olduğuna göre ilk rakamı kaçtır?

A) 1

B) 2

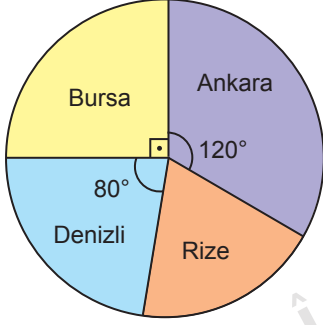
C) 3

D) 4

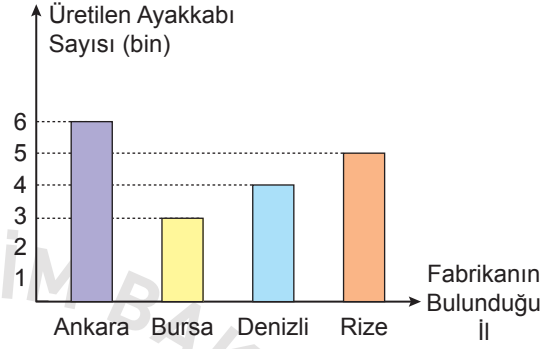


7. Aşağıda ayakkabı üretimi yapan bir firmaya ait 4 farklı ildeki fabrikalarda çalışan işçi sayıları dairesel grafikte ve bu fabrikalarda aralık ayı boyunca üretilen toplam ayakkabı sayıları ise sütun grafiğinde gösterilmiştir.

Grafik: Farklı İllerdeki Fabrikalarda Çalışan İşçi Sayıları



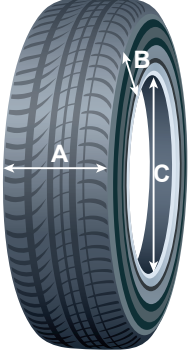
Grafik: Farklı İllerdeki Fabrikalarda Aralık Ayında Üretilen Ayakkabı Sayıları



Buna göre hangi ildeki fabrikada işçi başına üretilen ayakkabı sayısı en fazladır?

- A) Ankara B) Bursa C) Denizli D) Rize

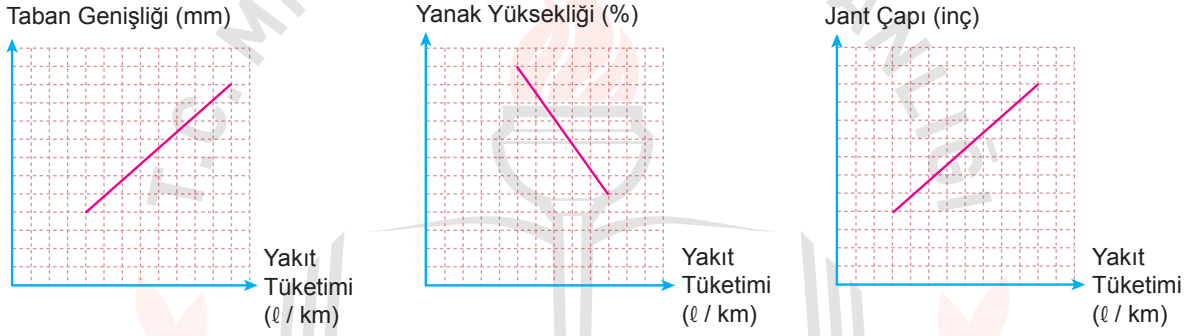
8. Aşağıda Mehmet'in aracının lastiklerinin taban, yanak, jant bölümleri ve bunların ölçüleri verilmiştir.



Tablo : Mehmet'in Aracının Lastik Ölçüleri (190/55/R16)

Lastik Taban Genişliği (mm) (A)	Lastik Yanak Yüksekliği (%) (B)	R – Jant Çapı (inç) (C)
190	55	R16

Aşağıdaki grafiklerde bu ölçülerin değişiminin yakıt tüketimine etkisi gösterilmektedir.



Buna göre Mehmet, aracının lastiklerini aşağıda ölçüleri verilen lastiklerden hangisi ile değiştirirse aracının yakıt tüketiminde azalma olur?

A) 190/55/R17

B) 190/50/R16

C) 195/55/R16

D) 190/60/R16

9. Bir olayın olma olasılığı = $\frac{\text{İstenilen olası durumların sayısı}}{\text{Tüm olası durumların sayısı}}$

Bir otelde yapılacak çekiliş sonucunda rastgele seçilen bir müşteriye sürpriz hediyeler verilecektir. Bu otelde konaklayan kadın müşterilerin sayısı, erkek müşterilerin sayısından fazladır.

Otele 5 evli çift daha gelmiş ve bu müşteriler de yapılacak olan çekilişe dahil edilmiştir.

Buna göre yeni gelen müşterilerden sonra yapılacak olan çekilişi kazanan kişinin erkek veya kadın olma olasılığı ile ilgili aşağıdakilerden hangisi doğrudur?

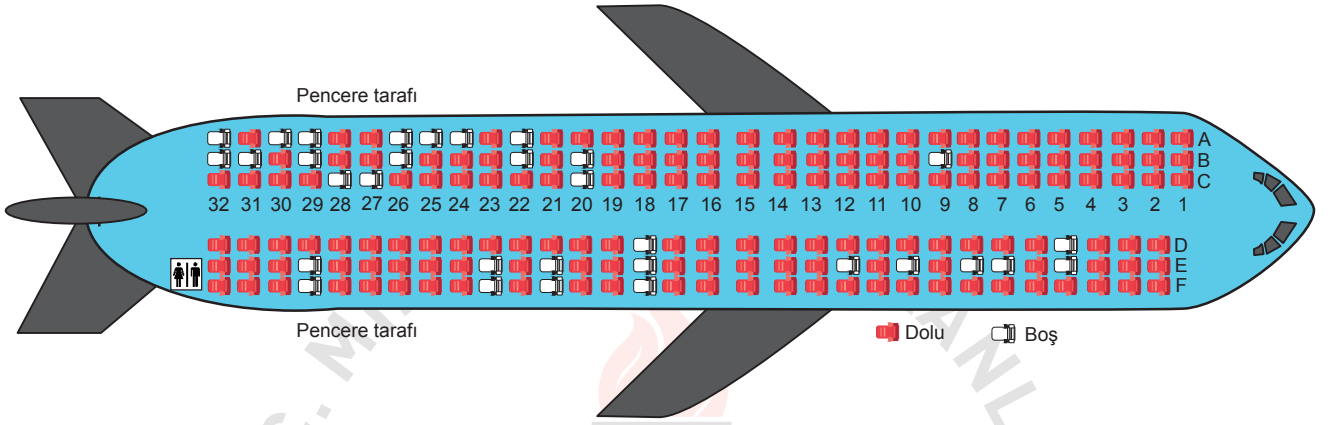
- A) Kadın olma olasılığı artmıştır.
- B) Erkek olma olasılığı artmıştır.
- C) Erkek olma olasılığı azalmıştır.
- D) Kadın olma olasılığı değişmemiştir.



10. Bir olayın olma olasılığı = $\frac{\text{İstenilen olası durumların sayısı}}{\text{Tüm olası durumların sayısı}}$

Uçak ile Ankara'dan Trabzon'a gidecek olan Kerem ve dedesi havaalanına gelmiş ve uçakta oturacakları koltukları belirlemek için gişe memurunun yanına gitmişlerdir. Kerem gişe memuruna dedesi ile yan yana, dedesi ise pencere kenarına oturmak istediğini söylemiştir.

Aşağıdaki görselde dolu koltuklar "kırmızı", boş koltuklar ise "beyaz" renkle gösterilmiştir.



Gişe memuru boş koltuklar arasından her ikisinin de isteğine uyan iki koltuğu rastgele seçip onlara vermiştir.

Buna göre gişe memurunun Kerem'e 26B numaralı koltuğu verme olasılığı kaçtır?

- A) $\frac{1}{2}$ B) $\frac{1}{4}$ C) $\frac{1}{8}$ D) $\frac{1}{16}$

11. Bir olayın olma olasılığı = $\frac{\text{İstenilen olası durumların sayısı}}{\text{Tüm olası durumların sayısı}}$

Aşağıda üzerine 1'den n'ye kadar olan sayma sayıları yazılı olan kartlar verilmiştir.



Bu kartların arasından rastgele çekilen bir kartın üzerinde yazan sayının asal sayı olma olasılığı $\frac{1}{2}$ 'dir.

Buna göre n en çok kaçtır?

A) 6

B) 8

C) 10

D) 12



12. Bir olayın olma olasılığı = $\frac{\text{İstenilen olası durumların sayısı}}{\text{Tüm olası durumların sayısı}}$

Aşağıda bir mağazanın düzenlediği bahar kampanyası kapsamında müşterilerine sunduğu 3 farklı indirim seçeneği ile ilgili bilgileri içeren görsel verilmiştir.



Bu mağazada alışveriş yapan müşteriler, ödeme yapmak için kasaya geldiklerinde bu 3 indirim seçeneğinden istedikleri birini seçmektedirler. Mert bu mağazadan tanesi 30 TL olan tişörtlerden 3 tane alıyor ve kasaya geldiğinde bu seçeneklerden birini rastgele seçiyor.

Bu durumda Mert'in aldığı tişörtlerin tanesini 20 liradan almış olma olasılığı kaçtır?

A) 0

B) $\frac{1}{3}$

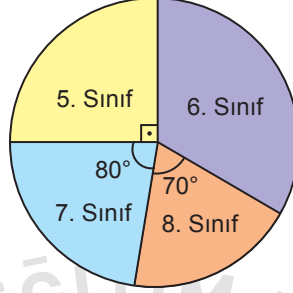
C) $\frac{2}{3}$

D) 1

13. Bir olayın olma olasılığı = $\frac{\text{İstenilen olası durumların sayısı}}{\text{Tüm olası durumların sayısı}}$

Aşağıdaki daire grafiğinde Cumhuriyet Ortaokulu öğrencilerinin sınıf düzeylerine göre dağılımı verilmiştir.

Grafik: Sınıf Düzeylerine Göre Öğrenci Dağılımı



Cumhuriyet Ortaokulunda 23 Nisan Ulusal Egemenlik ve Çocuk Bayramı'nda konuşma yapması için ortaokul öğrencileri arasından biri rastgele seçilecektir. Bu okulda 6. sınıfta öğrenim gören kız öğrenci sayısı erkek öğrenci sayısından azdır.

**Buna göre seçilen öğrencinin 6. sınıfta öğrenim gören bir kız öğrenci olma olasılığı aşağıdakilerden hangisi ola-
maz?**

A) $\frac{1}{12}$

B) $\frac{1}{10}$

C) $\frac{1}{8}$

D) $\frac{1}{6}$

14. Bir olayın olma olasılığı = $\frac{\text{İstenilen olası durumların sayısı}}{\text{Tüm olası durumların sayısı}}$

Ahmet, Burcu ve Emine'nin de içinde olduğu bir grup sporcu yarıyıl tatilinde Antalya'ya kampa gitmiştir. Kalacakları otelde tek numaralı odalar deniz, çift numaralı odalar kara manzaralıdır.

		DENİZ				
KAT PLANI	1	3	5	7	9	
	2	4	6	8	10	
		KARA				

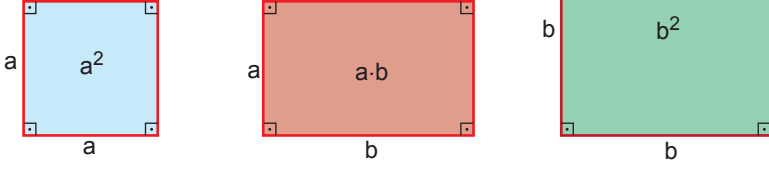
Otele erken giriş yapan Burcu ve Emine aynı katta bulunan deniz manzaralı farklı odalara yerleşmişlerdir.

Daha sonra gelen Ahmet ise deniz manzaralı odalar dolu olduğundan Burcu ve Emine ile aynı katta bulunan tamamı boş olan kara manzaralı odalardan birine rastgele yerleşmiştir.

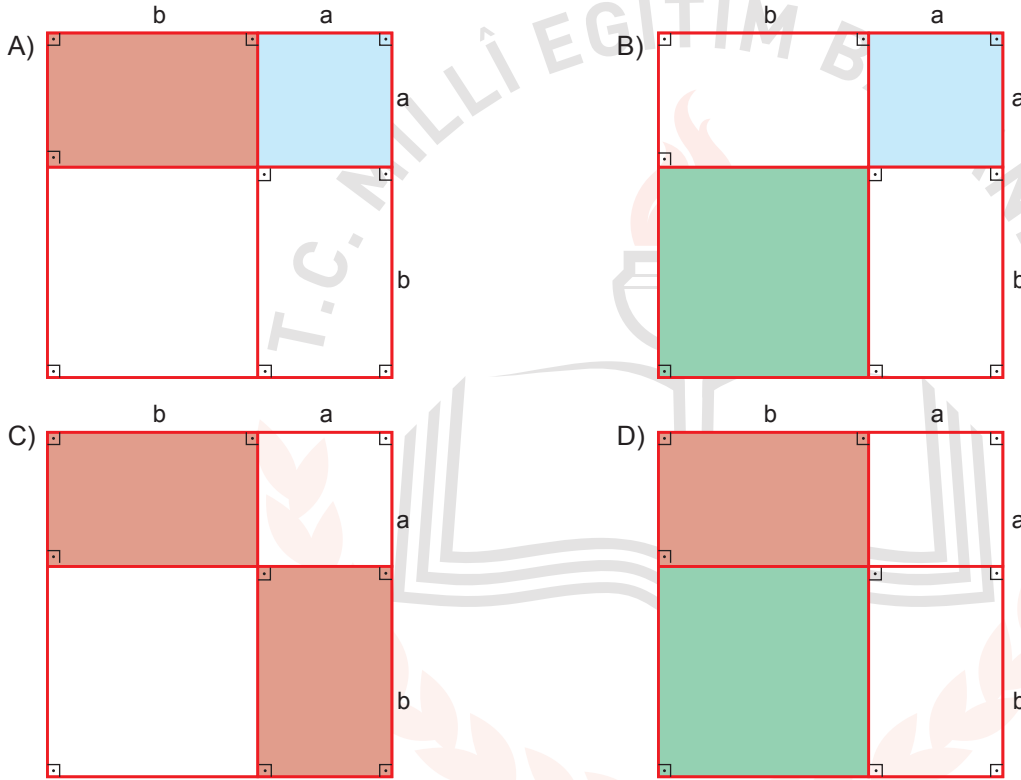
Ahmet'in odasının Burcu'nun veya Emine'nin odasının tam karşısında olmama olasılığı kaçtır?

- A) $\frac{1}{3}$ B) $\frac{3}{5}$ C) $\frac{3}{10}$ D) $\frac{1}{5}$

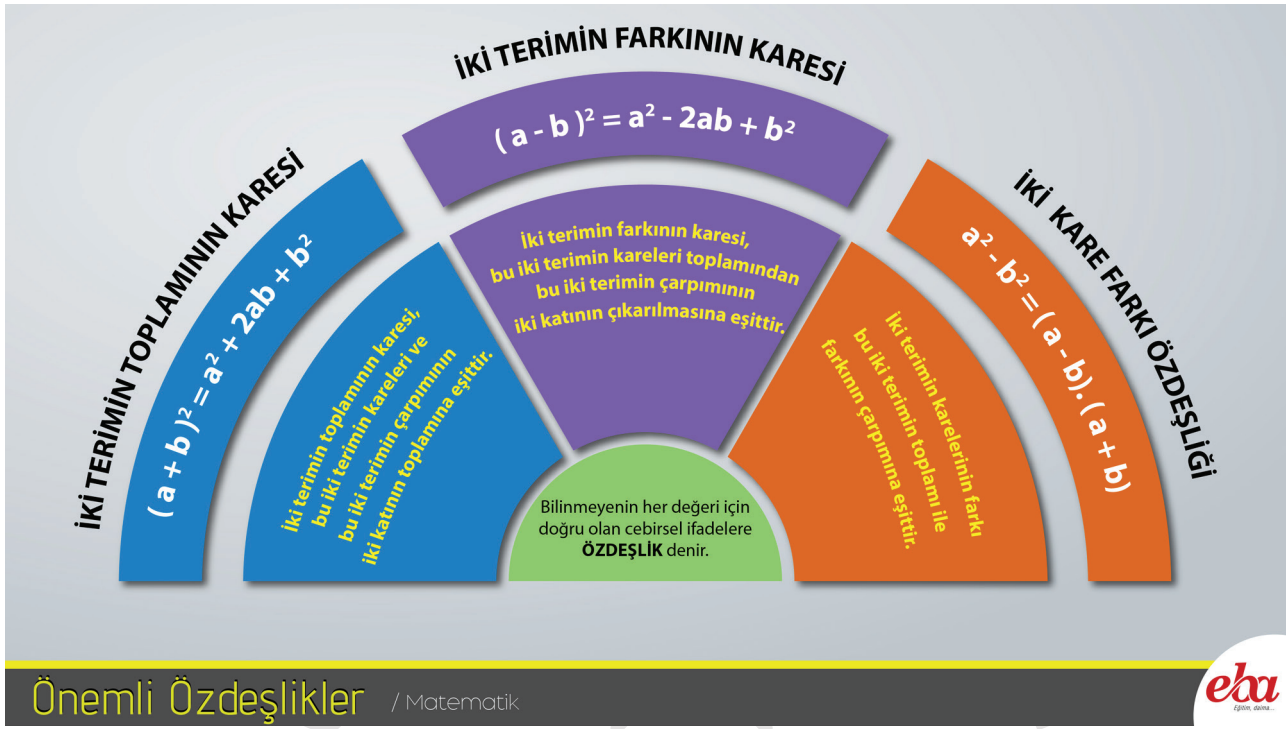
15. Aşağıda kenar uzunlukları verilen kartonların içlerine alanları yazılmıştır.



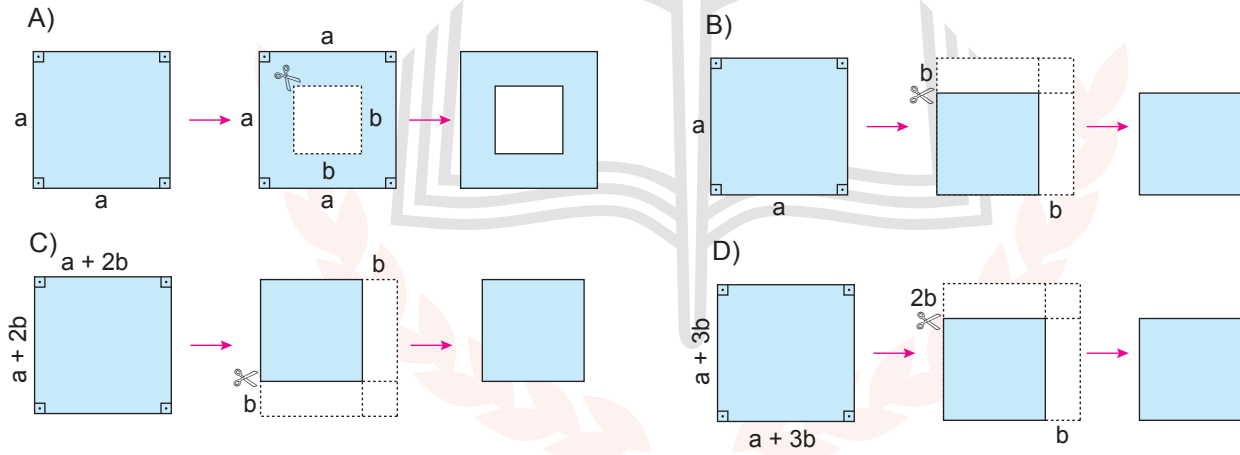
Buna göre aşağıdaki şekillerin hangisinde boyalı bölgelerin alanları toplamı $(a + b)^2 - 2ab$ cebirsel ifadesine eşittir?




16. Aşağıdaki infografik, EBA (Eğitim Bilişim Ağı)'dan alınmıştır.

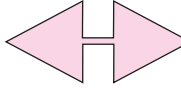


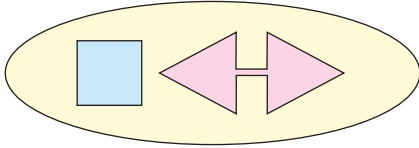

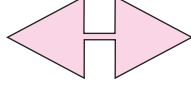
Aşağıda verilen şekillerden hangisinin alanı infografikte verilen özdeşliklerden biri ile ifade edilemez?




17. Aşağıda bazı şekiller ve bu şekillerin ifade ettiği işlemler verilmiştir.

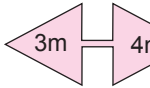
 : İçine yazılan ifadeyi, bu ifadenin kendisi ile çarpar.

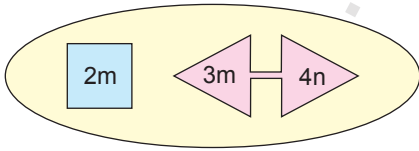
 : Üçgensel bölgelerin içine yazılan ifadeleri birbiri ile çarpar.

 :  ve  işlemlerinden elde edilen sonuçları toplar.

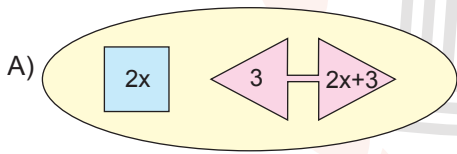
Örnek:

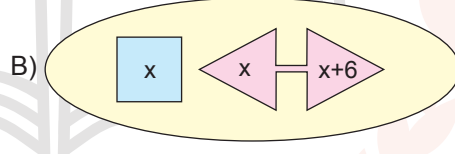
 : $2m \cdot 2m = 4m^2$

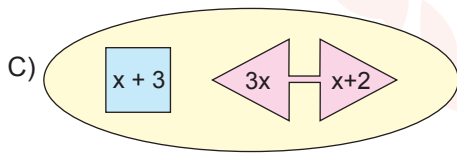
 : $3m \cdot 4n = 12mn$

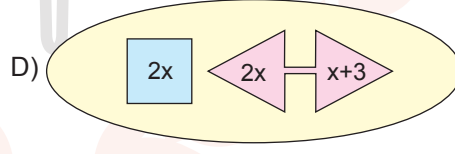
 : $4m^2 + 12mn$

Buna göre aşağıdaki işlemlerden hangisinin sonucu $(2x + 3)^2$ ifadesine eşittir?

A)  : $2x$ ve 3 ile $2x+3$

B)  : x ve x ile $x+6$

C)  : $x+3$ ve $3x$ ile $x+2$

D)  : $2x$ ve $2x$ ile $x+3$

18. Aşağıda kısa kenarı $(4x + 16)$ m, uzun kenarı $(6x + 18)$ m olan dikdörtgen şeklindeki bir konser alanının krokisi verilmiştir. Alanları eşit 6 sıradan oluşan bu konser alanında sıra numarası tek olan bölgeler 4 eş parçaya, sıra numarası çift olan bölgeler 2 eş parçaya ayrılmıştır.

6. sıra	R Blok		S Blok	
5. sıra	M blok	N blok	O Blok	P Blok
4. sıra	K Blok		L Blok	
3. sıra	G Blok	H Blok	I Blok	J Blok
2. sıra	E Blok		F Blok	
1. sıra	A Blok	B Blok	C Blok	D Blok

Konser alanında yer alan K ve P bölgelerinin alanları arasındaki fark metrekare cinsinden aşağıdaki cebirsel ifadelerden hangisine eşittir?

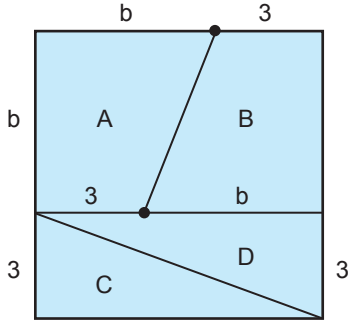
A) $x^2 + 6x + 9$

B) $x^2 + 7x + 12$

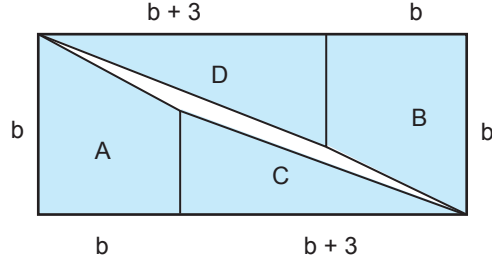
C) $x^2 + 8x + 16$

D) $x^2 + 9x + 20$

19.



Şekil I



Şekil II

Kare şeklindeki pano Şekil I’de gösterildiği gibi 4 parçaya ayrılıyor. Daha sonra elde edilen bu parçalar Şekil II’deki gibi birleştirilerek bir dikdörtgen elde ediliyor. Elde edilen dikdörtgende parçaların arasında birleşmeyen bir bölgenin kaldığı gözleniyor.

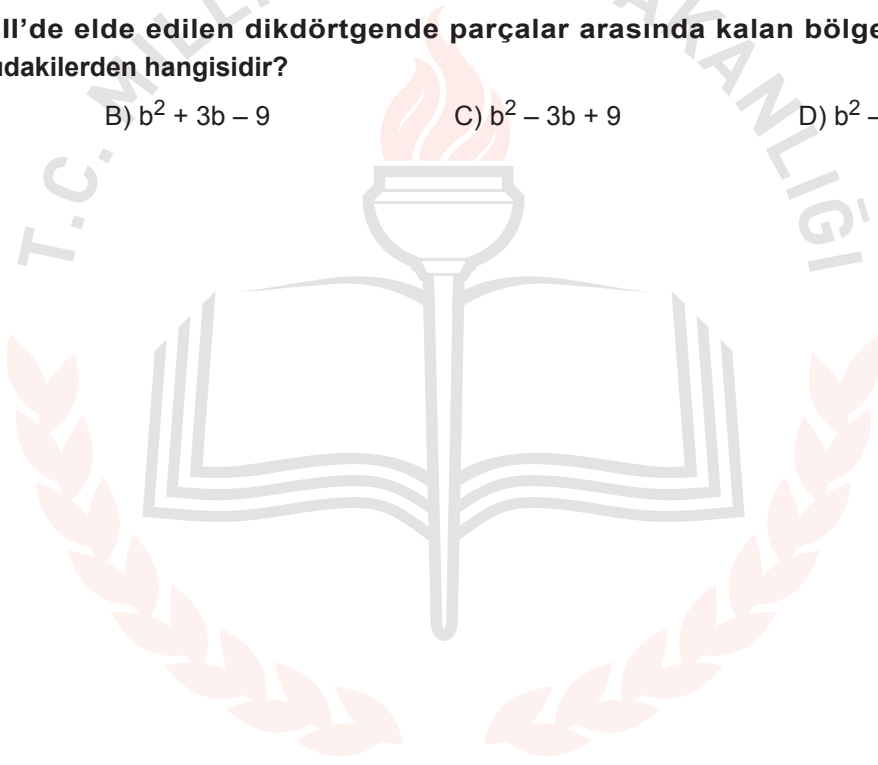
Buna göre Şekil II’de elde edilen dikdörtgende parçalar arasında kalan bölgenin alanını gösteren cebirsel ifade aşağıdakilerden hangisidir?

A) $b^2 + 3b + 9$


B) $b^2 + 3b - 9$

C) $b^2 - 3b + 9$


D) $b^2 - 3b - 9$




20. Geometri tahtası bir zeminin üzerine eşit aralıklarla yerleştirilmiş çivilerden oluşur.



Kuzey ve Duru, matematik dersi için proje ödevi olarak birer geometri tahtası yapmışlardır. Kuzey'in yaptığı geometri tahtasındaki çiviler arasındaki uzaklık, Duru'nun yaptığı geometri tahtası üzerindeki çiviler arasındaki uzaklıktan 1'er cm daha fazladır.



Kuzey'in hazırladığı
geometri tahtası



Duru'nun hazırladığı
geometri tahtası

Her ikisi de hazırladıkları geometri tahtası üzerinde eşit sayıda çivi çevreleyen karesel bölgeler gösteriyorlar.

Kuzey'in hazırladığı geometri tahtasında gösterdiği karenin alanı a^2 santimetrekare olduğuna göre Duru'nun hazırladığı geometri tahtasında gösterdiği karenin santimetrekare cinsinden alanını gösteren cebirsel ifade aşağıdakilerden hangisidir?

A) $a^2 - 4a + 4$

B) $a^2 - 6a + 9$

C) $a^2 - 8a + 16$

D) $a^2 - 12a + 36$

Fen Bilimleri Örnek Soruları

1. Aşağıdaki tabloda iki şehrin aynı yıl içinde hesaplanan aylık ortalama sıcaklık değerleri "°C" cinsinden verilmiştir.

Şehirler	Aylar											
	Ocak	Şubat	Mart	Nisan	Mayıs	Haziran	Temmuz	Ağustos	Eylül	Ekim	Kasım	Aralık
I	8	13	18	20	23	25	27	22	15	10	6	3
II	-15	-12	-6	3	10	17	23	18	12	5	-8	-12

Buna göre bu şehirlerle ilgili aşağıdakilerden hangisine ulaşamaz?

- A) Yer aldıkları yarım küreler
- B) Yıllık ortalama sıcaklık değerleri
- C) Günlük ortalama sıcaklık değerleri
- D) Yaz mevsiminin yaşandığı aylar



2. "Karadeniz açıklarındaki kuru yük gemileri ve Karadeniz'de avlanan balıkçı tekneleri, meteorolojinin şiddetli fırtına ve poyraz uyarısı ile İnebolu Limanı'na sığındı. Balıkçılar, geçmiş yıllarda bu kadar kötü hava koşullarıyla karşılaşmadıklarını ancak bu yıl şiddetli poyraz nedeniyle denize açılmadıklarını belirttiler."

Bu haber metnine göre hava durumu ile ilgili;

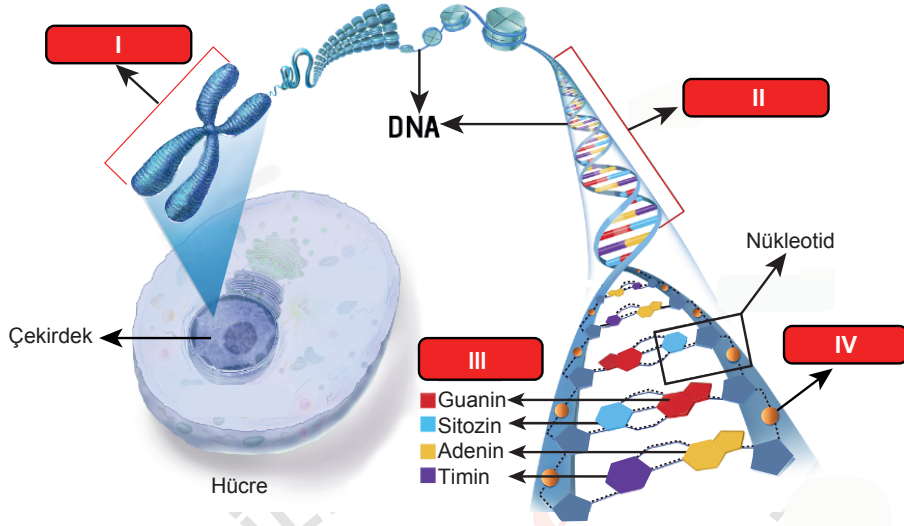
- I. insanların yaşamsal faaliyetlerini etkilediği,
- II. değişken olabileceği,
- III. iklimin genel özellikleriyle ters düşmeyeceği

çıkarımlarından hangilerine ulaşılabilir?

- A) I ve II. B) I ve III.
C) II ve III. D) I, II ve III.



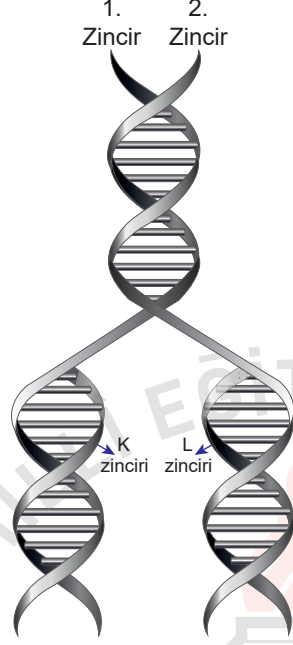
3. Aşağıda hücre çekirdeğinde bulunan kalıtsal materyaller arasındaki ilişki gösterilmiştir.



Buna göre numaralanmış yapılarla ilgili aşağıdakilerden hangisi yanlıştır?

- A) I, farklı canlı türlerinde farklı sayılarda bulunabilir.
- B) II, belirli bir karakterden sorumlu bir geni ifade ediyor olabilir.
- C) III ile gösterilen moleküller, tüm canlıların DNA'larında da bulunur.
- D) IV ile gösterilen molekül, tüm canlı türlerinde farklılık gösterir.

4. Esra Öğretmen, görseldeki DNA'nın kendini eşlemesi sırasında yeni oluşan K ipliğinin "1. Zincir", yeni oluşan L ipliğinin ise "2. Zincir" in kopyası olduğunu öğrencilerine anlatıyor.



Bu görsel ile ilgili öğrenciler tarafından yapılan;

- I. Yeni oluşan K ve L ipliklerinin nükleotid dizilişleri birbirinden farklıdır.
- II. DNA'nın 1 ve 2. zincirlerinin nükleotid dizilişleri aynıdır.
- III. Eşlenme tamamlandığında birbirinin aynısı olan iki DNA sarmalı oluşur.

yorumlarından hangileri doğrudur?

- A) Yalnız II.
B) I ve II.
C) I ve III.
D) I, II ve III.

5. Aşağıdaki görselde bir erkek kemancı yengeci verilmiştir.



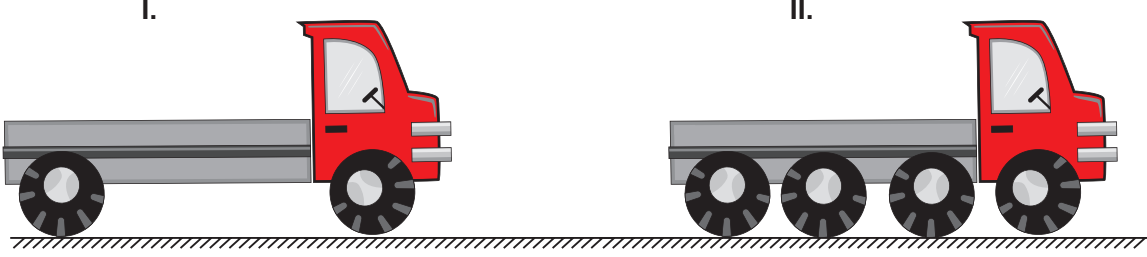
Erkek kemancı yengecinin kısıkaçlarından biri, vücut kütlelerinin yarısına kadar gelişebilmektedir. Diğer kısıkacı ise havaya kaldırdığı büyük kısıkaçtan çok daha küçüktür. Büyük kısıkacını havada sallaması, kendisine yaklaşan diğer erkek yengeç ve avcılarını geri püskürtür. Bu hareket aynı zamanda dişi yengeçlerin dikkatini çekerek üremesine yardımcı olur. Ayrıca yengecin gözlerinin, başının yukarısındaki saplarda yer alması da onun, avcılarını çok uzaktan görebilmesini sağlar. Dolayısıyla bu yengeçlerin kısıkaçları ve gözleri, onun hayatta kalmasını ve soyunun devamını sağlayan en önemli özellikleridir.

Bu metne göre erkek kemancı yengeçleri ile ilgili aşağıdakilerden hangisi yanlıştır?

- A) Büyük kısıkaca ve farklı gözlere sahip olması, bulunduğu çevreye uymasını kolaylaştırmıştır.
- B) Gözlerinin konumlanma biçimi, avcılarından korunmasına yardımcı olmuştur.
- C) Büyük kısıkaca sahip olması, uygun dişi bireyler tarafından seçilmesini kolaylaştırmıştır.
- D) Büyük kısıkacı ve gözlerinin konumu kalıtsal olmayıp çevrenin etkisiyle ortaya çıkmıştır.

6. Katı maddeler, ağırlıkları nedeniyle buldukları yüzeye kuvvet uygular ve bu kuvvetin etkisiyle basınç oluşur. Katıların buldukları yüzeye uyguladıkları basıncın büyüklüğü; uyguladıkları kuvvet ile doğru, temas ettikleri yüzey alanı ile ters orantılıdır.

Günlük hayatta bazı durumlarda basıncın az olması istenir.

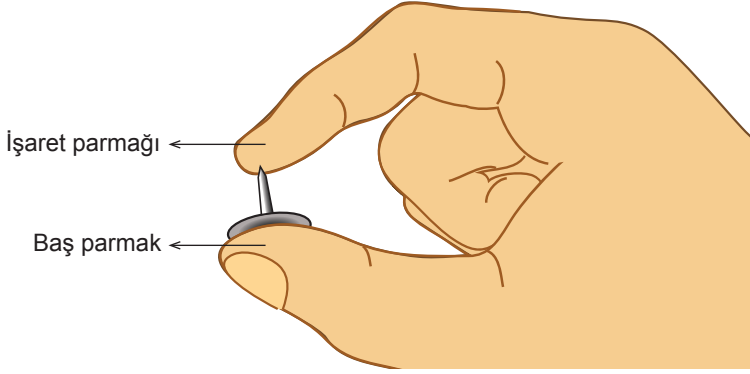


Yumuşak, ıslak zeminli bir arazide, yük taşımak için kullanılan şekildeki I. kamyon yerine, teker sayısı dışında tüm özellikleri aynı olan II. kamyon tercih edilir.

Bu tercih ile aynı gerekçeye sahip olan uygulama aşağıdakilerden hangisidir?

- A) İnce dokulu kumaştan elbise dikerken ince uçlu iğne kullanılması
- B) Islak kum üzerinde duran boş kovanın, içine su dolduruldukça kuma gömülmesi
- C) Karlı bir yolda kar ayakkabısı ile daha rahat yürünmesi
- D) Bıçağın daha iyi kesmesi için keskin tarafının bilenmesi

7. Katı maddeler, buldukları yüzeye uyguladıkları kuvvetin etkisiyle basınç oluşturur.



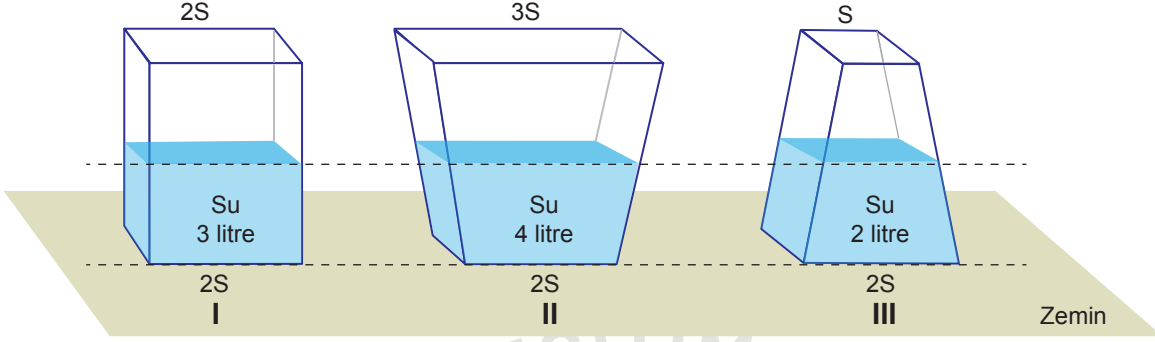
Bir raptiyeyi şekilde görüldüğü gibi baş parmağımız ile işaret parmağımız arasına yerleştirip yavaşça sıktığımızda raptiyenin sivri ucunun değdiği işaret parmağımızda acı duyarız ancak baş parmağımızda acı hissetmeyiz.

Bu durum aşağıdakilerden hangisi ile açıklanır?

- A) Raptiyenin işaret parmağımıza uyguladığı basıncın, baş parmağımıza uyguladığı basınçtan daha küçük olması
- B) Raptiyenin baş parmağımızla temas eden yüzeyinin, işaret parmağımızla temas eden yüzeyinden büyük olması
- C) Raptiyenin, işaret ve baş parmağımıza uyguladığı kuvvetlerin yönlerinin farklı olması
- D) Baş parmağımızın işaret parmağımıza göre acıya daha duyarlı olması

8. Katı maddeler ağırlıkları nedeniyle buldukları yüzeye kuvvet uygular ve bu kuvvetin etkisiyle basınç oluşur. Bu basıncın büyüklüğü zemine uygulanan kuvvete ve temas eden yüzey alanına bağlı olarak değişir.

Şekilde boş ağırlıkları birbirine eşit olan kaplara aşağıda belirtilen miktarlarda su doldurulmuştur.



Buna göre, bu kapların zemine uyguladıkları katı basınçları arasındaki ilişki aşağıdakilerin hangisinde doğru verilmiştir?

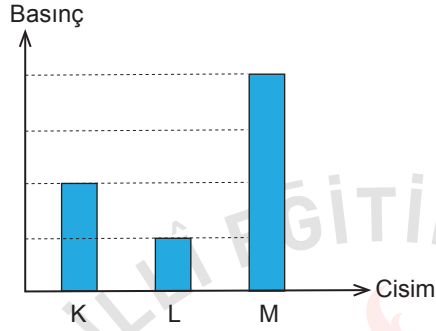
- A) $I > II > III$
B) $II > I > III$
C) $III > I > II$
D) $I = II = III$



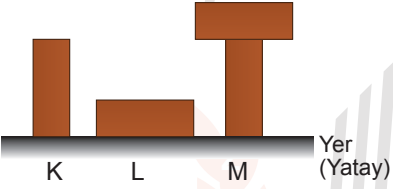
9.

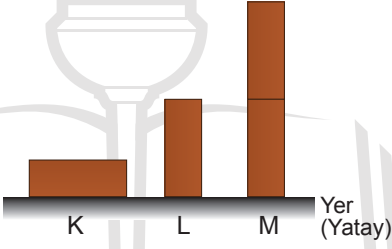
- Katı maddeler ağırlıkları nedeniyle buldukları yüzeye bir kuvvet uygular ve basınç oluşturur.
- Katı maddelerin basıncının büyüklüğü, yüzeye uyguladıkları kuvvet ile doğru orantılıdır.
- Katı maddelerin basıncının büyüklüğü, kuvvet uyguladıkları yüzeyin alanı ile ters orantılıdır.

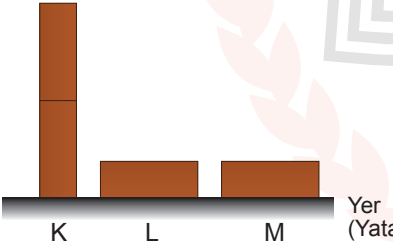
Özdeş tuğlalar kullanılarak yapılan bir deneyde, tuğla sayısı veya temas yüzeyleri değiştirilerek oluşturulan K, L ve M cisimlerinin yere uyguladıkları basınçların büyüklükleri aşağıdaki grafikte gösterilmiştir.

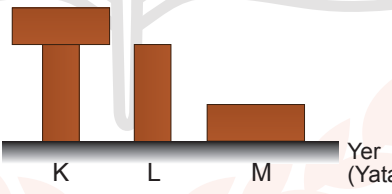


Buna göre bu cisimlerin yer üzerindeki duruş biçimleri aşağıdakilerden hangisidir?

A) 


B) 

C) 

D) 

10.

- Katı maddeler, ağırlıkları nedeniyle buldukları yüzeye bir kuvvet uygular ve basınç oluşturur.
- Katı maddelerin basıncının büyüklüğü, yüzeye uyguladıkları kuvvet ile doğru orantılıdır.
- Katı maddelerin basıncının büyüklüğü, kuvvet uyguladıkları yüzeyin alanı ile ters orantılıdır.



Park bekçisi parkta gezerken toprak zemin üzerinde duran aynı boydaki geri dönüşüm kutularının tamamen dolmuş olduğunu ve L kutusunun zemine biraz batmış olduğunu fark ediyor.

Buna göre;

- I. L kutusunu, yere temas eden yüzeyi daha büyük olan başka bir kutu ile değiştirmek,
- II. L kutusunun içindeki atık miktarını azaltmak,
- III. L kutusunu, boyu K kutusundan daha uzun olan başka bir kutu ile değiştirmek

işlemlerinden hangileri yapılmış olsaydı L kutusunun toprağa batması engellenebilirdi?

A) Yalnız I.

B) I ve II.

C) II ve III.

D) I, II ve III.

11. Sıvı basıncına etki eden faktörleri gözlemlemek isteyen Burak, aşağıdaki hipotezleri kuruyor:

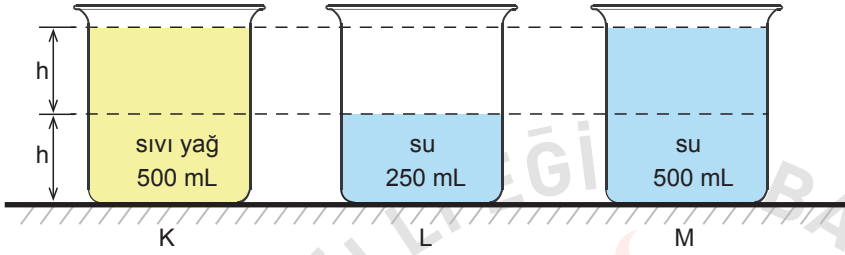
1. hipotez : Sıvının basıncı, sıvının yoğunluğu ile doğru orantılıdır.

2. hipotez : Sıvının basıncı, sıvının derinliği ile doğru orantılıdır.

Burak bu hipotezlerini test etmek için;

- 3 adet 500 mL'lik özdeş beherglas,
- Yeterli miktarda sıvı yağ ve su

kullanarak deney düzeneklerini şekildeki gibi oluşturuyor.

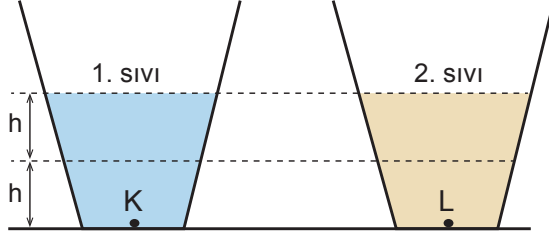


Burak'ın deneyinde yaptığı işlemlerden hangisi hipotezlerini test etmek için gerekli değildir?

- A) 1. hipotezi için, K ve M kaplarının tabanındaki sıvı basınçlarını ölçerek karşılaştırmıştır.
B) 2. hipotezi için, L ve M kaplarının tabanındaki sıvı basınçlarını ölçerek karşılaştırmıştır.
C) 1. hipotezi için, K kabındaki yağı yarısını boşaltarak, K ve L kaplarındaki sıvı basınçlarını ölçerek karşılaştırmıştır.
D) 2. hipotezi için, M kabındaki suyun yarısını boşaltarak, K ve M kaplarındaki sıvı basınçlarını ölçerek karşılaştırmıştır.

12. Tüm sıvılar, içinde buldukları kabın her tarafına yoğunlukları ve yükseklikleri ile doğru orantılı olarak basınç uygular.

Aşağıdaki özdeş kaplar aynı yükseklikte, farklı cins sıvılarla doldurulmuştur.




Buna göre, kapların tabanlarındaki K ve L noktalarına uygulanan sıvı basınçlarının büyüklükleriyle ilgili,

- I. 1. sıvının yoğunluğu, 2. sıvının yoğunluğunun iki katı ise K noktasındaki basınç L'dekin iki katıdır.
- II. 2. sıvının miktarı iki katına çıkarılırsa L noktasına uygulanan sıvı basıncı da iki katına çıkar.
- III. 1. sıvı, h seviyesine kadar boşaltılırsa K noktasındaki sıvı basıncı yarıya düşer.

yargılarından hangileri doğrudur?


- A) Yalnız I. B) Yalnız II.
C) I ve III. D) I, II ve III.



13. Açık hava basıncı, atmosfer tabakasındaki gazlardan kaynaklanır ve bu basınç, içinde bulunan bütün cisimlere her yönde etki eder.

Açık hava basıncının etkilerini öğrencilerine göstermek isteyen bir öğretmenin yaptığı deneyin aşamaları şöyledir:

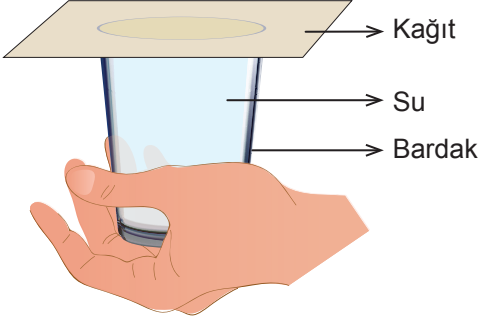
- İçi boş plastik şişeyi alarak yan tarafından deliyor.
- Deliği parmağı ile kapatarak içini su ile doldurduktan sonra parmağını çekiyor ve suyun akışını gözlemliyor. (Şekil I)
- Şişenin kapağını kapatıyor ve kısa bir süre sonra suyun akmadığını gözlemliyor. (Şekil II)




Bu deney ile ilgili yapılan yorumlardan hangisi doğrudur?

- A) Şekil I'de suyun delikten akışında yalnız sıvı basıncı etkilidir.
- B) Şekil II'de şişenin içindeki ve dışındaki basınç dengelenmiştir.
- C) Şekil I'de suyun delikten akışında yalnız açık hava basıncı etkilidir.
- D) Şekil II'de şişe içinde kalan gazlar suda çözünerek akışı engellemiştir.

14. Bir öğretmen, Fen Bilimleri dersinde bardağın tamamını su ile doldurarak üzerini Şekil I'deki gibi kağıt ile kapatıyor. Ardından bardağı hiç hava almayacak biçimde kağıt ile birlikte hızlıca ters çeviriyor. Bardağı Şekil II'deki konuma getirdiğinde kağıdın düşmediğini ve suyun dökülmediğini gözlemliyor.



Şekil I



Şekil II

Öğretmen, öğrencilerin sorduğu sorulardan hangisine cevap vermek için bu deneyi yapmış olabilir?

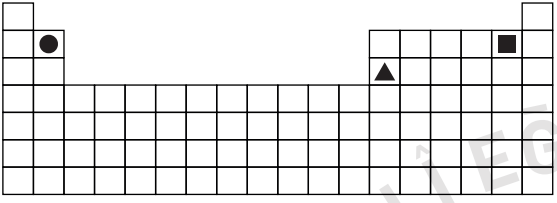
- A) Açık havanın oluşturduğu bir basınç var mıdır?
- B) Sıvıların basıncı, buldukları kabın şekline bağlı mıdır?
- C) Kap içindeki sıvı yüksekliği sıvı basıncını etkiler mi?
- D) Katıların basıncı ve uygulanan kuvvet arasında bir ilişki var mıdır?

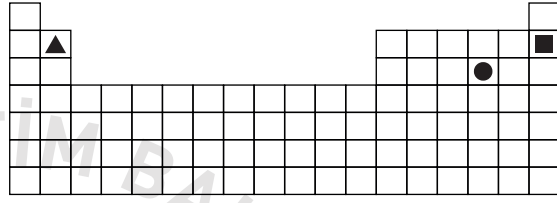
15. Periyodik sistemde elementler, artan atom numaralarına göre dizilirler ve oluşan düşey sıralara grup, yatay sıralara ise periyot adı verilir.

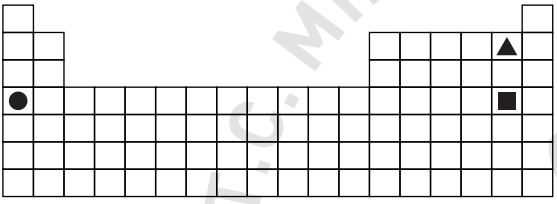
Periyodik sistemdeki ▲, ● ve ■ elementlerine ait şu bilgiler verilmiştir:

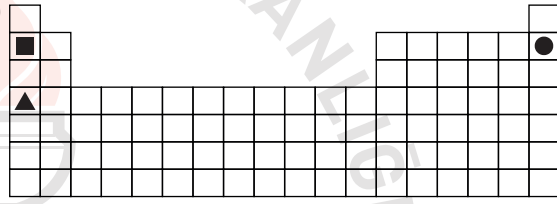
- ▲ ve ■ aynı gruptadır.
- ● ve ■ aynı periyottadır.
- Atom numarası en küçük olan ▲'dir.

Buna göre bu elementlerin periyodik sistemdeki yerleri aşağıdakilerden hangisi olabilir?

A) 

B) 

C) 

D) 


CEVAP ANAHTARI

MATEMATİK

1. A
2. B
3. B
4. A
5. B
6. B
7. D
8. D
9. B
10. C
11. B
12. C
13. D
14. B
15. B
16. D
17. C
18. B
19. D
20. C

FEN BİLİMLERİ

1. C
2. A
3. D
4. C
5. D
6. C
7. B
8. B
9. A
10. B
11. D
12. C
13. B
14. A
15. C





T.C.
MİLLÎ EĞİTİM BAKANLIĞI
ÖLÇME, DEĞERLENDİRME VE SINAV HİZMETLERİ GENEL MÜDÜRLÜĞÜ

**Sınavla Öğrenci Alacak Ortaöğretim
Kurumlarına İlişkin Merkezî Sınavla Yönelik
Örnek Deneme - 3**

(SÖZEL BÖLÜM)

- Bu kitapçıkta sözel bölüme ait örnek sorular bulunmaktadır.
 - Türkçe : 15 soru
 - T. C. İnkılap Tarihi ve Atatürkçülük : 5 soru
 - Din Kültürü ve Ahlak Bilgisi : 5 soru
 - İngilizce : 5 soru

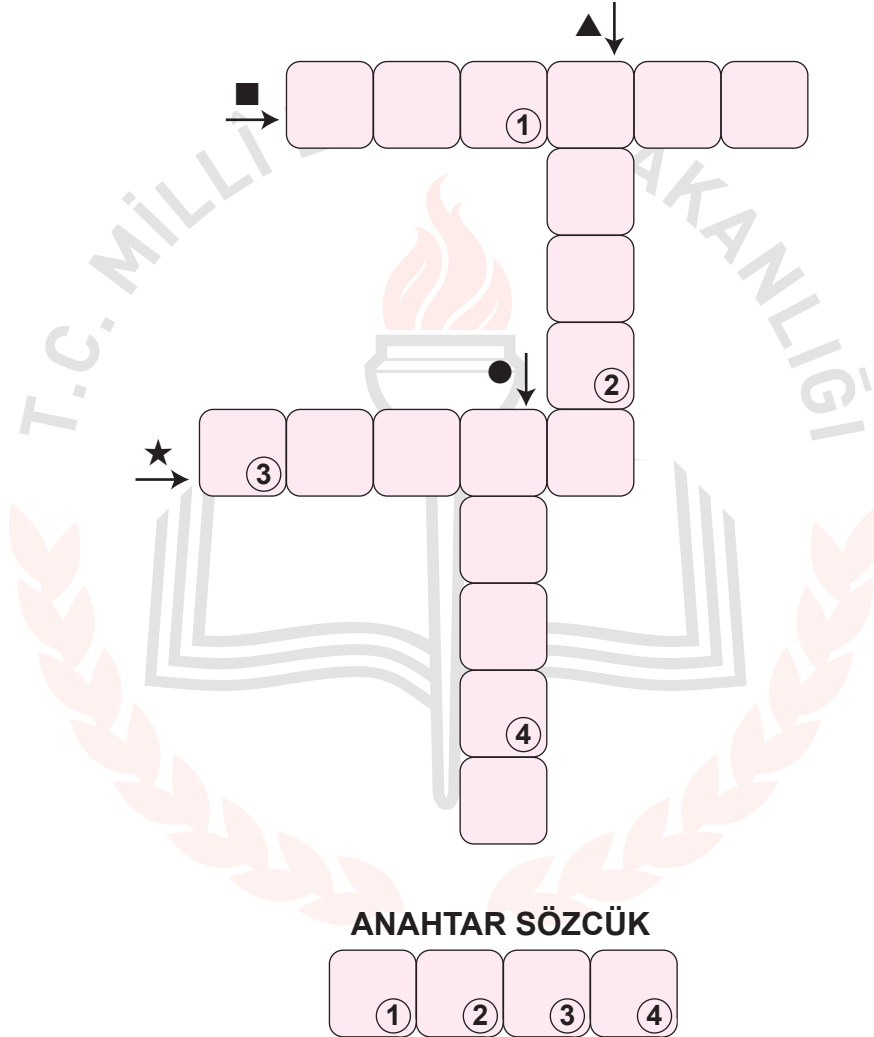


Türkçe Örnek Soruları

1. Birbirine yardım eden fertlerden oluşan topluluklar, engelleri daha kolay aşırıp üst düzey başarılar elde edebilir. İnsanın geçmişinde gördüğümüz ve onu dünyada baskın tür hâline getiren sosyal ve kültürel gelişimin arkasında böyle bir gerçeklik yatar.

Bu metindeki bazı sözcüklerin anlamları “■, ★, ●, ▲” simgeleriyle verilmiştir. Bu sözcükleri metinden bularak aşağıdaki bulmacaya yerleştiriniz.

- Benzerleri arasında, güç ve önem bakımından başta gelen.
- ★ Bir nesnenin, bir kimsenin başka nesne veya kimselere göre değer ve yücelik derecesi.
- Bir şeyin gerçekleşmesini önleyen sebep.
- ▲ Sıkıntı çekmeden, yorulmadan yapılabilen.



Numaralanmış kutularda yer alan harfler “ANAHTAR SÖZCÜK” bölümüne yerleştirildiğinde aşağıdakilerden hangisi oluşur?

A) S E N A

B) S A L I

C) S A Y I

D) S A D E

2. Aşağıda bazı söz sanatlarının açıklaması verilmiştir:

- Mübalağa (abartma); bir niteliği, olduğundan çok üstün veya aşağı gösterme sanatıdır.
- Tezat (karşıtlık), birbirine zıt kavram veya durumların bir arada kullanılmasıyla oluşan sanattır.
- İntak (konuşurma), insan dışındaki bir varlığın konuşurulmasıyla oluşan sanattır.

Aşağıdakilerin hangisinde, açıklaması verilen sanatlardan herhangi birine yer verilmemiştir?

- A) Gözümde bir damla su, deniz olup taşıyor
Çöllerde kalmış gibi yanıyor, yanıyorum
- B) Özlediğin hayatı buldun mu bilmem
Gözlerinde hâlâ hüznün var gibi
- C) Nazlı yârdan kem haberler geliyor
Dostlarım ağlıyor, düşman gülüyor
- D) Küçük bir çeşmeyim yurdumun
Unutulmuş bir dağında



3. Yazarın hikâyelerindeki karakterler, çoğunlukla zor koşullar altında yaşayan insanlardır. O, var olma mücadelesi içindeki bu karakterleri, güçlü bir gözlem yeteneğine ve içgörüyü dayanarak son derece kanlı canlı biçimde betimler. Hatta yakın arkadaşı olan Cemal Süreya, onun hikâyelerindeki kişiler için şöyle der: “Onun kişilerine iğne batırsan kan çıkar.”

Bu metindeki altı çizili cümlede, sözü edilen hikâye karakterlerinin hangi özelliği anlatılmak istenmiştir?

- A) Etkileyciliği
- B) Özgünlüğü
- C) Gerçekçiliği
- D) Evrenselliği

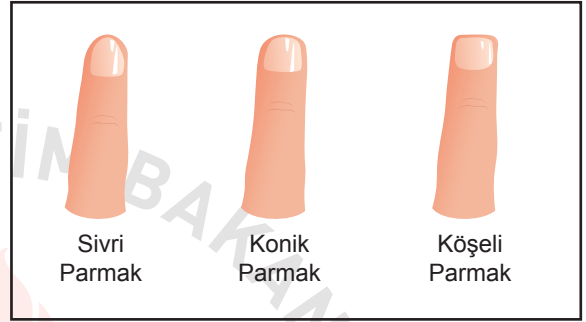


4. İnsanların ellerine bakılarak karakterlerine dair hükümler çıkarmak çok eski dönemlerden kalma bir yöntemdir. Bu yöntem, Osmanlıda özellikle sarayda çalıştırılacak kişilerin seçiminde önemli bir değerlendirme aracı olmuştur. Bu yöntemle göre,

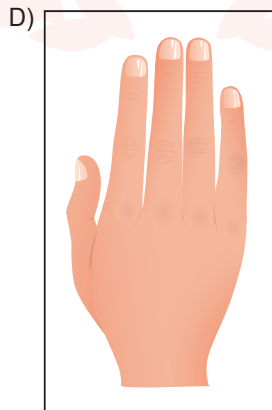
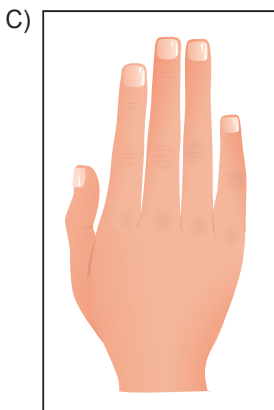
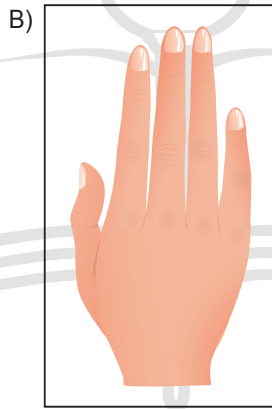
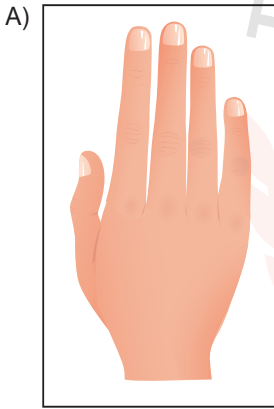
- Yüzük parmağı işaret parmağından uzun olan kişiler, risk almaya açık bir yapıya sahiptir.
- İşaret parmağı ile yüzük parmağı eşit olanlar, hiçbir konuda aşırı gitmezler.
- Orta parmağı ile yüzük parmağı eşit olanlar, ömürlerini serüven arayışı içinde geçirir.

Parmakların şekline göre de karakter tahlili yapılmaktadır. Örneğin,

- Parmakları sivri olanlar, güzel ve etkili konuşur; güçlü bir hayal gücüne sahiptir.
- Konik parmaklı kişiler, kimsenin etkisinde kalmadan kendi başına karar almak isteyen bir yapıya sahiptir.
- Köşeli parmakları olanlar, olaylara sakin ve temkinli yaklaşır.



Buna göre maceraperest ve özgürlüğüne düşkün bir kişinin parmak yapısının aşağıdakilerden hangisine benzer olması beklenir?



5. Deyimler sözlerimizin anlaşılmasını kolaylaştıran, anlatımı renklendiren ve dakikalarca konuşarak ifade edemeyeceğimiz fikirleri bir çırpıda dile getiren kalıplardır. Bu kalıplar dilimize yerleşmiştir ve anlamları hemen herkes tarafından bilinir. Örneğin kötü niyet ve eylemlerin, sahibine zarar verdiği durumlarda - - - -, küçük bir iyilik yapılmak istenirken büyük zararlar verildiğinde - - - -, bir şeyi bildiği hâlde bilmiyormuş gibi görünen kişileri anlatmak için - - - - deyimini kullanırız.

Aşağıdakilerden hangisi bu metinde boş bırakılan yerlerden herhangi birine getirilemez?

- A) çizmeyi aşmak
- B) kaş yapayım derken göz çıkarmak
- C) renk vermemek
- D) kazdığı kuyuya düşmek



6. Alışverişlerde vaktimizin çoğu, gıda reyonlarında hangi ürünün daha sağlıklı olduğuna karar vermekle geçiyor. Kimi zaman doğru kararlar veriyor, kimi zaman da “Acaba gerçekten ne yiyoruz?” sorusuyla eve dönüyoruz. Özellikle yaz aylarında gıdaların paketlenmesine ve saklanma koşullarına daha fazla dikkat etmek gerekiyor. Bunlara dikkat edilmezse gıdalarda, hastalıklara neden olan bakteriler oluşabiliyor. Bir grup araştırmacı, bu sorunun çözümüne katkı sağlayabilmek için bir algılayıcı (sensör) geliştirdi. Esnek film şeklinde olan ve gıda ambalajlarının içine yerleştirilebilen bu algılayıcı, insanlarda hastalıkların oluşmasına neden olan bakterileri belirlediğinde ışık yayıyor.

Bu metinde sözü edilen algılayıcının üretilme amacı aşağıdakilerden hangisidir?

- A) Paketlenmiş yiyeceklerde bakteri oluşumunu engellemek
- B) Gıdalarda zararlı bakteri olup olmadığını tespit etmek
- C) Yiyeceklerde bakteri oluşumuna neden olan durumları saptamak
- D) Hazır gıdalarla doğal gıdalar arasındaki farkı göstermek



7. Türk sanatında süslemelerin ve onları oluşturan motiflerin ayrı bir önemi vardır. Her biri evrensel bir dile sahip olan motifler kültürümüzde çeşitliliği, renkliliği ve zenginliğiyle dikkat çekmektedir. Tarihten günümüze yetişen nice nakkaş, hattat ve ressam, eserlerini motiflerin binbir renk ve biçimiyle süslemiştir. Türk sanatında kullanılan bu motiflerden biri "ışın"dır. Bir ışık kaynağından çıkarak her yöne yayılan ışık demeti şeklinde oluşturulan bu motif, özellikle Osmanlı armalarında kullanılmıştır. Sürekliliği yansıtan "çarkıfelek" motifi; dünyanın dönüşünü, devinimi ve hayatı anlatır. Bu motifte, merkezden dışa doğru açılan çizgiler, rüzgârgülü gibi tek yönde şekillendirilerek oluşturulmuştur. Bir diğer motif olan "zencerek", belli bir düzenle birbirinin içinden geçirilmiş iplere benzeyen yapısından dolayı "mutluluk düğümü" olarak adlandırılmaktadır. Sonsuzluğu simgeleyen bu motif; güç, birlik ve mutluluğu da temsil eder.

Aşağıdakilerden hangisi bu metinde sözü edilen motiflerden biri değildir?



8. I. sorunlarına çözüm ararken
II. toplumun özelliklerini göz önünde
III. bir eğitim sisteminin
IV. o sistemi oluşturan kültürün ve
V. bulundurmamak gerekir

Numaralanmış sözler anlamlı ve kurallı bir cümle oluşturacak biçimde sıralandığında hangisi baştan üçüncü olur?

A) I.

B) II.

C) III.

D) IV.



9. Kerem, Leyla, Merve, Nihat ve Osman adlı kişiler, A ve B filmlerine gitmiştir. Bu kişilerin gittikleri filmlerle ilgili şunlar bilinmektedir:

- Her bir kişi sadece bir filme gitmiştir.
- Üç kişi A filmine gitmiştir.
- Merve ve Nihat aynı filme gitmiştir.
- Leyla ve Osman'ın gittiği filmler farklıdır.

Buna göre aşağıdakilerden hangisi kesinlikle B filmine gitmiştir?

- A) Osman
- B) Merve
- C) Kerem
- D) Leyla



10. Gazeteci:

(I) - - - -

Yazar:

– Bir film düşünün. Filmdeki kişileri, olayların ayrıntılarını beyninize kaydetmekte hiç zorlanmıyorsunuz. Çünkü bu bilgiler duygularla birlikte giriyor zihninize. Edebiyat da beyni duygusal olarak uyarıyor ve bilgiler bu uyarının açtığı kapılardan girip beyne yerleşiyor. Ben de yazdığım bu kitapta matematiği, duygularla birlikte vererek sevdirmeye çalıştım.

Gazeteci:

(II) - - - -

Yazar:

– Kaliteli kitaplara ulaşmak zor değil aslında. Bunu sağlamanın yöntemi, anne ve babaların kitap okumayı sevmeleri. Anne ve babasını kitap okurken gören çocuk, okumayı sever. Okumayı seven insan, süreç içinde kaliteli kitabı tanımaya gelir. Kaliteli kitaptan anlayan okurlar, yazarları da iyi kitap üretmeye zorlar. Seçici okurun olduğu yerde, kolaya kaçan yazar ve yayıncılar barınmaz. Kaliteli kitaplar böyle bir ortamda üretilir ve bunlara ulaşılması daha kolay olur.

Bu diyalogda boş bırakılan yerlere aşağıdakilerin hangisi getirilmelidir?

- A) (I) Çocuklar için yazılan bazı hikâyelerde matematiğin konu edilmesini nasıl karşılıyorsunuz?
(II) Bir kitabın kaliteli olup olmadığını nasıl anlarsınız?
- B) (I) Matematiği çocuklar için eğlenceli hâle getiren bu kitabı neden yazdınız?
(II) Çocukların nitelikli kitaplara ulaşabilmesinin yolu nereden geçiyor?
- C) (I) Bu kitabı, çocuklara matematiği sevdirmek için mi yazdınız?
(II) Ülkemizde yapılan çocuk yayıncılığını nasıl değerlendiriyorsunuz?
- D) (I) Çocukları bilimsel çalışmalarla, sanatla, felsefeyle, matematikle tanıştırmada edebiyatın rolü nedir?
(II) Nitelikli okur olmanın yolunun hangi aşamalardan geçtiğini düşünüyorsunuz?

11. Sanatçı, “Bugün hikâye, hayatımızın neresinde duruyor?” sorusu üzerinde düşünen, konuşan, tartışan bir eser ortaya koymuştur. Eserin metinlerine atılan başlıklar, az söz ile çok şey ifade etme özelliği gösteriyor. Başlıkları bu şekilde değerlendirmemin sebebi, onların metnin içeriğini dört başı mamur bir şekilde kuşatmasıdır. Kelime tekrarlarına kolay kolay düşmemesi, incelemelerini çalاکalem değil, söylediklerinin önünü ve arkasını doldurarak yapması gibi birçok neden, sanatçının güçlü bir kalemi olduğunu açık bir biçimde ortaya koyuyor.

Bu metinde aşağıdakilerden hangisinin anlamını karşılayan bir söz kullanılmamıştır?

- A) Gelişigüzel
- B) Anlaşılması güç
- C) Kısa ve öz anlatım
- D) Eksiksiz, kusursuz



12. Köyünden çıkıp zaman zaman aramıza katılan ve büyük bir halk şairi olan Âşık Veysel'le Ankara'da tanışmıştım. Olgunluğu, dürüstlüğü ve inceliğiyle beni kendisine hayran bırakan şair; bildiğini tam biliyor, bilmediğini samimiyetle söylüyordu. Hayatında önemli bir yere sahip olan sazını çalarken, ektiği buğdayı biçen bir köylü kadar doğaldı. Aynı doğallığı sazına şiir söylerken de gösteren şairin şiirlerinin çıkış noktasını insan ve vatan sevgisi, yaşama sevinci, kardeşlik duygusu ve barış özlemi oluşturuyor. Yenilikleri ve bilimsel gelişmeleri dikkatle takip eden Âşık Veysel, şiirlerinde bu konulara da yer vermiştir. Şiirlerini, yaşadığı topraktan beslenerek oluşturan Veysel'in ne kadar kendine mahsus bir tadı olduğunu ona yakından bakan herkes fark eder.

Âşık Veysel'e ait aşağıdaki dörtlüklerden hangisi, bu metinde sözü edilen konulardan biriyle ilişkilendirilemez?

- A) Avrupa Asya ayrı bir kıta
Bir yıllık yol idi deveye ata
Uçaklar sığdırdı beş on saate
Daha neler çıkar, dur belli değil
- B) Her ferдин hakkı var, bizimdir vatan
Babamız, dedemiz döktüler al kan
Hudut boylarında can verip yatan
Saygıyla anarız, şehit diyerek
- C) Gezdim dere tepe niceler gibi
Yağmurlu karanlık geceler gibi
Bir gemi deryada bocalar gibi
Geçirdim günümü gaflet içinde
- D) Benim her derdime ortak sen oldun
Ağlarsam ağladın, gülersem güldün
Sazım bu sesleri turnadan mı aldın
Pençe vurup sarı teli sızlatma

13. Aşağıda büyük harflerin kullanıldığı yerlerle ilgili bazı kurallar verilmiştir:

- Yer adları (kita, bölge, il, ilçe, semt vb.) büyük harfle başlar.

Uyarı: Özel ada dâhil olmayıp tamlama kuran şehir, il, ilçe, belde vb. sözcükler küçük harfle başlar.

- Yer adlarındaki ilk isimden sonra gelen ve deniz, nehir, göl, dağ, boğaz vb. tür bildiren ikinci isimler büyük harfle başlar.
- Yer, millet ve kişi adlarıyla kurulan birleşik kelimelerde sadece özel adlar büyük harfle başlar.

Bu kurallara göre,

- I. Dedem, geçen yıl bana bembeyaz bir Van kedisi almıştı.
- II. Türkiye'nin en önemli ulaşım noktalarından biri de Zigana geçididir.
- III. Marmaris'te bulunan Selimiye Köyü ziyaretçi akınına uğruyor.
- IV. Yarın akşam İç Anadolu'nun kuzey kesimlerinde yağış bekleniyor.

cümlelerinden hangilerinde yazım yanlışı yapılmıştır?

- A) I ve II.
- B) I ve IV.
- C) II ve III.
- D) III ve IV.



14. Birden çok yüklemlı cümlelerde öznenin bütün yüklemlerle uyumlu olması gerekir. Aksi takdirde özne eksikliđinden kaynaklanan anlatım bozukluđu ortaya çıkar.

Aşağıdakilerin hangisinde bu açıklamaya uygun bir anlatım bozukluđu vardır?

- A) Herkes doğayı korumak için elinden geleni yapmalı, sorumluluktan kaçmamalıdır.
B) Akşamları ben müzik dinlemeyi, kardeşim ise kitap okumayı tercih ediyordu.
C) Memleketime bir an önce dönmek istiyorum çünkü çok özledim.
D) Güneş her gün dünyamızı aydınlatıyor, sevinç ve mutluluk veriyordu.



15. Bazı sözcükler isim-fiil eki aldığı hâlde kalıplaşarak bir varlığın, kavramın ismi olur. Bunlar fiilimsi olarak kabul edilmez. Örneğin “Tatlı yemek istiyorum.” cümlesindeki “yemek” sözcüğü fiilimsidir, “Çok güzel bir yemek yaptım.” cümlesindeki “yemek” sözcüğü ise isimdir.

Buna göre aşağıdakilerin hangisinde fiilimsi eki aldığı hâlde, kalıplaşarak bir varlığı veya kavramı karşılayan sözcük yoktur?

- A) Görüşlerinizi bizimle paylaşabilir misiniz?
- B) Bir bebeğin gülüşü hangi insanı mutlu etmez?
- C) Sofrada, haşlanmış yumurta ve kavurma vardı.
- D) Çakmak, kibritten önce bulunmuştur.



T.C. İnkılap Tarihi ve Atatürkçülük Örnek Soruları

1. Aşağıda I. Balkan Savaşı öncesinde ve sonrasında Osmanlı Devleti ve Balkan ülkelerini gösteren haritalara yer verilmiştir.



I. Balkan Savaşı öncesinde Balkanlar



I. Balkan Savaşı sonrasında Balkanlar

Bu haritalara göre I. Balkan Savaşı'nın sonuçları ile ilgili aşağıdakilerden hangisi söylenemez?

- A) Sırbistan, Karadağ ve Yunanistan, sınırlarını genişletmiştir.
- B) Karadağ'ın Osmanlı Devleti ile kara bağlantısı kalmamıştır.
- C) Osmanlı'nın Balkanlardaki tek sınır komşusu Bulgaristan olmuştur.
- D) Osmanlı Devleti Avrupa kıtasındaki topraklarının tamamını kaybetmiştir.

2. Kazım Karabekir Paşa, Gümrü Antlaşması ile ilgili olarak şunları söylemiştir: “Ermenilerin Sevr Antlaşması’ndaki imzalarını geri aldık.”

Kazım Karabekir Paşa bu sözüyle aşağıdakilerden hangisini anlatmak istemiştir?

- A) Sevr Antlaşması Ermeni Hükûmeti tarafından geçersiz sayılmıştır.
- B) Doğu Anadolu’da iki yeni devletin kurulmasına karar verilmiştir.
- C) Ermeni Hükûmeti, Sevr Antlaşması’nın yeniden düzenlenmesini istemiştir.
- D) İtilaf Devletleri Sevr Antlaşması’nı yok saymışlardır.



3. Atatürk'e göre, Türk Devleti'nin dayandığı esaslar, tam bağımsızlık ve kayıtsız şartsız millî egemenliktir. Atatürk tam bağımsızlığı, "siyasi, mali, ekonomik, adli, askeri, kültürel kısaca her hususta bağımsızlık ve serbestlik" olarak tanımlamaktadır. **Buna göre aşağıdakilerden hangisi millî bağımsızlık doğrultusunda yapılanlardan biri değildir?**

- A) Kapitülasyonların kaldırılması
- B) Büyük Millet Meclisinin açılması
- C) Manda ve himayenin reddedilmesi
- D) Çok partili hayata geçiş denemeleri



4. Trakya Paşaeli Müdafaa-i Hukuk Cemiyeti, Rumların bölgede yaptıkları isyanlara ve Yunanların işgaline karşı kurulmuştur. Bölgenin kültürel, ekonomik, nüfus bakımından Türklere ait olduğunu tarihi belgelerle ispatlamak için çalışmalar yapmıştır. Edirne'de iki defa kongre yaparak silahlı direniş kararı almış, gerekirse yerli halktan asker toplanabileceğini ilan etmiştir.

Buna göre Trakya Paşaeli Müdafaa-i Hukuk Cemiyeti;

- I. Bölgenin Türklere ait olduğunu ispat etmeye çalışmıştır.
- II. Bölgesel nitelikte kongreler yapmıştır.
- III. İşgallere karşı silah kullanılabileceğini belirtmiştir.
- IV. Askere alma işlemlerini zorunlu hale getirmiştir.

yargılarından hangilerine ulaşılabilir?

- A) I ve II.
- B) II ve III.
- C) I, II ve III.
- D) I, II, III ve IV.



5. 12 Ocak 1920'de Mebusan Meclisi, İstanbul'da çalışmalarına başlamış ve 17 Şubat 1920'de Misakımillî Kararları tüm dünyaya ilan edilmiştir. Ancak İtilaf Devletleri Misakımillî Kararları'nın kabulünden rahatsız olmuştur. 16 Mart 1920'de İngilizler, toplantı halinde olan Mebusan Meclisi'ni basmış ve dağıtmıştır.

Bu metinde verilen bilgilere göre İtilaf Devletlerinin aşağıdakilerden hangisini amaçladığı söylenebilir?

- A) İstanbul Hükûmeti'ne yardım etmeyi
- B) Millî iradeyi ortadan kaldırmayı
- C) Misakımillî'yi kabul ettirmeyi
- D) Yeni bir meclis oluşturmayı



Din Kültürü ve Ahlak Bilgisi Örnek Soruları

1. Hz. Muhammed bir keresinde, “Müflis kimdir, bilir misiniz?” diye sorar. Sahabe “Bizim aramızda müflis, parası ve eşyası olmayan kimsedir.” diye karşılık verince şöyle buyurur: “Benim ümmetimden müflis o kimsedir ki kıyamet gününde namaz, oruç ve zekât gibi ibadetlerin sevabıyla gelmiş ancak şuna sövmüş, buna iftirada bulunmuş, ötekinin malını yemiş, berikinin kanını dökmüş, diğerini de dövmüştür. Bu nedenle, hesap gününde hakkına girdiği kimselere onun iyiliklerinden alınıp dağıtılır. Eğer yaptığı iyilikleri kötülüklerinin cezasını karşılamaya yetmezse hak sahiplerinin günahlarından alınarak onun üzerine yüklenir. Sonra da günahkâr bir kimse olarak cehenneme atılır. İşte asıl müflis bu kişidir.”

Bu hadiste aşağıdakilerden hangisi vurgulanmaktadır?

- A) Yararsız işlerden kaçınma
- B) Kul hakkından uzak durma
- C) Hatalarından ders çıkarma
- D) Bolluk ve darlıkta infak etme



2. Dere yatağına ev yapan Mustafa Bey yaşanan sel felaketinden sonra “Ne yapayım? Kaderim böyleymiş.” diye yakınır.

Buna göre onun kader anlayışıyla ilgili,

- I. Kaderi pasif bir duruş olarak görmüştür.
- II. Kaderde, insanın sorumluluğunun olmadığına inanmıştır.
- III. Kaderi, önünde duramayacağı bir güce boyun eğme olarak anlamıştır.

sonuçlarından hangileri çıkarılabilir?

- A) I ve II.
- B) I ve III.
- C) II ve III.
- D) I, II ve III.



3. “Sadakalar (zekât gelirleri) ancak şunlar içindir: Yoksullar, düşkünler, sadakaların toplanmasında görevli olanlar, kalpleri kazanılacak olanlar, azat edilecek köleler, borçlular, Allah yolunda (çalışanlar) ve yolda kalmışlar. İşte Allah'ın kesin buyruğu budur. Allah bilmekte ve hikmetle yönetmektedir.”

(Tevbe suresi, 60. ayet)

Bu ayet aşağıdaki sorulardan hangisinin cevabıdır?

- A) Kimler zekâtı verir?
- B) Zekât kimlere verilir?
- C) Nelerden zekât verilir?
- D) Zekât ne zaman verilir?



4. "Bir hurmanın yarısı da olsa onu sadaka olarak vererek ateşten korunun! Kim yarım hurma bulamazsa güzel bir sözle korunsun!"

Bu hadisten aşağıdakilerden hangisine ulaşamaz?

- A) İslam dini yardımlaşmaya çok önem verir.
B) Yardımların gizli yapılması daha doğru olur.
C) Yapılan iyilikten, iyilik yapan kişi de fayda görür.
D) İnsandan gücü oranında yardım etmesi beklenir.



5. • Telif hakkı, kişinin her türlü fikrî emeği ile meydana getirdiği ürünler üzerinde hukuken sağlanan haklardır.
• İslam'da da bir insanın malını onun izni olmadan almak ve kullanmak günah sayılmış ve yasaklanmıştır.

Buna göre aşağıdaki ayet ve hadislerden hangisi “telif hakkı” ile ilişkilendirilemez?

- A) “Ey iman edenler! Birbirinizin mallarını batıl yollarla yemeyin. ...”
(Nisâ suresi, 29. ayet)
- B) “Hiç kimse kendi el emeğiyle kazandığından daha hayırlı bir lokma yememiştir...”
(Hadis-i Şerif)
- C) “Kim Allah için elindekinden verir ve sakınıp O’nu tasdik ederse, biz onun işlerini kolaylaştırır, onu başarılı kılarız.”
(Leyl suresi, 5-7. ayetler)
- D) “İnsanların mallarını haksız yere yemeleri sebebiyle önceden kendilerine helal kılınmış temiz ve hoş şeyleri onlara haram kıldık.”
(Nisâ suresi, 160. ayet)



İngilizce Örnek Soruları

Answer the question according to the dialogue between Jack and Carlos.

1.

I am Jack from Radio News.
We are with Carlos from Brazil.
What does a traditional breakfast include in Brazil, Carlos?

Well! Bread, fruit and some milk.

Sounds healthy! ----

It's Japanese food, especially Sushi.

Twice a week.

And one last question! ----

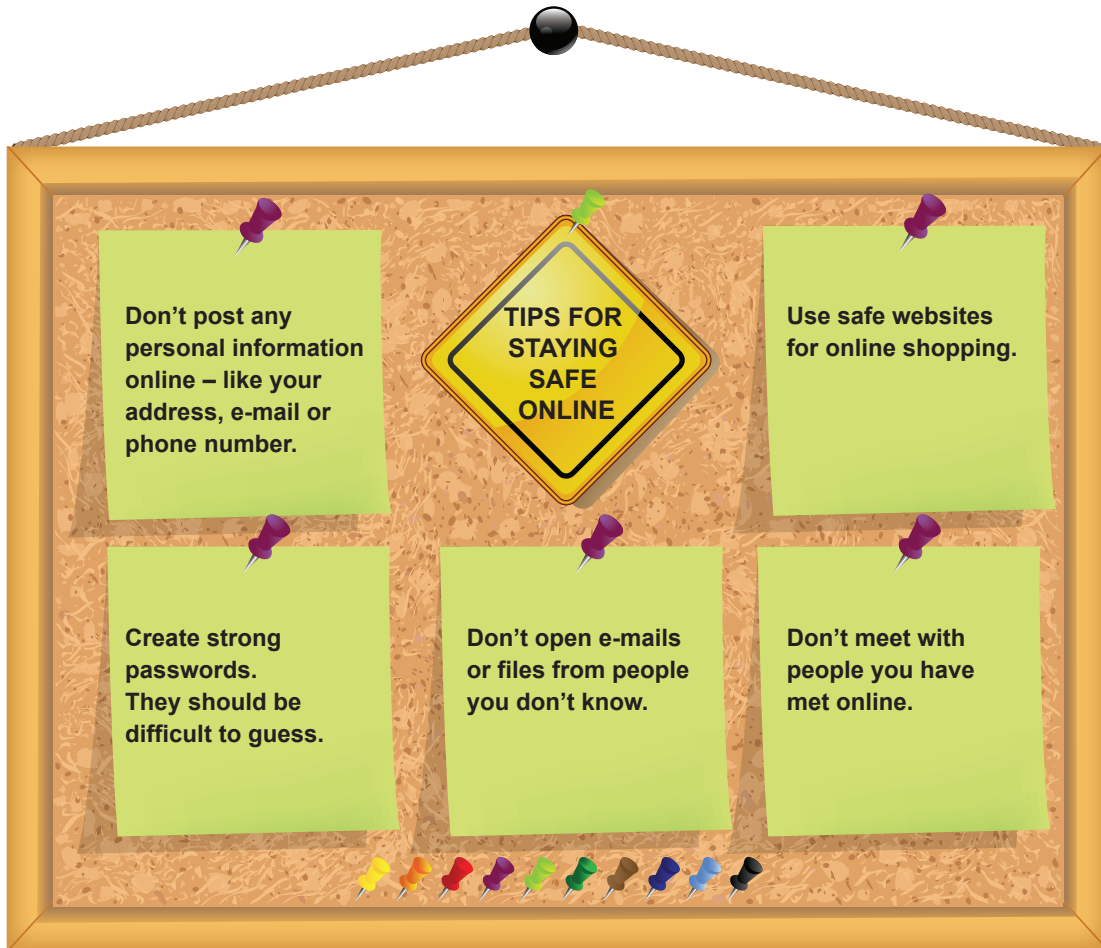
Not me, definitely! 😊
It is my sister.

Which question DOES NOT Jack ask Carlos?

- A) How often do you eat Japanese food?
- B) Why do Japanese people like Sushi?
- C) Who cooks well in your family?
- D) What is your favorite food?

Answer the question according to the texts below.

2.



Which option best completes the sentence?

If you want to be safe online, you should - - - - .

- A) invite people you met online to your house
- B) create a password such as your birthday
- C) buy things from websites you trust
- D) tell the place of your school

Answer questions 3–4 according to the text below.

3.

NEWSPAPER

?

The Internet has harmful effects, especially on young people. It can damage their social life, education and physical health. Firstly, young people don't have many real friends, just online ones. Also, they get bad grades. Many students play computer games, but they don't do their homework. Another bad effect is on their physical health. For example, young people can have problems with their eyes because they look at the screen for a long time. So, young people should spend less time on the Internet.

What can be the best title for the text?

- A) Dangerous Effects of Internet on Physical Health
- B) Disadvantages of Internet on Young People
- C) Social Life, Online Friends and Internet
- D) Internet: Bad for Teen's Education

4. Complete the sentence.

If young people want to have better grades, they should - - - -.

- A) have real friends
- B) sit far away from the screen
- C) study more for their lessons
- D) play online games with their friends



Look at the brochures and read the text below. Complete the sentence according to them.

5.

The image shows two brochures side-by-side. The left brochure is for Paragliding, featuring a blue background with a white parachute. The right brochure is for Scuba Diving, featuring a light blue background with a diver and a whale. Both brochures list activities, dates, and costs.

PARAGLIDING

- ▶ Are you an adventurer?
- ▶ Do you enjoy watching the view over the sky?
- ▶ What about paragliding together?

Date : **28th May**

- ✓ \$ 50 for each person
- ✓ Free food
- ✓ Free bus service
- ✓ Paragliding parachute needs \$ 30

Contact us at prgldng@prgldng.com

SCUBA DIVING

- ▶ Are you an adrenalin lover?
- ▶ Do you want to explore the world under water with professional trainers?

Then, join us
on **17th April.**

- ✓ \$ 50 for each person
- ✓ Free transportation
- ✓ Equipment included
- ✓ Free sandwiches for lunch

Contact us at scuba@diving.com

Steve loves extreme sports a lot. So far, he has tried several activities such as rafting and rock climbing. He wants to try a different sport, but he doesn't have much money. He has two options. He prefers going scuba diving because - - - - .

- A) it is on April 17
- B) he doesn't like free food
- C) it offers free transportation
- D) he won't pay for equipment

CEVAP ANAHTARI

TÜRKÇE

1. D
2. B
3. C
4. D
5. A
6. B
7. A
8. D
9. C
10. B
11. B
12. C
13. C
14. A
15. B

T.C. İNKILAP TARİHİ VE ATATÜRKÇÜLÜK

1. D
2. A
3. D
4. C
5. B

DİN KÜLTÜRÜ VE AHLAK BİLGİSİ

1. B
2. D
3. B
4. B
5. C

İNGİLİZCE

1. B
2. C
3. B
4. C
5. D

