



T.C.  
MİLLÎ EĞİTİM BAKANLIĞI  
ÖLÇME, DEĞERLENDİRME VE SINAV HİZMETLERİ GENEL MÜDÜRLÜĞÜ

## 8. Sınıf Öğrencileri İçin Çalışma Soruları

Bu kitapçık Balıkesir İl Milli Eğitim Müdürlüğü  
Ölçme Değerlendirme Merkezi tarafından hazırlanmıştır.

- Bu kitapçıkta 8. sınıf düzeyi I. dönem konularını kapsayan sorular bulunmaktadır.
  - Türkçe : 16 soru
  - Matematik : 10 soru
  - Fen Bilimleri : 4 soru
  - T. C. İnkılap Tarihi ve Atatürkçülük : 15 soru
  - Din Kültürü ve Ahlak Bilgisi : 6 soru
  - İngilizce : 11 soru

## Türkçe Soruları

1. “Sivrilmek” sözcüğü aşağıdaki cümlelerin hangisinde “başkalarını geride bırakıp yükselmek veya ün kazanmak” anlamında kullanılmıştır?

- A) Çenesine doğru sivrilen ince bir yüzü vardı.
- B) Köpeğimin dişleri çok sivri görünüyordu.
- C) Dönemin yazarları arasında bir tek o sivrilmişti.
- D) Uzun bir uğraştan sonra kaleminin ucu iyice sivrilmişti.

2. I. Annem boş turşu kavanozlarını yıkadı.  
II. Satıcı çok boş konuşuyormuş.  
III. Boş adamlarla bu konuyu tartışmam.  
IV. Öğrenciler gidince sınıf boş kaldı.

Numaralanmış cümlelerin hangilerinde “boş” sözcüğü mecaz anlamıyla kullanılmıştır?

- A) I ve II.
- B) I ve III.
- C) II ve III.
- D) II, III ve IV

3. Çok güzel, çok başarılı hatta olağanüstü şiirler yazan şairler vardır. Ama bunlar, her zaman kendilerine has bir dünya yaratmayı başaramamış olabilirler.

Bu parçada altı çizili ifadeyle şairlerin hangi özelliği yakalayamadıkları vurgulanmıştır?

- A) Özgünlüğü
- B) Sadeliği
- C) Akıcılığı
- D) Tutarlılığı

4. Başlık, gazete okurları üzerinde canlı ve uyarıcı bir etki bırakır. Kısa haberler sunar ve okumaya isteklendirir. Bir gazetenin sayfalarını hızla çeviren kişi, ilginç başlıklar ve fotoğraflar görünce bir an durur. Bu yüzden başlıklar, gazeteye şöyle bir göz gezdirenleri bile okumaya sevk etmelidir. Başlıkların bu etkiyi yaratabilmeleri için hem açık bir ifade biçimine hem de biraz hayal gücüne sahip olmaları beklenir. Haberlerin canlı başlıklarla, okumaya isteklendirici biçimde sunulması gazetecilerin elindedir.

Bu metinde gazete başlıklarıyla ilgili olarak aşağıdaki özelliklerin hangisine değinilmemiştir?

- A) İlgi çekici olma.
- B) Konuya uygun olma.
- C) Okumaya yönlendirme.
- D) Okuyucusunu etkileme.

5. Kalbimize dokunan güzel türküler çalardı bize göçüp giden usta sanatçı.

**Bu cümlede aşağıdaki öğelerden hangisi yoktur?**

A) Zarf tümleci

B) Belirtisiz nesne

C) Özne

D) Yer tamlayıcısı

6. Bazı kırılmış kalpler sitem etmek ister. Bu sitemleri kendisinden daha iyi dile getiren şairlerin birbirinden güzel şiirlerine yönelir.

**Bahsedilen insanlar aşağıdaki şiirlerden hangisini okumak isteyeceklerdir?**

A) Ağaç gece seyredilir

Su da gümüşten güzeldir

İstanbulu Nedim için

B) Tahir olmak da ayıp değil Zühre olmak da

Hatta sevda yüzünden ölmek de ayıp değil

Bütün iş Tahir'le Zühre olabilmekte.

C) Ne vakit Maçka'dan geçsem

Limanda hep gemiler olurdu

Ağaçlar kuş gibi gülerdi

D) Kolum kanadım diyorum

Yurdum diye seviyordum

Sevdalanıp, gidiyorum.

7. Yaşamak, zorlukların üstesinden gelmek, başarı merdivenlerini tırmanabilmek için insanların birbirlerine ihtiyaçları vardır. Birinin görüşlerinin tükendiği yerde, diğerinin zekâsı ve önerileri sonuca ulaşmada yararlı olabilir.

**Aşağıdaki atasözlerinden hangisi metinde anlatılan düşüncelerle ilgili değildir?**

A) Yalnız taş duvar olmaz.

B) Baş başa vermeyince taş yerinden kalkmaz.

C) Allah yardım ederse kuluna her iş girer yoluna.

D) Bir elin nesi var iki elin sesi var.

8. Ahmet YAKUPOĞLU; akarsu, deniz gibi içinde su olan manzaraları resmeder. 1920 yılında Kütahya'da doğan sanatçı "Suların Ressamı" adıyla bilinir.

**Bu iki cümlede ifade edilenlerin anlamca doğru bir biçimde birleştirilmiş hali aşağıdakilerden hangisidir?**

- A) 1920 yılında Kütahya'da doğan Ahmet Yakupoğlu akarsu, deniz gibi manzaraları resmeden bir sanatçıdır.  
B) Kütahyalı ressam Ahmet Yakupoğlu su resimleri yaptığından 1920'de "Suların Ressamı" adını almıştır.  
C) Ahmet YAKUPOĞLU, 1920 yılında Kütahya'da doğmuş sadece su resimleri yapan ünlü bir ressamdır.  
D) Kütahya'da 1920 yılında doğan Ahmet YAKUPOĞLU içinde su olan manzaraları resmeder ve "Suların Ressamı" olarak bilinir.

9. Aizonai Antik Kenti Kütahya ilinin Çavdarhisar ilçesi sınırları içindedir. Antik kentte yapılan kazı çalışmalarında kentin Helenistik ve Roma dönemlerinde önemli bir merkez olduğu ortaya çıkmıştır. Aizonai Antik Kenti'nin en önemli özelliği ise dünyadaki en eski borsaya sahip olmasıdır. Bu da kentin zamanında çok önemli bir ticaret merkezi olduğuna işaret eder. Zeus adında bir tanrı için bir tapınak ve Zeus'a karşı gelenlerin cezalandırıldığı bir zindanın olması tarihsel açıdan önemli bir yer olduğuna işaret eder. Efes Antik Kenti'nden sonra ayakta kalabilmeyi başaran en büyük antik kent olma özelliğinden dolayı Kütahya'ya gelen herkesin mutlaka gezip görmesi gereken bir yerdir.

**Metinde antik kentle ilgili olarak aşağıdakilerden hangisine ulaşılmaz?**

- A) Konumuna  
B) Tarihsel önemine  
C) Borsasının günümüzde de kullanıldığına  
D) İçinde Zeus adına yapılmış bir tapınak olduğuna

10. **Aşağıdaki cümlelerin hangisinde virgül diğerlerinden farklı bir görevde kullanılmıştır?**

- A) Kenan Bey, senelerdir görmediği kardeşini karşısında görünce ne yapacağını bilemedi.  
B) Sınav soruları, öğretmeninizin yoğun uğraşları ve titiz çalışmaları ile hazırlanmıştır.  
C) Hayat, insanlara türlü zorluklara rağmen her zaman kendi ayakları üzerinde durmayı öğretiyor.  
D) Arkadaşlar, sınav sorularını neden böyle sorduğumu ben de bilmiyorum.

11.

Günler	Bahattin	Mahmut
Pazartesi	14 ₺	12 ₺
Salı	13 ₺	14 ₺
Çarşamba	11 ₺	16 ₺
Perşembe	8 ₺	10 ₺
Cuma	17 ₺	19 ₺

Yukarıdaki tabloda Bahattin ile Mahmut'un hafta içi okul kantininde harcadıkları para miktarı gösterilmiştir.

**Buna göre aşağıdakilerden hangisi yanlıştır?**

- A) Salı günü kantinden aynı şeyleri almışlardır.
- B) Mahmut perşembe günü Bahattin'den 2 lira fazla harcamıştır.
- C) İkisi de cuma günü pazartesiye göre daha çok harcamışlardır.
- D) En az perşembe günü para harcamışlardır.

12. Bir fiilin sebebiyle birlikte verildiği cümlelere "sebe-sonuç" cümlesi denir.

**Aşağıdaki cümlelerden hangisi sebe-sonuç cümlesidir?**

- A) Soruları çözmek için çok uğraştım.
- B) Sınavlarda çalışırsan başarılı olursun.
- C) Çocuk düşünce, dizi kanamaya başladı.
- D) Balık avlamaya dere kenarına gitti.

13. Sıfat-fiiller kendilerinden sonra gelen ismin eklerini kendi üzerine alıp adlaşmış sıfat-fiil haline gelebilir. "Sınıf başkanı konuşanları tahtaya yazdı." cümlesindeki konuşanlar sözcüğü buna örnek bir kullanımdır.

**Aşağıdakilerden hangisinde adlaşmış sıfat-fiile örnek bir kullanım vardır?**

- A) Çantadan çıkan eşyalarını topladı.
- B) Sevdiğine kavuşmadan gitti.
- C) Çalışkan öğrenci kendini belli eder.
- D) Nenemin öpülesi ellerini özledim.

14. Balıkçı Kenan teknesiyle avlanmaya çıkar. **Kefal, levrek, mercan, çupra ve sardalya** cinsi balıklar tutarak geri döner. Döndüğünde balıkları satabilmek için raflara dizmektedir. Balıkların raflara dizilme düzeni satışları etkilediği için balıkları 1'den 5'e kadar numaralandırılmış raflara yerleştirir. Bu sıralamayla ilgili aşağıdakiler bilinmektedir.

- I. Kefalden sonraki rafa levrek konmuştur.  
II. Mercan ile kefal arasında başka türlerde iki balık vardır.  
III. Sardalya 2. rafta yerini almıştır.

**Buna göre aşağıdakilerden hangisi yanlıştır?**

- A) Mercan, kefalden önceki rafların birindedir.  
B) Levrek balığı 5. raftadır.  
C) Kefal balığı 1. raftadır.  
D) Sardalyadan sonra çupra sıralanmıştır.

15. I. Pazardan aldığın kazak Kenan'ın üzerindeydi.  
II. Geç fark ettim bana yapılan bu haksızlığı.  
III. Senin kalemin benim çantamda kalmış.  
IV. Ağlayan çocukların sesini dinlemekle geçti sınavım.

**Numaralanmış cümlelerden hangisi sadece temel öğelerden oluşmuştur?**

- A) I. cümle                      B) II. cümle                      C) III. cümle                      D) IV. cümle

16. Ayaklı TDK olarak gezin demiyoruz, ama arkadaşım bazı kelimeler var ki inatla neden yanlışını söylüyoruz? Neden yanlışını yazıyoruz? Neden yanlış yapmakta ısrar ediyoruz? Çevremizdekilerin 'hayır, doğrusu şu' diye uyarmaktan dillerinde tüy bittiği kelimeleri artık doğru kullanalım. Doğru telaffuz edelim. Doğru yazalım.

**Aşağıdaki cümlelerin hangisinde bu parçada eşleştirilen duruma örnek vardır?**

- A) Özellikle yay, kova ve ikizler burcu olan insanlar orijinal olarak nitelendirilir.  
B) Sömestr tatilini anlatan İngilizce bir paragraf yazınız.  
C) Aradığın gardırop modeli en uygun kampanyalar ve fiyatlarla seni bekliyor.  
D) İnsanoğlu işlerini kolaylaştırmak için akıllı makineleri icat etti, fakat sonra onların taklidi, esiri, oyuncacı oldu.

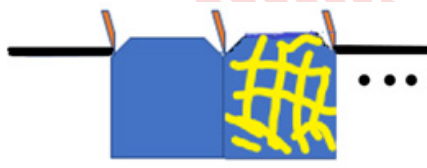
## Matematik Soruları

1. Ali balkona iki sepet çamaşır çıkarmıştır. Ali, birinci sepetteki  $x$  tane çamaşırı Şekil-1' deki gibi düz bir tele her bir çamaşır için iki mandal kullanarak asıyor.



Şekil-1

Ali, ikinci sepetteki  $x^2$  tane çamaşırı Şekil-2'deki gibi düz bir tele her iki çamaşıra üç mandal kullanarak asıyor.



Şekil-2

Buna göre Ali'nin tüm çamaşırılar için kullandığı mandal sayısını veren cebirsel ifade hangisidir?

- A)  $3x^2 + 1$       B)  $x^2 - 1$       C)  $(x + 1)^2$       D)  $x^2 + 1$
2. Pilates, yirminci yüzyılın başlarında geliştirilmiş bir spordur. Bu sporda temel olarak kullanılan malzeme, üzerinde hareketlerin yapıldığı yere serilen mattır.



Bir matın uzun kenarının ölçüsü kısa kenarının 3 katı kadardır. Kısa kenarı  $(x+4)$  birim olan matın birimkare cinsinden yüzey alanını veren cebirsel ifade aşağıdakilerden hangisidir?

- A)  $x^2 + 12x + 48$       B)  $x^2 + 24x + 36$       C)  $3x^2 + 24x + 48$       D)  $3x^2 + 24x + 4$

3. Yağmur ile Elif sayı tahmini oyununu oynuyorlar. Oyuna göre; bir kişi aklından aşağıdaki şartları sağlayan bir sayı tutuyor. Oyuna Yağmur başlıyor ve aklından tuttuğu sayı ile ilgili aşağıdaki ipuçlarını veriyor.

- 200 ile 500 arasında üç basamaklı bir sayıdır.
- Onlar basamağı 7 den büyüktür.
- Birler basamağındaki rakam çifttir.

**Buna göre Elif' in bu sayıyı ilk tahmininde bulma olasılığı kaçtır?**

A)  $\frac{1}{30}$

B)  $\frac{1}{40}$

C)  $\frac{1}{50}$

D)  $\frac{1}{60}$

4. Plüton gezegeni 2006 yılında uluslararası gök bilim toplantısı sonucu cüce gezegen sınıfına alınarak Güneş sistemindeki gezegen sayısı 8'e düşmüştür



Kütlesi  $1,305 \cdot 10^{22}$  kg olan bu cüce gezegenin  $\frac{1}{3}$ 'ü buzullardan,  $\frac{2}{3}$ 'ü kayalardan oluşmuştur.

**Buna göre kayalardan oluşan bölümün ton cinsinden bilimsel gösterimi aşağıdakilerden hangisidir? (1 ton= 1000 kg)**

A)  $4,35 \cdot 10^{18}$

B)  $8,7 \cdot 10^{18}$

C)  $4,35 \cdot 10^{21}$

D)  $8,7 \cdot 10^{19}$



5. Ayşe'nin hafta içi günlerde çözdüğü soru sayısı Tablo-1'de gösterilmiştir.

Tablo-1: Günlere Göre Soru Sayısı Dağılımı

Günler	Soru Sayısı
Pazartesi	$2^6$
Salı	$4^2$
Çarşamba	$9^2$
Perşembe	$3^2$
Cuma	$10^2$

Bu veriler daire grafiğinde gösterildiğinde perşembe gününe ait daire diliminin merkez açısı kaç derece olur?

A) 10

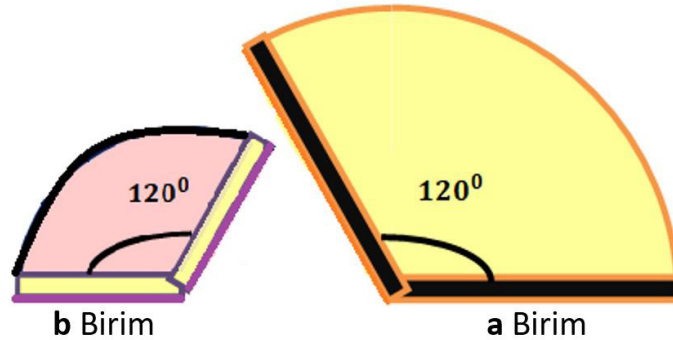
B) 12

C) 32

D) 64

6. Yarıçapı, "r" olan daire diliminin alanı  $A = \pi \cdot r^2 \cdot \frac{\alpha}{360^\circ}$  'dir.

Bir alışveriş merkezinin girişinde güvenlik ve giriş kapısı olmak üzere genişliği **a** birim ve **b** birim olan iki kapı bulunmaktadır. Bu kapıların, en fazla açıldığında hareket ettikleri bölgelerin üstten görünüşü aşağıda verilmiştir. Kapılar, açılıp kapanırken hareket ettiği bölgeyi süpürmektedir.



Buna göre kapı altındaki aparatlar ile süpürülen bölgenin alanı birimkare cinsinden aşağıdakilerden hangisidir?

( $\pi=3$  alınacaktır.)

A)  $a^2 + b^2$

B)  $a^2 - b^2$

C)  $3 \cdot (a^2 + b^2)$

D)  $3 \cdot (a^2 - b^2)$

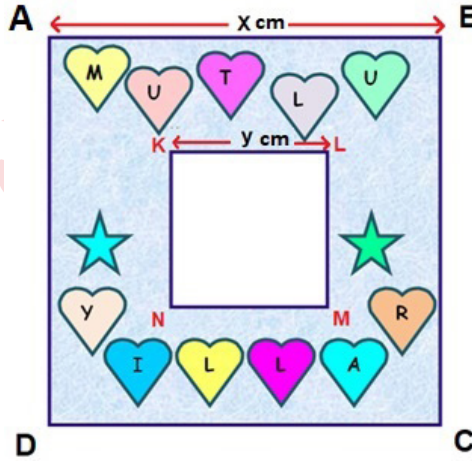
7. Bir doğal sayı, asal sayıların çarpımı şeklinde yazılıyor. Bu asal sayıların her biri özdeş kartlara yazılıp boş bir kutuya atılıyor. Örneğin 36 sayısının asal sayıların çarpımı şeklinde yazılışı 2.2.3.3 olduğundan; her bir karta bir asal sayı yazılarak boş bir kutuya atılıyor.

Buna göre bu işlem aşağıdaki sayılardan hangisi ile ayrı ayrı yapılırsa; kutudan rastgele çekilen bir kartın üzerindeki sayının 2 olma olasılığı diğerlerinden daha fazla olur?

- A) 72                      B) 144                      C) 180                      D) 230

8. Koray doğum gününde fotoğraf çekiminde kullanılmak üzere; bir kartonu aşağıdaki şekilde gibi keserek bir fotoğraf çerçevesi yapıyor.


- ABCD karesi ile KLMN karesinin çevrelerinin toplamı 312 cm dir.
- ABCD karesinin alanı ile KLMN karesinin alanının farkı  $702 \text{ cm}^2$  dir.



Buna göre  $x - y$  kaç santimetredir?

- A) 7                      B) 9                      C) 11                      D) 12

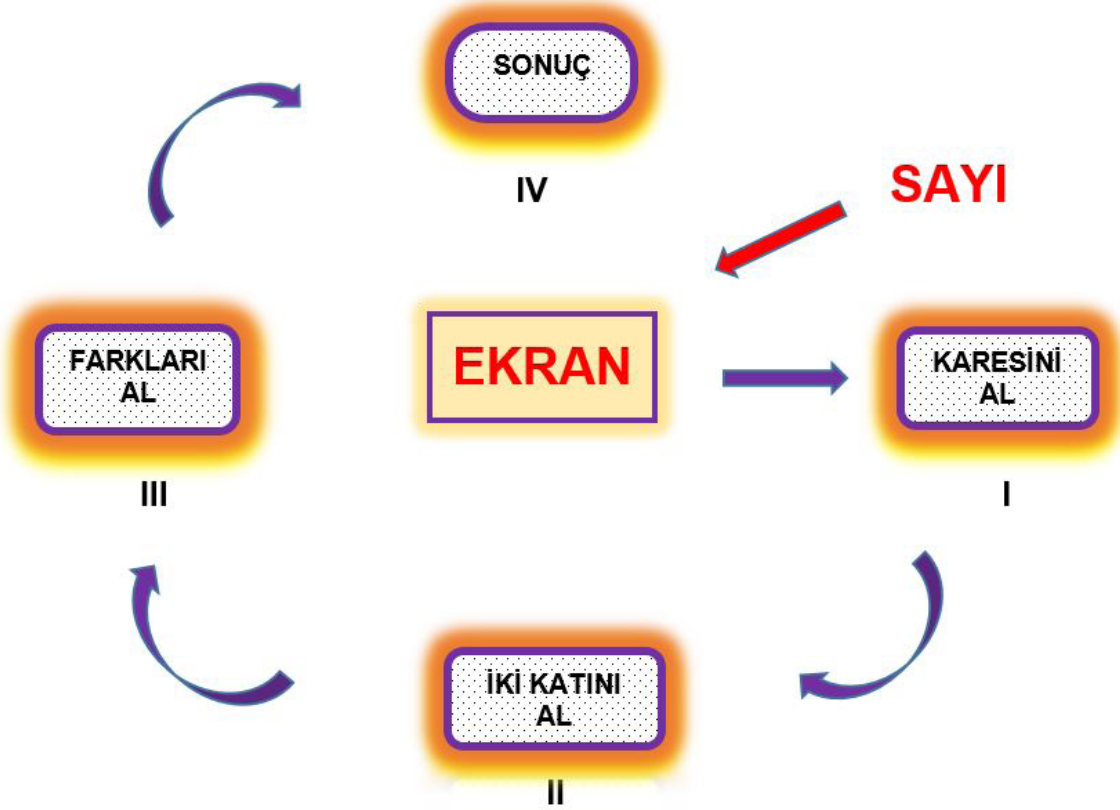
9. Yağız, şekilde verilen çiçeğin yapraklarında yazan üslü ifadeleri çarpmaktadır.



Buna göre Yağız'ın bulduğu sayı kaç basamaklıdır?

- A)17 B) 18 C) 19 D) 20

10. Dijital bir uygulamada, ekrana gönderilen sayıya sırasıyla I. ve II. aşamadaki komutlar uygulanmaktadır. III. aşamada ise I. aşamada bulunan değerden II. aşamada bulunan değer çıkarılarak sonuç bölümüne yazılmaktadır. Uygulamada, ekrana  $(-3)^2$  sayısının girilmesi istenmiş fakat  $(-3)^2$  yerine yanlışlıkla  $(-2)^3$  değeri girilmiştir.

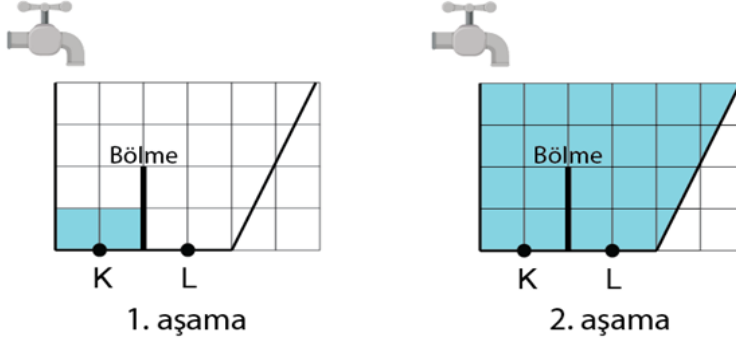


Buna göre bulunan yanlış sonuç değeri istenen sonuç değerinden ne kadar fazladır?

- A) 12 B) 15 C) 17 D) 19

## Fen Bilimleri Soruları

1. Bir bölme ile ayrılmış kap eşit hacimleri temsil eden bir düzlem üzerine konulmuştur. Kap birbirini takip eden iki aşama ile eşit zaman aralıklarında eşit hızda su akan bir musluk ile şekildeki gibi dolduruluyor.



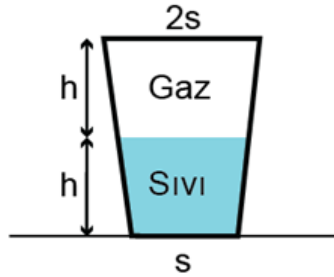
1. aşama 4 dakikada tamamlanıyor ve K noktasındaki sıvı basıncı P kadar oluyor. Sonra musluk tekrar açılıyor ve 2. aşama tamamlanıyor.

Buna göre deneyin 2. aşamasında,

- I. 8 dakika sonra L noktasındaki sıvı basıncı P olur.
- II. 36 dakika sonra L noktasında oluşan basınç, başlangıçta K noktasındaki basıncın 4 katı kadar olur.
- III. Suyun musluktan akış hızı 2 katına çıkarılırsa, 5. dakikada K ve L noktalarındaki basınçlar birbirine eşit olur.

İfadelerinden hangileri doğrudur?

- A) Yalnız I.      B) Yalnız II.      C) I ve II.      D) I ve III.
2. Şekildeki S yüzeyi üzerinde duran kabın içinde su ve gaz bulunmaktadır.



Kabın içine 100 ml daha su ekleniyor.

Buna göre son durumda,

- I. Zemine uygulanan katı basıncı artar.
- II. Kabın tabanına uygulanan sıvı basıncı artar.
- III. Kabın yan duvarlarına uygulanan sıvı basıncı artar.

İfadelerinden hangileri doğru olur?

- A) I ve II.      B) I ve III.      C) II ve III.      D) I, II ve III.

3. Aşağıda bazı modifikasyon örnekleri verilmiştir.

- I. Bitkilerin yapraklarının sararması.
- II. Arı larvalarından kraliçe ya da işçi arı olması.
- III. Çuha bitkisinin çiçek renginin değişmesi.

Verilen modifikasyon örneklerinin ortaya çıkışını sağlayan çevresel faktörler hangi seçenekte doğru verilmiştir?

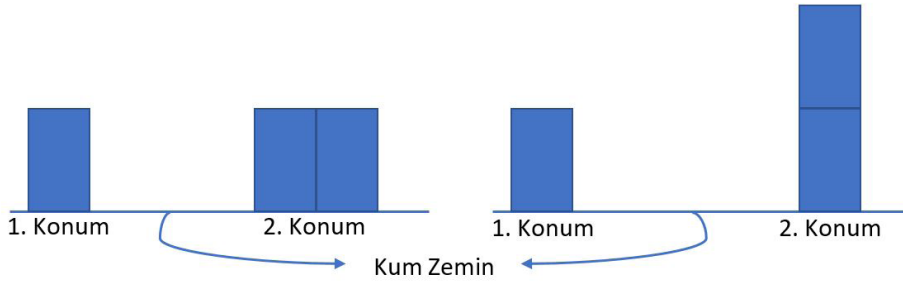
	I	II	III
A)	Işık	Nem	Besin
B)	Besin	Sıcaklık	Işık
C)	Sıcaklık	Besin	Işık
D)	Işık	Besin	Sıcaklık

4. Katılar buldukları yüzeylere ağırlıklarından dolayı basınç uygularlar. Uygulanan katı basıncı cismin ağırlığı ile doğru orantılı, yüzey alanı ile ters orantılıdır.

Şekildeki özdeş bloklarla oluşturulan deney düzeneklerinde, blokların kum zemin üzerinde bıraktıkları izler ölçülüyor.

1. Deney

2. Deney



Deneylerin sonucuna göre,

- I. 1. deneyde basıncın yüzey alanı ile ilişkisi araştırılmıştır.
- II. 2. deneyde basınç ile ağırlık ilişkisi araştırılmıştır.
- III. 1. deneyde birim düzeye etki eden dik kuvvetler araştırılmıştır.

yargılarından hangileri doğrudur?

- A) Yalnız II.                      B) Yalnız III.                      C) II ve III.                      D) I, II ve III.

## T.C. İnkılap Tarihi ve Atatürkçülük Soruları

1. Mustafa Kemal'in doğup büyüdüğü şehir olan Selanik'te çeşitli din ve mezheplerden insanlar bir arada huzur içinde yaşamaktaydı. Ancak Fransız İhtilali'nin etkisiyle bu huzur ortamı bozulmuş ve insanlar arasında çekişmeler başlamıştır.

**Buna göre Fransız İhtilali sonucu oluşan bu ortamın Mustafa Kemal üzerindeki etkisi aşağıdakilerden hangisi olabilir?**

- A) Eğitime önem vermesi  
B) Askerlik mesleğini seçmesi  
C) Milliyetçi duygularının gelişmesi  
D) Milli Egemenlik anlayışını benimsemesi

2. Kurtuluş Savaşı yıllarında Anadolu'da faaliyet gösteren;

- Kilikyalılar Cemiyeti, Adana ve çevresini korumak için,
- Trabzon Müdafa-i Hukuk Cemiyeti, Doğu Karadeniz ve çevresini korumak için,
- Redd-i İlhak Cemiyeti, İzmir ve çevresini korumak için kurulmuştur

**Verilenlere göre aşağıdaki yargılardan hangisi söylenebilir?**

- A) İşgallere karşı basın yayın yoluyla mücadele etmişlerdir.  
B) Kendi kuruldukları bölgeleri savunmuşlardır.  
C) İtilaf Devletleri tarafından desteklenmişlerdir.  
D) Osmanlı Hükümeti'nin desteğini almışlardır.

3. Sivas Kongresi'nde alınan önemli kararlardan birisi de "Bütün millî cemiyetlerin Anadolu ve Rumeli Müdafaa-i Hukuk Cemiyeti adı altında birleştirilmesidir"

**Buna göre;**

- I. Birlik ve beraberlik
- II. Bölgesel kurtuluş
- III. Tek merkezden yönetim

**amaçlarından hangileri gerçekleştirilmek istenmiştir?**

- A) I ve II.      B) I ve III.      C) II ve III.      D) I,II ve III.

4.



**KAZIM KARABEKİR**

Ermeni heyeti ile Gümrü Antlaşması'nı görüşmeye başladık. Ermenilerin Sevr Antlaşmasındaki imzalarını geri aldık.3 Aralıkta Gümrü Antlaşmasını imzaladık.

**Verilenlere göre aşağıdaki yargılardan hangisi söylenebilir?**

- A) Ermeniler Sevr Antlaşması'nda elde ettiği kazanımlardan vazgeçmişlerdir.
- B) Büyük Millet Meclisini ilk tanıyan millet Ermeniler olmuştur.
- C) Milli mücadele kazanılmıştır.
- D) Doğu sınırimız kesin olarak çizilmiştir.

5.

I. İnönü Savaşı'nın kazanılmasından sonra Büyük Millet Meclisi, Londra Konferansı'na davet edilmiştir. Afganistan'la dostluk anlaşması imzalanmıştır. Rusya ile de Moskova Antlaşması imzalanmıştır.

Sakarya Savaşı'nın kazanılmasından sonra, Rusya'nın aracılığı ile Kafkas devletleri ile Kars Antlaşması imzalanmıştır.

Büyük Taarruz'un kazanılmasından sonra İtialf Devletleri ile Mudanya Ateşkes Antlaşması imzalanmıştır.

Verilenlere göre aşağıdaki yargılardan hangisine ulaşılabilir?

- A) Geçici antlaşmalarla barış sağlanmıştır.  
B) Doğu sınırimız kesin olarak çizilmiştir.  
C) Bağımsız Türk Devleti resmen kurulmuştur.  
D) Kazanılan askeri zaferler, Büyük Millet Meclisi'nin siyasi alandaki etkisini artırmıştır.

6.

❖ 19. Yüzyılın başında Osmanlı Devleti'nde birbirinden farklı tarzda eğitim kurumları vardı. Bir tarafta geleneksel eğitim veren medreseler, diğer tarafta yeni açılan batı tarzı okullar yer almaktaydı. Azınlıkların açtığı okullar maarif vekâletine ( milli eğitim bakanlığına) bağlı değildi. Bu okullar konsolosluklara bağlıydı.

❖ Bu dönemde eğitim hayatına başlayan Mustafa Kemal, annesinin isteği ile önce mahalle mektebine başladı, sonra babasının isteği ile buradan ayrılıp daha modern teknikler ile eğitim veren Şemsi Efendi ilkokuluna geçti. Ortaokulda da Mustafa Kemal ile annesi farklı düşünmekteydi. Annesi çocuğunun askeri okula gitmesini ve asker olmasını istemezken Mustafa Kemal asker olmak istiyordu.

Verilen bilgilere göre;

- I. Osmanlı Devleti'nde eğitim birliği yoktur.  
II. Mustafa Kemal'in eğitimi konusunda aile üyeleri birbirinden farklı düşünmektedir.  
III. Osmanlı Devleti'nde tüm eğitim kurumları milli eğitim bakanlığına bağlıdır.

İfadelerinden hangilerine ulaşılabilir?

- A) I ve II.                      B) I ve III.                      C) II ve III.                      D) I, II ve III.



7. 23 Temmuz - 7 Ağustos 1919 tarihleri arasında toplanan Erzurum Kongresi'nin aldığı kararlardan bazıları şunlardır;

1. Milli sınırlar içinde vatan bir bütündür bölünmez.
2. İstanbul hükümeti yurdu kurtarmakta yetersiz kalırsa geçici bir hükümet kurulacaktır.
3. Manda ve himaye kabul edilemez.
4. Milli iradeyi hâkim kılmak esastır.

**Alınan bu kararlar ile;**

- I. Tam bağımsızlık
- II. Milli egemenlik
- III. Vatanın bütünlüğü

**unsurlarından hangilerine değinilmiştir?**

- A) I ve II.                      B) I ve III                      C) II ve III.                      D) I, II ve III.

8.

- *Batı Cephesi'nde kazandığımız Sakarya Meydan Savaşı ile Yunan ordusunun taarruz gücü kırılmış, Yunanlılar savunmaya geçerken Türk ordusu taarruz hazırlıklarına başlamıştır.*
- *Savaşı ustaca yöneten Başkomutan Mustafa Kemal'e TBMM tarafından gazilik unvanı ve mareşallik rütbesi verildi. Başkomutanlık yetkisini TBMM üç ay süreyle uzattı.*
- *Güney Cephesinde düzensiz halk birlikleri ile savaşıyan Fransa beklemeye başlamıştı. Sakarya zaferinden sonra Fransa TBMM hükümeti ile Ankara Antlaşması'nı imzalayarak işgal ettiği Güney Anadolu topraklarından çekildi.*

**Verilenlere göre aşağıdaki yargılardan hangisine ulaşamaz?**

- A) Batı Cephesi'ndeki savaşlar diğer cepheleri de etkilemiştir.  
B) İtilaf Devletleri arasında ayrılıklar meydana gelmiştir.  
C) Zafer hem yurt içinde hem de uluslararası alanda etkili olmuştur.  
D) Sakarya meydanında yenilen Fransa güney topraklarımızı boşaltmak zorunda kalmıştır.

9.

- Kurtuluş Savaşı yıllarında Ankara’da bir eğitim kongresi toplanmasına karar verilmişti. Savaşın iyice yoğunlaştığı bir dönemde zamanın eğitim bakanı bu toplantının iptal edilmesini teklif etmiş, Mustafa Kemal ise kongreyi iptal etmemiştir. Kurtuluş Savaşı’nın en sıkıntılı dönemlerinden birisi olan Kütahya-Eskişehir Savaşları devam ederken Maarif Vekâleti (Eğitim Bakanlığı) Maarif (Eğitim) Kongresi’ni topladı. Eğitim Bakanı Hamdullah Suphi Bey’in öncülüğünde toplanan kongrede yurdun her tarafından iki yüz elli kadar erkek ve kadın öğretmen bir araya geldi.
- Mustafa Kemal kongreye savaşın en zorlu günlerinde cepheden gelerek katılmış ve çok önemli bir açılış konuşması yapmıştır.

**Verilenlere göre; Mustafa Kemal’in davranışını, kendisine ait aşağıdaki sözlerden hangisi en iyi açıklar?**

- A) Öğretmenlik ömür boyu sürecek bir öğrenciliktir.
- B) Eğitim, kültür ve bilgi aydınlığa açılan en geniş penceredir.
- C) Cahillikle savaş düşmanla savaştan daha az önemli değildir.
- D) Bizim akıl, mantık ve zeka ile hareket etmek şiarımızdır. Bütün hayatımızı dolduran vak’alar bu hakikatin delilidirler.

10. 23 Nisan 1920’de açılan ilk TBMM’nin aldığı kararlardan bazıları verilmiştir.

**Bunlar;**

- I. Hükümet kurmak gereklidir.
- II. Egemenlik kayıtsız şartsız milletindir.
- III. TBMM yasama ve yürütme yetkilerini kendinde topladı.

**Alınan bu kararlardan hangileri I. TBMM’nin bir yürütme organı olarak çalışacağını gösterir?**

- A) Yalnız I.
- B) I ve II.
- C) I ve III.
- D) I, II ve III.

11.

*Mustafa Kemal’in doğup büyüdüğü dönemde Osmanlı Devleti’nde birçok okul türü bulunmaktaydı. Bir yanda Avrupai tarzda eğitim veren modern okullar, bir tarafta geleneksel eğitim veren medreseler, diğer yanda ise azınlıkların açtığı azınlık okulları bulunmaktaydı. Bu durum ülkede farklı anlayışa sahip bireylerin yetişmesine neden olmuştur.*

**Buna göre Osmanlı eğitim sistemi ile ilgili aşağıdakilerden hangisi söylenebilir?**

- A) Eğitim ve öğretim birliği yoktur.
- B) Medreseler yaygın olduğu için daha çok tercih edilmiştir.
- C) Farklı okulların olması sayesinde kültür birliği sağlanmıştır.
- D) Farklı okulların olması Osmanlı eğitim sisteminin gelişmiş olduğunu gösterir.

12.

İdadide okuduğu sırada Mustafa Kemal'i etkileyen olaylardan biri de 1897 yılının ilk aylarında başlayan Türk-Yunan Savaşı olmuştur. Savaş başladığı sırada sınıra yakın olduğu için Manastır en hareketli günlerinden birini yaşıyordu. Eli silah tutan erkekler davul ve zurnalar eşliğinde askere çağrılıyorlar; öğrenciler ise ellerinde bayraklarla yürüyüş yapıyorlardı. Bu savaş atmosferinden etkilenen Mustafa Kemal ile bir arkadaşı gönüllü olarak askere gitmek düşüncesiyle okuldan kaçarlardı, ancak kısa bir süre sonra öğrenci oldukları anlaşılınca okula geri gönderilirler. Mustafa Kemal bu olayı şöyle anlatır: "Gençlik hayatımın en heyecanlı günlerini yaşadım. Yaşımın küçük olmasına rağmen bu savaşa katılmayı çok istemiştim. Az daha gönüllü müfrezelerin arasına katılıp gidecektim."

**Mustafa Kemal'in Askeri İdadide okurken başından geçen bu olayda hangi kişilik özelliği ön plana çıkmıştır?**

- A) Vatanseverlik      B) Karalılık      C) İleri Görüşlülük      D) Açık Sözlülük

13.

Mustafa Kemal hiç kuşkusuz, Kurtuluş Savaşı'nın askeri lideri olduğu kadar siyasi olarak da lideridir. O dil, tarih, matematik, sanat gibi birçok alanda önemli çalışmalar yapmış önemli bir devlet adamıdır.

**Verilen bilgide Mustafa Kemal' in hangi kişilik özelliği ön plana çıkarılmıştır?**

- A) Planlılık      B) Cesaretlilik      C) Örgütleyicilik      D) Çok yönlülük

14.

Amasya Genelgesi'nin " Milletin bağımsızlığını yine milletin azim ve kararı kurtaracaktır." maddesine göre;

- I. Kurtuluş Savaşı'nın millete dayanılarak yapılacağı  
II. Milli Egemenlik İlkesinin benimseneceği  
III. Bağımsızlık için Osmanlı Hükümeti'nden destek alınacağı

**yargılarından hangilerine ulaşılabilir?**

- A) I ve II.      B) I ve III.      C) II ve III.      D) I, II ve III.

15.



Mustafa Kemal askerlik mesleğine Harp Akademisini bitirip genç bir kurmay yüzbaşı olarak başladı. Mustafa Kemal'in ilk görev yeri Suriye'de bulunan V. Orduya bağlı 30. Süvari alayı oldu. Burada Vatan ve Hürriyet Cemiyeti'ni kurdu. Mustafa Kemal, cemiyetin faaliyetlerini Selanik'e taşımak istemiş ve gizlice Selanik'e giderek burada cemiyetin bir şubesini açmıştır. Daha sonra Mustafa Kemal V. Ordu Kurmay Başkanlığı'na atandı. 13 Ekim 1907 tarihinde ise merkezi Manastır'da bulunan III. Orduda görevlendirildi. Bu görevi sırasında İttihat ve Terakki Cemiyeti'ne üye oldu.

**Mustafa Kemal'in askerlik hayatı ile ilgili verilen bu bilgiye göre aşağıdaki yorumlardan hangisi yapılamaz?**

- A) Farklı şehirlerde görev yaptığına
- B) Memleket meselelerinden uzak durmadığına
- C) İdealleri uğruna tehlikeleri göze aldığına
- D) Kurmay Başkanı olarak Hareket Ordusu'nda görev yaptığına



## Din Kültürü ve Ahlak Bilgisi Soruları

1.

İlim: Allah'ın her şeyi bilmesi  
İrade: Allah'ın bir şeyi dilemesi

Kudret: Allah'ın her şeye gücünün yetmesi  
Tekvin: Allah'ın yaratması, yoktan var etmesi

**Yukarıda verilen Allah'ın sıfatlarından hangisi, kaza kavramı ile doğrudan ilişkilidir?**

- A) İlim                      B) İrade                      C) Kudret                      D) Tekvin

2. **Aşağıdakilerden hangisi, tevekkül anlayışını belirtmek için kullanılan uygun bir ifade değildir?**

- A) Helal yoldan kazan, helal yoldan harca.                      B) Çalma, çalış; hak etmeye alış.  
C) Benim param, benim malım. İstersem paylaşırım.                      D) Paylama, paylaş; bereketli olur, her aş.

3. Peygamber olarak gönderilen Hz. Musa, Allah'a şöyle dua etti: "Kardeşim Harun'un dili benimkinden daha düzgündür. Onu da benimle birlikte, beni doğrulayan bir yardımcı olarak gönder. Çünkü ben, onların beni yalanlamalarından korkuyorum." Allah onun bu duasını "...seni kardeşinle destekleyeceğiz ve size öyle bir güç vereceğiz ki, bu sayede size erişemeyecekler, mucizelerimizle siz ve size tabi olanlar üstün geleceksiniz." buyurarak kabul etti.

**Verilen ayetlere göre aşağıdakilerden hangisi söylenemez?**

- A) Hz. Musa akıcı konuşmadığı için bir yardımcıya ihtiyaç duymuştur.  
B) Hz. Harun, kardeşine yardımcı olmak üzere peygamber olarak görevlendirilmiştir.  
C) Hz. Musa ve Hz. Harun, Allah'ın izniyle mucizeler göstermişlerdir.  
D) Hz. Harun sorumluluk almak istememiştir.

4. **Zekât verilirken aşağıdakilerden hangisine dikkat etmek gerekmez?**

- A) Zekât olduğunu söylemek                      B) Miktarı doğru hesaplamak  
C) İncitmemek, başa kakmamak                      D) Uygun kişilere vermek

5. Aşağıdakilerden hangisi, canın korunması ilkesi ile ilgili değildir?

- A) Bir hayatı kurtarmanın bütün insanlığı kurtarmış gibi sayılması
- B) Tıbbi zorunluluklar haricinde kürtajın haram olması
- C) Kişi ve kurumlara mülkiyet hakkının tanınması
- D) İş güvenliğinin sağlanmasının zorunlu olması

6.

- 'İçinizden hayra çağıran, iyiliği emredip kötülükten men eden bir topluluk bulunsun. İşte kurtuluşa eren, onlardır.'  
(Al-i İmran suresi, 104. ayet)
- 'Kim kötü ve çirkin bir iş görürse onu eliyle düzeltsin, eğer buna gücü yetmiyorsa diliyle düzeltsin, buna da gücü yetmezse kalben karşı koysun. Bu da imanın en zayıf derecesidir.'  
(Hadis-i şerif)

Verilen ayet ve hadisten yola çıkarak aşağıdakilerden hangisi söylenemez?

- A) İnsanları kendimiz gibi düşünmeleri konusunda ikna etme görevimiz vardır.
- B) İnsanlar, bir kötülüğü veya haksızlığı engellemede güçleri ve imkânları oranında sorumludur.
- C) Bir kötülüğü veya haksızlığı engelleyemeyen bir kişi, bunu yapabilecek kişileri harekete geçirmelidir.
- D) Bir toplum kendi içerisinde kötülük ve haksızlığın karşısında duran örnek topluluklar çıkarabilmelidir.

## İngilizce Soruları

Which of the following completes the blank?

1. Robert: Will you help me make the dinner please?

David: .....I dislike cooking.

- A) I'll be glad.      B) Of course I will.      C) I'm sorry but I can't.      D) Oh, yes. Sure.

2. Mark : Why don't we visit the Kuvay-ı Milliye Museum this weekend?

Lisa : .....

Mark : Why?

Lisa : Because; I will visit my grandparents this weekend, honey. Did you forget ?

Mark : Err..well..

- A) Great idea!      B) Unfortunately!      C) Yes, sure!      D) Let's do this!

3. Maria: You helped me a lot with the last-term project. You are a real friend.Thank you indeed.

Susan :.....True friends always help each other willingly.

- A) My pleasure      B) What a pity for you!      C) I hate doing homework      D) Unfortunate of you

4. Karen: I ..... being a teacher of the other jobs.

Betty: Why?

Karen : Because I want to teach new things to people

- A) don't mind      B) can't stand      C) dislike      D) prefer

5. Brian is a shy guy. He hasn't got any friends. He generally feels .....

- A) generous      B) bad-tempered      C) lonely      D) reliable

6. I. Later put the rice on the noodles and mix them with a wooden spoon.  
 II. Then put the noodles into the pan.  
 III. First, rinse the rice under the cold water and let it wait for 30 minutes in the warm water.  
 IV. Second, melt the butter in the saucepan.  
 V. Finally, put some water and close the saucepan. Let it boil until the water comes down and turn off the cooker.

Put the process of the recipe above into the correct order.

- A) I-II-III-IV-V      B) III-IV-II-I-V      C) III-II-I-V- IV      D) IV-III-I-II-V

7. 'First, mix some water and flour in a bowl. Second knead the dough and then spread some oil into the pan. After that, chop some pepper and mushroom.'

Which of the following is not mentioned in the process?



Answer the question according to the table below.

8.

	<b>Maria</b>	<b>Barbara</b>
<b>Communicate via Social Media</b>	<i>Usually</i>	<i>Hardly Ever</i>
<b>Text message</b>	<i>Always</i>	<i>Sometimes</i>
<b>Send e-mail</b>	<i>Never</i>	<i>Usually</i>
<b>Face to face</b>	<i>Sometimes</i>	<i>Always</i>

Maria.....

- A) always texts messages.      B) never goes online.  
 C) never speaks face to face.      D) mostly prefers sending e-mail.



**9. Which of the following does NOT complete the conversation below?**

Charles: Hello. This is Charles. Can I speak to Deborah, please?

Sharon: Sorry Charles. She is ill. She has a bad cough.

Charles: .....I will call her later then.

Sharon: Thank you. I will tell her

- A) Happy to hear that.    B) Oh, dear. What a pity !  
C) I hope she will get well soon.    D) Sorry to hear that.

**10. Margaret : .....**

Sarah : Not really. I prefer relaxing music like folk or country, and I especially like classical music. What about you?  
I know you are a jazz fan.

Margaret : Yeah, I go to concerts on Saturday and Sunday nights, and on other evenings I listen to jazz CDs in my bed  
room. I'd really like to play the jazz piano. My friend, Sandra, plays really well and she's going to teach me one  
day.

**Which of the following completes the conversation?**

- A) Are you busy tonight? What about listening to music?  
B) Do you have any plan for the weekend?  
C) Do you prefer listening to relaxing music like folk or country?  
D) Do you like rock music?

**11. Lucy: Hello, this is Lucy.**

Mike: Hi, Lucy. This is Mike. Is Tom there?

Lucy: .....

Mike: Could you please tell him call me back?

**Which of the following completes the the conversation?**

- A) Hold on a moment, please.    B) Oh, no. Would you like to leave a message?  
C) May I take your name and number please?    D) Can I leave a message?

# CEVAP ANAHTARI

## TÜRKÇE

1. C
2. C
3. A
4. B
5. A
6. D
7. C
8. D
9. C
10. D
11. A
12. C
13. B
14. C
15. A
16. B

## MATEMATİK

1. C
2. C
3. A
4. B
5. B
6. A
7. B
8. B
9. D
10. C

## FEN BİLİMLERİ

1. B
2. D
3. D
4. C

## T.C. İNKILAP TARİHİ VE ATATÜRKÇÜLÜK

1. C
2. B
3. B
4. A
5. D
6. A
7. D
8. D
9. C
10. C
11. A
12. A
13. D
14. A
15. D

## DİN KÜLTÜRÜ VE AHLAK BİLGİSİ

1. D
2. C
3. D
4. A
5. C
6. A

## İNGİLİZCE

1. C
2. B
3. A
4. D
5. C
6. B
7. D
8. A
9. A
10. D
11. B